

# 臺北市立新民國中108學年度 第一學期 七年級社會領域 第二次段考試卷

七年 \_\_\_\_\_ 班 座號：\_\_\_\_\_ 姓名：\_\_\_\_\_

## 一、單選題(共有 53 題，請掌握好答題時間。)

### ※【歷史科】第 1-20 題(第 1~6 題每題 1 分；第 7~20 題每題 2 分)

- 荷蘭人採以原住民治理原住民的方式，由各社選出長老，平常在他們的轄區可行使下列何種權力？  
(A)維持部族內秩序 (B)教育部落裡年輕人 (C)鼓勵子弟翻譯聖經 (D)管理對外貿易事務。
- 荷蘭人統治臺灣時期，是以下列何人做為最高的行政官員？  
(A)天主教會派來的傳教士 (B)負責山區治安的士兵 (C)原住民部落裡的頭目 (D)聯合東印度公司的長官。
- 在人類學的調查中，發現許多部落社會，常以「游耕」方式維持生活。請問：這種耕作方式具有下列何種特色？  
(A)栽種的作物最主要以水稻為主 (B)因耕作方式經常需要更換耕作地  
(C)這種耕作方式使得生產力極高 (D)可以永久保持土地肥沃度。
- 荷蘭人利用下列何種文字拼寫平埔族的語言，翻譯宗教書籍？ (A)希臘文字 (B)西亞文字 (C)羅馬文字 (D)埃及文字。
- 「新港文書」在今日被保存下的大概有百餘件，為研究早期臺灣史的學者，提供了一些歷史資料。下列有關於這些「新港文書」的敘述，哪一選項為**正確**？ (A)使用時間僅限於荷蘭統治時期 (B)在當時是作為教科書使用 (C)內容多是記錄傳教士的生平 (D)大多數是原住民與漢人買賣土地的契約。
- 西元十七世紀時，居住在臺灣北部的原住民族「馬賽人」受到來臺灣北部發展的西方人的影響，他們有可能改變原有的宗教信仰，而改信下列哪一個宗教？ (A)基督教 (B)神道教 (C)天主教 (D)印度教。
- 鄭氏在臺期間，政府軍隊曾經發動數次大規模對原住民的征討行動，造成原住民死傷慘重。請問：當時爆發衝突的主因最可能為下列何者？  
(A)軍隊屯墾侵奪原住民土地 (B)漢人捕捉原住民作為奴隸 (C)鄭氏將原住民遷徙至山區 (D)原住民被迫接受漢人教育。
- 在國際法當中，將「未成為國家的部落集團居住之地」視為「無主地」，十七世紀時的臺灣即在此原則下被認定是「無主地」，可以直接被合法占有。但事實上，當時的臺灣中部已有近似於王國的跨部落聯盟組織，一直是荷蘭人與鄭氏政權想要控制全臺的阻礙。請問：上述的部落聯盟指的是下列何者？ (A)卑南王國 (B)馬賽王國 (C)新港王國 (D)大肚王國。

### ◎請閱讀下列短文，並回答下列問題：

明鄭滅亡後，清廷一度考慮是否要放棄台灣，最後在大臣的建議下，將臺灣納入版圖。但清廷為了防範反清勢力死灰復燃，頒布了右圖的渡臺限制。由於當時廣東省和福建省人多地少，百姓生活不易，因此吸引許多民眾想來臺另闢天地，因而偷渡的情形十分猖獗。然而不管官渡或偷渡要到臺灣必須橫越**黑水溝**，郁永河在裨海遊記一書中提到：「臺灣海道，為**黑水溝**最顯。自北流南，不支援出和所。海水正碧，溝水獨黑如墨……」據學者研究，自荷蘭據臺有文字記載開始，大船翻覆黑水溝之例不勝枚舉。

先民渡過**黑水溝**時，不慎發生船難，故有民謠「六死三留一回頭」之語，意即 10 人當中，有 6 人會死在黑水溝途中，有 3 人會留在臺灣，而 1 人受不了早期臺灣的蠻荒，而重回中國大陸。另外，臺灣還有一句俗諺「唐山過臺灣，心甘結歸丸」，正是說明了移墾先民這種複雜又無奈的心情。(資料來源：翰林出版《歷史大哉問：臺灣篇》)

一、欲渡船臺灣者，先給原籍地方照單，經分巡臺廈兵備道稽查，依臺灣海防同知審驗批准，潛渡者嚴處。  
二、渡臺者不准攜帶妻兒家眷，業經渡臺者，亦不得招致。(此條在西元 1732 年一度廢止，後又重新發布)  
三、粵地屢為海盜淵藪，以積習未脫，禁其民渡臺。

- 當時臺灣正處於什麼樣的情況下，才促使清廷頒布上圖的歷史文件？ (A)為防止海盜推行海禁政策 (B)為防止鄭氏家族實行海禁政策 (C)為防臺而治臺頒布渡臺禁令 (D)為積極治臺解除渡臺禁令。
- 上文中所提及的「**黑水溝**」是指下列哪一個水域？ (A)巴士海峽 (B)臺灣海峽 (C)麻六甲海峽 (D)麥哲倫海峽。
- 「六死三留一回頭」「唐山過臺灣，心甘結歸丸」這兩則諺語反映了下列哪一種現象？ (A)官方壓迫導致人民反抗不斷 (B)優惠政策吸引移民大量來臺 (C)顯示清政府有計畫的移民 (D)移民渡海來臺充滿風險。
- 西元 1683 年，清朝派下列何人攻取臺灣，結束鄭氏王朝在臺灣的統治，並將臺灣納入清朝的疆域範圍？  
(A)施琅 (B)郭懷一 (C)沈光文 (D)吳沙。
- 今天位在屏東的恆春是一座古城，遊客在這裡還可以看到清朝時期的古城牆。請問：恆春在清康熙年間是隸屬下列哪一個行政單位所管轄？ (A)彰化縣 (B)諸羅縣 (C)鳳山縣 (D)臺灣縣。
- 右圖是一張臺灣地區的行政區劃圖，由臺灣開發的方向加以判斷，哪一個行政區劃的設置時間最晚？ (A)嘉義縣 (B)噶瑪蘭廳 (C)淡水廳 (D)彰化縣。
- 歷史記載沈葆楨以欽差大臣的身分來臺期間，特別聘請法國工程師興建炮臺，部分建材是取自於已經危傾的熱蘭遮城，此即全臺第一座西式炮臺「億載金城」。請問：沈葆楨來臺督導防務，是在下列哪一事件發生之後？  
(A)荷蘭占南臺灣 (B)施琅攻打臺灣 (C)臺灣開港通商 (D)日本出兵恆春。
- 臺灣最早由德國購入的火車頭，有一個命名為「騰雲號」，是「極快速」之意，當時最高時速為 35 公里，目前「騰雲號」放在二二八和平公園內展示。請問：根據上述資料顯示，這最有可能和下列何人的事蹟相關？ (A)沈葆楨 (B)鄭成功 (C)劉銘傳 (D)朱一貴。



- 17、劉銘傳治臺時期，將行政區調整為三府一直隸州十一縣三廳，其中的「直隸州」是位於下列何處？  
 (A)臺灣西部 (B)臺灣東部 (C)臺灣北部 (D)臺灣南部。

◎請閱讀下列短文，並回答下列問題：

清末光緒年間流傳一句俗諺：「西仔來打咱臺灣，大家合力來打番」，這是指清廷與西歐某國家戰爭波及臺灣的戰事，俗稱「西仔反」。戰爭中，因臺灣仕紳林朝棟等人籌組軍隊協助作戰，最終取得勝利，未讓西歐某國占領臺灣北部土地。

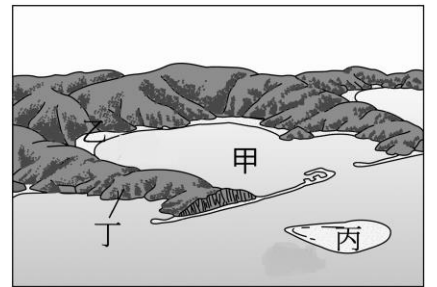
戰爭的導火線起源於清廷在東南亞的藩屬國的宗屬問題，清軍跟西歐某國除了在該藩屬國境內開戰外，也將戰火延燒到臺灣附近海域一帶。西歐某國在摧毀清廷的艦隊後，繼續向臺灣進攻，一方面希望取得基隆的煤礦以補充軍艦動力；另一方面也能威脅北京，增加談判籌碼。因此，清廷派欽差大臣閩福建巡撫劉銘傳來臺督戰。

雙方經過激烈的對戰後，西歐某國自認無力占領臺灣北部，便轉而進占澎湖，此時兩國也展開議和，最後簽定天津條約。現今基隆還留有民族英雄墓和西歐某國軍人的公墓，為那一段歷史做見證。(資料來源：翰林出版《歷史大哉問：臺灣篇》)

- 18、上文中提及的「西歐某國」是指下列哪一個國家？ (A)荷蘭 (B)英國 (C)法國 (D)比利時。  
 19、清廷與上題中的西歐某國為了爭奪哪一個「東南亞的藩屬國」而發生戰爭？ (A)越南 (B)泰國 (C)印尼 (D)緬甸。  
 20、上述短文中的這場戰爭對臺灣帶來下列哪種影響？ (A)臺灣被占 (B)臺灣建省 (C)放棄臺灣 (D)賣掉臺灣。

※【地理科】第 21-37 題，每題 2 分。

- 21、今年夏天楷崑打算到海水浴場秀一下他苦練多時的八塊肌，請問他最可能前往 附圖中哪一代號的地形？ (A)甲 (B)乙 (C)丙 (D)丁。



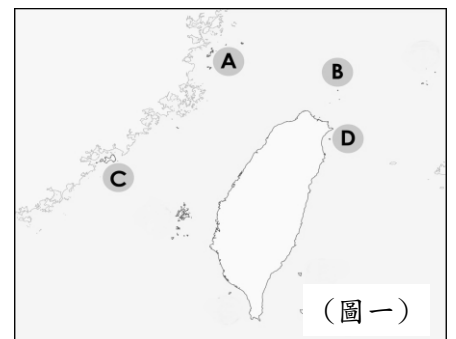
- 22、請問下列有關臺灣海岸的特色配對，何者正確？

(A)東部谷灣式海岸 (B)西部斷層海岸  
 (C)南部珊瑚礁海岸 (D)北部堆積海岸。

- 23、臺灣古地名中有種叫「汕」或是「傘」的地方，指的一種堆積而生的陸地，請問其正式的名稱該稱呼？  
 (A)潟湖 (B)灣澳 (C)岬角 (D)沙洲。

- 24、民國 108 年 10 月 27 日，中國抽砂船再度違法越界盜採我國砂石，侵犯海域主權！馬祖海巡隊於該日清晨發現，中國船隻越界，盜採 200 噸砂石！對方還蛇行衝撞，甚至造浪攻擊海巡隊員，最後被海巡隊強勢逮捕，而這已經是馬祖海巡隊今年第 4 次逮到中國籍抽砂船違法盜採，請問此一事件涉及到的是下列哪一種海域概念？(A)經濟海域 (B)領海 (C)國防海域 (D)採集海域。

- 25、塑造地形的力量若以出處來劃分，下列何者是屬於發源於地球外部的力量？  
 (A)造山運動 (B)河川堆積 (C)火山運動 (D)板塊運動。



(圖一)

- 26、秋天是台灣某島群一年中最宜人的旅遊季節，秋高氣爽的好天氣，點綴在隨處可見、造型各有特色的風獅爺之間，成熟的高粱隨風搖曳，把小島染成片片金黃。空氣中瀰漫著高粱的香氣，偶爾還能看見農民把高粱穗鋪在馬路上，讓行駛的車輛來回輾壓，成為其經典的秋日風情，請問以上這段描述該是在形容(圖一)中的哪一個島群？

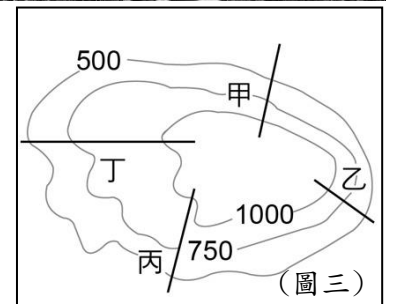
(A)D (B)C (C)B (D)A

- 27、慶維與丞澧在新民校園追逐，意外在某個地點發現照片中的景緻如(圖二)，本身樓高不高但擁有俯瞰般的寬闊視野。請問：兩人所在之處最有可能屬於何種地形的外圍？  
 (A)高山 (B)臺地 (C)盆地 (D)平原。



(圖二)

- 28、繆均假日到住家附近的步道登山，見(圖三)，假如年輕力壯、健步如飛的他卻要走最輕鬆的路線，則該選擇哪條步道？ (A)甲 (B)乙 (C)丙 (D)丁。

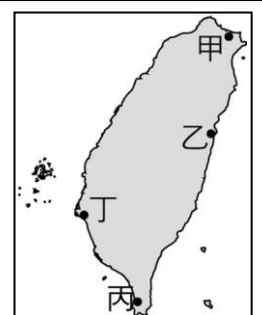


(圖三)

- 29、以分層設色法來繪製台灣地形圖時，則下列哪個地區所使用的綠色較多？  
 (A)臺北市 (B)臺東線 (C)雲林縣 (D)新竹縣。

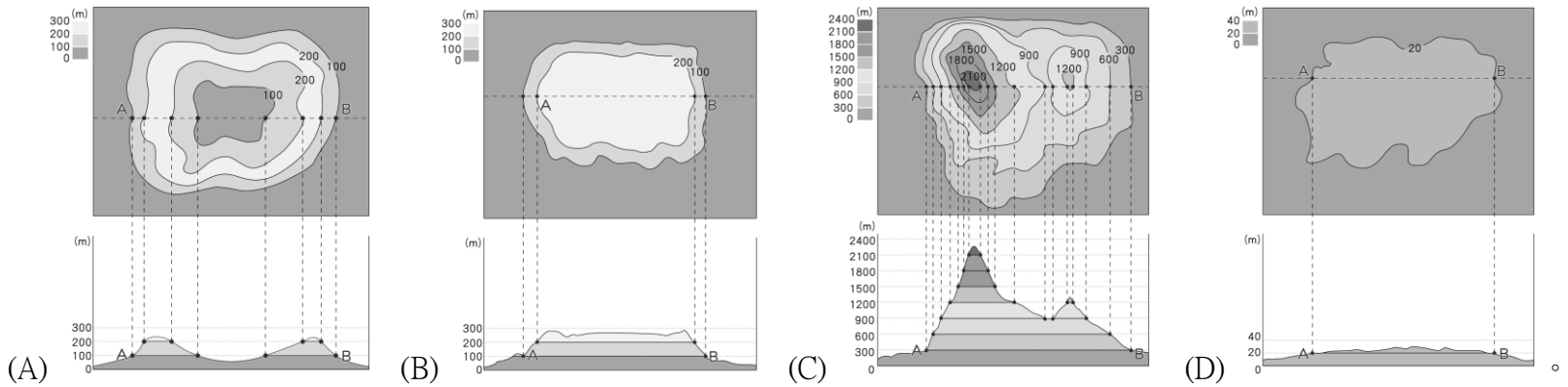
- 30、澳洲自九月以來，因雷擊、長期乾旱以及強風，導致森林大火不斷肆虐，濃煙籠罩澳洲最大城雪梨，當局甚至將 10/31 空氣品質評定為「危險」等級，警告有呼吸道疾病的雪梨居民，避免外出活動，請問下列哪一種地圖最能夠提供火災災情的即時狀況？  
 (A)航照圖 (B)地形剖面圖 (C)等高線地形圖 (D)衛星照片。

- 31、臺灣北邊海岸線因灣澳與岬角相間，成為全臺最曲折海岸線，在右圖中哪一段可見？  
 (A)乙 (B)丁 (C)丙 (D)甲。



- 32、交通部觀光局某國家風景區管理處近期在井仔腳鹽田舉辦「鯤鯓王平安鹽祭－返本還原（鹽）」儀式，將祈福後的天鹽送回瓦盤鹽田，南鯤鯓代天府大法師進行科儀後，管理處長率眾人將瓦片上祈福過的天鹽撒向鹽田，象徵答謝天地賜予珍貴鹽結晶，請問根據台灣傳統的產業分不，該管理處該為下列何者？  
 (A)北海岸及觀音山管理處 (B)雲嘉南濱海管理處 (C)東北角暨宜蘭海岸管理處 (D)東部海岸管理處。

- 33、請問下列哪一種地形為目前台灣政治與經濟的核心所在？



- 34、演藝圈明星藝文打算在台灣某離島舉辦花火節煙火秀時，在當地知名的玄武岩峭壁下，拿出 10 克拉的鑽戒向女友求婚，請問記著該前往哪一個島群才能採訪獨家報導？(A)馬祖列嶼 (B)金門列嶼 (C)蘭嶼 (D)澎湖群島。

◎請閱讀短文，並回答下列問題：

濱海濕地是重要的生態系，是魚、蝦、蟹、貝類產卵育幼的地方，也是多種鳥類的覓食場，同時還有減緩海水直接沖刷、穩固堤岸的功能。面積 1,768 公頃的香山濕地躲過開發命運，如今不但是國家級重要濕地，也是新竹市濱海動物保護區，孕育著超過 50 種蟹類、40 多種魚類，更是特有種臺灣早招潮蟹最大的棲地。因新竹沿海居民長久以來靠海吃海，管理單位也將這片濕地規劃出核心區、緩衝區和利用區，在遊客近距離觀察各種濕地生物的同時，漁民養蚵、挖蛤與捕魚等活動也日復一日恆常進行。利用閒置海巡署安檢所再利用所規劃的濕地生態館，位於 17 公里海岸線自行車道的美山段旁，集結了長期關注此處的新竹鳥會、各方學者和市政府的努力，是訪客了解香山濕地入門知識的最佳起點。而深入濕地的弧形賞蟹步道，更成為新竹市民看夕陽美景的祕境。

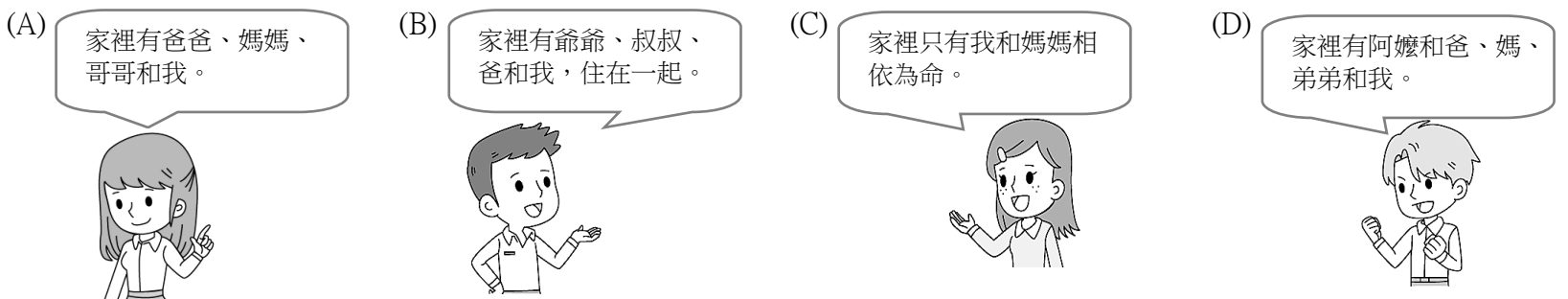
《改寫自國家地理雜誌 北台灣最大的濕地~香山濕地》

- 35、根據文章所描述，請問濱海濕地裡下列哪一種作用應該相當旺盛？(A)堆積 (B)侵蝕 (C)風化 (D)崩壞。  
 36、根據文章中的線索，請判斷此海岸線隸屬於台灣四面海岸線裡的哪一段？(A)東 (B)南 (C)西 (D)北。  
 37、根據文章所描述，請問下列何者為台灣在環境保育層面上的施行宗旨？  
 (A)保育至上 (B)永續利用 (C)經濟優先 (D)謝絕觀光。

※【公民科】第 38-53 題，每題 2 分。

- 38、家庭是由具有婚姻、血緣和收養關係的人所組成的親屬團體，由此定義判斷，下列哪一組人不具有親屬關係？  
 (A)爸爸和岳父 (B)姐夫和妹夫 (C)岳母和女婿 (D)繼父和繼女。  
 39、承上題，我國詳述定義「親屬關係」是依據下列何項法規？  
 (A)《刑法》 (B)《民法》 (C)《中華民國憲法》 (D)《家庭教育法》。  
 40、依據上題法規，其中定義「己身所從出，或從己身所出」是指除了是同一祖先且由自然血緣關係形成，而且彼此之間有出生的直接關係的親屬關係。以下何者彼此之間正是屬於這一類型的親屬關係？  
 (A)爸媽 (B)兄弟姐妹 (C)外公和媽媽 (D)爸爸和姨丈。

- 41、課堂中老師請四位同學介紹自己家庭的成員，如下圖所示。請問：哪位同學的家庭屬於「血緣家庭」？



- 42、某本書中提及：家庭是以永久生活為目的所形成的親屬團體，家庭生活中會形成各種關係，這些關係可以讓家人產生特殊的情感，進而形成相互依賴的親密關係。請問：若要維持家人間的親密關係，下列何者是最關鍵的要素？【習作】  
 (A)家人間日常生活作息經常保持一致 (B)家人間能共同努力維持家庭的收入  
 (C)家人間能相互尊重生活自主與隱私 (D)家人間物品的使用不需要區分彼此。  
 43、(2019/11/3 奇摩)據報導：「為協助新住民融入在地新生活，台中市政府社會局除設置 25 處新住民社區服務據點，並於市區、山線、海線及屯區設置 4 處新住民家庭服務中心，由社工人員提供專業服務，並設有全台首創且唯一的新住民多元圖書室，推廣多元文化圖書及文化融合服務等。」根據內容判斷，台中市政府設置這些社區服務據點主要是為了下列哪一種家庭型態提供服務？(A)單親家庭 (B)重組家庭 (C)隔代教養家庭 (D)新移民家庭。

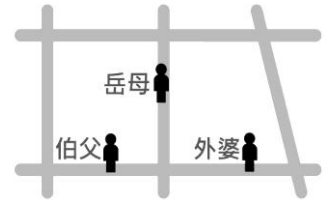
44、右圖是兒福聯盟有關收(出)養的網頁，請問：依據我國法規規定，下列關於收養的敘述，何者正確？



- (A)擬制血親在法律上的權利義務關係與自然血親是相同的
- (B)親生父母與養父母自行協調同意收養後，親屬關係即成立
- (C)養父母經內政部認可收養之後，即成為所謂的擬制血親
- (D)一旦收養關係成立之後，是絕對不可以終止親子關係。

45、凱萌慢跑時遇到了三位親戚，相遇地點如右圖所示。若凱萌與這三位親戚相遇的先後順序為直系血親、姻親、旁系血親，則他的慢跑路線最可能為下列何者？

【106 會考改編】



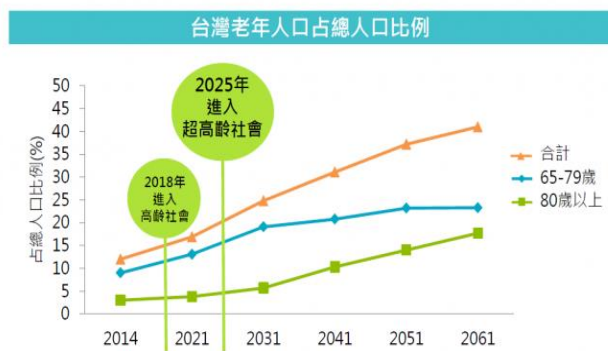
- (A)
- (B)
- (C)
- (D)

46、(2019/10/24 奇摩)「臺東縣政府為了讓縣長監護的失親孩童能有一場歡樂溫馨的活動，日前在火鍋店舉辦萬聖節之幸福感恩餐會。目前縣府監護的孩子有 37 名，這些孩子大多因家庭功能失調，父母缺乏照顧能力，以及濫用親權等問題，導致孩子生活未能獲得妥善照顧，依相關法令縣長是他（她）們的法定監護人。這些從小失去家庭溫暖的孩子，感謝寄養家庭、兒少安置機構對監護小朋友細心照顧及滋養，讓監護小朋友在寄養家庭、兒少安置機構平安快樂成長。」請問：下列關於「親權」的敘述，何者正確？

- (A)親權是父母對成年或未成年子女有保護及教養的權利
- (B)對子女施暴的父母，社會局可以剝奪父母的親權
- (C)親權對父母而言是一種權利同時也是一種義務
- (D)父母對子女的親權不包括懲戒權，因此不能懲戒子女。

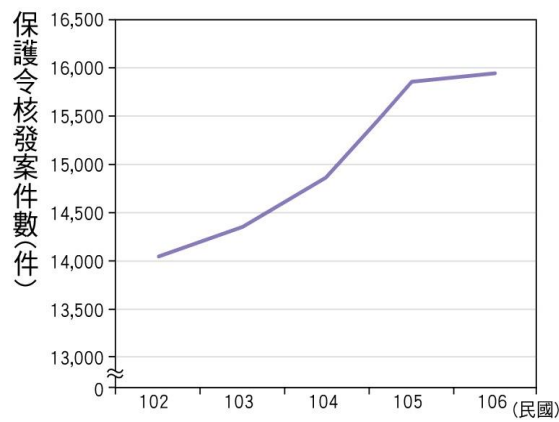
◎(甲)、(乙)、(丙)三張圖表各自呈現台灣不同的家庭問題，請根據第 47-53 題內容，判斷並挑選出符合的圖表。

小辭典：一個國家65歲以上人口占比達14%以上稱高齡社會，超過20%稱超高齡社會



資料來源：國家發展委員會2014版人口推計報告、國泰投信整理，2016/12

(甲)



圖表來源：康軒 108 七上習作

(乙)



資料來源：凱度 整理：陳碧芬

(丙)

47、(2019/03/7 華視)根據衛福部最新統計，近五年來每年家暴案通報數都超過 13 萬件，平均每小時 16 件，但往往都是發生悲劇登上新聞版面，才讓家暴曝光。請問：依據衛福部的統計與哪一張圖表的内容符合？(A)甲 (B)乙 (C)丙 (D)無從判斷。

48、(2019/10/30 中時電子報)據報導：「衛福部長照司統計數，台灣需要長期照護的人力高達近 80 萬人，但在看護人力上，長照的缺口已達 1.3 萬人。在龐大的照護中，「老老照顧」的現象也佔大宗。在需求不斷增加下，有將近七萬名長輩仍有長照需求，凸顯人力嚴重不足，未來台灣長照環境是否能找到相關解法以及配套將是最主要的關鍵議題。」請問：新聞的内容符合哪一張圖表的内容？(A)甲 (B)乙 (C)丙 (D)無從判斷。

49、(2019/11/13 遠見雜誌)報導：「由於現代人不婚、不生的單身貴族愈來愈多，在人口結構消長變化下，家庭戶量日趨減少，牽動房產型態改變。有房仲業者觀察，小宅(20 坪以下)因總價低，讓具經濟能力的單身族趨之若鶩，推升整體的討論熱度，而小宅也成為銷售保證。獨居戶這五年成長 12.2%，雙北小宅需求增加。」請問：新聞的内容符合哪一張圖表的内容？(A)甲 (B)乙 (C)丙 (D)無從判斷。

50、請問下列何種變化的趨勢最可以直接解決(甲)圖呈現的問題？

- (A) 公立托兒中心數
- (B) 老人日托中心數
- (C) 老人福利機構數
- (D) 長照人員數

51、根據(乙)圖，突顯家庭的何項功能的問題？(A)生育功能 (B)經濟功能 (C)教育功能 (D)保護與照顧功能。

52、有關(乙)圖的保護令，可向下列哪一個機關聲請？(A)立法院 (B)地方法院 (C)鄉鎮公所 (D)縣市政府社會局。

53、根據(丙)圖，下列哪一種家庭型態類型逐漸越來越少？(A)小家庭 (B)單親家庭 (C)頂客家庭 (D)聯合家庭。