

# 臺北市立新民國中108學年度 第一學期 九年級社會領域 第二次段考試卷

九年 \_\_\_\_\_ 班 座號： \_\_\_\_\_ 姓名： \_\_\_\_\_

## 一、單選題(共有 53 題)

※【歷史科】第 1-20 題(1~6 題 1 分；7~20 題 2 分)

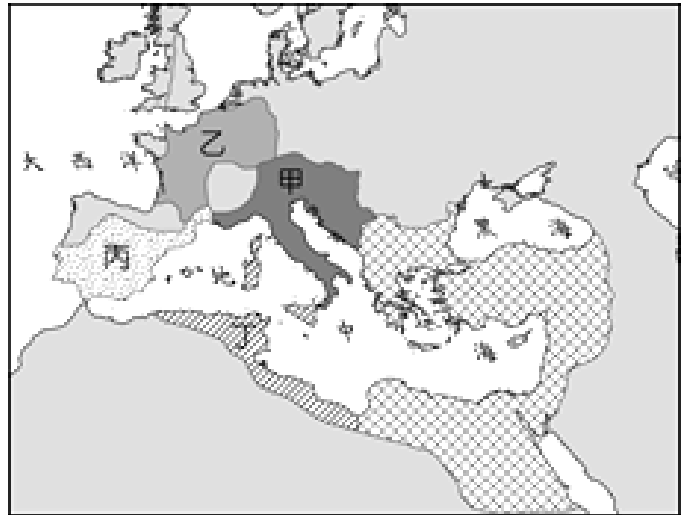
◎請閱讀短文，並回答下列問題：

西元 4~6 世紀，長達兩三百年，東西方的古文明都受到了來自北方少數民族的侵擾和破壞，東方是五胡亂華，西方則是日耳曼民族衝擊並摧毀了西羅馬帝國。

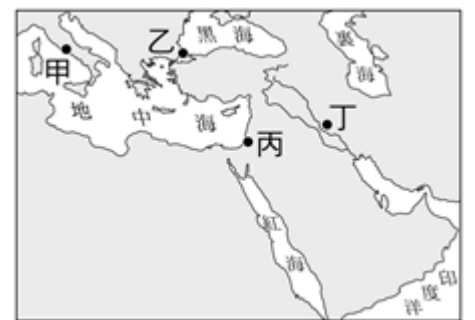
位居中國北方的遊牧民族，在東漢時被中國打敗後，輾轉向歐洲遷徙。西元 4 世紀後期起，原來居住在羅馬帝國北方的日耳曼民族，在此遊牧民族西遷的衝擊下，被迫大舉南遷到西羅馬帝國境內，形成了一場日耳曼民族大遷徙運動。此時正是西羅馬帝國後期，國勢衰微，無力抵抗蠻族的入侵，在西元 476 年滅亡了，由此開始了歐洲的中世紀。

日耳曼民族由若干部落組成，其中較重要的是法蘭克人、汪達爾人、盎格魯人、撒克遜人、東哥德人和西哥德人。他們入主西羅馬帝國境內後，開始紛紛建立封建國家(如右圖所示)；當時的封建制度是一種根據契約而形成的主從關係，領主將土地分封給附庸。附庸必須效忠領主，這種封建制度亦形成地方勢力割據的局面。

在封建制度下，西歐各地出現領主管轄的莊園，經濟上自給自足，商業活動幾乎停頓，莊園內的農民沒有遷徙的自由，形同農奴，他們須向貴族納稅、服勞役，貴族須保護他們的安全。



- 1、課堂上老師說到：「這位皇帝在位期間，中世紀西歐逐漸出現共同的文化風貌，他不僅推廣基督教與拉丁文，更獎勵學術、教育，建立法律制度，他的國家也成為當時最強大的日耳曼國家。」請問：老師所提到的日耳曼國家位於上圖中何地？  
(A)甲 (B)乙 (C)丙 (D)丁。
- 2、上文中提及「原來居住在羅馬帝國北方的日耳曼民族，在此遊牧民族西遷的衝擊下，被迫大舉南遷到西羅馬帝國境內，形成了一場日耳曼民族大遷徙運動。」請問：入侵日耳曼人居住地的遊牧民族為下列哪一族？  
(A)突厥 (B)鮮卑 (C)匈奴 (D)蒙古。
- 3、某人利用假期規畫到歐洲古城「托雷多」旅行，這裡曾是中世紀時西哥德王國的首都，現已被列為世界文化遺產之一；請在上圖找到該古城位在哪一地區？ (A)甲 (B)乙 (C)丙 (D)丁。
- 4、在西歐封建制度下，各地出現領主管轄的莊園，經濟上自給自足，商業活動幾乎停頓。請問：莊園內最主要的生產活動為下列那一選項？ (A)漁業 (B)工業 (C)林業 (D)農業。
- 5、東羅馬帝國屹立於東方千年之久，其文化對下列哪一民族具有深遠的影響？  
(A)斯拉夫民族 (B)日耳曼民族 (C)印歐民族 (D)拉丁民族。
- 6、《天方夜譚》是一部最早誕生於古波斯文明時代的故事和之後的阿拉伯時代的民間故事集。源於東方口頭文學傳統，西元 9 世紀左右以阿拉伯文成書。《天方夜譚》成書後一直在阿拉伯地區流傳，但只是普通的民間文學，不太受到重視，到 18 世紀初傳到西方。1704 年，法國人安托萬·加朗首先將《天方夜譚》部分故事譯成法文，不久風靡歐洲，各種西文相繼出現。《天方夜譚》內描述了當時阿拉伯帝國最繁華的首都巴格達的生活型態；請問：巴格達這個城市位於右圖何處？ (A)甲 (B)乙 (C)丙 (D)丁。
- 7、阿拉伯帝國曾與中國歷史上的唐帝國在中亞地區發生一場戰爭，司馬光編纂的《資治通鑑》曾記載：「仙芝聞之，將蕃、漢三萬眾擊大食，深入七百餘里，至怛羅斯城，與大食遇。相持五日，葛羅祿部眾叛，與大食夾攻唐軍，仙芝大敗，士卒死亡略盡，所餘才數千人。」請問：這場戰爭讓中國哪一項技術西傳？  
(A)造紙術 (B)指南針 (C)地動儀 (D)印刷術。
- 8、某人是生活在在中世紀西歐的騎士，當時在羅馬教宗的號召下，毅然決然投入十字軍的行列，要去消滅占領聖地耶路撒冷的異教徒。請問：某人到戰場後，會與下列哪個民族的異教徒展開戰鬥？  
(A)阿拉伯人 (B)土耳其人 (C)波斯人 (D)斯拉夫人。
- 9、歐洲早期出現的大學，例如義大利的波隆那大學、法國的巴黎大學都是由行會組織演變而來的；而臺灣在下列哪一個時期也有類似歐洲中世紀時期的商業組織的出現？ (A)國際競爭時期 (B)鄭氏治臺時期 (C)清領時期 (D)日治時期。



- 10、阿源閱讀一本有關世界文明發展史的書籍，書中提到：「歐洲有一個運動的展開時間約在十四到十六世紀之間，開啟了歐洲兼具復古與創新的文藝復興，更將西方文明帶入了璀璨的時代。」對於書中的場景，阿源相當嚮往，假如他想到此運動的源頭旅遊，他需要前往右圖哪一個地區？ (A)甲 (B)丙 (C)丁 (D)己。
- 11、馬基維利是文藝復興時期的學者，他在其著作「君王論」中主張君王應擺脫不切實際的道德規範，為達目的，可以不擇手段。請問：馬基維利的政治學說與中國春秋戰國時期哪一人的思想主張相近？ (A)墨翟 (B)李耳 (C)韓非 (D)孟軻。
- 12、上歷史課時，老師提到貞德在英法百年戰爭中，英勇地領導法軍與英軍對抗，雖然貞德後來被英軍俘虜，且被當成女巫燒死，但貞德的勇氣激勵了法軍士氣，最後才能打敗英軍。請問：貞德參與的這場英法百年戰爭，最初的導火線是下列哪一選項？  
(A)因爭奪法國王位繼承權爆發衝突 (B)因擴張海外殖民地導致衝突  
(C)為了奪取歐洲大陸的優勢引發衝突 (D)為了捍衛自身宗教信仰產生衝突。
- 13、西元 1517 年，下列哪一位傳教士提出九十五條論綱，公開批評教會販售教職與贖罪券等斂財行為，此舉被視為宗教改革的開端？ (A)喀爾文 (B)馬丁路德 (C)利瑪竇 (D)羅耀拉。
- 14、西方宗教改革之後新教派紛紛成立，其中哪一教派的教義主張勤儉，以努力工作以榮耀上帝，很受到工商業者的歡迎？ (A)路德教派 (B)英國國教派 (C)喀爾文教派 (D)天主教教派。
- 15、原產於美洲的玉米、番薯等農作物，隨著地理大發現，於下列何時傳入中國，解決部分糧食供應不足的問題？ (A)秦漢時期 (B)隋唐時期 (C)宋元時期 (D)明清時期。



◎請閱讀短文，並回答下列問題：

最初的遠洋航行，是為了尋找從西歐前往亞洲的海路航線，以帶回東方的香料。因為當時歐洲同亞洲的貿易已被威尼斯和熱那亞等地的義大利商人壟斷。自古以來，西方便有著兩條通向東方的貿易路線：其一是海上路線，其二則是被稱為「絲綢之路」的陸上路線。已有的貿易路線可以運送寶貴的香料，但卻不得不遭受沿途關卡的層層剝削，貿易受到了嚴重影響。進入十五世紀，威尼斯受到鄂圖曼土耳其的封鎖與入侵，西方人於是開始積極找尋一條通往東方的新商路。

最早展開海上探險活動的西方國家是葡萄牙；首先狄亞士先發現非洲南端的好望角。後來，達伽馬發現了通往印度的新航線，使得陸上絲綢之路不再是通往東方市場的唯一途徑。西元 1492 年，伊莎貝拉女王資助了哥倫布的探險活動。哥倫布雖然沒有抵達亞洲，但他卻意外地發現了一片新大陸——即美洲大陸。西元 16 世紀初，某人得到西班牙國王的資助，揭開了大航海時代中最耀眼奪目的一頁。他的艦隊不但成功地找到了穿過南美洲通往太平洋的海峽；而且還完成了人類歷史上的首次環球航行——在經過三年的艱苦航行後，船隊中的維多利亞號重返歐洲。(改寫自維基百科)

- 16、由上述文章的內容可得知，促使歐洲人向海上尋找往東方的貿易路線的主要因素為下列何者？  
(A)氣候因素 (B)貿易因素  
(C)地形因素 (D)疾病因素。
- 17、上文中某人率領的西班牙艦隊由大西洋繞過南美洲南端，橫渡太平洋，完成繞行地球一週的壯舉，是指下列何人？  
(A)麥哲倫 (B)馬丁路德 (C)伽利略 (D)亞美利哥。

◎請閱讀短文，並回答下列問題：

親民黨副秘書長「劉文雄」，因為「酒醉後突然昏迷」，經過搶救，還是不幸病逝，享壽 64 歲，將遵詢伊斯蘭教的教義，將在 72 個小時之內下葬。

劉文雄的回教葬禮，反映什麼樣的伊斯蘭價值觀？穆斯林講求速葬，反映了他們的價值觀：一切講求潔淨。穆斯林不吃豬肉、不養狗，都因為他們認為豬和狗都是不潔之物。死後速葬，因為屍體放久了會腐敗，人死後回歸真主，用人為的方法保存屍身是沒有意義的。穆斯林也不看風水、不選吉日，對穆斯林來說，任何一天歸真，都是好日子。

通常穆斯林的墓也沒有墓碑，因為後人也不掃墓不祭拜。要向亡人致敬，只有兩個方式：1.替他向真主祈禱；2.替他在人間多行善舉。漢人習慣先為家人買好墓地或靈骨塔，但穆斯林一律葬在公墓，公墓的墳墓都是一個個建好的墓穴，隨時有穆斯林弟兄姐妹歸真，隨時可以下葬。同時他們一律土葬，因為火是刑罰，不是罪人，就不該被火燒。(資料來源：東森網路新聞及獨立評論中賀佳芬女士的文章)

- 18、上文中的「真主」是指下列何人？ (A)耶穌 (B)佛祖 (C)老子 (D)阿拉。
- 19、伊斯蘭教於下列何時經由阿拉伯商人傳入中國？ (A)唐代 (B)宋代 (C)元代 (D)明代。
- 20、如果有一家族的成員大多是虔誠的佛教信徒，但是其中有少數成員的宗教信仰是伊斯蘭教，這個家族成員要以何種態度相處，才能使家族中每一人和樂共處？  
(A)互不侵犯，各過各的 (B)強迫少數一方改信佛教 (C)尊重彼此信仰的自由 (D)舉行辯論，敗者改信勝者的宗教。

【地理科】第 21-36 題 (每題 2 分)

- 21、歐洲的河流中，萊因河航運最為繁盛，甚至航運量堪稱世界第一，其出海口更是名列世界第 13 的大港，請問上述所指的出海口是位在哪個著名的城市？ (A)倫敦 (B)馬賽 (C)鹿特丹 (D)阿姆斯特丹。
- 22、京華到歐洲某個城市旅遊，她拎著當地名牌 L V 包包，在飄著陣陣細雨的香榭大道旁咖啡雅座裡，點了一杯拿鐵咖啡與松露巧克力，期待她的夢中情人在這綽號花都的城市裡浪漫現身，請問京華前往的是哪個城市？ (A)伯恩 (B)倫敦 (C)維也納 (D)巴黎。
- 23、挪威西部兩萬一千公里長的海岸線有許多天然良港，其海灣類型主要為下列何者？ (A)甲 (B)乙 (C)丙 (D)丁



(甲)



(乙)

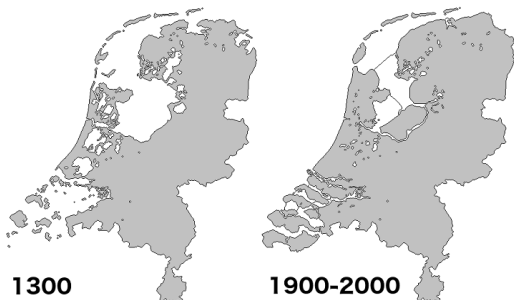
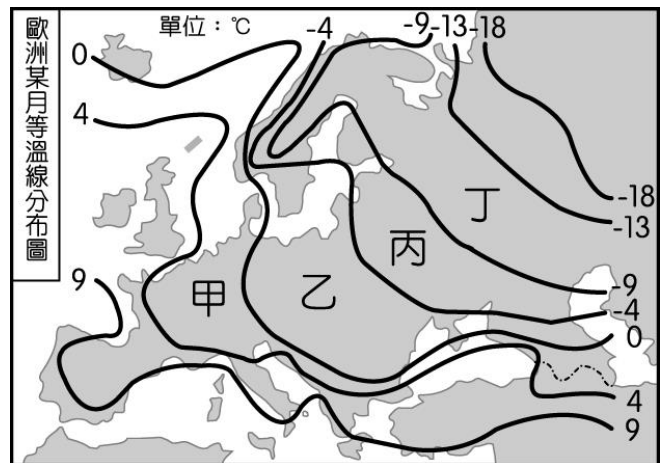


(丙)

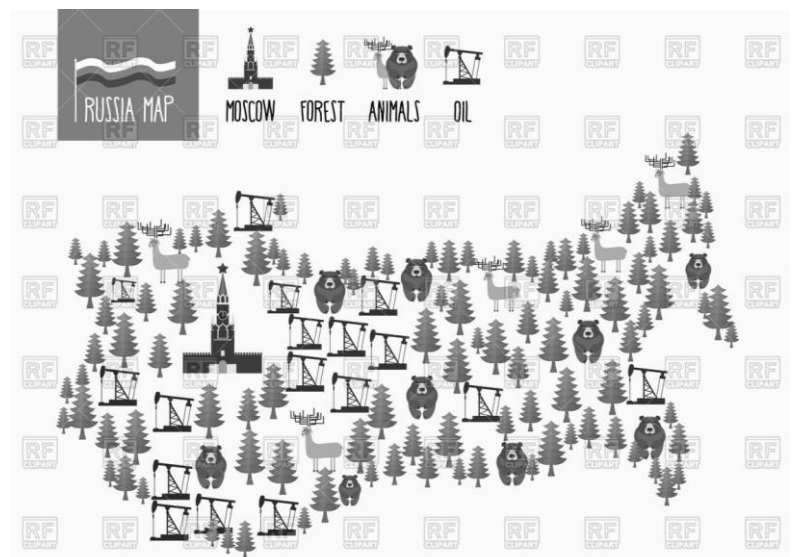


(丁)

- 24、右圖為歐洲各國月均溫比較圖，根據此圖可知沿海國家的月均溫明顯皆高於內陸。形成上述現象的原因為何？ (A)北大西洋暖流、西風 (B)親潮、西風 (C)黑潮、東北季風 (D)北大西洋暖流、西南季風。
- 25、聖傑人稱新民高富帥，人帥又大方，給家裡煮飯阿婆買的代步車是 BENZ、打掃阿桑買的是 BMW、門口警衛是福斯、庭院園丁是保時捷、女友們每人一台奧迪，請問描述中能看得出聖傑偏好哪一國家的工業產品？ (A)義大利 (B)法國 (C)德國 (D)英國。
- 26、下圖為 700 年來荷蘭國土面積的改變，究竟發生了什麼讓荷蘭的面積發生如此變化？ (A)地殼變動 (B)海面下降 (C)填海造陸 (D)武力攻佔。



- 27、北歐為世界上無線通信產業最發達的地區之一，其捨棄線路架設而發展無線通訊主要是受到何項因素影響？ (A)人口密度與地形 (B)經濟發展程度 (C)自然資源 (D)社會福利制度
- 28、性感偶像歌手蓉姿到歐洲拍攝個人首張單曲~「莫斯科不思議」的音樂 MV，若導演欲到莫斯科當地實景拍攝，則須前往哪個國家？ (A)波蘭 (B)義大利 (C)俄羅斯 (D)德國。
- 29、IKEA 為國際知名的瑞典家具企業，甚至名列世界百大品牌第 26 名，請問該企業發展的基礎在於瑞典的何項地理特徵？ (A)重工業基礎佳 (B)針葉林廣布 (C)國民所得高 (D)國際貿易頻繁。
- 30、在煤礦的重要性不如石油的年代，所幸英國在其鄰近的哪個海域開採石油，成為新的動力來源？ (A)北極海 (B)地中海 (C)黑海 (D)北海。
- 31、右圖為俄羅斯的極簡地圖，簡略但仍可以從圖中看出該國具備有下列哪一項的發展特徵？ (A)自然資源為出口大宗 (B)工業實力名列世界前八 (C)20 世紀末從共產政體中解放 (D)境內以斯拉夫族為主。
- 32、多瑙河雖然河流的長度長，航運價值卻不如其他河流來得高，這應該是多瑙河哪項缺點所導致的結果？ (A)結冰期長 (B)方向不佳 (C)水量不穩 (D)河道蜿蜒。
- 33、根據自然環境判斷，下列哪一個國家能發展成歐洲農業較佳的國家？ (A)芬蘭 (B)法國 (C)丹麥 (D)瑞士。



◎請閱讀短文，並回答下列問題：

英國艾塞克斯郡 (Essex) 工業區近期傳出在一輛冷凍貨櫃車中，發現 39 具越南籍偷渡客的屍體，與 19 年前的「多佛慘案」情節類似。據報導，偷渡客選擇貨櫃偷渡多半是因為費用相對便宜，以及容易瞞天過海的緣故；英國警方稱目前的「行情」為每人約 1 萬英鎊 (約合新台幣 39 萬 4000 元)。此外，取消歐盟各國的邊境管制，讓偷渡客得以藏身貨櫃中，從陸路及海路輾轉多個歐盟國家，再送往最終目的國；為了持續運作，人蛇集團轉而在 2007 年剛加入歐盟的保加利亞，註冊偷渡用的卡車；並頻繁使用更容易躲過海關熱成像儀監測的「冷凍貨櫃」。儘管得冒諸多風險，許多教育水平較低者，仍受歐洲和北美地區所吸引，因為當地工資遠比家鄉高出許多。大多數人會先由中國飛往塞爾維亞，然後走陸路經由匈牙利、奧地利、法國，接著從比利時或荷蘭搭船抵達英國。

(中央社記者戴雅真倫敦 26 日專電)

- 34、文中所指取消歐盟各國的邊境管制一事，請問是下列哪一項公約所簽屬的內容？  
(A)倫敦公約 (B)申根公約 (C)巴黎公約 (D)柏林公約。
- 35、中國飛往塞爾維亞，然後走陸路經由匈牙利、奧地利、法國，接著從比利時或荷蘭搭船抵達英國，按照此一偷渡路線應該符合下列哪一方向？  
(A)東歐→西歐 (B)南歐→西歐 (C)南歐→北歐 (D)西歐→北歐。
- 36、根據報導描述，偷渡者們抵達英國的最後一道關卡是乘船穿越下列哪一塊海域？  
(A)波羅的海 (B)愛琴海 (C)英吉利海峽 (D)北海。

※【公民科】第 37-53 題(每題 2 分)

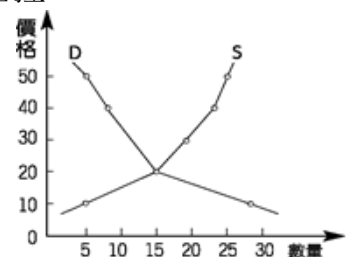
- 37、交子(如右圖)，是中國北宋時四川流行的票據和紙幣，是世上最早「正式」發行的紙幣，當時人們可以用此來買賣商品。請問：由上述「可以用來買賣商品」可知，「交子」具下列何種貨幣功能？  
(A)交易媒介 (B)價值衡量 (C)清償債務 (D)價值儲存。



- 38、鼎宏透過網路「虎皮拍賣」平台販賣手上的二手書籍，請問下列何者同屬於此種「無形市場」？  
(A)小八便利商店 (B)卡斯扣量販店 (C)NONO 電視購物 (D)新民菜市場。

- 39、均琪趁著世貿所舉辦的動漫展，瘋狂掃貨自己最愛的動漫周邊商品，最後用刷悠遊卡來支付，開心的結束行程。以下對悠遊卡的敘述，何者正確？  
(A)屬於法定貨幣的一種 (B)被稱為商品貨幣 (C)由中央銀行發行 (D)發行是受到有形之手管控。

- 40、右圖為雞蛋市場的供需圖，當雞蛋價格為多少元時，市場需求量與市場供給量會相等？  
(A)15 元 (B)20 元 (C)30 元 (D)40 元。



- 41、許多知名品牌手機，如蘋果(Apple)、三星(Samsung)、華碩(Asus)都會將部分組件「外包」給其他國家生產，藉以運用便宜的勞工及他國資源，這是何種經濟學概念？  
(A)比較利益法則 (B)供需法則 (C)誠實信用原則 (D)分散風險原則。

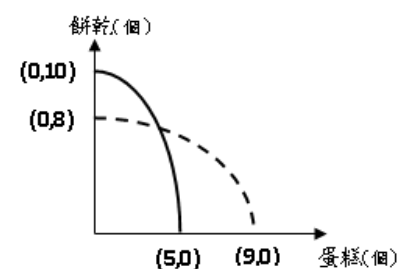
- 42、朝陽開心領到優良學生獎學金，打開時發現其中一張有污漬。如右圖，污漬把下列何者機關遮住了？(A)總統府 (B)財政部 (C)中央銀行 (D)臺灣銀行。



- 43、承上題，下列有關該機關敘述何者正確？  
(A)該機關無法透過貨幣發行量來控制通貨膨脹  
(B)該機關是所謂「銀行中的銀行」，隸屬於行政院財政部  
(C)民間私自印製貨幣，需得到該機關的授權  
(D)該機關負責輔助各金融機構的營運。

- 44、(2019/11/5 央廣)據報導：「勞動部指出，基本工資將自 2020 年 1 月 1 日起，月薪由新臺幣 2 萬 3,100 調整至 2 萬 3,800 元，時薪由 150 元調整至 158 元，業經勞動部報請行政院核定後公告。勞動部重申，基本工資立法目的在保障勞工的基本生活，維持其必需的購買力。工資是勞工提供勞務的對價，其數額由勞雇雙方協商約定，但不得低於基本工資。」請問：有關基本工資制定可看出來經濟學中的何項理論？  
(A)看得見的手 (B)看不見的手 (C)絕對利益 (D)機會成本。

- 45、右圖為重威(實線)與宗榮(虛線)兩人一天內製做餅乾與蛋糕的生產組合圖，橫軸代表作蛋糕的數量，縱軸代表作餅乾的數量。請依右圖判斷，下列何者敘述正確？



- (A)重威在做蛋糕方面具有「絕對利益」  
(B)宗榮在做餅乾方面具有「絕對利益」  
(C)重威在做蛋糕方面具有「比較利益」  
(D)宗榮在做蛋糕方面具有「比較利益」。

46、好嘍茶飲所屬的臺北店及高雄店，依據市場供需狀況而調整店內珍珠奶茶的價格，其中臺北店調漲，而高雄店調降。若以「○」代表 500 杯商品數量，則這兩家店於價格調整前的珍珠奶茶供需情況，最可能為下列何者？【107 會考、習作】

(A)

	需求量	供給量
臺北店	○	○○
高雄店	○	○○

(B)

	需求量	供給量
臺北店	○○○	○○
高雄店	○○○	○○

(C)

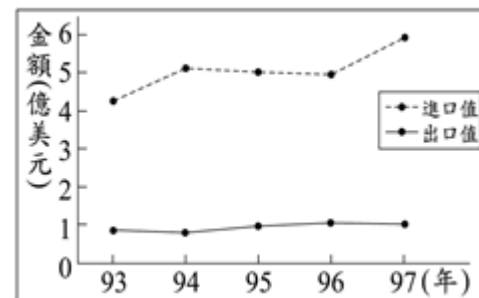
	需求量	供給量
臺北店	○	○○
高雄店	○○○	○○

(D)

	需求量	供給量
臺北店	○○○	○○
高雄店	○	○○

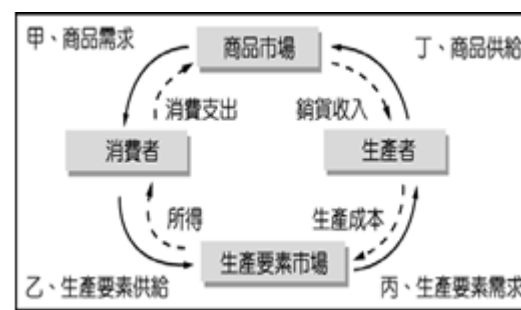
47、右圖是民國 93 年至 97 年，我國水果類農產品的國際貿易概況。根據圖中內容，可觀察出下列何種現象？

- (A)我國生產水果具絕對利益 (B)我國生產水果具比較利益  
(C)水果類貿易呈現入超狀態 (D)水果類貿易呈現出超狀態。 【107 會考、習作】



48、根據國發會報告，台灣生育率在 1.0 徘徊，也就是每位婦女平均一生只生 1 個小孩。如果維持這樣的生育率，45 年後，新生兒人數會從目前的一年 18 萬，跌到只剩 7 萬人，這對整體國家的勞動力顯著的不足。請問：勞動力不足問題，將使經濟循環圖中的那一部分出現**短缺**？

- (A)甲 (B)乙 (C)丙 (D)丁。



【2019/10/27 風傳媒】美洲石油大國委瑞內拉，近年因錯誤經濟政策、政治局勢混亂而深陷通貨膨脹危機，今年通膨率高達 200,000%。馬杜洛政府在 8 月底推出貨幣改革政策、試圖脫離美元牽制，但經濟命脈—石油出口—卻仍受美國制裁所累，產量只剩昔日 1/4，國計民生一蹶不振。

走進委瑞內拉首都卡拉卡斯 (Caracas) 的加油站，每當站方人員結束服務、取回油槍，只見駕駛熟練地掏出一袋米、食用油、香菸或其他商品支付油錢，獨獨不見有人伸手掏錢。曾幾何時，惡性通膨讓委內瑞拉貨幣玻利瓦 (bolivar) 幾乎失去交易功能，以物易物成為常態，甚至造就「一杯咖啡一套房」的行情。

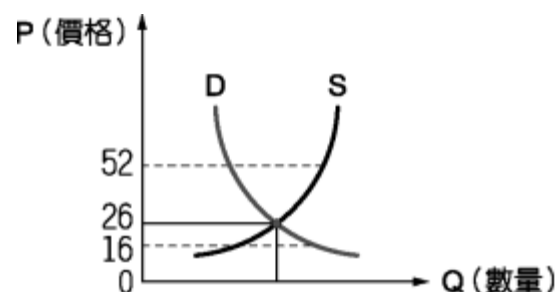
49、通貨膨脹發生時，貨幣的價值會發生什麼變化？

- (A)貶值 (B)升值 (C)不變 (D)無法計算。

50、從文中敘述中得知，當通貨膨脹發生嚴重時，會出現下列哪些現象？(甲)人們的儲蓄意願高 (乙)會以物易物 (丙)貨幣的購買力下降 (丁)領固定薪資的人不受影響

- (A)甲乙 (B)乙丙 (C)丙丁 (D)甲乙丙。

◎右圖為某一地區的汽油市場在自由競爭的情況下，汽油價格的波動與市場的需求量。請根據右邊的供需圖，回答第 51-53 題：



51、當石油價格來到每公升 26 元時，此時市場呈現什麼現象？

- (A)供過於求 (B)市場均衡 (C)供不應求 (D)沒有改變。

52、如果政府為了某些理由干預汽油的價格，將價格定在 1 公升 52 元時，市場上可能會出現什麼狀況？(甲)汽油缺貨 (乙)汽油過剩 (丙)供不應求 (丁)供過於求

- (A)甲丁 (B)乙丙 (C)乙丁 (D)甲丙。

53、承上題，當出現這樣的狀況時，市場上會出現哪些現象？

- (甲)價格上漲 (乙)價格下跌 (丙)增加需求量 (丁)減少需求量 (戊)增加供給量 (己)減少供給量。  
(A)甲丙戊 (B)甲丁戊 (C)乙丁己 (D)乙丙己。

試題完成，記得再檢查一遍答案卡與試卷，並務必將自己的答案抄寫於題目卷上，以利試後檢討。