

# 臺北市立新民國中 108學年度 第一學期 七年級社會領域 第三次段考試卷

七年 班 座號： 姓名：

## 一、單選題(共有 53 題，請掌握好答題時間。)

### ※【歷史科】第 1-20 題(第 1~6 題每題 1 分；第 7~20 題每題 2 分)

- 1、輝成常聽家中長輩說他們的祖先在兩百多年前就已由中國大陸移民到臺灣，為了保護家族利益，因而與中國大陸的同鄉聚居在臺灣南部沿海平原。請問：輝成的祖先最有可能來自下列何處？ (A)潮州 (B)漳州 (C)泉州 (D)杭州。
- 2、清帝國時期許多漢人來臺開墾，當時的開墾主要以下列何種方式進行？ (A)獨資 (B)官墾 (C)合資 (D)軍屯。
- 3、「施世榜見到臺灣中部有高山，其水流落差大，水源充沛到氾濫成災，但是到了乾季卻又沒水。所以於是開始建造水圳，解決灌溉問題。自鼻仔頭(今彰化縣二水鄉)設圳頭，挖掘渠道，引用濁水溪的水來灌溉農田。」請問：上述文獻是指右圖哪一個灌溉設施？ (A)甲 (B)乙 (C)丙 (D)丁。
- 4、清領初期，負責灌溉右圖丁區的水利設施，是下列哪一水圳？ (A)瑠公圳 (B)貓霧揀圳 (C)八堡圳 (D)曹公圳。
- 5、清領初期，中國商人只能透過下列哪一個通商口岸，與臺商從事貿易活動？ (A)滬尾 (B)八里坌 (C)鹿耳門 (D)打狗。
- 6、清領臺灣後，對外貿易十分興盛，帶動經濟繁榮，於是流傳「一府、二鹿、三艋舺」的俗諺，可以反映臺灣早期發展的方向為下列何者？ (A)由南向北 (B)由北向南 (C)由東向西 (D)由西向東。
- 7、清帝國統治初期，臺灣的貿易活動大多局限在與中國大陸的互動之間。直到十九世紀中葉，開港通商後，臺灣再度納入世界經濟體系的一環。請問：臺灣被迫開港通商，是因為哪一場戰爭造成的？ (A)牡丹社事件 (B)英法聯軍 (C)清法戰爭 (D)甲午戰爭。
- 8、《臺北市路街史》：「……每年三月初至十月為春、夏、秋茶上市之製茶旺季，通街充滿茶香與花香，使大稻埕成為最香的城市，揀茶婦女往來絡繹於途……各茶館前之亭仔腳，擠滿揀茶婦女，茶箱、茶篋塞滿亭仔腳每一角落，堆積如山……揀茶女工不足時甚而以長竹篙圍追行路婦女加入趕工……」請問：文中的茶葉最可能由下列哪個港口出口？ (A)基隆 (B)淡水 (C)安平 (D)打狗。



### ◎請閱讀下列短文，並回答下列問題：

西元 17 世紀中，臺灣進入清朝統治時期後，與中國的兩岸貿易開始盛行。一般來說，貿易的形式為從中國沿海的省分運送日用品至臺灣，然後將臺灣的糖、米、樟腦、茶等運回中國。為避免惡性競爭，進而寡佔或獨佔，從事兩岸貿易或交易的商號聯合成立行郊（如同今日同業公會），而這些參與公會的商號則一般通稱為郊商。

臺灣最早出現的行郊的地區是臺南府城地區，其中被稱為府城三郊的北郊蘇萬利，南郊金永順以及專司糖業貿易的糖郊李勝興最具盛名。另有鹿港的布郊金振萬、泉郊金長順、廈郊金振順等等。

行郊具有監督商業道德、商人行為、保持商譽、左右同業、操縱物價及壟斷市場等經濟功能，故須訂立規約，以便管理。行郊所議定之章則，各郊員均應遵守，其效力往往及於郊外各商。郊除了經濟上功能外，亦具有宗教、社會、文化、政治功能；例如：興修廟宇、兼任寺廟董事、造橋修路、救濟民食、建學校、捐學租、募義民、平匪定亂等等。(資料來源：康軒教師手冊 P182~183)

- 9、上述文章中，鹿港地區的「泉郊」與「廈郊」等名稱的來源與下列何者最有關係？ (A)商人的出生地 (B)貿易的商品 (C)貿易的地區 (D)會館的所在地。
- 10、清朝統治時期，臺灣出現這種「郊」的組織，依其性質推斷，這種組織主要分布在右圖中何處？ (A)甲 (B)乙 (C)丙 (D)丁。[97 基測]
- 11、早期中國來臺移民以閩、粵兩個省分最多，造成該地區許多漢人當時移民臺灣的主要原因為下列何者？ (A)中國富商紛紛到臺灣，置產投資開墾 (B)政府鼓勵漢人，到臺灣開發墾殖 (C)政府徵調漢人，到臺灣討伐原住民 (D)居民生活困難，紛紛到外地發展。
- 12、清領初期臺灣民變不斷的原因，最主要原因為下列何者？ (A)清廷藉機煽動 (B)民眾好勇鬥狠 (C)鄭氏遺族繼續抗爭 (D)臺灣吏治不良。
- 13、清領前期的械鬥主要以「閩、粵械鬥」與「漳、泉械鬥」較多；這兩種械鬥的性質屬於下列哪一類？ (A)性別 (B)職業 (C)祖籍 (D)姓氏。
- 14、在臺灣史上，三百多年來臺南一直都是臺灣發展中重要的文化據點，擁有豐富的文化遺跡。請問：今日臺南赤崁樓旁保存九座「御龜碑」，是乾隆年間平定哪一次民變後所樹立的？ (A)郭懷一事件 (B)朱一貴事件 (C)林爽文事件 (D)戴潮春事件。
- 15、每到農曆三月媽祖繞境已成為臺灣宗教界的盛事，信徒參與踴躍，帶動臺灣特殊的社會現象，於是出現了有「三月瘋媽祖」的俗諺。關於此一現象的敘述，下列何者正確？ (A)渡海來臺的移民會祈求媽祖庇祐 (B)媽祖是屬於潮州客家人的原鄉信仰 (C)想求取功名的學子必拜媽祖 (D)媽祖為某原住民族群的守護神。
- 16、「馬偕於西元 1871 年取得長老教會海外傳教士資格後，前往中國廣州等地探查，最後落腳臺灣。一開始的傳教工作並不順利，但馬偕始終抱持著傳道濟世的信念，幫助需要幫助的人，至死不曾改變。西元 1883 年馬偕來到蘭陽平原傳教，



噶瑪蘭族的接受度比其他漢人或高山族都要高。噶瑪蘭族頭目的兒子更成為馬偕的義子，曾跟隨馬偕到牛津學堂就讀，後來還成為花蓮地區的傳教士。」從上述短文推知，當時馬偕來臺宣教，往往藉由下列哪一種方式來推廣他們的傳教事業？ (A)為單身男女提供就業機會 (B)對臺灣民眾提供經濟援助 (C)鼓勵民眾捐款建教堂 (D)透過醫療與成立教育機構。

- 17、「西元 1865 年 6 月，某位傳教士來到臺灣後，進入府城(今臺南)這個當時臺灣最大的城市傳教，並在繁榮熱鬧的看西街開設診所，進行免費的醫療服務，吸引了不少病患；但隨即有謠言傳出，指控他施行邪術，挖取人心、內臟和眼睛來煉製藥物，導致民眾包圍攻擊診所。傳教士向當地知縣求助，知縣卻表示愛莫能助，使得他不得不遷回打狗。」請問：這應該是下列哪一位傳教士的經歷？ (A)吳威廉 (B)馬雅各 (C)甘為霖 (D)巴克禮。

◎請閱讀下列短文，並回答下列問題：


漢人祭祀先人的習俗隨移民來臺，在祭祀上大致上分為唐山祖的宗族組織與開臺祖的宗族組織。唐山祖基於原鄉的宗族意識、凝聚力量，乃成立同宗或同姓的「祖公會」或客家人所謂的「祖嘗」，以大陸原鄉世代較遠的祖先為祭祀對象。組織運作以入股股本為資金，放貸生息，或購地佃予他人耕作收地租，做為每年祭祀之用。開臺祖因移民在臺繁衍日久，人丁漸多，另供奉開臺祖，祭祀對象為來臺的第一代祖先或其後代。成員間具有明確的血緣關係，而組織運作以祖產中的一部分為祭祀公業。每年祭祀費用由公業中支出。

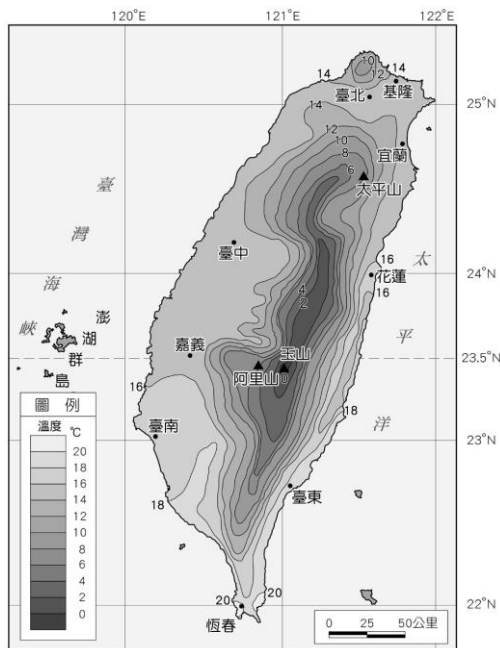
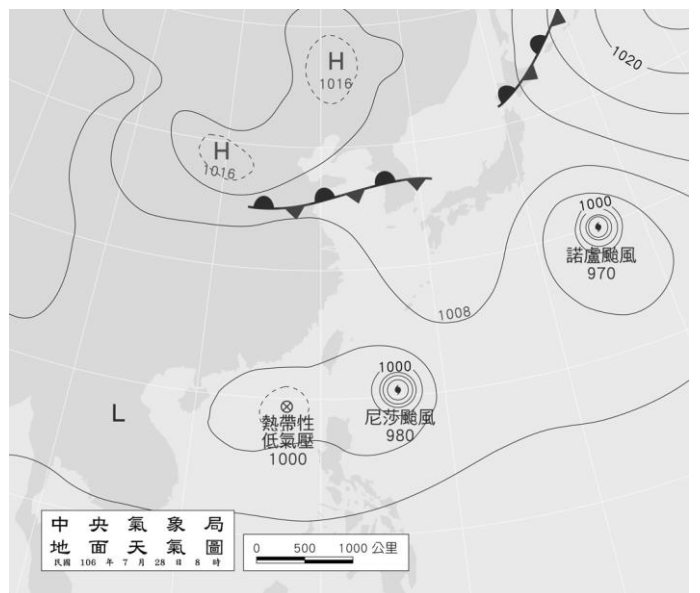
(資料來源：1.教育雲，原文網址：<https://market.cloud.edu.tw/resources/web/1440083>；2.康軒教師手冊 P220)

- 18、現今臺中地區有一座劉氏大祠堂，是由東勢一帶的劉姓漢人共同捐款興建，裡面供奉的是開墾廣東的始祖劉開七。因為這些捐獻者其實彼此並無血緣關係，所以這應該是屬於下列哪一個類型的宗族組織？ (A)唐山祖 (B)開臺祖 (C)阿立祖 (D)土地公。
- 19、關右圖中資料所言的宗族組織，下列敘述何者**正確**？ (A)透過祭祀活動來賺取家族生活費用 (B)以「唐山祖」為祭祀中心的組織 (C)宗族內的成員均為同船來臺者的後代 (D)是屬於「開臺祖」的祭祀組織。
- 20、乾隆 23 年(西元 1758 年)，清帝國諭令臺灣熟番「習漢俗、剃髮蓄辮，穿戴冠履，從漢姓，令同姓不婚」，加速原住民傳統家庭、社會、文化的瓦解。請問：清帝國此政策之用意為下列何者？ (A)傳播漢人的信仰 (B)例行的開山撫番政策 (C)防止改信外國宗教 (D)加速平埔族群的漢化。

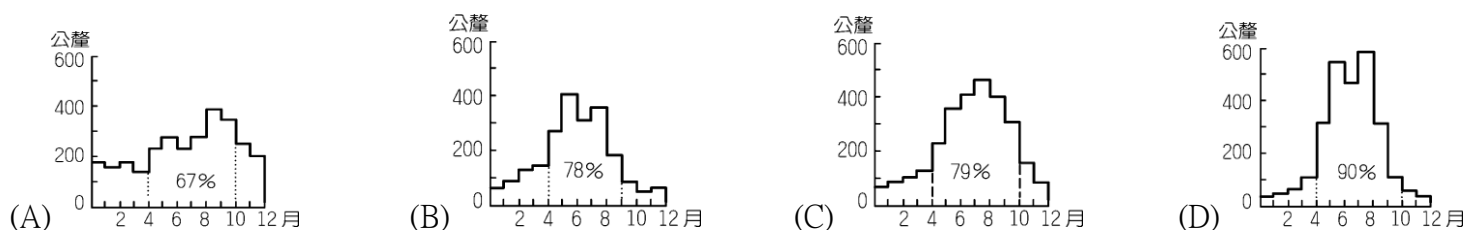
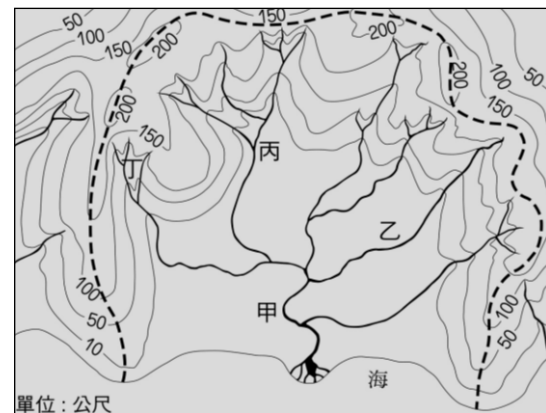
陳佛照於乾隆末年從漳州府至臺灣開墾，死後留下三甲田地作為祭祀公業，由六個兒子輪流耕作。輪值到耕作公田的後代，負責該年清明節的祭祀費用。

※【地理科】第 21-37 題，每題 2 分。

- 21、臺灣夏季時，住在南投的宥任感覺到些微的涼意，而住在台南的思諳卻熱到大啖剉冰，這種差異的產生，可能與下列哪項因素關係最密切？(A)地形 (B)緯度 (C)季風 (D)距海遠近
- 22、下列選項的敘述是屬於對「氣候」的描述？ (A)就在剛剛，台北下了場傾盆大雨 (B)新竹九降風強勁而素有竹風蘭雨的形容 (C)臺東這兩天籠罩在颱風的肆虐範圍裡 (D)今天的中午最高溫高達攝氏 38 度。
- 23、地面天氣圖中，若有  的符號，代表目前此處大氣狀況為何？ (A)熱帶低氣壓靠近 (B)冷氣團來襲 (C)冷暖空氣碰撞且勢均力敵 (D)冷空氣力道強，推著暖空氣走。
- 24、右圖為臺灣昨日的氣象報告中，主播惠茹用來進行說明的地面天氣圖，請問下列哪種天氣情況可能將會是惠茹所預測台灣的今日天氣？ (A)颱風侵襲 (B)陰雨綿綿 (C)氣溫驟降 (D)烈日當空。
- 25、下圖是臺灣 1 月的等溫線圖，根據此圖，可以判斷出臺灣該季節氣溫變化的何種特性？ (A)山區高溫 (B)南北無溫差 (C)北部最熱 (D)南部較暖。



- 26、台灣氣候諺語的由來，是因為長年的相關數據統計分析的結果，請問「五月南風下大雨」此一諺語出現與下列哪一項因素最有關係？(A)颱風入侵 (B)鋒面滯留 (C)背風增溫 (D)熱對流造成
- 27、姿羽發現臺灣各地區規畫建造的水庫近百座，但是這些水庫大都面臨淤塞問題而壽命大減，請問：下列哪項作法可為延長水庫壽命的治本之道？  
(A)定期派人抽取淤泥 (B)流域內土地全面禁止利用 (C)固定洩洪來沖刷泥沙 (D)做好集水區的水土保持。
- 28、臺灣南部的河川因流量變化劇烈的特色，被稱為何種類型河川？(A)異變型 (B)荒溪型 (C)猛爆型 (D)儲蓄型。
- 29、全臺近百座的水庫在幫我們儲存水資源，而目前供應臺北市地區用水的主要是哪個水庫？  
(A)翡翠水庫 (B)石門水庫 (C)烏山頭水庫 (D)鯉魚潭水庫。
- 30、請問「相鄰流域或集水區的分界」是下列哪一個水文名詞的定義？  
(A)水系 (B)流域 (C)集水區 (D)分水嶺。
- 31、右圖是一區域內水文的示意圖，請問圖中的虛線內的範圍該如何稱呼？  
(A)分水嶺 (B)主流 (C)流域 (D)支流。
- 32、臺灣眾多河川的分水嶺主要是下列哪座山脈？  
(A)大屯山 (B)觀音山 (C)中央山脈 (D)象山。
- 33、請問是下列哪一項因素造成臺灣河川水系今日分布情形？  
(A)山脈走向 (B)降水多寡 (C)島嶼面積 (D)降水分布。
- 34、就降雨季節變化而言，下列四張降水量圖何者最可能是我們臺灣的南部地區？



◎請閱讀短文，並回答下列問題：

台灣某縣市的水利局與內政部、科技部及經濟部，108年12月2日辦理「水資源回收中心放流水回收再利用推動計畫」MOU簽約儀式，各單位經多次溝通協調，達成共識，未來將分階段供應再生水滿足高科技廠商之用水需求，預計於111年6月第一階段每日供1萬噸再生水、並於113年6月達每日3.75萬噸之再生水供應量。長久以來，該地區在豐水期的時候，一下豪雨成災，在枯水期的時候卻滴水未露，再加上民眾的用水習慣，人均用水量是數一數二的少，所以水資源回收再利用變得相對的重要，為緩解臺灣水資源供水壓力，行政院於102年推動「公共污水處理廠放流水回收再利用示範推動方案」，以一滴水兩次用的想法，將民生污水廠轉化成為都市的小水庫概念，補足地方供水缺口，並提升整體水環境品質與穩定產業用水供應，達成水資源循環再利用的目標。

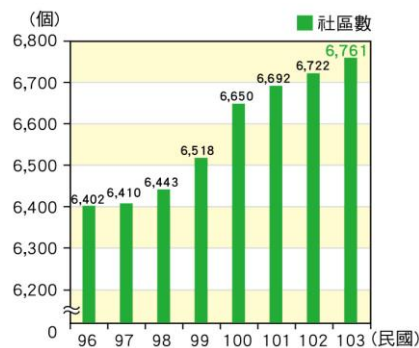
【改編自臺灣好新聞「水資源回收中心放流水回收再利用推動計畫」MOU簽約儀式】

- 35、從文中所呈現的數據，凸顯出臺灣目前哪一問題嚴重？  
(A)人均可再生水資源偏低 (B)降水量不足 (C)工業污染嚴重 (D)水資源浪費嚴重。
- 36、承接上題，該問題之所以嚴重與臺灣的哪一項環境特性有關？  
(A)河流長度短小 (B)降雨時空分布不均 (C)河流東西分流 (D)水庫興建太少。
- 37、文中所顯示的問題，台灣的哪個縣市嚴重性可能最高？(A)台北市 (B)台東縣 (C)台南市 (D)宜蘭縣。

※【公民科】第38-53題，每題2分。

- 38、在臺灣，經由居民共同努力的經營，社區得以保存地方文化、凸顯社區特色。下列對於「社區」的敘述，依據所學，何者才是正確的？(A)社區可凝聚居民的認同感與歸屬感 (B)社區是由政府提供補助成立的團體 (C)社區意識是透過相同信仰凝聚而成 (D)身為國中生社區的活動不需參與。
- 39、(2019/12/18 Etoday)『隨著全世界青少年使用 IG (Instagram) 的用戶數量不斷提高，言語上的網路霸凌也每天上演，針對不斷造成的悲劇，IG 在官方網站寫下，「我們正式推出 AI 審查功能，識別用戶即將發出的貼文內容，若有不妥之處就會暫停發佈。」請問：若在 IG 上被同學分享自己不喜歡的獨照，並且被留言嘲笑，下列處理方式何者是錯誤的？  
(A)要求同學刪除照片和留言 (B)遠離霸凌者，並向老師求助 (C)截取屏幕截圖，保全證據 (D)向 Instagram 檢舉並 po 上對方的醜照做為回應。
- 40、日前學校剛舉辦完的趣味競賽活動，圓滿結束。這樣的班級競賽活動，讓各班同學間的向心力更強、感情也更好了。上述畫線部分，彰顯學校教育的何種功能？(A)發覺潛能以展現自我 (B)追求適性的學習方法 (C)培養良善人際互動能力 (D)學習參與公共事務知能。
- 41、每逢12月聖誕節慶時節，住在石牌的吉慶里居民們便自動自發的妝點門口巷弄，在社區內自行打造七彩造型燈飾，規模小巧精緻，閃亮卻不喧嘩的燈海別有一番氣氛，也吸引很多遊客到訪參觀。請問：讓吉慶里的居民付諸行動、動員起來的主因為下列何者？(A)組成了社區組織 (B)政府的經費補助 (C)為了推動觀光產業 (D)具備了社區意識。
- 42、爸爸與剛上國中的女兒一同參加家長座談會，看到教室牆上貼著「班級生活公約」，感慨地說：「以前我們唸書時，學生只能遵守由學校制定的校規與班規，真羨慕你們現在師生可以相互溝通，共同擬定大家願意接受的生活公約。」上述父親所描述的轉變，最可能是因下列何項概念逐漸受到重視？(A)主權在民 (B)地方自治 (C)終身學習 (D)學生自治。

43、右圖為民國 104 年衛生福利部「社區發展工作推動成果與展望」報告中，有關我國自民國 96 年到 103 年社區數量變化情形的統計資料。請問：下列何者最能與該統計資料的變化趨勢相互呼應？(A)社區的經濟產業發展日漸蓬勃 (B)由下而上的社區組織受到重視 (C)人口成長之自然增加率為正值 (D)追求永續社區的理想仍待努力。【習作】



◎以下為七年愛班開班會的紀錄，會議的主題為寒假班遊地點，班會前柔安已提出「淡水老街遊」的議案。請回答 44-48 題。

台北市立新民國民中學 七年 愛 班 第 二 十 週 班 會 紀 錄

日期	109 / 01 / 17	應到人數	20 人	實到人數	18 人	缺席座號	3、26
主席	奕晴	司儀	貴祥		紀錄	思穎	
紀錄內容	討論題目：寒假班遊地點 1____(甲)____宣布會議開始 2 進行討論事項(昀澤提出__(乙)__問題，請主席處理)，主席隨即更正程序 3 主席報告、幹部報告 4 討論事項-班遊地點(討論期間心堯和凱萌因意見不合而發生口角) 議案提出的順序：淡水老街→平溪鐵路支線→九份老街 5 臨時動議 6 散會、導師講評						

- 44、請問(甲)應該是由下列何者宣布？(A)主席 (B)司儀 (C)紀錄 (D)導師。
- 45、根據班會的相關開會規則，下列敘述何者正確？(A)柔安提出的議案屬於動議，必須經過一人以上的附議 (B)紀錄中的空格(乙)應該填上秩序問題 (C)心堯跟凱萌的口角衝突，同學可以提出秩序問題 (D)臨時動議不是會議議程內的討論事項，所以附議後可直接表決。
- 46、下列何項討論是屬於學生的自治事務？(A)決定寒暑假日期 (B)表決遲交作業同學下課留教室懲罰 (C)選舉下學期的班級幹部 (D)修改全校學生手機使用規則。
- 47、請問主席應先從哪一個提議的地點先表決？(A)淡水老街 (B)平溪鐵路支線 (C)九份老街 (D)看主席心情。
- 48、關於主席在班會中的地位，以下敘述何者正確？(A)將表決方式及票數、結果詳實記錄 (B)必須公正主持會議，必要時可推翻表決票數 (C)主持會議，賦予參加人員發言地位 (D)在提案票數相同時，須由主席邀請老師加入表決。

◎蘭嶼鄉公所於 2016 年 5 月份針對飛魚季期間所發布的聲明文部分內容如下。閱讀完後回答第 49-53 題：

上千年來達悟族世居於蘭嶼島，全島各部落皆有固定的傳統漁場捕撈海域，而《●●法》第 19-23 條，明確訂定承認了原住民族所擁有之「土地及自然資源權利」，原住民族得以在傳統文化、祭儀或自用為前提之下利用原住民傳統領域內之自然資源(包含傳統海域)；國家對於原住民族在其土地上所擁有的自然主權是必須承認的，上述原住民權利政府更是明確立法保障。

每年的 2-6 月是蘭嶼達悟族歲時祭儀中重要祭典的飛魚季，達悟人視飛魚為神賜予的禮物，在飛魚季期間只捕飛魚，不捕其它魚種，讓其他魚種有復育並繁衍的時段。飛魚季期間所有的漁獲皆與部落族人分食共享的民族性，這是達悟族人祖先代代傳承固有的生態保育概念及達悟族共享共用的優良傳統文化。而飛魚文化從招魚祭至飛魚終食祭亦全是達悟族人延續傳統文化的核心主軸，沒有了飛魚文化，達悟族傳統文化將無法延續，文化傳統將會走向滅亡。



圖片來自「臺灣之美：意念影像圖庫系列」

- 49、閱讀上文聲明後，可以判斷出《●●法》應是下列哪項法規？(A)教育基本法 (B)原住民族基本法 (C)地方制度法 (D)原住民族委員會組織法。
- 50、根據上文，我國對原住民族部落的保障，下列敘述何者正確？(A)達悟族各部落在飛魚季期間捕撈沒有任何約束 (B)部落與社區一樣都是自然而然形成的區域 (C)達悟族各部落對傳統漁場使用沒有法律依據 (D)達悟族各部落有其共通的文化、語言及價值觀。
- 51、上文內容中的畫底線「\_\_\_\_\_」處，突顯出下列何項概念？(A)社區參與的重要 (B)促進部落的經濟發展 (C)追求部落的永續發展 (D)部落自治精神喪失。
- 52、從文中得知，達悟族各部落飛魚季期間的活動背後蘊含的意義為何？(A)部落族人的資源搶奪 (B)部落文化的傳承保存 (C)基督信仰的傳統儀式 (D)私有化的經濟制度。
- 53、上文內容中的畫曲線「\_\_\_\_\_」處，代表了原住民族部落的何種精神？(A)互助扶助的共享精神 (B)崇敬神靈的部落倫理 (C)各司其職的部落自治 (D)創新文化的再造認同。

試題完成，記得再檢查一遍答案卡與試卷，並務必將自己的答案抄寫於題目卷上，以利試後檢討。