

# 臺北市新民國中108學年度 第一學期8年級社會領域 第3次段考試卷

年 \_\_\_\_\_ 班 座號： \_\_\_\_\_ 姓名： \_\_\_\_\_

## 一、單選題：第 1~8 題 1 分；第 9~54 題 2 分

### ※【歷史科】

- 1、宋遼戰爭長達二十五年，其目的在於爭奪燕雲十六州。契丹統治者把燕雲十六州視為腹地，儼然以大國的姿態屹立於宋朝北方，威脅宋帝國的安危。右圖是北宋與遼、西夏的形勢圖，請問：燕雲十六州應是位於右圖中何地？ (A)甲 (B)乙 (C)丙 (D)丁。
- 2、下列哪一選項是導致北宋中期以後，財政的開銷龐大，支出日漸吃緊的主要因素？  
(A)帝王后妃們的花用過大，稅收入不敷出 (B)國家大型建設費用過高，國庫不堪負荷  
(C)冗兵與冗官人數過多，支出龐大 (D)每年賑災金額的比例過重，中央財政吃緊。
- 3、戰國時代因商鞅變法，使秦富強，最後統一天下。宋朝時卻因下列哪一大臣的變法，引發新舊黨爭，造成政局日益惡化？ (A)寇準 (B)王安石 (C)秦檜 (D)范仲淹。
- 4、有一份文章介紹一位歷史人物，提出的相關資料如下：



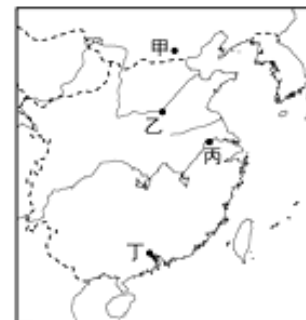
資料一：是南宋初期的名將，出身貧困農戶，但精於騎射，愛讀兵書。由於他治軍賞罰分明，軍紀嚴整，軍隊戰鬥力強，連金軍也感嘆「撼山易，撼岳家軍難」。

資料二：他曾說：「只要文臣不愛錢，武臣不惜死，天下就能太平！」南宋初期，曾率軍數次大敗金軍。

資料三：他堅持北伐，卻受人誣陷意圖謀反，在一天內先後收到朝廷十二道金牌要求撤兵，只好班師回朝，最後被判處死刑，死時年僅 39 歲。

請問：根據上述三段資料，文中敘述的應是下列哪一位歷史人物？

- (A)李靖 (B)完顏阿骨打 (C)岳飛 (D)耶律阿保機。
- 5、老師講述中國歷史時說到：「這個民族是中國歷代邊疆民族中，漢化程度較淺的民族之一。他們入主中國後，為了保持統治地位，各級長官甚少任用漢族人士，引起漢人的不滿與反抗。」老師介紹的民族是來自右圖中的哪一區？ (A)甲 (B)乙 (C)丙 (D)丁。
  - 6、隨著商業的發達，為了方便資金的流通與使用，北宋時，四川商人發行了世界上最早的紙幣，其名稱為下列何者？ (A)飛錢 (B)交子 (C)會子 (D)寶鈔。
  - 7、我們可從張擇端的《清明上河圖》中窺見北宋工商業發達，商品經濟熱絡以及首都中繁榮的景象。請問：圖中所描繪的是位於右下圖中哪一個城市的熱鬧景象？  
(A)甲 (B)乙 (C)丙 (D)丁。
  - 8、宋代由於實施科舉制度及文人政治，使得寒門有機會成為統治階級，社會上更出現「萬般皆下品，唯有讀書高」的諺語，甚至連皇帝都寫了〈勸學詩〉來勉勵讀書人。請問：科舉制度的實施，使朱熹著的哪一部書成為後世科舉考試的定本？  
(A)四書集注 (B)天工開物 (C)夢溪筆談 (D)資治通鑑。



### ◎請閱讀短文，並回答下列問題：

鄭和下西洋是明朝初年的一場海上遠航活動，世界歷史上第一次環遊世界之旅。其實明成祖派鄭和七次下西洋有著諸多的原因。比如，尋找建文帝的下落，還有就是宣揚國威。鄭和七次下西洋展示了明朝前期中國國力的強盛，實現了萬國朝貢；加強了中國明朝政府與海外各國的聯繫。改變了自明太祖朱元璋以來的禁海政策，開拓了海外貿易。

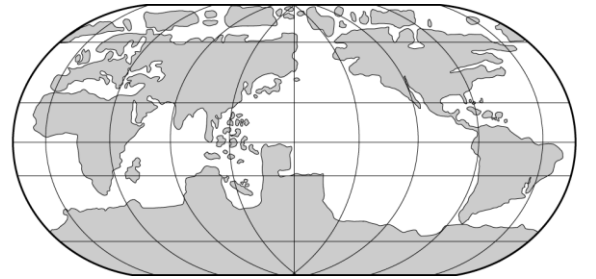
西元 1405 年 7 月 11 日（明永樂三年）明成祖命鄭和率領龐大的二百四十多艘海船、二萬七千四百名船員組成的船隊遠航，由蘇州劉家港出發，一直到 1433 年（明宣德 8 年），訪問了亞非沿海 30 多個國家和地區。鄭和曾到達過菲律賓、爪哇、蘇門答臘、木骨都束等三十多個國家，最遠曾達非洲東岸。

人們對鄭和下西洋的評價非常高，孫中山先生曾說：「鄭和竟能於十四個月之中而造成六十四艘之大舶，載運二萬八千人巡遊南洋，示威海外，為中國超前軼後之奇舉。至今南洋人士猶有懷想當年三保之雄風遺烈者，可謂壯矣！」

(資料來源：每日頭條，2017，原文網址：<https://kknews.cc/history/vp3gk4y.html>)

- 9、由上文得知，鄭和航行的主要區域是位於下列何地？ (A)北極海 (B)大西洋 (C)地中海 (D)印度洋。
- 10、下列何者最可能是「鄭和下西洋」所帶來的影響之一？  
(A)引發探險風氣，延續歐洲海外拓殖熱潮 (B)貿易管道暢通，中國白銀大量流入歐洲  
(C)中國聲威遠播，奠定華人移居東南亞基礎 (D)肅清倭寇的勢力，東南沿海因此得以安定。
- 11、明朝中期以後，內政與外患問題日漸嚴重。明神宗時，張居正當政，推動了「一條鞭法」的改革，調整稅收方式，使朝政略有起色。請問：「一條鞭法」主要是針對下列哪一方面的改革？ (A)經濟 (B)軍事 (C)外交 (D)政治。

- 12、「清朝盛世長達一百三十多年，在平定**封建諸侯**的叛亂後，內部的統治愈見鞏固；對西北多次用兵，將今日的蒙古、新疆、西藏納入版圖，君主的權力達於極盛。」請問：上文中提及的「平定封建諸侯的叛亂」是指下列哪一歷史事件？ (A)八王之亂 (B)靖康之禍 (C)靖難之變 (D)三藩之亂。
- 13、明清時期的士紳，有免除勞役的權利，在地方上享有特殊地位，名分雖不能世襲，但特權卻可以擴展至家人。為求延續特權生活，他們會督促子弟透過下列哪一種途徑成為士紳，繼續享有特殊待遇？ (A)經商致富 (B)獲得戰功 (C)通過科考 (D)皇帝恩賜。
- 14、明清時期，手工業分工日益細密，如江西景德鎮因**製瓷**聞名中外，當地工廠一年四季不分晝夜，皆不停運作，這種現象反映出明清時期社會經濟的哪一種現象？ (A)坊市制度的瓦解 (B)專業市鎮的興起 (C)同業公會的出現 (D)商幫勢力的增強。
- 15、中國傳統醫學採自然藥物治病，故對於藥物學的研究也頗有成就，其中有一本書被視為中國傳統藥物學集大成的著作；時至今日，隨著國際文化的交流，對世界醫藥學和生物學都具有相當的貢獻。請問：根據上文所述，這本書的作者應是下列哪一個人？ (A)西漢淳于意 (B)宋朝沈括 (C)明朝李時珍 (D)清朝蒲松齡。
- 16、地圖所描繪的樣貌可呈現當時人們對世界的認知。古代中國曾出版了參考當時西方世界地圖所繪製的地圖，如右圖所示。根據圖中的資訊，此圖最早可能出現於下列何時？ (A)玄奘西行印度取經時 (B)蒙古西征攻陷歐洲時 (C)鄭和七次下西洋期間 (D)明末傳教士來華期間。〔102.試辦會考〕
- 17、某一本章回小說寫到：「政治的黑暗、官場的腐敗、世風的輕薄以及父子、兄弟、妻妾、主僕之間錯綜複雜的人事糾葛和矛盾衝突，交織於此書之中。……聰明靈秀的**賈寶玉**和心思細膩的**林黛玉**，展開了一段凄美的愛情故事。」請問：根據上文內容判斷，這是下列哪一本章回小說的劇情？ (A)紅樓夢 (B)三國演義 (C)聊齋誌異 (D)水滸傳。
- 18、在元朝的種族歧視政策下，全國百姓被劃分為四個階級，其中掌管**財政及賦役**要職的是下列哪一階級？ (A)蒙古人 (B)色目人 (C)漢人 (D)南人。
- 19、下列宋代哪一項發明，使**航海技術**大為進步，經由阿拉伯人傳往西方，成為後來西方地理大發現的重要配備？ (A)造紙術 (B)印刷術 (C)火藥 (D)指南針。
- 20、隨著西方國家新航路的發現，從明中葉以後，越來越多的傳教士東來中國傳教，他們一邊介紹西方的科學知識，一邊傳教。請問：當時來華傳教的主要是下列哪一個組織的傳教士？ (A)路德教派 (B)英國國教派 (C)耶穌會 (D)長老教會。



※【地理科】第 21~37 題

- 21、中國西北內陸地區，居民的傳統產業發展是定居放牧、游牧或灌溉農業，取決於下列哪項條件？ (A)土壤肥沃與否 (B)人口多寡 (C)水源豐缺 (D)交通便利程度
- 22、中國東北地區與南部地區都是農業地帶，前者收穫次數 1~2 次，後者多則可達 3 次，而影響農業收穫次數多寡的主要因素為何？ (A)地形 (B)降水量 (C)氣溫 (D)土壤
- 23、不同的依據可以劃分出不同的中國地圖，若以經濟發展程度為基礎可能畫出下列哪張地圖？



(A)

(B)

(C)

(D)

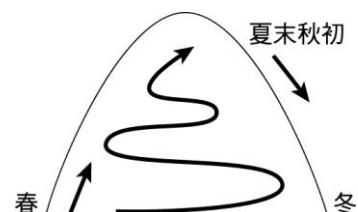
- 24、右圖為中國「絲綢之路經濟帶」示意圖，根據附圖判斷，下列區塊何者不在中國「絲綢之路經濟帶」的經濟發展版圖內？ (A)中亞 (B)北美洲 (C)歐洲 (D)西亞。



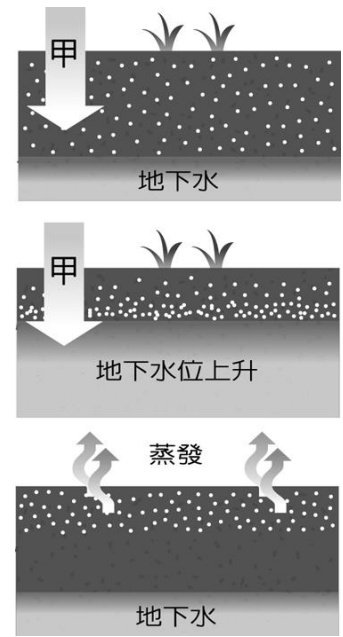
- 25、青藏鐵路的建設過程中，當地的何種環境特性最易造成建築下陷問題而讓學者專家擔心？ (A)水土流失 (B)沙漠化 (C)鹽鹼化 (D)凍土問題
- 26、逸圻是居住在中國北部的農民，單純考量氣候條件，他最可能選擇種植下列哪組作物？ (A)茶葉、高粱 (B)青稞、棉花 (C)甘蔗、茶葉 (D)甜菜、玉米

- 27、中國因應沙塵暴問題所採取的對策中，下列何者正確？ (A)北防護林 (B)退牧還耕 (C)退林還耕 (D)退田還湖

- 28、右圖為畜牧方式的一種，這種畜牧方式主要分布哪一區？ (A)青藏高原 (B)蒙古高原 (C)華北平原 (D)珠江三角洲



- 29、地理老師在課堂上出示如附圖的土壤鹽鹼化過程圖，詢問全班圖中甲處所代表的是什麼動作，下列哪位同學的回答正確？(A)施肥 (B)灑藥 (C)播種 (D)灌溉
- 30、昀霖腳上穿著某運動品牌的 KD 代言球鞋，希望自己與 NBA 球員一樣強，卻意外發現上面寫著 made in China，請問這正好符合中國過往有哪個稱號的形象？  
(A)世界市場 (B)時尚之都 (C)白色巨塔 (D)世界工廠
- 31、中國水資源有分布不均的問題，即便季風氣候多雨地區也有南北差異，下列哪一項工程在中國面對此一問題所提出的應對策略中位居要角？  
(A)長江三峽大壩 (B)圍湖造田工程 (C)三北防護林 (D)沙源管理工程
- 32、1978 年經濟改革開放政策中擔任先鋒的五大城市，有以下哪一項的共通特性？  
(A)位在北部沿海 (B)具交通優勢 (C)皆地廣人稀 (D)屬中部經濟帶
- 33、根據統計報告指出，中國去年進口最多的商品為提煉過後的石油，甚至與俄羅斯簽約位來三十年將購買近四千億美金的石油，再再顯示中國目前發展的哪種現況？  
(A)資源開發殆盡 (B)本身不產石油 (C)原物料需求提升 (D)國際貿易疲弱
- 34、中國在下列哪一條河流域內的水力開發，是近年引起東南亞國家抗議的衝突癥結點？  
(A)瀾滄江 (B)長江 (C)珠江 (D)黑龍江



◎請閱讀短文，並回答下列問題：

2017 年 7 月，美國最大的跨國連鎖咖啡館星巴克（Starbucks）發布了一份聲明，星巴克公司在這份聲明中展現了其在中國市場的雄心，他們正以每年超過 500 家的速度在中國開設新店。截止這份聲明發布時，僅僅在上海，星巴克就已開設 600 餘家門店。

星巴克將業務在中國大規模擴張，迎合了消費能力日漸上升的中國千禧一代（出生於 1984 至 2000 年間的人）對品質生活的需求。正成為中國消費新引擎的千禧一代，是星巴克顧客的主力人群，接受了咖啡文化的他們，常會在這裡點上一杯咖啡，帶到辦公室裡，開始一天的工作。或是索性在咖啡館裡，呆上一天，處理他們的工作。

一項統計數據顯示，近 6 年時間裡，中國的網絡消費中，以吃喝玩樂為主的享受型消費增長了 20 倍，其中相當一部分消費就出自 80 後、90 後的千禧一代。與他們的父輩們不同，出生於改革開放時期與網際網路時代的千禧一代在消費觀念上更加與國際接軌，更容易接受新鮮事物，也更認同流行文化。根據研究報告，中國的 80 後和 90 後群體約有 4.15 億人，占總人口的 31%，隨著他們的平均年收入從 2014 年 5,900 美元增長至 2024 年的 1.3 萬美元，他們將主導未來 10 年的消費格局。

改編自中國年輕一代的消費能力闊氣，對全球奢侈品市場的貢獻無與倫比

- 35、根據文章所指，星巴克決定大規模進軍中國廣設門市，考量到的主要因素是？  
(A)勞力 (B)原料 (C)市場 (D)技術
- 36、星巴克是著名的咖啡飲品連鎖店，其所需的咖啡豆，最適合栽種在中國的哪個地區？  
(A)西部 (B)南部 (C)北部 (D)東部
- 37、根據文章所描述，工資的大幅上漲將會讓中國失去下列哪一項優勢？  
(A)勞力 (B)原料 (C)市場 (D)技術

※【公民科】第 38~54 題

- 38、下表是四個前往投開票所的民眾及他們身上攜帶的物品，請問：根據我國相關法規，哪一個人可以順利進場投票？

(A)雅雋	(B)佩怡	(C)侑叡	(D)貽珺
印章、駕照	健保卡、投票通知單	身分證、印章、手機	身分證、信用卡

- 39、中華民國國民年滿 20 歲，不分階級、種族、財產等因素限制人民的投票權，請問這是選舉的哪一項原則？  
(A)普通 (B)平等 (C)直接 (D)無記名。
- 40、班上同學一起討論對於「政治參與」的看法，下列哪一位同學的敘述最正確？  
(A)語柔：「參與政治只能透過選舉投票的方式達成。」 (B)葦柏：「成為候選人也是政治參與的方式之一。」  
(C)星容：「政治參與是公民的權利，國民無法享有。」 (D)奕安：「政治參與的目就是為了取得執政權。」
- 41、北韓每四年舉辦一次地方選舉，選出各級地方人民議會議員，只要年滿 17 歲的民眾都要投票。北韓人民在投票所外唱歌跳舞，表現得相當開心，每個選區只有一個候選人，皆由朝鮮勞動黨提名，選民要在投票所投下贊成或是反對票。基本上並不會有人投下反對票，因為投反對票視同叛國，使得候選人的得票率幾乎是 100%。從上文所述，請問：北韓的政黨類型與下列哪一個國家類似？ (A)美國 (B)芬蘭 (C)越南 (D)新加坡。
- 42、承上題，請判斷該國的黨制屬於何種型態？ (A)一黨專政 (B)一黨獨大 (C)兩黨制 (D)多黨制。

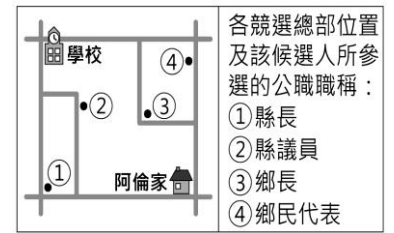


43、右圖為我國中選會在這次總統大選於官網上同步轉播「電視政見發表會」，期望由參選人公開討論政治議題，引起選民對政治事務的關心。請問：政見發表會的目的是政黨的何項功能展現？ (A)民意的匯集與表達 (B)組織政府與監督政府 (C)提名候選人參與選舉 (D)促進民眾對政治的認知。

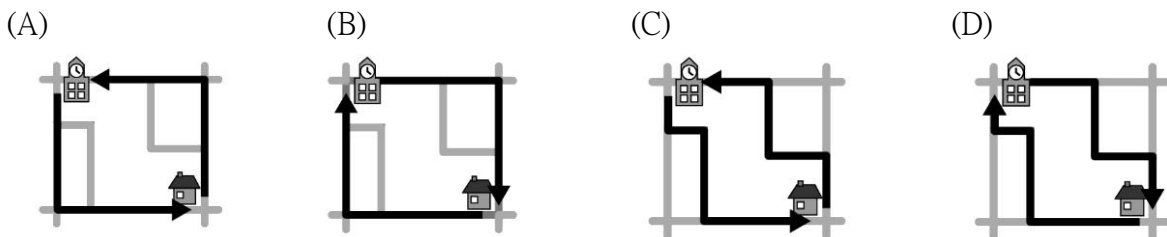


44、下列有關政黨運作的敘述，何者正確？  
 (A)政黨籌組須依《人民團體法》規定，向內政部登記  
 (B)在野黨基於職責，必須好好監督執政黨的施政情況  
 (C)政黨應尊重包容，少數尊重多數，多數服從少數  
 (D)我國自 1996 年開始目前有過二次的政黨輪替經驗。

45、阿倫上學途中，路過某候選人的競選總部，看到了「評鑑第一名的民意代表，懇請支持連任」的標語；放學回家，又經過另一位候選人的競選總部，懸掛著「28 歲新人，開創地方行政新氣象」的布條。右圖是阿倫家周邊環境示意圖，根據圖中內容判斷，下列何者最可能是阿倫上學、放學的路線？



【107 會考改編】



46、右表為甲、乙、丙、丁四國在最近一次國會選舉後的席次資料。若此四國的政黨制度型態相當穩定且各國前三大黨在每次國會改選後獲得的席次總和，占總席次的比例皆超過 90%，根據表中資料判斷，下列何者的政黨制度型態最可能傾向合組「聯合政府」？ (A)甲 (B)乙 (C)丙 (D)丁。

國會席次資料	
甲國	第三大黨獲得 30%的席次
乙國	第二大黨獲得 45%的席次
丙國	第三大黨獲得 5 %的席次
丁國	第二大黨獲得 25%的席次

47、承上題，下列哪一項是此種政黨類制的缺點？  
 (A)執政效率高但易忽視少數民意 (B)政策不易取得共識，造成效率低  
 (C)缺乏監督的力量可以與之抗衡 (D)民眾對於政策的選擇機會相對少。

48、依據相關法律對於合格選舉人的各項規定，下列哪一位「沒有資格」投票選出 2020 年總統大選？

	年齡(歲)	在選舉區設籍時間	備註
(A)	40	1年	現任副總統
(B)	22	7個月	因缺課過多被學校退學的大四學生
(C)	20	5年	受監護宣告
(D)	35	6個月	因犯罪被法院宣告褫奪公權

49、新聞報導：新竹縣及縣內的竹北市人口成長快速，若照目前的增長速度推估，到了 2018 年底舉辦地方選舉時，依據相關法律的規定，竹北市選民所能選出的地方民意代表席次，都各將增加一席。上述報導中所指稱的地方民意代表，應為下列哪一組合？(A)市議員、立法委員 (B)縣議員、立法委員 (C)市議員、市民代表 (D)縣議員、市民代表。



50、右表為 2018 全國性十公投的投票結果。下列有關我國公民投票的敘述，何者正確？  
 (A)我國年齡規定，需年滿 20 歲才能投票 (B)可以落實憲法中人民創制、複決的權利  
 (C)提案若是沒有通過，該議題不得再提出 (D)《公職人員選舉與罷免法》是法源依據。

◎請閱讀下列新聞內文，並回答第 47-48 題：

【2019/12/29 上報】台灣北中南多個環保團體 29 日以呼吸自由為倡議主軸，在台北市展開反空污大遊行，呼籲總統及立委候選人應以氣候、無煤作為爭取選票的第一政見。此次活動由台灣健康空氣行動聯盟、南部反空污大聯盟、台灣生態學會等環保團體共同發起，以「自由呼吸，呼吸自由」、「民主能源，氣候民主」、「平等呼吸，健康平等」及「無煤台灣，永續健康」為主軸發動遊行。

51、根據上文，主辦上述活動希望影響政府政策的團體是？ (A)利益團體 (B)同業公會 (C)立法部門 (D)政黨。  
 52、上述活動的參與者主要是運用哪個方式來表達其訴求？ (A)公民投票 (B)媒體宣傳 (C)集會遊行 (D)掃街拜票。

◎右圖為我國這次剛舉辦完的選舉中的其中一張選票樣式：

53、由選票內容判斷，這是我國所舉辦的何項選舉？  
 (A)總統副總統 (B)市民代表 (C)公民投票 (D)立法委員。

54、有關此種選舉制度的敘述何者正確？  
 (A)總共將選出 123 席次 (B)採行單一選區兩票制度  
 (C)任期為四年，連選得連任一次 (D)選舉制度和總統副總統選舉相同。

