

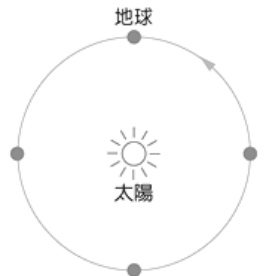
臺北市立新民國中108學年度 第一學期 九年級社會領域 第三次段考試卷

九年 _____ 班 座號： _____ 姓名： _____

一、單選題(共 53 題，1~6 題 1 分，7~53 題 2 分，總分 100 分)

※【歷史科】第 1-20 題(1~6 題 1 分；7~20 題 2 分)

- 1、右圖為西元十六世紀時，一位波蘭學者提出的「太陽中心說」理論，該理論在當時並未引起太大的注意，一直到若干年後才為人們熱烈討論。請問：上述理論後來經下列何人以望遠鏡驗證，才被視為真理？ (A)笛卡兒 (B)哥白尼 (C)伽利略 (D)克卜勒。「
- 2、當我把所有的思想都視為虛假的時候，我立刻發覺，產生這種思想的『我』也是絕對重要的，因此才注意到『我思故我在』的真理是如此的穩固，如此的確定。因此，我毫不猶豫地接受它，作為我所尋求哲學的第一原理。」請問：講述這段話的人最有可能是下列何者？ (A)培根 (B)笛卡兒 (C)哥白尼 (D)牛頓。
- 3、西元十八世紀的啟蒙運動涵蓋了各個知識領域，如自然科學、政治學、經濟學、文學等。請問：這個運動的重鎮是位於右圖中的哪一個國家，然後開始向外傳播？ (A)甲 (B)乙 (C)丙 (D)丁。
- 4、現今許多民主國家都設有總統（總理）、國會和各級法院，三者的權力相互制衡。這種體制源自下列哪一位西方學者的主張？ (A)洛克 (B)伏爾泰 (C)盧梭 (D)孟德斯鳩。
- 5、歐洲從中世紀演變到近代，除了文化與宗教，在政體上也有重大的變動，使整個歐洲進入一個新的時代。近代歐洲有一句名言「朕即國家」，這句話反映了當時的哪一項政治觀念？ (A)專制王權 (B)民主共和 (C)聯合政府 (D)君主立憲。
- 6、老師講解某位學者的學說：「他主張自由貿易並不需要政府過多的注意與限制，競爭愈為自由與普遍，則愈有利於社會，也能使國家得到充分的發展與繁榮。」老師最可能是介紹下列哪一位學者？ (A)馬克思 (B)孟德斯鳩 (C)亞當斯密 (D)馬基維利。〔100 基測〕
- 7、西元十七世紀英國的資產階級與新貴族決定發動政變，他們與國王長女的丈夫—荷蘭國王商量，希望他能支持此次活動。西元 1688 年荷蘭國王率六百艘軍艦和一萬多名士兵登陸英國，他聲明來到英國的目的是為了保護「新教、自由、財產及自由的議會」，受到許多民眾的歡迎，連國王的軍官都倒戈，英王只得倉皇而逃，國會取得最後的勝利。西元 1689 年此位荷蘭國王被擁護為新任的英王，並簽署一份文件，。請問：這份歷史文件對英國議會政治發展有何重大的意義？ (A)上議院全面掌控國家事務 (B)確立國會是英國最高立法機構 (C)英國出現聯合政府的政治局面 (D)責任內閣制度正式建立。
- 8、在中國清朝末年，也曾推動國體改革運動，即所謂的「立憲運動」，想建立和英國光榮革命後一樣的君主立憲政體。請問：清末的立憲運動與下列哪一場戰爭有關？ (A)鴉片戰爭 (B)中法戰爭 (C)甲午戰爭 (D)日俄戰爭。
- 9、西元 1773 年，殖民地人民化裝成印地安人，將英國東印度公司運來的三百多箱茶葉，傾倒入波士頓港中，此為「波士頓茶葉事件」。請問：此事件的發生是北美十三州老百姓對英國的哪一項政策感到不滿？ (A)禁止出口北美生產的畜牧品 (B)強迫十三州人民入伍服役 (C)徵收新稅以支付英軍軍費 (D)反對北美十三州接受新移民。
- 10、美國的《獨立宣言》中提到：「我們以為這些真理是不證自明的。所有的人生而平等，這是造物者賦予人們的不可讓渡權利，包括生命、自由，以及追求幸福。正是為了護衛這些天賦權利，人們才建造了政府。」根據上文是引用了下列哪一位啟蒙思想家的學說主張？ (A)洛克 (B)伏爾泰 (C)孟德斯鳩 (D)盧梭。
- 11、右圖是西元十九世紀中期的一場戰役的形勢圖；這場戰爭是一場南北的對抗，也是一場工商業和農業之戰。結果，北方贏了南方，南北歸於統一。請問：文中的戰爭是指下列何者？ (A)美國獨立戰爭 (B)波士頓茶葉黨事件 (C)南北戰爭 (D)滑鐵盧戰役。
- 12、拿破崙以軍事力量征服歐洲的大部分地區，但引起各國的反彈。某國考慮自身利益，且對法國的擴張存有強烈的戒心，漸漸不願配合法國的政策。拿破崙在西元 1812 年，率軍遠征該國，但慘遭敗績。請問：造成法國征戰失敗，還成為拿破崙垮臺的關鍵國家，應位於右圖中何處？ (A)甲 (B)乙 (C)丙 (D)丁。
- 13、法國大革命之所以引起歐洲王室不安，各國組成反法聯盟，企圖鎮壓革命，最主要的原因，是法國平民要求的何項主張？ (A)保障人民受教育的權益 (B)確保平民參與國民會議之權利 (C)打擊專制王權、取消教士與貴族的特權 (D)全國團結以因應外敵入侵。
- 14、維也納會議是西元 1814~1815 年時，在奧地利所召開的一次歐洲各國外交會議，會議是由奧國政治家提議和組織的，其目的是重劃戰爭後的歐洲政治地圖。會議由保守人士主導，所採取的是保守正統原則，目的是為謀求歐洲的穩定與和平。請問：文中提到的「奧國政治家」是下列哪一人？ (A)亞當斯密 (B)梅特涅 (C)羅伯斯比 (D)狄德羅。
- 15、承上題，這場會議後法國又發生西元 1830 年的「七月革命」及西元 1848 年的「二月革命」，這兩次革命所帶來的影響為下列何者？ (A)促使各國政府實施憲政體制 (B)增加歐洲各國在海外殖民地面積 (C)專制政體成為其他國家施政主流 (D)恢復各國王室統治權力。



◎請閱讀短文，並回答下列問題：

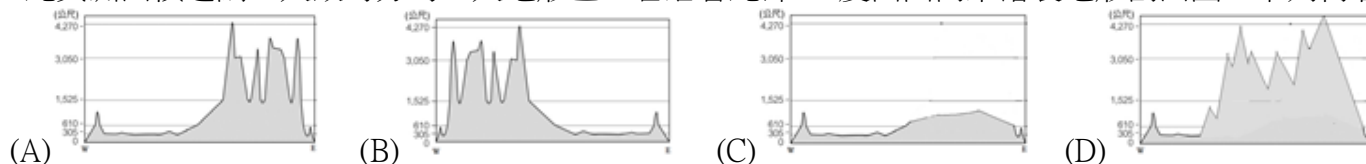
某位西方學者曾認為勞力是價值的泉源，一切財富都是勞力產生。歷史最有決定性的因素，是經濟力量的影響。在現代社會中，產生價值的工人，得不到他們勞動的價值，只得到維持生活的工資。資本家所得的財富，就是剝削工人的剩餘價值。工人困苦，而資本家富裕，是不公平的。

工人資本家的利害衝突，必然引起階級鬥爭。他相信階級鬥爭在每個歷史時期中都有存在，但在西元十九世紀因工廠制度的建立，變成特別的顯著。他相信階級鬥爭的必然性，預言資本主義的階段必然過去，無產階級會起而執政。(資料來源：傅啟學的「世界史綱」，正中書局出版)

- 16、根據上文，「鬥爭理論」、「無產階級執政」等是下列哪一人的主張？ (A)拿破崙 (B)馬克思 (C)伏爾泰 (D)麥哲倫。
- 17、上述文章中提到「工廠制度的建立」和下列哪一歷史事件有關？
(A)宗教改革 (B)啟蒙運動 (C)科學革命 (D)工業革命。
- 18、路易拿破崙在西元 1848 年的二月革命後掌權，主政期間，致力發展工商業，擴張海外殖民地；他曾積極經營亞洲事務，不但派兵侵略東南亞，還發動下列哪一場戰爭，獲取法國在中國的特權？
(A)英法聯軍 (B)甲午戰爭 (C)八國聯軍 (D)鴉片戰爭。
- 19、西元十八世紀時，俄國女王凱薩琳二世與普魯士君主腓特烈二世雖然實施專制統治，但由於受到下列哪一種思潮的影響，標榜宗教寬容、司法改革與推廣教育，因此被稱為開明專制的君主？
(A)文藝復興 (B)科學革命 (C)啟蒙運動 (D)工業革命。
- 20、西元十九世紀時，歐陸各國與美國也加入工業革命的行列。這些工業化國家為了下列哪一項因素，競相向外侵略，導致國際衝突越演越烈？
(A)紓解國內人口的壓力 (B)轉移國內勞資衝突的焦點 (C)誇耀工業化後帶來的財富 (D)獲取更多的原料與市場。

※【地理科】第 21-36 題 (每題 2 分)

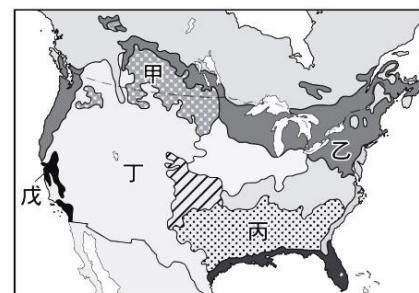
- 21、北美洲面積遼闊，大致可分為三大地形區。若沿著北緯 40 度由西向東繪製地形剖面圖，下列何者正確？



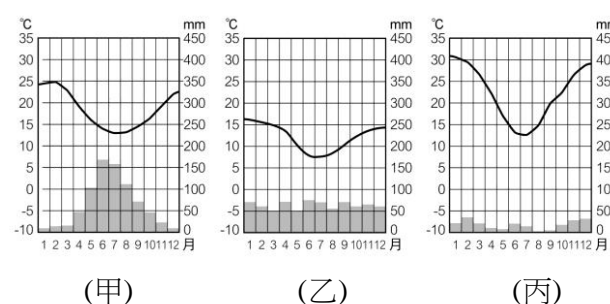
- 22、美國、加拿大與墨西哥於近年來成立何種經濟組織，目的希望透過分工方式結盟，以求工業進一步發展？
(A)ASEAN (B)WWE (C)APEC (D)NAFTA
- 23、美國為世界主要的農業出口國，其低價小麥足以傾銷全球，其所採取的經營方式卻極為粗放、機械化，原因為何？
(A)人均耕地廣大 (B)需求量低 (C)農耕技術不足 (D)土地貧瘠無法負荷集約耕作
- 24、右圖是世界民族電影節在美國某一個城市舉行的宣傳海報，若按照工業類型相關程度來判斷，最可能在哪个城市舉行？
(A)紐約 (B)休士頓 (C)洛杉磯 (D)舊金山
- 25、北美洲的氣候常常發生區域性的災害，下列敘述何者正確？
(A)美國西南太平洋沿岸夏季颶風侵襲事件最常發生
(B)東部阿帕拉契山區在秋冬之際常有龍捲風災害
(C)冬春之際由於北方沙塵隨信風南下，東南沿海會有沙塵暴現象
(D)冬季暴風雪的發生機會頗高，主要發生在北美大平原



- 26、北美洲是湖泊眾多的大陸，尤其五大湖其中之一更是世界最大淡水湖，而湖泊的出現和下列種營力最密切？
(A)冰河 (B)斷層 (C)海浪 (D)火山
- 27、「美國某處大量種植棉花，形成了棉花帶，早期對勞力有強烈需求故贊成蓄養黑奴。」上述所指的農牧區分布於附圖何處？
(A)甲 (B)乙 (C)丙 (D)丁。



- 28、智利國土南北長度超過四千公里，導致其氣候中包含有如附圖的三種類型，若按照南向北的方向將三種氣候排列，何種排序最為正確？
(A)甲→乙→丙 (B)乙→丙→甲 (C)丙→甲→乙 (D)乙→甲→丙



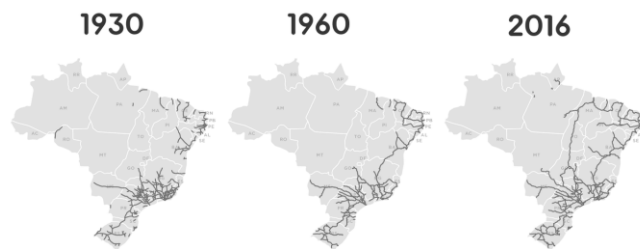
29、右圖為過去的近一世紀之中，巴西境內的鐵路網絡變化，看得出其鐵路的運輸網以逐步向下列哪一地區延伸？

- (A)巴西高原 (B)亞馬孫盆地 (C)巴塔哥尼亞高原 (D)彭巴草原

30、南美洲的溫帶氣候中，獨缺了溫帶大陸性氣候，請問其原因在於？

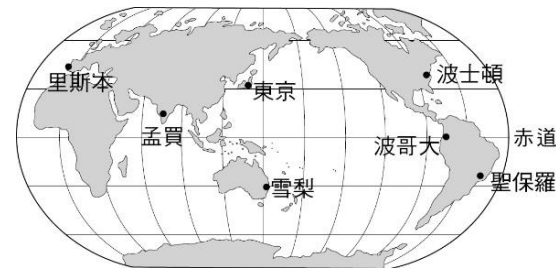
- (A)距海遠近 (B)陸地形狀 (C)緯度高低 (D)洋流性質

BRAZIL RAILWAY SYSTEM



31、阿凱計畫要搭乘花花公子號郵輪環遊右圖中的城市，藉機拜訪他位在當地的女朋友們，而當他在波士頓與女友參觀哈佛大學的同時，波哥大的女友琪琪下最後通牒要求一天內見面，請問心急如焚的俊凱只能將挽回真愛的希望寄託在下列哪一條運河身上？

- (A)巴拿馬運河 (B)京杭大運河 (C)蘇伊士運河 (D)美茵——多瑙運河

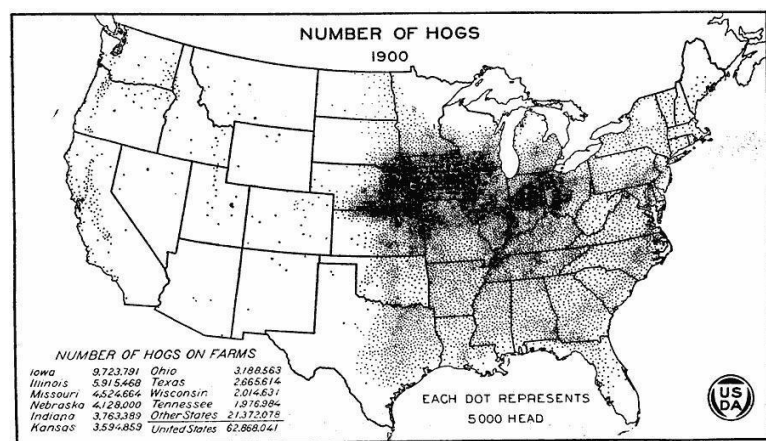


32、右圖為美國豬隻的分布圖，請就圖所顯示分析豬隻集中的原因？

- (A)因為該區飼料充足 (B)因為附近人口稀疏
(C)因為該區氣候乾燥 (D)因為此地交通便利

33、中南美洲許多國家國內經濟不甚穩定，最主要是下列哪項因素所導致？

- (A)缺乏海港而進出口不便 (B)經常有領土糾紛發生
(C)宗教信仰複雜經常鬥爭 (D)輸出產品的類型導致



◎請閱讀短文，並回答下列問題：

「不可能漢堡」是派翠克·布朗推出的植物肉產品。2年後，伊森·布朗也主攻植物肉技術。派翠克一開始就瞄準牛肉漢堡，為的是氣候變遷。只要少吃牛肉，就能減少溫室氣體排放，也能降低土地和水資源的耗費。但在自家農場「雞之國」長大的伊森，則是出於保護動物的立場，在創業3年後，推出沒有雞肉的雞柳條試水溫。為求真實感，伊森用的是甜菜根，讓豌豆蛋白、椰子油等成分流出紫色「肉汁」。派翠克則是以酵母提煉出的血紅素，為小麥蛋白、馬鈴薯蛋白、椰子油加上有「血」的視覺效果。除了技術相異，兩者的策略也大不相同。兩人都大張旗鼓在台灣及亞洲市場佈局，除了美式餐廳 TGI Fridays、摩斯漢堡的料理選用外，冷凍漢堡排也開始在全家便利商店與超市上架，餐點除了西式口味的漢堡，還有用植物肉做成的麻辣乾拌麵，未來還打算研發水餃與燒賣。「剛推出2個月，反應遠遠超過我們意料，因為經常賣到斷貨，」這是植物肉的亞洲代理商負責人所給的評價。

改寫自天下雜誌：真假難辨！從漢堡到水餃、乾拌麵，「植物肉」為何席捲全球？

34、文中所提及的連鎖餐飲大都是從外國引進的品牌，但為了迎合消費者也都做出了口味上的改變，請問這其中隱含的重要意義應該在於？

- (A)文化的強勢併吞 (B)文化的擴散與融合
(C)文化的不斷創新 (D)文化的傳遞與模仿

35、倘若植物肉風靡全球，右圖中哪個美國農業帶勢必遭受衝擊最大？

- (A)甲 (B)丙 (C)丁 (D)己

36、為減緩溫室效應的發酵，除了減少二氧化碳排放外，下列何地的天然植被格外需要被好好保護？

- (A)北美大平原 (B)洛磯山 (C)亞馬孫盆地 (D)彭巴草原



※【公民科】第 37-53 題 (每題 2 分)

37、宇善和建鋒兩人共同出資成立 APP 設計工作室，利用創意發想各種方便的 APP 產品，創造了可觀的利潤。請問宇善和建鋒的工作室應該屬於哪一種企業型態？

- (A)社團 (B)獨資企業 (C)合夥企業 (D)股份有限公司。

38、請判斷下列何者屬於「失業人口」？

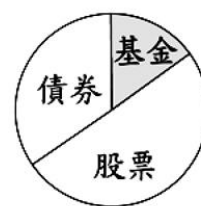
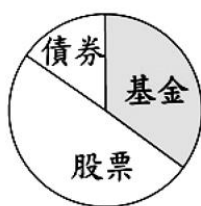
- (A)宅在家當啃老族的阿恒 (B)辭掉工作出國念研究所的柏慈
(C)大學畢業後入伍當兵的小凡 (D)到職業訓練中心學習一技之長的凱凱。

- 39、當勞工面臨失業的情況時，如果想要找尋就業機會，下列哪些是理想的做法？
 ①各縣市就業服務中心請求協助 ②參加職業訓練課程 ③到人力網站獲取求職訊息 ④將積蓄全投入股票市場上
 (A)①② (B)①②③ (C)①②④ (D)①②③④。
- 40、(2019/12/11 奇摩)「美國 Ford 近日就與速食連鎖王國麥當勞展開合作，將一個可能你每天都會喝的「咖啡」變成汽車零件的一部分。福特與麥當勞發現咖啡豆在烘培的過程中自然脫落的穀殼，經過在低氧下加熱至高溫，可以轉化為非常耐用的材質，將其與塑料和其他添加劑混合，可以將其塑型為各種形狀，而這些穀殼複合材質便可用來製成某些車輛零件，像是大燈的外殼、引擎蓋下的部件等皆有，而相較傳統材質，穀殼複合材質製成的零件可減輕約 20% 的重量，並在製程中降低所需的能源達 25%。而麥當勞也正朝著至 2025 年前將包裝材質 100% 使用經認證的再生材質製成作努力。」上述福特與麥當勞公司的做法，符合下列何種概念？
 (A)機會成本 (B)比較利益 (C)永續發展 (D)供需法則。
- 41、晨雅是網拍高手，常將不需要的物品放到網路上做二手拍賣。今日她逛街時買了一件 400 元的裙子(原價 550 元)，但與其他上衣搭配後發現不是很好看，於是在網路上以 500 元賣出，則其投資報酬率為何？
 (A)12.5% (B)25% (C)50% (D)80%。
- 42、對於國中學生而言，若想為家中經濟狀況盡一份心力，下列哪種作法較為恰當？
 (A)購買日常用品，不亂花錢買名牌 (B)借錢給同學並索取高額利息以增加收入
 (C)每天不吃早餐，省下餐費的開銷 (D)到便利商店打工，輪值大夜班當工讀生。
- 43、某媒體常在網站上以虛擬動畫呈現新聞內容，但因表現方式有時過於血腥、暴力，引起輿論譴責。民間團體呼籲該媒體應顧及報導對社會可能產生的負面影響，勿以商業利益為優先考量。上述團體的訴求內容，主要凸顯出下列何項議題的重要性？
 (A)資訊科技的多元發展 (B)社會團體的監督力量 (C)新聞報導的自由程度 (D)傳播媒體的社會責任。【108 會考】
- 44、根據右圖中的對話判斷，兩人所談論的理財工具應為下列何者？
 (A)共同基金 (B)債券 (C)存款 (D)股票。
- 45、我們常看到不管是電視、廣播在播放各種理財廣告時，片尾都會快速的唸著：「投資一定有風險，基金投資有賺有賠，申購前應詳閱公開說明書。」下列對於投資風險的敘述何者理財觀念正確？
 (A)唯有選擇國內的理財機構才會比較安全無風險
 (B)低收入者才需要理財規畫，高收入者才不需要
 (C)投資報酬率與風險呈正向關係，需要謹慎理財
 (D)應把錢集中投資同一項理財工具，才有高獲利。
- 46、甲、乙、丙、丁四人分別進行了一項投資，其投資報酬率如右表所示，若他們各自投資所獲得的利潤皆相同，根據表中內容判斷，何者的投資金額最高？
 (A)甲 (B)乙 (C)丙 (D)丁。【108 會考】



| 投資人 | 投資報酬率 |
|-----|-------|
| 甲 | 10% |
| 乙 | 20% |
| 丙 | 30% |
| 丁 | 40% |

- 47、堪稱 SBL 元老級球員陳世杰，於今年八月正式退出職業球員身份，轉職考上新北南山中學擔任體育教師。事實上，職場上很多人都會面臨到轉職階段，在經濟活動中，將轉換工作時的短暫性失業稱為？(A)摩擦性失業 (B)循環性失業 (C)季節性失業 (D)結構性失業。
- 48、崇育計畫帶全家明年到歐洲自助旅遊，並花了半年時間研究各種不同理財工具。他決定要採取較「積極、高獲利」的方式來賺取旅費，下列何種投資組合符合這個想法？
 (A) (B) (C) (D)



企業在追求利潤最大化的同時，應盡其所能回饋社會，「取之於社會，用之於社會」。透過對消費者、員工、社會三種不同的對象來落實其社會責任。試回答 49-51 題：

- 49、(2019/12/21 中央社)『歲末年終之際，台灣優衣庫有限公司(Uniqlo)秉持著「取之社會、用之社會」的經營理念，在 11 月底捐贈衣物給臺東縣，縣府並交由縣內 4 處社會福利中心及台東家扶中心社工人員發送，計 4,296 位弱勢家戶受惠，社會處表示，企業經營追求營收成長時能善盡社會責任，協助政府推動公益服務，回饋社會、造福群眾，對此深深表達感謝之意。』請問：Uniqlo 公司的作法是為了落實何項社會責任？
 (A)注重員工福利 (B)保障消費權益 (C)重視經濟建設 (D)促進社會公益。
- 50、(2019/12/26 udn)「從台南佳里酪農出身，全台超過 200 家飲料連鎖店的「迷客夏」，今年總部約 90 名員工年終獎金，平均可望達 3 個月，每人約可領到 20 萬元以上；部分高級主管考績佳者，也有人年終獎金可達 5 個月，年終上看 30 萬元以上。」請問：迷客夏公司的作法是為了落實何項社會責任？
 (A)注重員工福利 (B)保障消費權益 (C)重視經濟建設 (D)促進社會公益。

- 51、(2019/12/29 ETtoday)刑事警察局日前發佈數據，2019年1至11月受理解除分期詐騙案高風險賣場前五名依序如右圖，上述公司都存在消費者個資外洩問題，導致民眾接獲假冒客服的詐騙電話導致被騙，警方提出數據統計預警，也希望相關業者改善購物平台資安問題。請問：上述這些公司哪項社會責任需要加強改善？
- (A)注重員工福利 (B)保障消費權益
(C)重視經濟建設 (D)促進社會公益。



【2019/11/30Etoday】根據統計，107年請領失業給付的勞工共有8萬832件，申請提早就業獎助津貼就有3萬1481件，等於近4成的人，未領滿失業給付，就已經重回職場。依「就業保險法」，符合失業給付請領條件者，若在失業給付請領期限屆滿前就再進到職場受雇，並依規定參加就保滿3個月以上，就可以申請5成的未請領失業給付金額，一次發給「提早就業獎助津貼」。以一般勞工為例，失業可以請領6個月失業給付，如果該名勞工月投保薪資為新台幣3萬元，可以領投保薪資6成約1萬8000元的失業給付，若勞工領了2個月後找到工作，符合提早就業津貼領取資格，其提早就業津貼金額為剩餘4個月的1萬8000元總和的50%。

- 52、下列有關我國的「失業給付」敘述何者正確？
- (A)法源依據是《勞動基準法》 (B)給付對象為所有失業的人
(C)給付原則以六個月為限 (D)是提供失業者生活一切所需的費用。
- 53、請問下列何項政府政策可降低失業率？
- (A)延長失業給付月數 (B)提供職業訓練輔導 (C)增加外勞工作機會 (D)降低所得稅的稅率。

試題完成，記得再檢查一遍答案卡與試卷，並務必將自己的答案抄寫於題目卷上，以利試後檢討。