

臺北市立新民國中108學年度 第二學期 八年級社會領域 第二次段考試卷

八年 _____ 班 座號：_____ 姓名：_____

一、單選題(1-54 題，第 1~8 題 1 分；第 9~54 題每題 2 分。)

※【歷史科】第 1-20 題

- 1、清末大臣李鴻章擔任兩廣總督期間，他聽聞當時山東、直隸有某一民間組織興起，並仇殺洋人、焚毀教堂。李鴻章深知如果遵照政府政策放任該組織繼續發展一定會造成很大的損害，因此他在東南各行省違抗中央支持該組織的命令，以為「亂民不可用、邪術不可信」，並在亂事擴大之際發表聲明：「無論北方情形如何，請列國勿進兵長江流域與各省內地；各國人民生命財產，凡在轄區之內者，決依條約保護。」請問：文中的「依條約保護」是依下列哪一條約？ (A)五口通商章程 (B)瑣瑣條約 (C)辛丑條約 (D)東南互保條約。
- 2、承上題，清末百姓仇洋情緒的形成，主要原因為下列何者？ (A)中國百姓對列強的欺壓心懷怨恨 (B)外國傳教士介入宮廷政爭 (C)全國上下皆反對外來文化的傳入 (D)朝中大臣積極採取西化政策。
- 3、從鴉片戰爭到庚子年近一甲子的歲月，中國人飽受洋人凌辱，積憤已深，終於爆發仇洋反教的義和團之亂，卻引來了更大的禍害「八國聯軍」。請問：八國聯軍攻入北京後，慈禧太后與光緒皇帝倉皇出走於右圖中何區？ (A)丙 (B)己 (C)庚 (D)壬。
- 4、八國聯軍後簽訂的《辛丑和約》中影響中國最大的是下列哪一項內容？ (A)喪失內河航行權 (B)巨額賠款與使館區駐兵 (C)改總理衙門為外務部 (D)列強得在通商口岸設廠製造。
- 5、中國隋代創立的科舉制度，實行了一千多年，左右中國讀書人的思想態度甚深。請問：科舉制度於下列何時正式廢除？ (A)自強運動期間 (B)戊戌變法期間 (C)庚子後新政期間 (D)立憲運動期間。
- 6、孫中山領導的革命運動經過十次失敗，最後在下列哪一條條件下，促成了武昌起義的成功？ (A)袁世凱大力的支持 (B)西方各國的經濟援助 (C)清廷主動的讓出政權 (D)各省的積極響應。
- 7、承上題，武昌起義的導火線是下列何者？ (A)光緒、慈禧的相繼過世，使局勢有利於革命黨 (B)清廷鐵路國有政策，引發保路風潮 (C)西方列強保持中立立場，未介入革命運動 (D)康有為、梁啟超成立保皇黨，支持武昌起義。



◎請閱讀短文，並回答第 8~9 題：

立憲運動是清朝政府繼洋務自強運動（1861 年—1895 年）、維新運動（1898 年）之後推動的第三次大型改革，目的在使大清帝國成為君主立憲政體的國家。立憲活動得以展開的一個直接原因是 1905 年的日俄戰爭，日本以君主立憲小國戰勝俄國那樣一個專制大國，給清廷上下以很大震動。

清廷遂於 1905 年派載澤、端方等五大臣出洋考察。次年，五大臣先後回國，上書指出立憲有三大利：「一曰皇位永固，二曰外患漸輕，三曰內亂可弭」。1906 年（光緒三十二年），清廷頒發了《宣示預備立憲諭》，開啟了「預備立憲」。

響應立憲派要求進一步實施憲政的訴求，清廷於 1908 年，頒布了《欽定憲法大綱》，規定大清皇帝的統治「萬世一系」，是至高無上、神聖不可侵犯的，一切頒行法律、召集開閉解散議院、設官制祿、統率海陸軍、宣戰媾和、訂立條約、宣布戒嚴、司法等大權，全在君主一人手中。

1911 年，載灃宣布清廷中央成立第一屆責任內閣，內閣閣員共 13 人，其中滿族貴族 9 人（皇族又占 5 人）。因此，這個清廷內閣又被稱為「皇族內閣」。清廷在國家生死存亡之際，仍死抱著國家軍政大權不放，最終在辛亥革命的浪潮中，清朝如同一株已經千瘡百孔的朽木一樣，頃刻之間就轟然倒下。

(資料來源：維基百科與每日頭條，原文網址：<https://kknews.cc/history/km9ov9q.html>)

- 8、上述文章中導致清廷實施立憲運動的日俄戰爭爆發時，清廷被迫宣布中立，甚至必須為這場戰爭專門畫出了一塊區域，供日、俄兩國交戰。請問：根據同學先前所學去推斷日俄戰是為了爭奪右圖哪一區而爆發？ (A)甲 (B)丙 (C)己 (D)庚。
- 9、根據上述文章判斷立憲運動是屬於哪一個層次的改革？ (A)器物層次 (B)制度層次 (C)文化層次 (D)思想層次。
- 10、西元 1912 年，中華民國臨時政府於南京正式成立，成功結束影響中國兩千多年的君主政體，而當時滿清政權的處境為下列何者？ (A)隨革命的成功全面瓦解 (B)仍掌控北方部分省分 (C)得到日本支持另立政權 (D)退守東北進行反攻。
- 11、學者梁啟超有篇文章說：「自國體問題發生以來，所謂討論者，皆袁氏自討自論；所謂贊成者，皆袁氏自贊自成；所謂請願者，皆袁氏自請自願；所謂表決者，皆袁氏自表自決；所謂推戴者，皆袁氏自推自戴。」請問：梁啟超此文的目的是為了批判下列何事？ (A)軍閥亂政 (B)二次革命 (C)洪憲帝制 (D)護法運動。
- 12、從民國元年 2 月到 5 月，歷時 105 天，中國政府與日方談判多次。在談判中，中國代表對日本的「二十一條要求」有所



抵制，除了拖延外並向外透露日本之無理要求，以期國際社會干涉和國內民眾輿論討伐日本。日本執意對中國提出「二十一條要求」的真正目的為下列何者？ (A)想協助中國對抗西方列強 (B)企圖讓西方列強知道日本的國力 (C)企圖藉此干涉中國的內政 (D)想阻止俄國瓜分東北資源。

13、自隋唐時期實施科舉考試制度，歷經一千多年之後，由於主、客觀因素的影響終於廢除。從此士人不再競逐於科場及功名，這對當時的社會造成何種直接的影響？ (A)學校數量減少，留學風氣漸盛行 (B)冗官數量銳減，政府效能提升 (C)工人人數增加，工商階級抬頭 (D)傳統士紳沒落，新知識分子崛起。〔91 基測〕

14、民國初年軍閥割據期間，政治上的衝突多訴諸武力解決，這種政治現象和下列中國歷史上哪一個朝代的動亂情況相類似？ (A)秦代 (B)唐代 (C)宋代 (D)明代。

15、右圖是民國初年軍閥主要派系割據勢力圖，奉系的根據地是位於圖中的哪一區？ (A)甲 (B)乙 (C)丙 (D)丁。

16、承上題，民國初年，軍閥往往依附列強，擴張武力，爭奪地盤。請問：奉系則是依附下列哪一列強？ (A)日本 (B)英國 (C)俄國 (D)荷蘭。

17、民國六年到十七年間，孫中山在廣州成立中華民國軍政府，此後中國陷入南北分裂的局面，造成這種現象的主要原因為下列何者？ (A)因為北洋軍閥與南方軍閥相互對抗 (B)因為曹錕賄選國會議員當上總統 (C)因為段祺瑞毀棄臨時約法與原有的國會 (D)因為張勳乘機擁立退位皇帝溥儀復辟。



◎請閱讀短文，並回答第 18~20 題：

西元 1915 年 9 月，陳獨秀在上海創辦了《青年雜誌》，西元 1916 年起改名《新青年》，介紹西方文化，批評傳統，揭開了新文化運動的序幕。當時年的胡適和魯迅都是推動新文化運動的要角，除了透過新青年雜誌攻擊傳統文化外，也積極提倡「德先生」與「賽先生」等新思潮，不再獨尊儒家思想，使得民初的學術思想呈現百家爭鳴的局面。新文化運動的倡導者們主張個性解放，反對封建倫理道德。新文化運動的另一個重要內容是提倡白話文，反對文言文；提倡新文學，反對舊文學。

西元 1919 年第一次世界大戰的戰勝國在巴黎召開和會。中國是戰勝國之一，派出了陸徵祥、王正廷和顧維鈞等 5 人組成的代表團出席巴黎和會，在全國人民輿論的壓力下，中國代表團向和會提出了幾項合情合理的正當要求：(1)廢除勢力範圍，撤銷領事裁判權，歸還租界，關稅自主；(2)取消日本帝國主義同袁世凱訂立的企圖滅亡中國的二十一條條例；(3)歸還在第一次世界大戰期間被日本搶佔的德國在山東侵佔的各項權益，將膠州灣租界地、膠濟鐵路及其他權益直接歸還中國，但是，操縱巴黎和會的列強拒絕中國提出的維護國家領土主權的正義要求。

消息傳到國內，群情激憤。5 月 4 日下午，北京大學等 13 所大專學校 3000 多人在天安門前集會，隨後舉行示威遊行，他們高呼『還我青島』、『收回山東主權』、『取消二十一條』、『外爭國權，內懲國賊』等口號，要求拒絕在和約上簽字。學生愛國運動的烈火迅速燃遍全國，發展成為全國性的反帝制愛國運動。在這種情況下，中國代表團沒有出席巴黎和會在 28 日舉行的和約簽字儀式，至此，五四運動所提出的目標基本得到實現。

(資料來源:唐人街號外《昔日頭條》，原文網址：<http://newschinateown.com/2009-03-06-04-12-13/1362-2011-05-04-21-47-52.html>)

18、根據上述文章判斷，民國初年，陳德秀與胡適等知識分子推動新文化運動的主要精神為下列哪一選項？ (A)推翻舊倫理和舊道德，效法西方的民主與科學精神 (B)改革舊有專制政治，提倡君主立憲實施國會民主 (C)以儒家思想為指導，酌量採用西方體制與科技 (D)廣泛閱讀西方文學著作，飲食起居全面採西式作風。〔93 基測〕

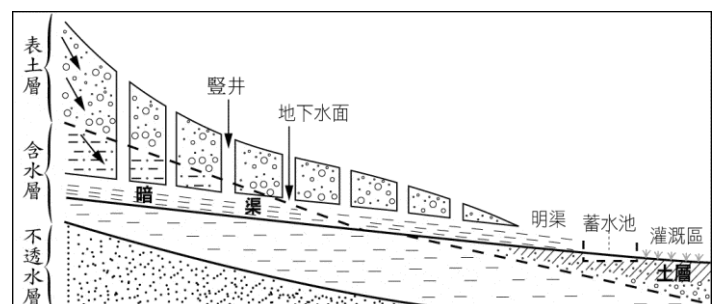
19、上述文章中的「德先生」和「賽先生」各是指以下何者？ (A)民族、倫理 (B)平等、生命 (C)博愛、自由 (D)民主、科學。

20、根據上述文章判斷，下列哪一選項比較接近五四運動對中國的影響？ (A)加深民眾尋求國家自立圖強的意識 (B)中國又被迫簽訂不平等條約 (C)促使列強歸還在中國的租借地 (D)刺激新文化運動的蓬勃發展。

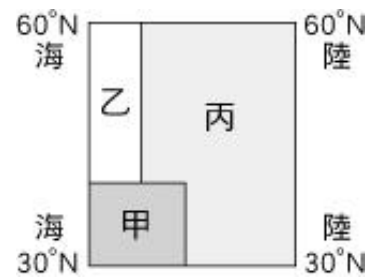
※【地理科】第 21-37 題

21、右圖是坎兒井示意圖，此因應環境的灌溉系統主要功能為何？其中哪一個構造與其功能關係最重大？

- (A)減少蒸發；豎井 (B)減少蒸發；暗渠
(C)增加降水；明渠 (D)增加降水；暗渠



22、右圖是溫帶主要的三種氣候分布示意圖，下列哪一個代號的特徵可以夏乾冬雨來形容？
 (A)甲 (B)乙 (C)丙 (D)以上皆非。



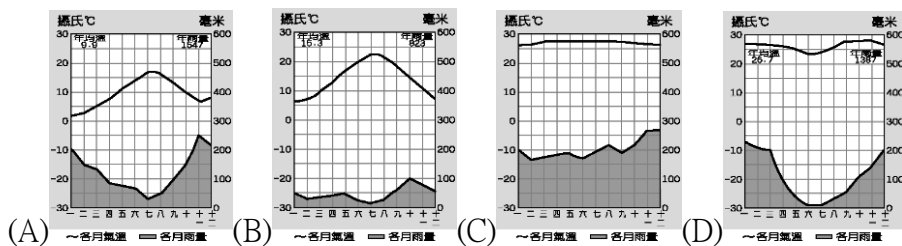
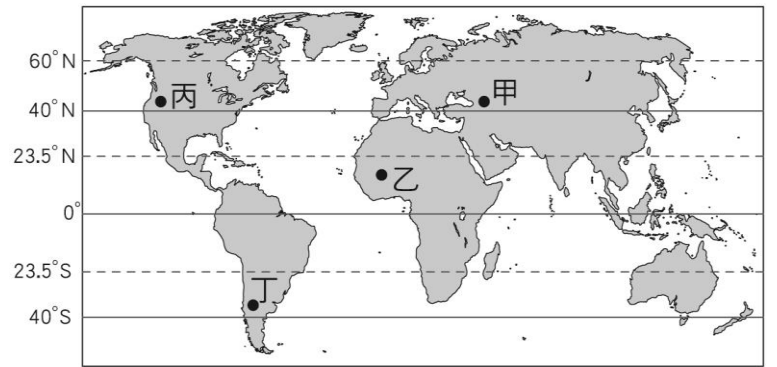
23、啟傑是一個虔誠的印度教徒，若要帶他去體驗美食，下列哪一道菜會讓啟傑與你翻臉絕交？
 (A)羊肉爐 (B)滷肉飯 (C)沙茶牛肉 (D)三杯雞。

24、西元 2000 年中國開始推動的「西部大開發」政策中，四大重點工程專案包括下列哪項河者？
 (A)青藏鐵路修築 (B)京杭大運河整修 (C)哈大鐵路興建 (D)上海港擴建。

25、河套平原氣候乾燥，卻有塞上江南美稱，主要與下列哪項因素有密切的關係？
 (A)土壤肥沃 (B)灌溉發達 (C)農業技術 (D)地下水豐厚。

26、溫帶海洋性氣候最可能出現在右圖甲、乙、丙、丁中的哪個地區？
 (A)丁 (B)甲 (C)乙 (D)丙。

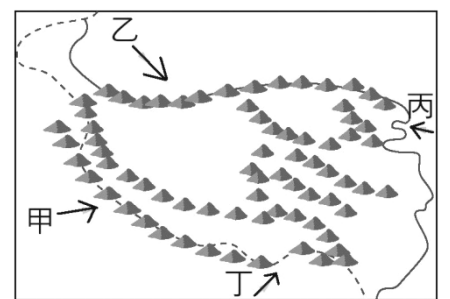
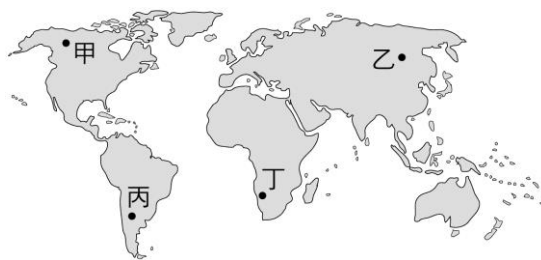
27、赤道地區一年之中每天的天氣變化幾乎都有固定模式：「上午晴，午後雷雨後再轉晴。」請問該地區的氣候圖應為下列何者？



28、新疆產的瓜果特別香甜，哈密瓜甜度與甘蔗相仿，更因而得到瓜果之鄉美名，導致這種現象主要與何項環境因素有關？
 (A)日夜溫差大 (B)品種改良 (C)環境零污染 (D)農耕技術極佳

29、西藏某地區夏季因降水量較多，利於農業發展，而其水氣的來源是右圖中哪個風向？而又是從哪片海洋所帶來的水氣？
 (A)甲；太平洋 (B)乙；印度洋 (C)丙；太平洋 (D)丁；印度洋。

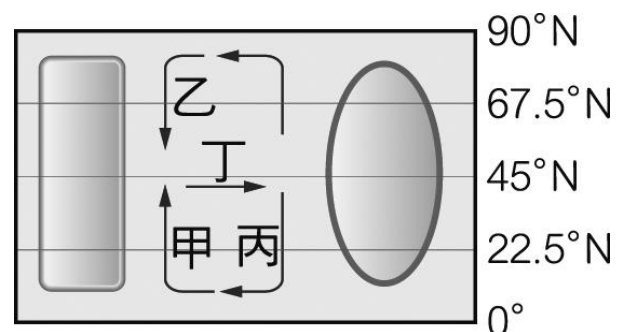
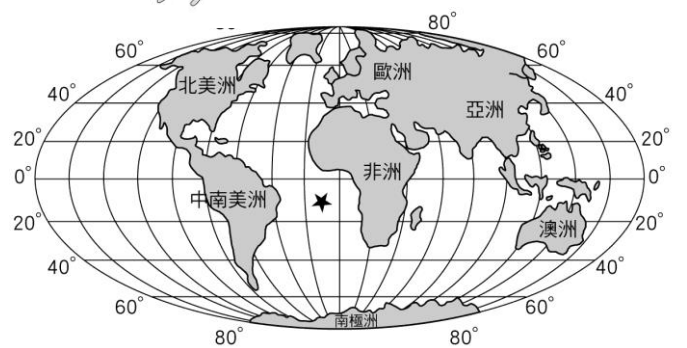
30、目前全球人口數已突破 77 億，其中又以右圖中哪兩洲的人口成長速度最快？
 (A)甲乙 (B)乙丙 (C)乙丁 (D)丁丙。



31、右圖為世界全圖。右圖中打上「★」的海域名稱是什麼？
 (A)太平洋 (B)印度洋 (C)大西洋 (D)北極海。

32、下列哪一種再生能源最不適在西部地區被開發？
 (A)風力 (B)潮汐 (C)地熱 (D)太陽能

33、右圖為洋流示意圖，圖中甲、乙、丙、丁四股洋流，哪道洋流是屬於暖流性質？
 (A)甲 (B)乙 (C)丙 (D)丁



34、中國西部地區少數民族多元，單就宗教而言下列哪兩族的生活、習俗皆受到古蘭經規範及指引？(甲)蒙古族 (乙)回族 (丙)維吾爾族 (丁)藏族
 (A)甲乙 (B)乙丙 (C)甲丙 (D)乙丁。

◎請閱讀短文，並回答下列問題：

氣候學家們透過數據檢測發現，在大多數年份裡，當中國出現季節性乾旱或水資源過剩時，下游的 5 個國家：緬甸、泰國、寮國、柬埔寨和越南都會跟著受到影響，出現乾旱或洪水的情形。但是，氣候學家在去年的雨季卻發現新的變化「當中國水資源高於平均時，下游國家卻發生乾旱」，讓漁民原本該豐收的季節，河流卻呈現乾涸、龜裂及河床曝露；泰國和寮國邊界的水位甚至比平常降低 3 公尺。氣候學家計算「中國的水壩阻礙了 410 英尺以上的河流」。湄公河是下游國家居民的生命線，但在中國是穿流於狹窄的峽谷之間，因此除了水力發電以外，難以從事其他經濟活動，該河在中國的部分目前被 11 個水壩控制流量，其所生產的電力遠超過當地需求。

改寫自:鏡週刊/中國築 11 個水壩截斷 泰國湄公河「水位降 3 公尺」爆乾旱

35、右圖為以亞洲重要河流，如黃河、長江、湄公河等的發源地為主題之地圖，請問就圖中所提供的資訊，可以判斷出其發源地為何處？

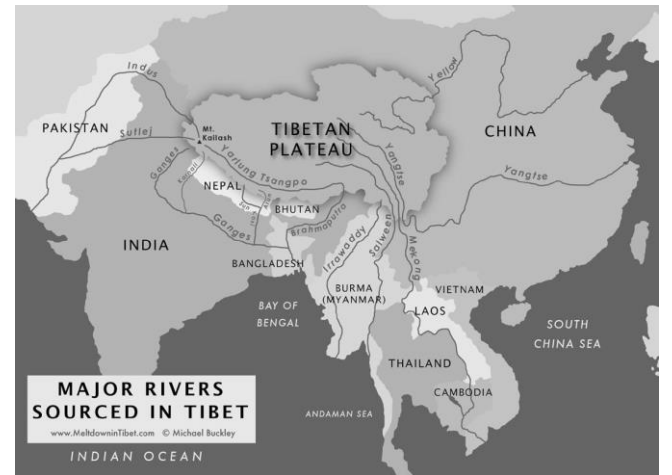
- (A)內蒙古高原 (B)雲貴高原 (C)華北平原 (D)青藏高原

36、承上題，既然發源與此地即代表這些河流最初的水源主要是來自於？

- (A)淡水湖 (B)鹹水湖 (C)融雪 (D)降雨。

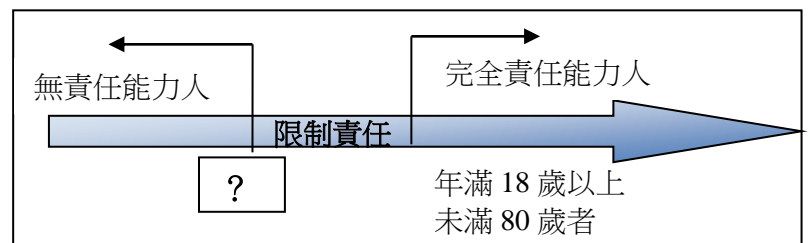
37、根據文章，湄公河發電量遠超過當地需求，但中國仍堅持持續發電，請問此舉與下列何項政策最可能有關係？

- (A)西電東送 (B)西氣東輸 (C)南水北調 (D)築青藏鐵路



※【公民科】第 38-54 題

38、依據我國相關法律規定，右圖「？」部分是指下列哪一個年齡？(A)7 歲 (B)12 歲 (C)14 歲 (D)18 歲。



39、依我國《民法》規定，滿幾歲為成年人？ (A)7 歲 (B)14 歲 (C)18 歲 (D)20 歲。

40、有關「繼承」的相關敘述，以下何者**正確**？ (A)現行法定繼承制度採取「限定繼承」原則 (B)屬於《民法》上的財產關係 (C)如果不願意繼承，可在被繼承人過世之時起 3 個月內聲請 (D)聲請對象為戶政事務所。

41、我國規定，行政機關可本於職權對違法者開罰。下列哪一種處罰方式屬於行政機關的職權？

- (A)處 20 天拘役 (B)要求損害賠償 (C)科以罰金 1 萬元 (D)勒令業者歇業。

42、關於《民法》規定，下列何種行為具有法律效力？

- (A)滿 5 歲的啟傑到玩具店買神奇寶貝卡 (B)剛滿 15 歲的鈺臻領取學校發放獎學金
(C)17 歲的家軒到刺青店請師傅刺青在背上 (D)滿 19 歲的思桐不顧父母反對申請信用卡。

43、17 歲阿杰無照駕駛、違規闖紅燈並撞傷摩托車騎士，警察隨即到場並開單處罰，事後雙方和解不成，遭被害人告上法院。右表是阿杰此次事故所支出的費用，其中屬於「**行政責任**」的部分是多少元？ (A)18,000 (B)30,000 (C)48,000 (D)70,000。

項目	金額(元)
地方法院易科罰金	30,000
賠償醫藥費	50,000
違反交通規則罰鍰	18,000
修復損傷之汽機車	20,000

44、(2019/10 蘋果)新聞報導：彰化市某社區管理委員會林姓主委因為與吳姓住戶發生衝突，對其飆罵「俗辣就是俗辣啊」，吳男氣得對林男提「公然侮辱罪」告訴，外帶要求賠償十萬元，法院判處林男拘役三十日，可易科(甲)，另還得賠償吳男六千元。根據新聞的敘述，何者正確？ (A) (甲)為罰鍰 (B)被告只需負擔「刑事責任」 (C)被告要負的法律責任有「刑事責任」與「民事責任」 (D)被告要負的法律責任與警察開罰的責任是相同的。

45、根據右圖兩人對話，依據所學，判斷出下列敘述何者正確？

- (A)必須要有書面才能成立契約 (B)即使口頭也已成立借貸契約關係 (C)兩人的糾紛主要屬於刑法上財產關係的爭議 (D)此件糾紛，可以請求法官求處刑罰。



46、(2020/4 上報)據報導：高等法院日前二審宣判，魏揚等 7 人因在太陽花學運中觸犯《刑法》煽惑罪，分別遭判刑。理由中指出，所謂「公民不服從」僅止於學理上的討論，台灣法律並無此概念，法官判決只能依據法律不能造法，無法用公民抗爭判決無罪。

請問：底線部分強調的《刑法》的哪一項重要原則？

- (A)誠實信用 (B)契約自由 (C)責任能力 (D)罪刑法定。

47、右列是阿平上課報告時所舉的例子，根據其內容判斷，下列何者最可能是該報告的主題？(A)政府可透過刑事處罰減少犯罪事件 (B)政府可藉由行政處分處理外部效果 (C)政府可制定民事法規解決民事糾紛 (D)政府可修改相關法規增加國家稅收。【104 會考】

- 汽車駕駛人於開車時，使用手持式行動電話進行撥接或通話者，處新臺幣 3,000 元罰款。
- 不良場所業者應拒絕兒童及少年進入，違者將被主管機關處以罰款，並公告負責人姓名。

48、(2020/1 聯合)新聞報導：「新北市陳姓女子與鄭姓男子有金錢糾紛，3 年前發生一連串的爭吵衝突，最後在泰山區一處停車場內持刀刺中鄭男頸部，傷及靜脈，導致對方最後因失血過多死亡，新北地檢署去年依殺人罪起訴陳女，新北法院審理認為陳女當時生命面臨威脅，抓起車上的藍波刀來保護自己是必要防衛手段，且是在雙方爭搶刀子的過程中，才會刺中鄭男，並非蓄意，雖持刀刺死鄭男，屬「□□」，日前判決無罪，全案仍可上訴。」從報導中，可判斷出法院認為陳女符合下列什麼行為，而判決無罪？(A)緊急避難的行為(B)正當防衛的行為(C)依照法令的行為(D)業務上的正當行為。

49、2020 年 1 月 1 日始，基本工資為月薪新臺幣 23800 元、時薪新臺幣 158 元，我國基於勞資關係上的不對等和社會經濟情勢，恐將造成不公平的過低工資，透過政府介入勞雇雙方工資的決定。因此《勞動基準法》第 21 條規定，工資由勞雇雙方議定之，但不得低於基本工資。請問：上述規定，是對《民法》哪一項原則的限制？(A)契約自由 (B)時效消滅 (C)權力濫用禁止 (D)誠實信用。

50、新冠肺炎疫情爆發後，我國在防疫工作過程中，出現了一些社會亂象，如捏造確診病例、臥室等謠言。因此我國政府透過各種傳播媒體來宣導並提醒民眾切勿散播疫情謠言(甲)，根據《傳染病防治法》第 63 條規定，散播有關傳染病流行疫情之謠言或不實訊息，足生損害於公眾或他人者，可處新臺幣 3 百萬以下罰金。根據上文判斷，散播疫情謠言或不實訊息者，在我國所須承擔的法律責任與下列何者相似？(A)向同學借了 200 元卻遲遲沒有歸還 (B)因為害怕上學遲到連闖好幾個紅燈 (C)因為好奇吸毒與協助販賣毒品被捕 (D)不小心弄壞了向同學借來的自行車。



51、承上題，文中的底線部分(甲)得知，政府在防疫期間是限制《憲法》所保障的何種權利？(A)自由權 (B)平等權 (C)受益權 (D)參政權。

52、下表有關《民法》與《刑法》的差異，下列何者正確？

	民法	刑法
(A)負完全法律責任	18 歲	20 歲
(B)處罰	以徒刑為主	以金錢賠償為主
(C)規範內容	身分或財產上權利義務關係	犯罪行為
(D)規範行為舉例	恐嚇取財	財產繼承

①【新聞閱讀題】

從以下兩則新聞內文，依據所學判斷，填入正確的法律責任：(A)刑事責任 (B)民事責任 (C)行政責任

53、(2020/4 自由)我國防疫超前部署，對違反居家檢疫者裁罰不手軟，截至昨日，各縣市政府衛生機關共開出 514 張罰單，其中十張為百萬罰單，國庫目前進帳 1 千 6 百 44 萬餘元，還有近 5 千萬元待收。

54、(2020/2 TVBS)蕭姓國中生不滿畢業紀念冊上自己的照片旁被註記「激進份子&各科老師的專屬畫工」，認為自己名譽受損以及對方侵權，憤而對編輯的同學、導師及學校提出求償 10 萬元，台北地方法院認為求償無理由，判蕭姓學生敗訴，同學、導師與學校均免賠，全案可上訴。

試題完成，記得再檢查一遍答案卡與試卷，並務必將自己的答案抄寫於題目卷上，以利試後檢討。