

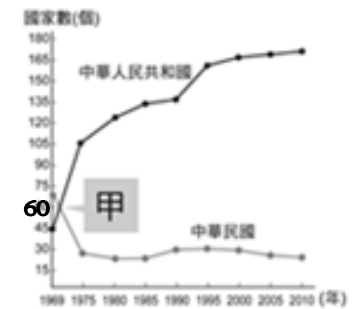
臺北市立新民國中108學年度 第二學期 七年級社會領域 第三次段考試卷

七年 _____ 班 座號：_____ 姓名：_____

一、單選題(題每題 2 分，總分 100 分)

※【歷史科】第 1-17 題

- 由右圖早期的金門婦女公約判斷，當時臺海兩岸最有可能正處於下列哪一種階段？
(A)軍事對峙階段 (B)政治對抗階段 (C)民間交流階段 (D)政府合作階段。
- 1950 年韓戰爆發，美國政府提供臺灣軍事及經濟援助，對當時物資匱乏，資金短缺的臺灣而言，無疑是一場及時雨。美國當時援助臺灣的根本原因最可能是下列何者？
(A)支援對抗日本的盟國 (B)圍堵共產勢力的擴張
(C)轉移經濟大恐慌的焦點 (D)防範法西斯主義的蔓延。【100 基測】
- 近年來，海峽兩岸的人民雖然已從隔絕走向交流，但中共方面依然不放棄武力犯臺的主張，這是因中共將兩岸問題定位為下列何者？
(A)國際問題 (B)外交問題 (C)交通問題 (D)內政問題。
- 右表是中華民國與中華人民共和國邦交國變化曲線表，表中兩條曲線相交的甲，發生了下列哪一歷史事件，此事件的發生使臺灣的外交關係日益艱困？
(A)臺灣與日本斷交 (B)臺灣解除戒嚴 (C)臺灣退出聯合國 (D)臺灣加入國際貿易組織。
- 中華人民共和國與美國建交後，對臺灣改採「一國兩制」等策略，中國提出此主張的真正的用意為下列哪一選項？ (A)在一個中國的前提下，中國與臺灣各自為主權獨立的政治實體
(B)臺灣與中國共同組成聯邦體制的國家 (C)海峽對岸願意放棄共產主義，實施符合人民意願的民主政治 (D)臺灣跟香港一樣，成為與中國不同制度的特別行政區。
- 近年來，政府更積極推動「新南向政策」，希望藉此開創外交新局。下列關於「新南向政策」的敘述何者為是？
(A)新南向政策的範圍僅針對東南亞地區 (B)希望能開創臺灣與東南亞、南亞、紐澳地區資源共享
(C)此政策著重在與印度經貿方面的互惠關係 (D)政府主要想推動與當地邦交國間的文化交流。
- 國民政府遷臺初期，兩岸之間關係緊張，中共屢次對臺灣發動軍事攻擊，如民國 38 年爆發的古寧頭戰役，位於右圖的哪一個地方？ (A)甲 (B)乙 (C)丙 (D)丁。
- 政府實施小三通後，開放右圖哪些地方與中國東南沿海城市交流？
(A)甲乙丙 (B)乙丙丁 (C)甲丙丁 (D)甲乙丁。



◎請閱讀下列短文，並回答第 9~10 題：

十大建設是指中華民國政府於民國 60 年代，由時任行政院長蔣經國提出，為了改善基礎設施及產業升級進行的一系列國家級基礎建設工程，總共分為十大項目(請見右圖)。這些計畫帶領臺灣走出全球性的經濟衰退，加速經濟及社會的發展，並對臺灣經濟起飛有巨大的貢獻……長期而言，其創備現代化的交通設施，提供充裕的電力，改善臺灣的投資環境，鋼鐵、造船及石化重工業則提高原料的自給程度，降低對外依賴程度，成為工業轉型的基礎，並加速中下游產業發展，促進臺灣經濟之策略性產業的發展及工業之全面升級。

(資料來源：維基百科)



- 民國 60 年代政府推動的十大建設，為當時的臺灣社會創造了許多的就業機會，進而帶動國內景氣的復甦，根據十大建設分布圖所示，十大建設的重化工業主要分布在下列何地？ (A)苗栗 (B)臺中 (C)高雄 (D)臺東。
- 根據十大建設分布圖所示，政府所推動十大建設計畫的內容主要偏重在下列哪一方面的建設？
(A)能源 (B)交通 (C)石化 (D)科技。
- 宜蘭縣羅東林業文化園區，前身為日治時期太平山林場。現今設有羅東自然教育中心，並將昔日辦公廳、員工宿舍、運載機具與貯木池等歷史建築登錄為文化資產，假日吸引不少人潮前往參觀遊憩。從以上敘述可知，政府如何解決現今臺灣林業衰微的問題？ (A)號召專業人才 (B)結合農產銷售 (C)加強產業升級 (D)整合觀光資源。
- 民國 80 年代起，我國積極參與「世界貿易組織」(WTO)，雖會面臨國際性的衝擊，但卻有助於達成下列何項政策目標？
(A)使臺灣的貿易市場朝向自由化和國際化目標邁進 (B)縮短貧富差距，實現均富理想
(C)減少經濟波動，穩定物價 (D)增進經濟效率，提高國民所得。
- 右表是民國 37、38、42、52 年四個年度的臺灣佃農每年每公頃收益統計，表中的數字演變反映了政府陸續推動下列哪一項政策，使得農業生產提高，改善了農民生活？
(A)國民政府遷臺後推動的土地改革 (B)政府以公有地賠償白色恐怖時期的受難者
(C)政府每年補助農民購買土地的資金 (D)臺灣光復後，政府今私人土地歸還人民。

年代	佃農稻穀收益數
民國 37 年	1,947 公斤
民國 38 年	2,788 公斤
民國 42 年	3,991 公斤
民國 52 年	6,925 公斤

14、右圖是民國五十年代時，我國所外銷的家電和日常用品。這個時期的海外貿易之所以興盛的原因，與政府當時採取下列哪一項經濟政策有關？

(A)進口替代 (B)出口導向 (C)產業升級 (D)貿易自由化。



15、近年來，除了中國和東南亞等地的婦女嫁到臺灣者日漸增多外，尚有為數不少的外籍移工來臺工作。我們面對這些臺灣的「新住民」，應該抱持著下列哪一種態度？

(A)疏離這群新住民，保存本土文化優勢 (B)忽視他們的存在，任期自生自滅
(C)強迫他們入境隨俗，全盤接受臺灣文化 (D)以開放的態度，接納他們，且尊重他們的文化。

16、民國 60 年代，臺灣遭遇一連串內政與外交的挑戰，有一些知識分子對於自身生長的环境，做出下列哪一種回應？

(A)主張全盤學習西方文化 (B)回歸儒家傳統價值觀 (C)關懷臺灣本土社會文化 (D)朝一個中國的方向發展。

17、現今的臺灣社會中，有族群為了自身權益走上街頭，發起許多社會運動，例如：正名遊行、廢核遊行、同志遊行、教改遊行等等。請問：現代社會運動蓬勃發展的原因，與下列哪一項政策最為相關？

(A)政府退出聯合國 (B)政府解除戒嚴 (C)政府終止動員戡亂 (D)政府推動經濟計畫。

※【地理科】第 18-33 題

18、現代的设计公司能夠將设计藍圖在地球各地區的分公司中互相傳遞，讓工作進度不會隨著地球轉動而停擺，進而在不浪費絲毫下班時間的情況下完成，但此種方是最可能需要哪一種高效率的交通方式配合？

(A)空運 (B)陸運 (C)海運 (D)網際網路。

19、台灣某個地區以讓外地觀光客來到臺灣後山時能放慢腳步，用心體會周遭純淨的自然美景為號召來推動觀光，請問最可能為臺灣哪個區域的施政報告？

(A)金馬地區 (B)中部區域 (C)南部區域 (D)東部區域。

20、鈺淳打算坐火車來趟 2020 龍舟競賽之旅，如果從臺北出發，想先去嘉義品嚐美食，最後以宜蘭龍舟錦標賽為目的地，在不回頭乘車的前提下，依據右圖鈺淳所需搭乘的鐵路幹線代號排序與名稱配對下列何者正確？

(A)乙縱貫線→丙北迴線→甲宜蘭線→丁南迴線
(B)乙縱貫線→戊屏東線→丁南迴線→甲花東線→丙北迴線
(C)乙縱貫線→戊屏東線→丁南迴線→甲花東線→丙宜蘭線
(D)戊南迴線→丁屏東線→甲花東線→丙宜蘭線。



21、台灣的某個地區目前已成為台灣花卉、蔬菜等高經濟價值作物的重要產區，同時，近年來為了發展地方經濟，在本區中設立離島式基礎工業區。請問上文所描述的是下列哪個區域？

(A)北部 (B)中部 (C)南部 (D)東部。

22、以下何種環境因素較易出現「集村」景觀？

(A)水源充沛的地方 (B)治安穩定地區 (C)丘陵廣布地區 (D)開墾制度規範。

23、由右圖可知交通工具的革新使兩地間的旅運時間縮短，彷彿實際距離也縮減了，此現象稱為什麼？

(A)時空收斂 (B)都市更新 (C)郊區化 (D)距離擴張。

24、下列何者是臺灣最重要的門戶，也是臺灣運輸量最大的機場？

(A)桃園機場 (B)花蓮機場 (C)小港機場 (D)南竿機場。

25、下列關於福爾摩沙高速公路的敘述，何者正確？

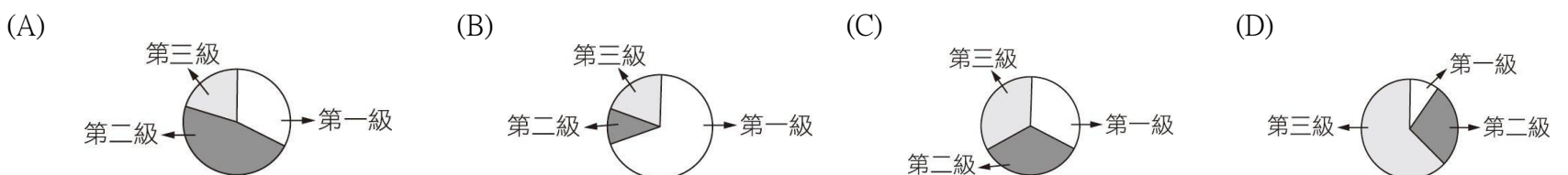
(A)又稱二高，國道編號 2 號 (B)本名為中山高速公路
(C)縮短臺北到高雄的行程時間 (D)聯繫蘭陽平原和臺北盆地。



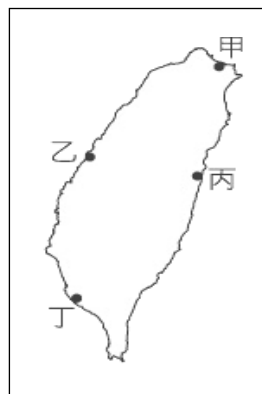
26.下列哪種交通工具主要功能在於都會區內部的交流，並非大範圍的串聯各個縣市？

(A)高速公路 (B)鐵路 (C)捷運 (D)省道。

27、下列為四個地區的三級產業比例圖，何者的都市化程度可能最高？



- 28、「目前臺灣的國際港中，它的運輸量首屈一指，甚至名列世界前 20 大港之一，雖然地形影響，其並非是天然的良港，但於清朝時早已是地方重要港口，日治時更加以擴建強化，如今擴建工程亦不間斷。」請問上文所述最可能是右圖哪個港口？(A)甲 (B)丁 (C)丙 (D)乙。
- 29、台北市 30 年以上的老房子超過 50 萬戶，佔台北市建築物的六成以，同時因年代久遠，有著防災設計規劃不良或是耐震防火不佳等問題，請問下列哪一下政策最能夠改善這樣的情況？
(A)加強演練 (B)都市更新 (C)廣泛宣導 (D)強制遷移。
- 30、都會區超商 24 小時經營，密集程度可以用五步一家來形容，但在台東、苗栗等縣市至今仍有不少鄉鎮是一家超商都沒有，請問這樣的現象最適合用下列哪句話來解釋？
(A)本島與離島發展差異 (B)東部與西部發展差異
(C)都市與鄉村發展差異 (D)沿海與內陸發展差異。
- 31、右圖為臺灣區域劃分圖，請問圖中哪個區域的人口稠密，經濟發展程度極高，為臺灣的政治及經濟中心？(A)甲 (B)乙 (C)丙 (D)丁。



◎請閱讀短文，並回答下列問題：

為解決縣內醫療資源不足且分配不均困境，臺東縣今年首創於 11 個鄉鎮衛生所建置遠距醫療照護系統，與醫學中心專科醫師進行遠距視訊診療，今(11)日辦理「5G 遠距看診零距離」啟動滿月記者會，分享執行成果。縣長饒慶鈴表示，臺東縣佔臺灣總面積的十分之一，卻只有 1 家區域醫院、6 家地區醫院，且多集中在臺東市區，每平方公里醫師數僅 11.49 人，每位醫師要服務約 7 百人，而部分專科醫師人數僅 3 位以下，甚至沒有。

臺東縣今年爭取中央補助，於 11 個鄉鎮衛生所設置視訊點、執行遠距門診，與臺東馬偕紀念醫院、高雄醫學大學附設中和紀念醫院、花蓮慈濟醫院建立支援合作模式，進行耳鼻喉科、眼科及皮膚科 3 門遠距專科診療遠距專科診療搭配高網速傳輸技術及數位五官醫療儀器，提供低延遲、高畫質即時影像，讓雙方醫師可透過視訊設備，即時並共同討論個案醫療處置與診斷，提供偏遠地區民眾非緊急、但屬於迫切需要的專科診療服務。

臺東縣延平、鹿野、關山、海端、池上、成功、長濱、大武、達仁、綠島及蘭嶼離島共 11 個鄉鎮衛生所執行遠距門診，衛生局指出，啟動迄今已有 308 人次使用遠距看診服務，其中 2 離島及長濱鄉居民使用度最高，尤其綠島鄉創下眼科單 1 診次有 12 名患者看診紀錄，顯示偏鄉醫療的需求性。

改寫自 國立教育廣播電台／偏鄉醫療零距離 東縣 5G 遠距看診啟動滿月 服務 308 人次

- 32、根據文章所描述，台灣的醫療資源最可能有著什麼樣的問題？
(A)區域差異 (B)技術不精 (C)醫師不足 (D)設備落後。
- 33、請問文章所提及的「5G 遠距看診零距離」一項政策能實現，跟下列哪類型的技術進步有最大關聯？
(A)通訊 (B)建築 (C)運輸 (D)醫療。
- 34、台東地區在各項生活資源上，都如同文章所描述的醫療資源一般，但與此同時，台東地區的環境通常具備哪種特色？
(A)物價高漲 (B)環境清幽 (C)步調緊湊 (D)人際疏離。

※【公民科】第 34-50 題

- 35、根據 CTWANT 網站於 2020 年 6 月報導「5G 新世界」的文章中所截圖出來表格，比較手機通訊從 1G 一直到 5G 的差異，顯現出下列哪一個概念？
(A)社會分工 (B)社會運動 (C)社會規範 (D)社會變遷。
- 36、承上題，所謂的「5G」是屬於下列何種面向的社會變遷？
(A)器物 (B)制度 (C)理念 (D)風俗。
- 37、右列是阿民收到區公所通知書的部分內容。根據內容判斷，政府主要是為解決社會的何種現象？
(A)族群間不平等 (B)貧富差距問題 (C)性別歧視現象 (D)社會地位低落。
- 38、(2020/6/3 科技新報)「台灣時間 5 月 31 日凌晨 3 點 23 分，SpaceX DM-2 飛龍號 (Crew Dragon) 在美國甘迺迪太空中心 39A 發射場正式發射成功。約 19 個小時後，載人飛龍號與國際太空站成功對接，開啟了全球商業載人航天新時代。」請問：上述內容為引起社會變遷之何項原因？
(A)自然環境的改變 (B)外來文化的刺激 (C)科學技術的發展 (D)社會運動的推展。

行動通訊世代比一比

世代	年代	主要功能	速度
1G	1980	通話	2 Kbps
2G	1990	通話、簡訊	10 Kbps
3G	2000	通話、簡訊、網路、音樂串流	3.8Mbps
4G	2010	通話、簡訊、網路、1080P影片串流	0.1-1Gbps
5G	2020	通話、簡訊、網路、4K影片串流、VR直播、自駕車、遠距醫療手術	1-10Gbps

台北市 109 年度低收入戶資格審核通知

台端符合下列標準家庭總收入分配全家人口平均每人每月低於最低生活費 17,005 元，自 109/01/01~12/31 得享有下列福利措施：
(1)低收入戶高中(職)以上在學學生，每人每月補助在學生活補助費新臺幣 6,358 元
(2)健保保費全額補助
(3)就業服務、職業訓練、以工代賑



39、(2020/6/3 自由時報)「彰化縣二林鎮新生國小今年共有 11 位畢業生，感情甚篤的他們原本相約要完成一趟畢業旅行，而且「一個都不能少」。當初為了完成畢旅「一個都不能少」的心願，大家卯勁做拼布娃娃等勞作品，利用去年東螺溪樂樹節時，全班一起做義賣，獲得 3000 多元，大家高興不已，豈料武漢肺炎一來，讓這趟畢旅無法成行，學生們日前把義賣所得化為愛心，3000 多元捐給二林家扶和喜樂保育院等多個公益團體，獲得地方人士的讚賞。」根據上述，下列說明何者正確？

- (A)即使是學生也可以協助社會福利的推動 (B)政府制定社會福利法令足以解決弱勢族群困境
(C)企業經營與社會福利工作相輔相成 (D)社會團體協助給付學生畢業旅行費用。

40、喜憨兒基金會是由一群心智障礙者的家長所組成，以心智障礙者的終生照顧、終生教育為核心。基金會的使命是為心智障礙者開創生命的尊嚴與生存的喜悅。目前烘焙屋、餐廳及烘焙工廠，不僅做為這群心智障礙者訓練的職場，部分也是日間照顧安置的場所。不只給他們釣竿，更要帶領他們到有魚的地方。上述內容主要強調是由下列何者來因應社會變遷？

- (A)個人的努力 (B)政府的施政 (C)團體的投入 (D)個人與政府共同努力。

41、(2020/05/26 中央社)「內政部說，已與新北市政府達成合作推動社會住宅及公辦都更共識，先前第一階段中央與新北市已共同推動 1 萬戶社會住宅；後續 4 年將運用約 120 處基地，為新北市再興建 3 萬戶。…中央與地方雙方已獲致共識，將合作推動建設，擴大照顧新北市民眾居住需求。」上述內文，中央與地方政府是為了下列何項社會福利政策的實施？

- (A)社區營造 (B)福利服務 (C)居住正義 (D)社會津貼。

42、承上文，政府興建「社會住宅」，最主要是在落實何種精神？

- (A)社會正義 (B)社會運動 (C)多元文化 (D)社會階層化。

43、心堯看到右圖的海報宣傳，金門縣籍居民享有各種福利，如學生免學費、免午餐費；搭公車、船免費，這是落實下列哪項社會福利政策？

- (A)就業安全 (B)社會保險 (C)社會救助 (D)福利服務。

44、承上題，事實上，政府在社會福利政策上的經費，主要來自於？

- (A)公益團體的贊助 (B)人民繳納的稅金 (C)民眾的捐款 (D)企業的贊助。

45、公民老師在課堂上說明關於「價值觀念變遷」的主題，並請四位同學舉出適當的例子加以說明。下列哪一位同學舉出的例子，最符合上述主題？

- (A)適豪：我國立法院預計要將《菸害防治法》吸菸年齡提高至 20 歲
(B)世真：新北淡海輕軌第一期藍海線預計今年底通車
(C)孟璇：物聯網(The Internet of Things,簡稱 IoT)技術日益成熟
(D)奕謙：香港「反國安法」遊行突顯民主意識的重要。

入籍金門福利	
項目	福利內容
健康	◎30歲以上有公費一般健康檢查 ◎自費健康檢查補助5000元
生育	◎不孕症人工生殖補助每年最高8萬元 ◎單胞胎補助2萬元、雙胞胎補助6萬元、3胞胎以上每胞胎補助4萬元
就學	◎國小至高中免學費、免午餐費 ◎國小起每學期可領2000元交通圖書券 ◎高中職每年補助6000元就學津貼 ◎大專院校每年補助10000元就學津貼
交通	◎購買至台灣金門間機票7折 ◎搭乘金門公車班船免費
買酒	◎3節配酒優惠，可以市價6折購買1打金門高粱酒

資料來源：《蘋果》採訪整理

◎蘋果日報

◎請閱讀短文，並回答下列第 46-47 題：

【2020/03/26 中央社】精神衛生的社區關懷資源欠缺，每一名關懷訪視員要服務超過 400 名精神病人。多名朝野立法委員質詢時都提到，精神病人的社區追蹤訪視資源欠缺，心理衛生社工、社區關懷訪視員及公共衛生護士要照顧全台超過 14 萬名個案，導致每一個案的服務時間、服務品質不佳。

衛福部次長在答覆立委質詢時表示，目前的做法是依照服務對象的病情及風險等級分配案量給公衛護士和社關員，風險較高的會由社關員、心衛社工處理。會努力爭取增加社關員人力，希望能將社關員和案量降到 1 比 80。社會安全網 2.0 版也正在研議中。

46、根據短文，我國政府正在研議的「社會安全網 2.0」，是為了解社會變遷下何種不公平現象？

- (A)新住民擁有較小的資源 (B)職場女性受不合理的對待 (C)偏遠地區資源分配不足 (D)身心障礙者需求被忽略。

47、新聞中，「社會安全網 2.0」的研議，主要是由以下何種面向，來促進社會變遷中的公平正義？

- (A)個人的努力 (B)民間團體的投入 (C)政府的施政 (D)國際組織的協助。

◎請閱讀短文，並回答下列第 48-50 題：

許多民眾普遍認為大醫院的醫療品質較好，常常只因小感冒就到大醫院門診掛號就醫，導致許多大醫院出現看診壅塞的情形，讓已明顯不足的醫護人力更加吃緊，也造成醫療資源浪費的問題。

因此，政府為改變民眾不論症狀輕重，都愛去大醫院看病的情形，藉由透過醫療院所分級與推動各項相關因應政策，鼓勵民眾養成小感冒先到住家附近小型診所就醫的習慣，讓大醫院的醫療資源能做更有效的運用。

48、文中政府為使醫療資源更有效運用，所採取的措施及預期的成效，與下列何種社會變遷的過程最相符？ 【107 會考】

- (A)透過制度變遷影響觀念變遷 (B)透過觀念變遷影響器物變遷
(C)透過器物變遷影響制度變遷 (D)透過制度變遷影響器物變遷。

49、承上題，我國民眾能夠享受到這樣的醫療資源，主要來自於 1995 年開始實施的「全民健康保險制度」，此制度屬於我國何項社會福利的內容？

- (A)社會救助 (B)社會保險 (C)社會津貼 (D)福利服務。

50、根據短文，政府主要是希望大眾應加強哪方面的素養？

- (A)培養終身學習的觀念 (B)發揮社會關懷互助的力量 (C)建立正確使用醫療資源的觀念 (D)重視個人權利的行使。

試題完成，記得再檢查一遍答案卡與試卷，並務必將自己的答案抄寫於題目卷上，以利試後檢討。