

臺北市立新民國中108學年度 第二學期 八年級社會領域 第三次段考試卷

八年 _____ 班 座號：_____ 姓名：_____

一、單選題(1-54 題，第 1~8 題 1 分；第 9~54 題每題 2 分。)

※【歷史科】第 1-20 題

- 孫文的革命屢次受挫，他決心尋求外援幫助。民國十三年，他終於盼來期待已久的武器與經費。這是指下列哪個國家援助孫文的革命活動？ (A)美國 (B)越南 (C)蘇聯 (D)北韓。
- 孫中山曾說：「沒有好革命軍，中國的革命永遠還是要失敗。」這是因為他在民國以後的革命事業，曾遭遇多次的失敗。依據孫中山先生的說法，下列哪一史事有助於國民革命的成功？ (A)國民黨進行改組 (B)黃埔軍校成立 (C)軍閥與列強合作 (D)憲法草案完成。
- 右圖是北伐時各方勢力的概況圖，請問：某國在北伐期間為阻擾中國統一，而製造的「濟南慘案」是發生途中哪一區？ (A)甲 (B)乙 (C)丙 (D)丁。
- 承上題，文中製造「濟南慘案」的某國是下列哪一個國家？ (A)日本 (B)韓國 (C)俄國 (D)荷蘭。
- 以下是一位旅行者在上海的見聞：「上海的工廠地帶可以看到轟炸的痕跡，有來到了戰場的感覺。但是如果來到租界區，興盛的商業中心立即映入眼中。在此，歐、美國家的主要銀行林立，國民政府的官方銀行—中央銀行，以及中國銀行、交通銀行等仍然繁忙地繼續營業，處理租界區內法幣的發行與交易。」此人最可能是在下列何時參訪上海？ (A)西元 1830 年代 (B)西元 1890 年代 (C)西元 1930 年代 (D)西元 1990 年代。〔107.會考〕
- 國民政府在十年建設期間，對軍隊進行大規模的編遣，此措施的主要目的為下列何者？ (A)宣布成為中立國，廢除軍隊 (B)解決軍閥割據，鞏固國民政府統治 (C)治安不佳，需重整軍隊結構 (D)寓兵於農，增加全國生產總值。
- 某人相信平民的潛在力量，他認為中國和第三世界國家中被蹂躪的苦力，都可受識字教育而成為有用、有生產力的人，進而在地方上積極推動平民教育。請問：上述的某人是指何者？ (A)梁啟超 (B)陳獨秀 (C)蔡元培 (D)晏陽初。
- 有一本名叫「鴻」的小說，在描述三代中國女人的故事。書中提到：「在學校我母親接受的教育是：祖國是滿州國，鄰國中有兩個中華民國，一個是蔣中正領導的『敵國』；一個是汪兆銘領導的『友國』……在學校唱的第一首歌是這樣：『紅男綠女踏街頭，人人都說好滿州，你快活來我快活，吃穿無愁腸，來來來，好滿州。』然而我母親就是小小年紀也能察覺到，如果這是天堂的話，也是日本人的天堂。」請問：日本於下列哪一歷史事件發生後，將今天中國東北地區據為己有？ (A)九一八事變 (B)一二八事變 (C)西安事變 (D)盧溝橋事變。
- 「某年，美國空軍飛臨敵區臺灣進行偵查空照，並於年底開始對臺灣各地的市街、車站、糖廠進行轟炸，臺灣西部縱貫公路與鐵路受創嚴重。」上述情況的發生，與下列何者關係最密切？ (A)韓戰 (B)盧溝橋事變 (C)珍珠港事變 (D)美國與中華民國斷交。〔103.會考〕
- 民國 26 年，國民政府為了顯示長期抗戰的決心，將首都由南京遷到有「天府之國」之稱，且三國時代屬劉備勢力範圍的地區。請問：這個地區應該位於右圖中何處？ (A)甲 (B)乙 (C)丙 (D)丁。



◎請閱讀短文，並回答第 11~13 題：

我們來看一份時間表：

西元 1936 年 12 月 2 日，張學良請求蔣委員長前往訓話，蔣同意赴西安，駐華清池。

12 月 7 日，張學良到華清池見蔣介石，再三苦諫，要求停止內戰，一致抗日，遭蔣拒絕。

12 月 10 日，張學良帶著白鳳翔見到了蔣介石，蔣介石正在召開會議，正式通過發動第六次「圍剿」計劃。

12 月 11 日晚，蔣介石不顧張學良苦諫，命令中央軍接替東北軍和西北軍的剿共任務。

12 月 11 日晚間，張學良和楊虎城分別召見東北軍和十七路軍高級將領，宣布 12 月 12 日清晨進行兵諫。

(資料來源：每日頭條，原文網址：<https://kknews.cc/history/n3jeo38.html>)

- 上述文章內容是指下列哪一個歷史事件？ (A)溥儀的滿洲國在長春成立 (B)張學良等人發動西安事變 (C)汪精衛在南京成立國民政府 (D)毛澤東於北京建立中華人民共和國。
- 此歷史事件是發生於右圖中的哪一城市？ (A)甲 (B)乙 (C)丙 (D)丁。
- 此歷史事件的發生對後來中國的政局造成下列哪種影響？ (A)軍閥亂政的情形加劇 (B)日本全面佔領東北 (C)國共內鬥惡化 (D)中共絕處逢生。
- 民國 34 年，美為爭取蘇聯加入對日作戰，儘快結束亞洲戰事，以減少美軍的損失，而與該國簽訂雅爾達密約。請問：雅爾達密約使蘇聯取得在中國哪一地區的諸多權益？ (A)東北地區 (B)遼東半島 (C)西南各省 (D)臺澎金馬。



15、《時代》雜誌曾對美國總統杜魯門指派專使訪華，力促國共停火，下了這樣的註解：「希望『不能浪費』第二次世界大戰勝利，將美國的影響力和民主擴大到遠東，可是，他的這一次中國之行，最終將證明他的一切想法與努力，不過是浪費。」請問：杜魯門總統指派的專使為下列何人？ (A)羅斯福 (B)馬歇爾 (C)邱吉爾 (D)麥克阿瑟。

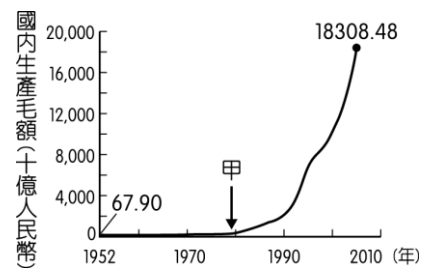


16、西元 1947 年後，為了因應政府財政短絀、社會物價高漲的情勢，政府大量發行貨幣，新疆曾發行 60 億元面額的紙鈔(如右圖)。請問：造成此種社會背景的主要因素為下列哪一選項？ (A)國共內戰加劇 (B)為了償還外債 (C)民眾囤積紙鈔 (D)商品價格滑落。

17、西元 1966 年毛澤東為奪回最高權力，發動文化大革命，結果造成社會動盪不安，傳統歷史文化遭受破壞，連中共都公開承認是「十年浩劫」。請問：造成這「十年浩劫」的根本原因為下列何者？ (A)奪權鬥爭 (B)創新求變 (C)思想改造 (D)顛覆傳統。

18、有一個時期「全國為滿足毛澤東的意願，把鋼產量比西元 1957 年增加一倍，提出『以鋼為綱』的口號，號召全民煉鋼。在農村，也修建了土法的煉鋼爐，企圖在田間煉鋼鐵。很多人把家裡的鍋子、鐵器等金屬都捐獻出來，卻由於技術不足，煉成一個個的鐵疙瘩，造成極大的浪費。」請問：上文所述是要達到何種目標？ (A)要打倒走資派 (B)要短時間趕上英美 (C)要以武力解放臺灣 (D)要推動四個現代化。

19、右圖呈現中國 1952 年至 2005 年國內生產毛額的數據資料。圖中曲線從甲處後有明顯變動的情況，最可能與下列何者有關？ (A)利用韓戰爆發契機，提高進口關稅 (B)大躍進提倡生產，民眾盡全力煉鋼 (C)發動文化大革命，進行全面的改造 (D)實施改革開放政策，引進外來資金。〔102.基測〕



◎請閱讀短文，並回答第 20 題：

資料一：全世界各國的事務應由各國人民自己來管，亞洲的事務應由亞洲人民自己來管，而不應由美國來管。美國對亞洲的侵略，只能引起亞洲人民廣泛的和堅決的反抗。

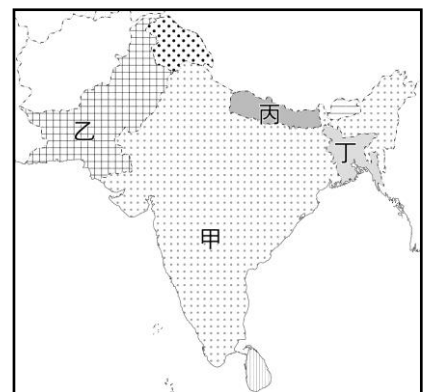
資料二：中國人民支援朝鮮人民的抗美援朝不只是道義上的責任，而且和我國全體人民的切身利益密切的關聯著，是為了自衛的必要性決定的。



20、根據上述資料研判，這是中共於西元 1950 年中共為了「抗美援朝」而派兵至右圖中哪一地區參戰？ (A)甲 (B)乙 (C)丙 (D)丁。

※【地理科】第 21-37 題

21、右圖為南亞的雨量分布圖，請按照邏輯分析，甲、乙、丙、丁四區，雨量該是最多的地區？ (A)甲 (B)乙 (C)丙 (D)丁。



22、承上題，該地區雨量較多的主要原因為何？

- (A)距海較近 (B)副熱帶高氣壓籠罩
- (C)盛行風迎風坡 (D)蒸發旺盛，氣流升騰致雨。

23、健銘參加南亞自遊行，卻遇到幾位老朋友，下列何者最不可能是出現在這趟旅遊行程中的友人？

- (A)遇到苡恩在茶園採茶 (B)遇到嘉豪在珊瑚礁中潛水
- (C)遇到詩涵在清真寺祈禱 (D)遇到廷軒在孟買大嗑牛排

24、全國海拔只有 0.9 公尺馬爾地夫群島預計在 2050 年消失於印度洋中，而主因究竟是哪一項全球性變化？

- (A)人口激增 (B)冰層溶解 (C)空汙加劇 (D)沙漠化嚴重

25、南韓為求經濟起飛快速而採取扶植財團政策，極具效率但也容易產生哪種現象？

- (A)官商勾結結黨營私 (B)企業經營積極活化
- (C)自由競爭汰弱留強 (D)中小企業林立

26、以泡菜入菜的韓式料理廣為人知，但請問韓國會習慣於醃漬食物的原因為？

- (A)韓國人鍾愛高麗菜 (B)年年豐收吃不完 (C)年一至二穫需保存生鮮蔬果
- (D)研究指出泡菜富含多種維生素

27、截至目前，中國在亞洲某一區最重要的湄公河上游連續興建十多個大壩導致下游河水銳減，因而成為國際撻伐的對象，並在國際間有了右邊這幅諷刺漫畫的出現，請問此一事件中的湄公河源頭應該隸屬於亞洲的哪個區塊？

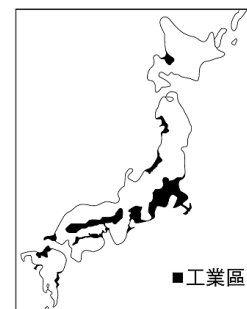
- (A)橫斷山脈 (B)東南丘陵 (C)雲貴高原 (D)嶺南丘陵



28、某天，新民男神昀霖在海邊撿到一架寫有電話地址的紙飛機，平均每年收到三千多封愛慕信件的他，竟憑藉這封信認識了一名台灣女孩並譜出異國戀曲，請問究竟是日本境內哪一股方向的風促成了這段佳話？

- (A)冬季東南風 (B)夏季東南風 (C)夏季西北風 (D)東季西北風

29、右圖為日本主要工業區分布圖。根據其分布的區位特徵可知，日本工業區的區位要素首要考量是：(A)原料 (B)動力 (C)交通 (D)市場。



- 30、生性怕熱與潮濕的毓宸，想去印度向大師學習騰空旋轉 720 度投擲飛盤的絕技，請問下列哪個假期最可能適合毓宸去拜訪印度？ (A)中秋節 (B)春節 (C)端午節 (D)清明節
- 31、逸祈打算利用暑假到日本京都求個愛情御守，祈求與交往中的幾個女生感情順利，請問他是到了日本的哪個平原？(A)關東平原 (B)近畿平原 (C)濃尾平原 (D)嘉南平原
- 32、1967 年東南亞國家為了促進經濟、社會、文化合作，增進人民福祉而成立了下列哪一個組織？(A)ASEAN (B)APEC (C)WTO (D)WHO
- 33、印度少年嘉軒愛上了姓氏為 Sanyal 的一個印度女孩，但是他們的愛卻因為身處不同階級而被嚴格禁止，請問這一切的不公平均起因於？
(A)封建制度 (B)度量衡制度 (C)宗法制度 (D)種姓制度
- 34、如右圖，泰國曾經想在克拉地峽開鑿運河，讓往來於印度洋與南海的船隻約可縮短一千多公里的航程，大型油輪每趟航程預計可節省將近 30 萬美元左右，若此一計畫實現，哪一個城市將大幅降低其重要性？ (A)曼谷 (B)仰光 (C)新加坡 (D)胡志明市。



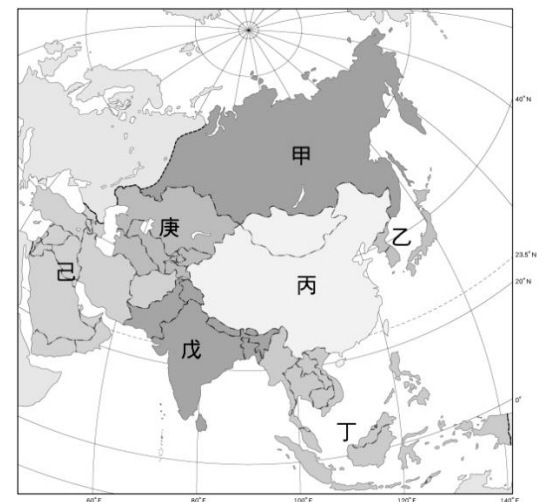
◎請閱讀短文，並回答下列問題：

咖啡對許多人來說，它有一種雋永且無可取代的地位，不僅是工作提神的絕佳良伴，那一滴滴透過咖啡豆醞釀的香醇，有著回甘、餘韻、芬芳的滋味——咖啡的絕妙在人們心中各有擁戴者，對現代人來說，能夠喝咖啡的方式百百種，無論是最便利的超商咖啡，或是選擇自己在家中手沖、濾掛，乃至於直接享用原味封存的膠囊咖啡都是不錯的選擇。

在講求永續和環保的現代，許多咖啡業者在提供消費者更高品質咖啡的同時，咖啡品牌和咖啡店也開始採用更永續的措施，不管是裝生豆、咖啡粉的包裝、濾紙，甚至是咖啡渣，都採用環保或是可再利用材質，並且鼓勵消費者回收，希望在品嘗咖啡的同時，也能創造循環經濟，舉例來說咖啡粉有這樣的妙用：防鏽、機能布、染劑、更環保的鋁膠囊、腳踏車、筆記本...，但坊間最常見的運用方式為除臭，知名大廠、瑞士頂級咖啡品牌 Nespresso，更將回收的咖啡膠囊分離為鋁殼及咖啡粉，咖啡粉由合作的桃園有機農場作為有機肥料，孕育出鮮甜有機蔬果及花卉；還攜手台大產學合作，發展出咖啡渣於農業栽種的運用通則，回饋台灣土地，極大化咖啡渣回收應用影響力。

改寫自遠見雜誌 咖啡產業如何讓美味兼顧環保？那些堅持永續的友善妙用

- 35、如同文中所指產業活動，這種在熱帶地區投入大量勞力與資金，以企業化方式，大規模種植經濟作物的集約事農業可通稱為？
(A)季風農業 (B)殖民農業 (C)熱帶栽培業 (D)穀物農業。
- 36、請問文章中所指的咖啡農，最可能出現在右側亞洲分區圖中的哪一個代號？
(A)丁 (B)甲 (C)乙 (D)庚
- 37、就文章所描述，今日的咖啡用途多樣，已經開拓出不少新商機，而請問此一現象能讓這類以經濟農作為主的國家減少過往的哪種窘境？
(A)貧富差距問題 (B)勞動力老化問題
(C)農業人口流失問題 (D)收入受物價波動影響深。



※【公民科】第 38-54 題

- 38、下列四位司法人員職業的說明，何者**正確**？

(A) 我是擔任法庭記錄的公設辯護人。



(B) 我是依法獨立審判案件的法官



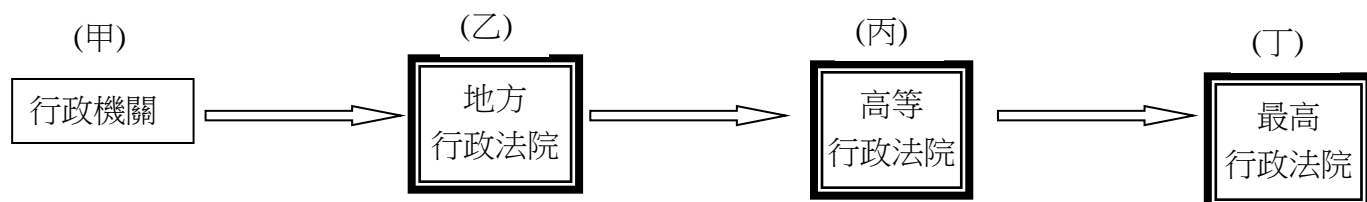
(C) 我是依法提出自訴的檢察官。



(D) 我是為當事人權益進行辯護的書記官



- 39、當事人上訴所得之利益超過(甲)萬元以上的民事事件可以上訴到第三審法院；訴訟標的金額在(乙)萬元以上的行政事件適用「通常訴訟程序事件」。請問：**(甲)+(乙)=** (A) 140 (B) 150 (C) 190 (D) 200
- 40、暑期即將到來，常有大批青少年深夜留連夜店不回家，若遇警方臨檢，業者將因深夜仍讓未成年人逗留，而**違反**哪項法律的規定？ (A)《刑法》 (B)《民法》 (C)《少年事件處理法》 (D)《兒童及少年福利與權益保障法》。
- 41、(2020/06)據報導：「教育部認定《國語日報》屬於政府捐助的財團法人，因此下令修正捐助章程及改選董事，《國語日報》提訴願遭駁回後，提起行政訴訟…」下圖中，哪一個程序**不可能**發生？



- (A)甲 (B)乙 (C)丙 (D)丁。

- 42、住在北投區的上下樓鄰居的小佑與阿杰，由於天花板滲水問題，兩家的糾紛且爭執不斷，里長為避免訴訟之累，建議雙方到當地具有公信力的委員會聲請調解。請問下列哪一個機關才是他們要找的？
(A)北投光明派出所 (B)台北地方法院 (C)台北地方檢察署 (D)北投區公所。
- 43、暑假將至，學生瘋打工，也需注意相關的法規規定。下列關於我國《勞動基準法》的規定那些是正確的？(甲)雇主可以要求 15 歲以上未滿 16 歲者從事危險性的工作 (乙)雇主僱用童工需經法定代理人同意 (丙)童工一日工作不得超過八小時，但假日可以工作 (丁)為保護自身安全，打工前要先熟悉法令規定 (A)乙丙 (B)乙丁 (C)甲丁 (D)甲丙。
- 44、小傑向阿諺借 50 萬元，並口頭承諾六個月後還錢，所以雙方並沒有寫借據。六個月後，阿諺要求小傑還錢，但小傑卻置之不理，於是阿諺私下向擔任法官的好友勻儒協助。請問：下列有關此案的可尋求的各項權利救濟敘述何者正確？
(A)阿諺可請求檢察官偵查並向法院提起公訴 (B)兩人沒有寫借據因此無法依和解程序解決
(C)阿諺可以向鄉鎮市區調解委員會聲請調解 (D)勻儒可主動審理此案並判決小傑必須還錢。
- 45、阿豪涉嫌竊盜罪，依規定屬於刑事案件，因此有許多認出他的朋友紛紛在網路上開始評論並留言，阿豪擔心留言會影響到法官審判，但家人跟他說「在未經審判之前，應該都要認定為無罪的。」，請問：家人所提為刑事訴訟的何種原則？
(A)無罪推定原則 (B)罪刑法定原則 (C)誠實信用原則 (D)權利濫用禁止原則。
- 46、湘婷在上公民課有關權利救濟的課程時，針對案例試著畫出右表流程。根據圖文判斷，以下何者最有可能是湘婷所要表示的訴訟案件？
(A)廠商不服衛生福利部裁罰 200 萬元 (B)子女針對 100 萬財產繼承提起訴訟 (C)涉嫌觸犯妨害名譽罪遭檢察官提起公訴 (D)夫妻離婚後對子女監護權提起訴訟。



- 47、小姿：「擔任調解委員這麼多年，從沒像今年這麼忙過！」小儀：「今年本區聲請調解的事件比去年增加了五成，大家真是辛苦了！」在上述對話內容中，大幅增加的事件類型最可能為下列何項組合？ 【109 會考】
(A)行政紛爭、告訴乃論的刑事案件 (B)民事紛爭、告訴乃論的刑事案件
(C)行政紛爭、非告訴乃論的刑事案件 (D)民事紛爭、非告訴乃論的刑事案件。
- 48、公民小老師婉慈將民事、刑事及行政訴訟的管轄法院及審級制度，整理成下表，但拿給公民老師看後，老師說只有三處正確。請幫泰亨指出哪三處是正確的？ (A)甲丙戊 (B)甲乙丁 (C)乙丙己 (D)甲戊己。

比較項目	民事訴訟	刑事訴訟	行政訴訟 (通常訴訟程序事件)
第一審管轄法院	(甲)地方法院	(乙)高等法院	(丙)高等行政法院
審級制度	(丁)三級二審	(戊)三級三審	(己)二級三審

- 49、小君很想看正在上映的《電影版聲之形》，但疫情期間不想到電影院看，阿涵為了幫助朋友，把可以下載盜版電影的網址貼給小君，讓她可以在家裡方便看，請問兩人的行為是否已侵犯著作權？ (A)屬於私人欣賞的合理使用情形，故不違法 (B)下載、分享該影片，只要未經著作權人同意或授權就已觸法 (C)未有商業營利行為，所以並無侵犯著作權 (D)在下載或分享人數超過三人以上，才會違法。
- 50、13 歲的小婷因羨慕朋友擁有最新型的手機，於是趁體育課偷走同學留在書包中的零用錢，行竊時被返回班上的同學撞見，受害學生家長獲知後決定報警處理。根據上述內容判斷，小婷最可能會受到下列何種處分？ 【106 會考】
(A)罰鍰一千元 (B)拘役二十五日 (C)罰金一千五百元 (D)假日生活輔導四次。
- 51、(2020/06/09 公視)據報導：「香港藝人何韻詩去年來台參加台港大遊行時，遭到統促黨的胡姓男子等人從後方潑漆，台北地檢署檢察官偵查終結之後，日前依公然侮辱等罪嫌，對胡姓男子等 11 名涉案成員提起□□…。」根據內文判斷，文中的□□最可能是下列哪一項概念？ (A)公訴 (B)自訴 (C)告發 (D)告訴。

◎【閱讀理解題】請根據下列節錄的《刑法》部分條文，回答 53-53 題：

- ①第 277 條（普通傷害罪）：傷害人之身體健康者，處三年以下有期徒刑，拘役或一千元以下罰金。
 ②第 349 條（普通贓物罪）：收受贓物者，處三年以下有期徒刑、拘役或五百元以下罰金。
 ③第 309 條（公然侮辱罪）：公然侮辱人者，處拘役或三百元以下罰金。
 ④第 278 條（重傷罪）：使人受重傷者，處五年以上十二年以下有期徒刑。
 ⑤第 212 條（偽造變造特種文書罪）：偽造、變造護照、旅券、免許證、特許證及關於品行、能力、服務或其他相類之證書、介紹書，足以生損害於公眾或他人者，處一年以下有期徒刑、拘役或九千元以下罰金。

- 52、根據上列條文，請問我國少年若違反上述《刑法》的哪些規定，將依《少年事件處理法》中的「少年保護事件」來處理？
(A)①②③ (B)②③④⑤ (C)①②③⑤ (D)①③④⑤
- 53、關於《少年事件處理法》的敘述，下列何者正確？ (A)此法所規範的犯罪可分為少年保護案件、少年虞犯案件 (B)此法對於少年犯罪之處理，希望以教育代替處罰，因此不會有刑罰的處罰 (C)13 歲的少年犯殺人罪時，應改用刑罰加以處罰 (D)負責審理與調查的法院為少年法院(庭)。
- 54、依《少年事件處理法》所稱的少年，是指下列何種年紀的人？
(A)12 歲以上，未滿 18 歲 (B)7 歲以上，未滿 20 歲 (C)14 歲以上，未滿 18 歲 (D)14 歲以上，未滿 20 歲。

試題完成，記得再檢查一遍答案卡與試卷，並務必將自己的答案抄寫於題目卷上，以利試後檢討。