

# 臺北市立新民國中109學年度 第一學期 七年級社會領域 第一次段考試卷

七年 \_\_\_\_\_ 班 座號：\_\_\_\_\_ 姓名：\_\_\_\_\_

單選題(1-50 題，每題 2 分。)

## ※【歷史科】第 1-17 題

- 1、1990 年代末期，臺灣曾掀起一波「葡氏蛋塔風潮」，許多店家爭相模仿製作鄰近臺灣某地瑪嘉烈餅店的葡式蛋塔。全盛時期，一條街上同時有好幾間店，且皆人潮滿滿，甚至曾造成蛋價上漲的情況。然而在葡氏蛋塔退燒之後，許多專賣店接連收攤，而原來兼賣葡氏蛋塔的店家也不再供應。這段蛋塔之亂，甚至造就了「蛋塔效應」、「蛋塔現象」等名詞，形容事物在短時間內因一窩蜂而造成暴起暴跌的現象。請問這曾為葡萄殖民地的某地是指  
(A)澳門 (B)香港 (C)上海 (D)馬尼拉
- 2、右圖是臺灣主要史前遺址的分布圖。依遺址所發現的考古遺物回答下列問題：假如想先參訪舊石器時代的文物，再取得金屬器時代的相關訊息，哪兩個考古遺址所提供的參考資料最詳盡？  
(A)丙甲 (B)乙丙 (C)甲丙 (D)丁乙
- 3、荷蘭據臺時經營的行政組織是何？統治臺灣的最高行政長官是誰？  
(A)聯合西印度公司、臺灣長官 (B)聯合東印度公司、臺灣總督  
(C)聯合西印度公司、臺灣總統 (D)聯合東印度公司、臺灣長官
- 4、週休二日在臺北搭乘捷運做一趟知性之旅，既方便又省時，捷運站附近有相當多的先民遺跡。若要找尋兩處新石器時代中期遺址，該兩站的站名應該是什麼？  
(A)圓山站、芝山站 (B)關渡站、圓山站 (C)石碑站、動物園站 (D)劍潭站、芝山站
- 5、由於西班牙人的遠東貿易逐漸受荷蘭人威脅，於是西班牙繼荷蘭之後，也到臺灣北部發展勢力。西班牙人在臺灣的發展以何處為基地？(A)雞籠、淡水 (B)桃園、龜山 (C)新竹、淡水 (D)臺南、打狗
- 6、歷史課時，老師正在講述某一段課文：「這個史前文化遺址所發現的器物，多為敲擊方式製作的石器，遺址的人們已懂得用火，主要透過採集與漁獵獲取食物。」由上文判斷，老師正在進行哪一個單元的教學活動？  
(A)舊石器時代的特色 (B)新石器時代的生活 (C)金屬器時代的活動 (D)歷史時代的文化
- 7、根據民族語言學的分類，南島語族是全世界語族分布最廣的一支，有超過兩億五千萬人是南島語系的使用者。下列有關南島語族的敘述，何者正確？  
(A)鄰近臺灣的琉球也屬於南島語族 (B)分布在南太平洋及部分印度洋的眾多島嶼上  
(C)臺灣原住民族有一部分不屬於南島語族 (D)澳洲原住民也屬於南島語族
- 8、資料一、此人物曾創建臺灣史上首個漢人政權。資料二、後人曾如此形容他的功績：「開萬古得未曾有之奇，洪荒留此山川，作遺民世界；極一生無可如何之遇，缺憾還諸天地，是創格完人。」以上資料說明何人的事蹟？  
(A)顏思齊 (B)鄭成功 (C)施琅 (D)鄭經
- 9、南科園區自 1995 年開發至今，發現 58 處以上遺址，從出土的文物以及遺跡來看，為 5000 年前大坌坑文化到 300 多年前明清漢人文化，當時共挖掘出 26 萬籃文物及 2400 多具南島民族骨骸。這些珍貴出土文物中，有模樣質樸有趣的人面陶偶、雕刻鹿角刀柄、做工精緻的玉管珠串、炭化稻米、繩紋與几字紋紅陶罐，顯現當時先民重要的生活智慧與風俗習慣。從文化多層疊疊的部分而言，南科遺址已經進步到 (A)舊石器時代 (B)新石器時代 (C)金屬器時代 (D)工業時代
- 10、下列敘述，何者錯誤？  
(A)原住民曾經協助荷蘭人平定因不滿荷蘭人徵收重稅而反抗的郭懷一事件  
(B)菲律賓是葡萄牙人的殖民地，後來被美國人驅趕取而代之  
(C)為便於統治，荷蘭人會授予原住民代表權杖，認可其統治權力  
(D)澎湖曾經被荷蘭人佔領兩次，均遭明軍驅趕
- 11、右圖是嘉佑在翻閱歷史課本時所發現的圖片。從圖中的訊息判斷，下列何者不是當時在當地活動的主要族群？(A)原住民 (B)荷蘭人 (C)西班牙人 (D)日本人
- 12、賽德克巴萊的電影導演魏德聖說：「我想要平靜一點，又想要讓自己精彩一點，我...好想當鄭芝龍看看。」魏德聖猶豫的點，不在於鄭芝龍的歷史地位和評價不如鄭成功，反倒覺得像鄭芝龍這樣的海賊王，人生起伏太大，起的時候橫行世界，落的時候隨時可能沒命，「很矛盾，想當他又不想當他，但又想知道一代梟雄的心情是什麼樣？他到底在算計什麼？害怕什麼？」下列關於鄭芝龍的敘述，何者錯誤？  
(A)他是繼顏思齊之後，首度稱霸太平洋的海上霸主 (B)曾亡命日本娶妻生子，兒子即鄭成功  
(C)為了自己的榮華富貴，賣主求榮投降清朝 (D)如此造化人生，最後卻得以安享晚年



- 13、十七世紀時，臺灣原住民曾出現一個名為大肚王國的部落聯盟，其衰落與下列何者關係最密切？  
(A)日本 (B)鄭氏政權 (C)荷蘭 (D)西班牙
- 14、「洪水後由地中噴出熱泉，全社幾乎頻臨滅絕，有兩兄妹在擣粟，看到來勢洶洶的大水，跳入臼中任水漂流，終於漂到一座高山，一直到花蓮……」上述洪水傳說，可能是哪一個原住民的傳說？  
(A)布農族 (B)達悟族 (C)鄒族 (D)阿美族


◎請閱讀短文，並回答下列問題：

民國前二五一年，一六六一年（永曆十五年、順治十八年）四月二十一日中午，鄭成功起兵二萬五千人、船隻九百艘攻臺。船到澎湖即發生糧食不足的現象，鄭成功下令就澎湖三十七島取行糧，得到回報是：「各嶼並無田園若種禾粟，蕃薯、大麥、黍、稷、斗升湊解，合有百餘石，不足當大師一餐之用」。

以致在風雨中鄭成功下令航向臺灣。他當時說：「冰堅可渡，天意有在。天意若付我平定臺灣，今晚開駕後，自然風恬浪靜。不然，官兵豈堪坐困斷島受餓耶？」鄭成功的部隊一上岸即將荷蘭軍打得落花流水，西方人記述鄭成功的軍隊是：「國姓爺的軍隊中有弓箭兵，以對抗荷人的槍兵，又軍隊中有鐵人軍，每一人著鐵製的鱗甲，包住全身，鐵片長度可掩住膝蓋以下，以保護到兩腳。這是一個武裝齊備的軍隊，他們戰鬥中，無視洋槍隊的威力，沒有一個人將死亡擺在心上，勇猛無比，不管周邊有許多人被打死，照常像瘋狗似的前撲。況且他們也有相當多的重砲及充足的火藥。」這是黃種人第一次向歐洲白人爭奪殖民地成功的例子。登陸不到一個月，實際僅二十四天即佔領全臺灣，僅留下「熱蘭遮城」。

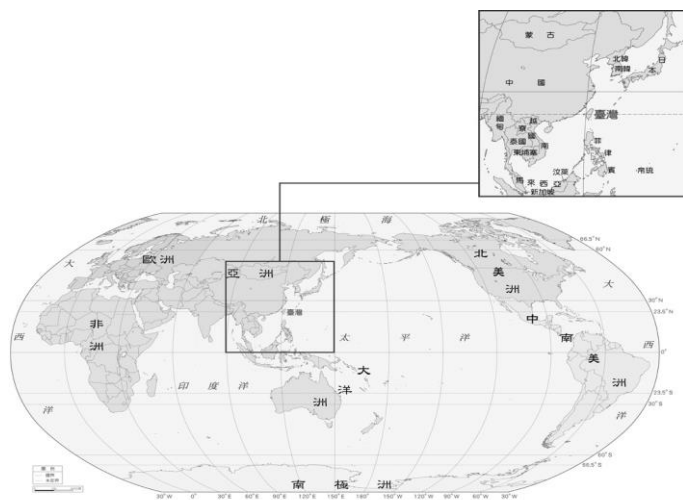
- 15、文中沒有出現的紀年方式是 (A)民國紀年 (B)西元紀年 (C)干支紀年 (D)帝王紀年
- 16、下列地方何者跟鄭成功攻臺之役無關？(A)安平古堡 (B)三貂角 (C)鹿耳門 (D)普羅民遮城
- 17、明鄭政權的建立者與末代執政者分別是 (A)鄭芝龍、鄭克塽 (B)鄭成功、鄭經 (C)鄭成功、鄭克塽 (D)鄭經、鄭克塽

※【地理科】第 18-34 題

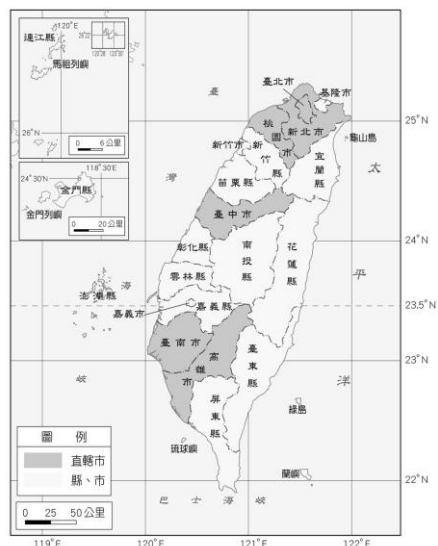
- 18、地圖上的方位通常是以英文來標，而究竟哪個英文字母代表的是西方？  
(A)「N」 (B)「E」 (C)「W」 (D)「S」。
- 19、「廷雲坐在祖堯的前面」，這樣的位置概念與下列何者相同？  
(A)台北市北投區新民路 10 號 (B)新北投捷運站的經緯度是 121°E，25°N  
(C)少屏升旗隊伍排在第五排第一位 (D)新民國中在中興新村的西方
- 20、可用來劃分南、北半球以及東、西半球依序是哪兩條經緯線？  
(A)本初經線、赤道 (B)赤道、國際換日線 (C)本初經線、國際換日線 (D)赤道、極圈。
- 21、為何在同一個地球上，南北半球會有季節顛倒之情況？  
(A)因為地軸傾斜 23.5 度在公轉 (B)因為地球由西向東自轉(C)因為太陽繞著地球轉 (D)因為地球是稍扁的球體。
- 22、曉芬在某一張地圖上，看見「」的標示，這是地圖上用來呈現哪種資訊？  
(A)方位 (B)比例尺 (C)圖例 (D)圖名。
- 23、每年 9 月下旬起，超過千隻黑面琵鷺造訪台南七股，此種珍貴鳥類以臺灣做為南北遷徙路線上的重要棲地，此舉與臺灣的哪項自然環境特性有關？  
(A)靠近亞洲大陸 (B)鄰近鳥類原生地 (C)溫帶與熱帶交界 (D)接近世界第一大洋。
- 24、臺灣生物之中，特有種的比例相當高，而導致此種情況的原因與下列何者息息相關？  
(A)生物研究基因改造 (B)臺灣為四面環海之島嶼 (C)地大物博種類繁多 (D)輻射導致生物突變。
- 25、臺灣的工業產品，能以相當快的平均速度送抵亞洲主要國家，而這種情況與臺灣本身的哪種條件最相關？  
(A)生產效率 (B)資本雄厚 (C)貿易興盛 (D)交通位置。
- 26、下列有關大與小比例尺在使用上的差異，何者正確？  
(A)大比例尺適合繪製小範圍區域地圖 (B)大例尺地圖內容呈現較為模糊  
(C)小比例尺地圖的縮小程度較小 (D)小例尺地圖適合繪製校園地圖
- 27、台灣男孩爾威每天上午十點都要打視訊電話給位在各地的女朋友甜言蜜語，但這次他竟然不小心弄錯撥打時間擾人清夢，請問下列哪一位通話對象最可是這次烏龍事件的受害者？  
(A)位在西經 155 度的海倫 (B)位在東經 18 度的莎拉 (C)位在東經 160 度的安娜 (D)位在西經 99 度的蘿絲

28、在紙張大小一樣的前題之下，下列哪一張圖所使用的比例尺最大？

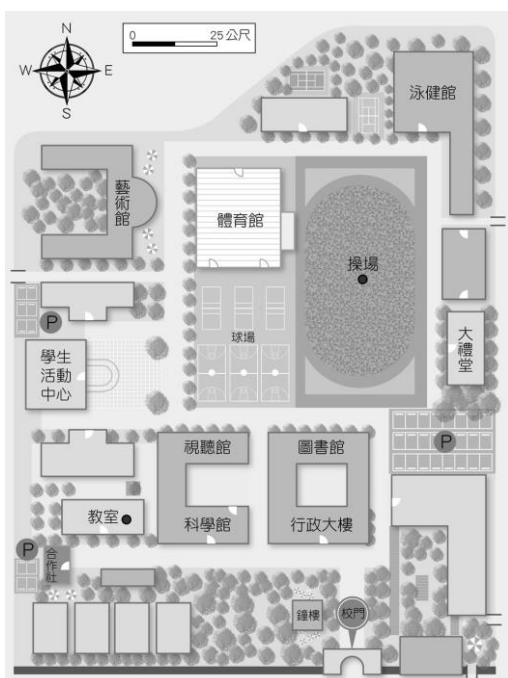
(A)



(B)



(C)



(D)



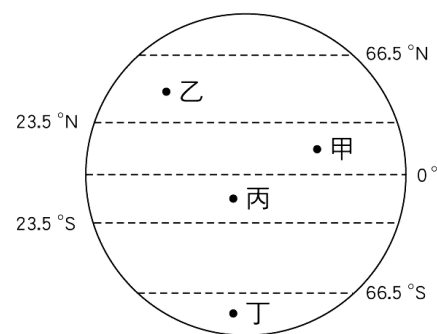
29、電子地圖是近年來地圖使用的大宗，比起「傳統紙本地圖」具有下列何種差異性？

- (A)比例尺可任意切換
- (B)保存較為占空間
- (C)不需借助科技產品
- (D)資訊更新較緩慢。

30、右圖為全球氣候帶的簡圖，下列何者配對正確？

- (A)甲：寒帶
- (B)乙：熱帶
- (C)丙：熱帶
- (D)丁：溫帶。

31、太陽直射範圍最南可達南緯幾度？(A)66.5度 (B)60度 (C)30度 (D)23.5度。



◎請閱讀短文，並回答下列問題：

空域是國家領土的一部分，只要飛機經過他國領空，就算不降落，也必須繳交過路費，由通過該國家的飛航情報員協助提供該飛航情報區內的飛航指引服務。隨著航空市場持續長整，近年通過台灣領空的飛機數也逐漸增加，去年一整年過路費收入達新台幣 22.3 億元，創歷史新高，相較於 2017 年收入還成長 8.58%，不只過路航班多，飛台航班也持續增加。民航局統計，去年共有 17 家業者開航 30 條新航線或在原有航線增班，讓台灣的空中航網更為綿密便捷。而海與空的交通便利性也是截至今年四月，台灣對外輸出所累積的財富躍居世界第四名的原因之一。

改寫自 2019/01/13 甘芝萁／台北報導

32、根據文章所寫，台灣過境航路服務費創新高之原因可以說是下列何者？

- (A)位置優越
- (B)邦交國極多
- (C)領空面積廣大
- (D)地形平坦適合飛行。

33、承上題，台灣長久以來便根據此項優勢，延伸發展哪一種產業，更成為台灣的經濟命脈？

- (A)農業
- (B)工業
- (C)商業
- (D)服務業。

- 34、若以日本飛菲律賓的航線來看，飛機經過台灣上空時的方向可能與下列何者最為接近？  
 (A)西飛向東 (B)南飛向北 (C)東飛向西 (D)北飛向南。

※【公民科】第 35-50 題

- 35、聯合國世界人權宣言第 1 條提到：「人人生而自由，在尊嚴和權利上一律平等。」其代表的意義是  
 (A)每個人存在價值都應獲得重視 (B)每個人都應以相同的方式生活  
 (C)每個人都要從事相同的工作 (D)每個人都應該接受相同的教育內容。
- 36、性別包含「生理性別」和「社會性別」兩種，下列配對組合，何者正確？  
 (A)男生要負責養全家—生理性別 (B)女生有月經—社會性別  
 (C)男生有精子—社會性別 (D)女生要整理家務—社會性別。
- 37、(2020/9/28)提報導：「71 歲簡姓老翁，是性騷慣犯，今年 2 月在捷運上以生殖器磨蹭女子左手臂，並在女子衣袖上留下精液殘跡，案經台北地檢署偵查終結，具體求處 2 年徒刑。依我國●●法的法定刑度，最重就是 2 年有期徒刑，本案已創下北檢起訴性騷慣犯，首度具體求處滿貫刑度的案例。」根據報導可判斷出●●法為下列何種法律？  
 (A)民法 (B)性騷擾防治法 (C)性別工作平等法 (D)性別平等教育法。
- 38、為落實實質的性別平等，我國制定了性別工作平等法、性別平等教育法等相關法規，下列針對這些法規的評論，何者正確？  
 (A)法規以「性別平等」為名，主要目的是在維護傳統的生理性別  
 (B)保障父或母皆可請育嬰假，打破只有女性需要照顧家庭的迷思  
 (C)規定男性可以請有薪的陪產假，是為保障男性經濟自主能力  
 (D)規定女性工作者每月可請生理假，是為避免女性身體受到侵犯。 【習作】

- 39、四位同學在上完公民課後，利用下課時間在教室討論「人權」與「人性尊嚴」的內容。請問：何者的說法最正確？  
 (A)依婷：普遍性人權的保障可以維護人性尊嚴 (B)芷翎：人性尊嚴與人權兩者之間沒有任何關係  
 (C)文旭：法律具強制力可破除所有偏見來保障人權 (D)威杰：「人權是與生俱來的」無須爭取或保障就能獲得
- 40、(2020/6/2)非裔男子弗洛伊德 (George Floyd) 被商店老闆檢舉疑似使用一張 20 元偽鈔，而白人警察在逮捕過程中，以單膝將其壓頸 5 分多鐘，導致弗洛伊德死亡。事件過程被拍下公布，人們看到弗洛伊德不斷呼救「我無法呼吸」(I can't breathe.)，但警察不為所動。大規模的示威抗議從明尼亞波利斯市開始，迅速遍布全美，「黑人的命也是命」(Black lives matter.) 的口號再度成為焦點。下列關於此事件的敘述何者正確？  
 (A)弗洛伊德個人的決定有受到警察尊重 (B)弗洛伊德的消極人權有受到充分保障  
 (C)由於種族因素，遭受到不平等對待 (D)人權的維護靠國家力量即可達成。

時間	合計	男	女	男性比例
2006年	28萬5171	5萬1490	23萬3681	18.1%
↓				
2014年	112萬7819	28萬1455	84萬6364	25.0%
2015年	119萬1465	29萬1580	89萬9885	24.5%
2016年	129萬7726	33萬5860	96萬1866	25.9%
2017年	132萬3396	33萬2211	99萬1185	25.1%
2018年	130萬9184	35萬0764	95萬8420	26.8%

資料來源：衛福部 製表：黃天如

- 41、至 2018 年止的統計，臺灣男性家暴受害人已超過 25% 逼近 30%，但仍有許多受害者覺得身為男性還遭到家暴覺得很丟臉，礙於男性自尊而不敢通報。衛福部還特別設置 0800-013-999 男性關懷專線。請從性別概念判斷，文中男性受害者不敢通報家暴的原因與下列何者有關？  
 (A)社會性別 (B)性別歧視 (C)性別認同 (D)性別氣質。
- 42、(2020/9/28)日前知名時尚部落客「個人意見」針對今年金鐘頒獎活動在臉書上發文表示「為什麼主持人從來不會叫男明星轉一圈給大家看背面。大家不想看許光漢或張孝全的背面嗎！」引起網友熱烈討論。究竟「為何主持人從不叫男明星轉圈」現象，下列解釋何者較為適當？  
 (A)說明性別不平等與社會環境沒有關係 (B)是因性別角色僵化後產生的性別偏見  
 (C)透過法律能完全解決此種不平等現象 (D)此為自然而然形成的性別不平等現象。



- 43、右圖是新聞報導中的標題，若新聞事件中的受害者要尋求權利救濟，下列哪一項法律最能提供他協助？ 【108 會考】  
 (A)《刑法》 (B)《少年事件處理法》 (C)《性別工作平等法》 (D)《性別平等教育法》。
- 44、承上題，下列有關「性騷擾」之敘述，何者正確？(甲)「性騷擾」通常只會發生在異性之間、肢體動作 (乙)性騷擾以當事人感受為主，若被害人感到不舒服即成立 (丙)如遇「性騷擾」可以向家長、師長、警方求助 (丁)人和人之間應有身體界線，即使是長輩關心晚輩也應保持適當距離  
 (A)甲乙丙 (B)甲丙丁 (C)乙丙丁 (D)甲乙丁。

- 45、政府透過許多管道推動社會福利相關政策，例如：以公益彩券回饋金，協助經濟弱勢民眾繳納部分健保相關費用；放寬低收入戶審查門檻，協助經濟弱勢家庭獲得社會救助等。上述政府的二項作法，最主要是為了達成下列何項目的？  
(A)確保民眾財產權利 (B)縮短城鄉發展差距 (C)保障人民生存權利 (D)推廣志工服務活動。 【105 會考】

◎〈閱讀理解題〉請閱讀下列兩則新聞，並回答問題：

【2020/2/26 網路新聞綜合編輯】「同酬日」是根據行政院主計總處「受僱員工薪資調查」，以當年度兩性平均時薪差距計算到隔年 1 月 1 日起，女性須增加的工作天數。依照去年（2019 年）薪資統計初步結果看來，台灣女性平均時薪為 292 元，為男性 340 元的 85.8%，兩性薪資差距為 14.2%，換算成天數的話，女性須比男性多工作 52 天（14.2%乘以 365 天，等於 52 天），才能達到男女整年總薪資相同。因此今年度（2020 年）的同酬日為 2 月 21 日，勞動部盼各界為縮小兩性薪資差異努力。

- 46、根據上文，下列對於我國性別平權的狀況敘述何者正確？  
(A)人人皆已獲得平等的地位 (B)同工不同酬屬於「性別歧視」  
(C)遵守傳統文化就是最好的作法 (D)政府只要求達到形式平等即可。
- 47、我國當前已有專法對上述情況加以規範，民間企業若發生類似情形，經檢舉並調查屬實後，可依法開罰。請問：這部專法為何？(A)刑法 (B)公司法 (C)性別平等教育法 (D)性別工作平等法。

2019 獲得金曲獎年度歌曲的殊榮，一首非常受矚目、改編真實人物的歌曲《玫瑰少年》，是由五月天的阿信與蔡依林合作譜寫出的歌詞，歌詞節錄如下：「誰把誰的靈魂 裝進誰的身體？誰把誰的身體 變成囹圄囚禁自己亂世總是 最不缺耳語 哪種美麗 會喚來妒忌 你並沒有罪 有罪是這世界 生而為人無罪 你不需要抱歉」蔡依林在這首歌曲獲得年度最佳歌曲時，曾說道：「...葉永鋕（故事）提醒我在任何情況，我都可能成為某種少數，更要用心去愛身邊所有人，獻給他（葉永鋕），獻給認為自己完全沒有機會、沒有選擇的你，你一定要做自己。」

- 48、根據上文，不管是歌詞或是蔡依林的說詞，都強調下列何項概念的重要性？  
(A)歌詞中的玫瑰少年有受到他人尊重 (B)落實人權只能透過法律的保障達成  
(C)性別刻板印象不會影響個人發展 (D)尊重個人的選擇是人性尊嚴的核心。
- 49、玫瑰少年—葉永鋕不像一般社會期待的陽剛男生，他喜歡編織、烹飪，這也使他常受到班上同學的欺負，罵他「娘娘腔」並脫他褲子，以至於後來他不敢在下課時去上廁所。某天，他趁著上課時間去上廁所後就沒再回來，後來被人發現他倒在血泊中去世。從性別平權觀點來看，下列敘述何者最為正確？  
(A)葉永鋕是因為戀慕同性的性傾向而受到欺負  
(B)葉永鋕對自己的生理性別與社會性別不一致而產生性別偏見  
(C)依照現行法律規定，可向學校的「性別平等教育委員會」申請處理  
(D)葉永鋕在學校受到同學欺負的情況尚未達到性騷擾與性霸凌的程度。
- 50、如果你是葉永鋕的同學，在其它同學欺負、嘲笑他時，你該如何用最妥當適合的方式來幫助他？  
(A)立刻制止取笑的同學，並且請老師協助處理 (B)忽略視而不見的走過，反正不關自己的事  
(C)自知沒能力制止同學，乾脆當作沒這回事 (D)幫忙協助報警，並且以暴力方式回擊同學。

試題完成，記得再檢查一遍答案卡與試卷，並務必將自己的答案抄寫於題目卷上，以利試後檢討。