


臺北市立新民國中 109 學年度 第一學期 七年級社會領域 第三次段考試卷

七年 班 座號： 姓名：

一、單選題(共有 50 題，請掌握好答題時間。)

※【歷史科】第 1-17 題，每題 2 分。

- 劉銘傳擔任臺灣巡撫持續「開山撫番」政策，下列何者是在「開山撫番」上的首創作為？(A)解除劃界封山政策 (B)設立番學堂，鼓勵番童就學 (C)在後山(台灣東部)設官治理 (D)開闢北中南三條溝通臺灣東、西部的道路
- 清代一份文件提到清帝國統治前期臺灣當時的人口現象，內容大意如下：「從北路諸羅以上，直到山後長達一千餘里的地方，漢族婦女不到數百人；南路由鳳山到琅嶠以下長達四、五百里的地方，漢族婦女也不過數人而已。」以上所描述男多女少的現象，可以從下列那一句民間諺語反映出來？(A) 一個某(妻)，恰贏三個天公祖(B) 仙拼仙，拼死猴齊天 (C)歹竹出好筍 (D)勸君切莫過臺灣，臺灣恰似鬼門關
- 臺灣俗諺：「泉州人，坐海口、開店舖；漳州人，落平陽、收佃租；客家人，走山尾、曝菜脯。」形成上述族群分布的主要原因為何？(A)清政府嚴格的管理和控制 (B)地緣因素，選擇與原鄉較相似的環境 (C)取決於和原住民相處的狀況 (D)先來後到，愈早來臺者愈先往山區走
- 清康熙年間，臺灣民間曾流傳一首歌謠：「頭戴明朝帽，身穿清朝服；五月稱永和，六月還康熙。」這首歌謠是描述哪一反清事件？提示一：該歷史事件是臺灣清帝國時期民變最早爆發的一個。提示二：今日的高雄市內門區可以看見為了紀念起事者所立的雕像。提示三：它影響了臺灣行政區域的改制。該事件為何？(A) 朱一貴事件 (B) 郭懷一事件 (C)林爽文事件 (D)戴潮春事件
- 「李光於乾隆末年，從泉州遷來臺南居住，育有三子，死後留下公產三甲作為祭祀公業，由三房輪流耕作，並負責該年祭祀祖先之費用。」根據上文，可知這是屬於哪一種祭祀組織？(A)血緣祖 (B)地基祖 (C)唐山祖 (D)開臺祖
- 淡水有許多有關長老教會馬偕牧師在臺傳教的遺跡，如馬偕醫館、牛津學堂等。當年馬偕博士在臺傳教與行醫的背景為何？(A)清帝國統治初期積極發展文教，聘請傳教士傳授知識 (B)英法聯軍之役後，外國商人與傳教士可前來臺灣 (C)西班牙占領北臺灣，積極傳播天主教 (D)荷治時期，傳教士積極在原住民中傳教
- 現存清康熙年間由西洋傳教士繪製的臺灣地圖只繪製臺灣西半部，反應出當時清廷治臺的何種政策？(A) 施行劃界封山，禁止漢人入侵原住民區 (B) 禁絕漢人渡臺，防止臺灣成為反清基地 (C)開港通商，設定西半部為對外貿易據點 (D)加強建設西半部，使該地成為海市重鎮
- 清帝國時期，當時臺灣一種「無田宅、無妻子、不土不農、不工不賈；嫖賭摸竊、械鬥樹旗，靡所不為。單身遊食四方，隨處結黨，且衫褲不全，赤腳終生。」人們稱他們為「羅漢腳」。造成羅漢腳形成的原因為何？(A)社會福利不佳 (B)吏治不良，軍紀不佳 (C)外力入侵，漳泉互鬥 (D)渡臺禁令導致男女比例失衡
- 臺灣俗諺說：「三月瘋媽祖，四月迎王爺，五月城隍生。」也有一說為：「北城隍、中媽祖、南王爺。」這些神明，屬於哪種類型的宗教信仰？(A)閩粵移民在原鄉信仰的神明 (B)漢人在臺灣的共同信仰 (C)西方文化傳入後的宗教 (D)紀念第一代來臺的祖先
- 臺灣雖然被清朝納入版圖，然而清朝卻採取消極的政策治理臺灣，下列何者並非當時所採取的消極政策？(A)由中國各省派兵駐守以防叛變 (B)渡臺者需向政府申請許可證 (C)在臺灣縣治建築石牆，以防止臺民動亂 (D)不准家眷隨行
- 「唐山過臺灣，心肝結歸丸」，這句俗諺中的「唐山」是指何地？(A)菲律賓 (B) 朝鮮 (C)日本 (D) 中國
- 數年前，日本國會通過海外出兵法案；又頻頻建造可垂直降落戰機的直升機母艦，被亞洲國家認為是其軍國主義再起的徵兆，殷鑑不遠。請問日本明治維新之後，為移轉國內改革壓力並實現其帝國主義的第一次海外出兵行動是在 1874 年侵略何地？(A)朝鮮 (B) 琉球 (C)臺灣 (D)東北
- 乾隆年間，臺灣曾爆發一次大規模的民變。在此期間，諸羅城的軍民死守不降，並多次抵擋「叛軍」的進攻。亂事平定後，乾隆為嘉勉諸羅城軍民的義行，故將「諸羅」改名為「嘉義」。此一民變應該是下列何者？(A)郭懷一事件 (B) 朱一貴事件 (C)林爽文事件 (D)戴潮春事件
- 械鬥在臺灣歷史的發展過程中，常造成在地人民大量的損傷，不利地方文化的發展。造成臺灣地區械鬥的原因，不包括下列何者？(A)移民因語言隔閡產生衝突 (B)爭奪耕地水權 (C)外國勢力的挑撥與煽動 (D)為彼此間的商業利益而產生械鬥
- 清領時期，政府依照「是否納稅、服勞役」區分原住民族，其中有納稅的原住民族被稱作何者？(A) 高砂族 (B) 熟番 (C)生番 (D)平埔族
- 屏東海洋生物博物館旁刻有「明治七年討蕃軍本營地」的石碑及「大日本琉球藩民五十四名墓」，這二者是在日本統治臺灣後才設置的。上述是為了紀念哪個歷史事件？(A)牡丹社事件 (B)清法戰爭 (C)鴉片戰爭 (D)甲午戰爭
- 附圖是清帝國時期，政府所設立「土牛溝」的示意圖，針對「土牛溝」的論述，下列哪位同學說法錯誤？(A)甲生：它的功用類似美國川普總統設立的墨西哥邊界圍牆 (B)乙生：中國也建築萬里長城，阻擋入侵的胡人 (C)丙生：土牛溝是劃界封山的產物 (D)丁生：土牛溝確實能有效發揮其隔離功能



※【地理科】第 18-34 題，每題 2 分。

18、下列選項的敘述是屬於對「氣候」的描述？

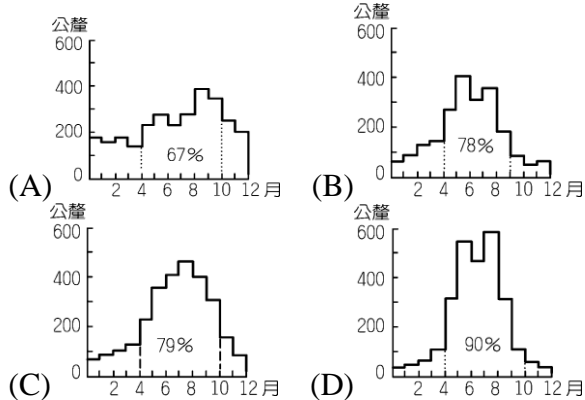
- (A)剛剛台北下了場大雨，捷運地下街都淹水了 (B)基隆因雨多而素有雨都的稱號
(C)寒流來襲這兩天新竹冷到最高溫只有 10 度 (D)颱風肆虐，宜蘭 24 小時的累積雨量高達 500mm。

19、昱翔發現臺灣各地區的水庫大都有通病，就是幾乎都面臨淤塞問題而壽命大減，下列哪項作法才是延長水庫壽命的治本之道？

- (A)抽泥船 24 小時運轉不停歇 (B)集水區內土地全面禁止利用 (C)想辦法擴建水庫 (D)做好流域內的水土保持。

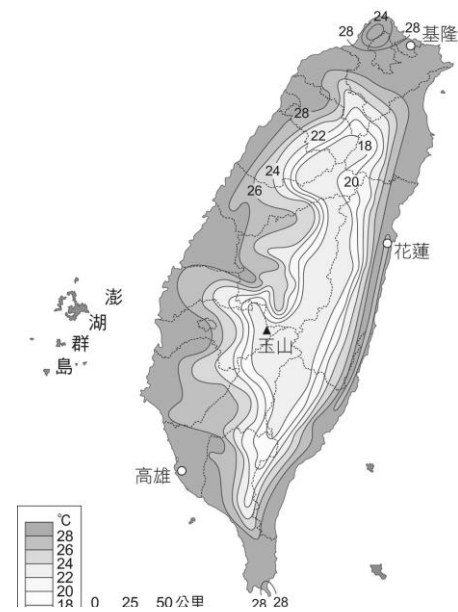
20、臺灣南部的河川因流量變化的特色，被稱為何種類型河川？ (A)異變型 (B)荒溪型 (C)猛爆型 (D)激烈型。

21、就降雨季節變化而言，下列四張降水量圖何者最可能是我們臺灣的北部地區？




22、右圖是臺灣七月的等溫線圖，請根據此圖，判斷出臺灣夏季氣溫變化的何種特徵？

- (A)山區炎熱 (B)南北溫差大 (C)普遍高溫 (D)北部特別高溫。



23、右圖為水循環圖，請問蒸散與蒸散作用為圖中的哪兩個代號？

- (A)戊乙 (B)丙丁
(C)庚己 (D)甲丁。

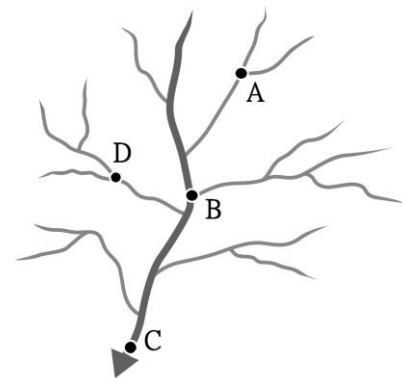


24、地面天氣圖中，若台灣上空有  的符號，代表目前台灣的天氣狀況最可能為何？

- (A)颱風靠近 (B)寒流來襲 (C)綿綿雨勢下不停 (D)炎熱高溫。

25、右圖為某河流的水系圖，請問下列哪一個點的集水區範圍最大？

- (A)A (B)B (C)C (D)D。



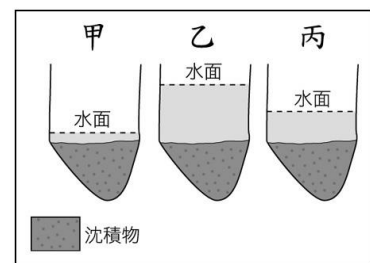
26、地下水資源是相對來講潔淨而穩定的供水，但若抽取量超過了補助量，將可能會導致怎樣的環境災害？

- (A)地層下陷 (B)土石流 (C)山崩 (D)土石緩滑。

27、造成臺灣河川水系呈現東西分流的主因為何？ (A)降水時空不均 (B)島嶼型狀 (C)地形陡峭 (D)山脈走向。

28、臺灣近百座水庫當中，哪座水庫的水源是來自淡水河？(A)德基水庫 (B)日月潭水庫 (C)翡翠水庫 (D)曾文水庫。

29、右圖為高屏溪某地點在不同季節的主要水位示意圖，從圖中的資訊來推論甲現象最主要出現在哪個季節？ (A)春 (B)夏 (C)秋 (D)冬。



30、下列何種環境開發方式較能保持河川上游的水土？

- (A)開闢與等高線平行的梯田
(B)所有河川上游興建大量攔砂壩
(C)山地全面改種蔬菜水果與檳榔
(D)完全禁止環境的開發。

31、河川在不同河段的作用力大小不一，一般而言，河川以哪個河段侵蝕力最大？

- (A)下游 (B)中游 (C)上游 (D)入海口。

◎請閱讀短文，並回答下列問題：

台灣 2020 年豐水期無颱風襲台，使水情較為吃緊，面對氣候變遷，要確保供水無虞，水利專家提 3 大建議，包括重視生態保育、強化落實節流，及提升水資源管理科技。

中研院地球科學所兼任研究員汪中和分析，隨著人口增加、產業日益發達，旱象的衝擊越來越全面，此外，全球暖化導致台灣降雨南北分布不均情況越來越嚴重，水資源運用、調配壓力也越來越大。他也表示，能源、水與糧食，是國家發展的要素，

然而一旦沒有水，不僅發電會受影響，糧食生產也會受到衝擊，政府應致力朝健全台灣水文環境的方向發展。

汪中和提出 3 個長期方向，第一，生態保育應優先於開發，尤其是中央山脈，若保育得宜，台灣就有最好的綠色水庫能夠留住水資源。第二，節流比開源更重要，台灣農業用水占比高達 7 成，一年需用水 120 億噸左右，若農業節水成效能夠提升到 1 成，就能省下 12 億噸水量，是曾文水庫容量的 2 倍。同時若能提升工業用水回收循環比例，將能有效降低供水壓力，台積電已能做到工廠用水 9 成回收再利用，預估工業若能將 6 成用水回收再利用，一年可省下一座曾文水庫的水量。

第三，加強水資源管理科技，若能把生活污水回收再利用，一天能回收 285 萬噸水量，供 1000 萬人用水，不僅比蓋水庫便宜、符合循環經濟理念，把節水產業做出來，還可以到全世界賺錢。

改寫自 台灣水資源大挑戰 水利專家提 3 大解方 2021-01-02 10:11 中央社

32、台灣水資源之所以短缺，可謂是先天不良後天失調，請問下列選項並非是台灣人均水資源偏低的原因？

(A)人口密度高 (B)年降水量少 (C)溪水含沙量大 (D)降水時空不均。

33、文中強調中央山脈內的保育重要性，在於森林可以涵養水源，而山區多是河流的發源地，故保育做得好便可以增加水源，按照水文學的概念，請問這些孕育河水的源頭地，該被稱為？

(A)集水區 (B)水系 (C)分水嶺 (D)地面逕流。

34、文章強調開源節流與環境保育的重要性，請問下列哪些做法何者最符合這些宗旨？

(A)抽地下水滿足工業需求 (B)學校操場興建雨撲滿 (C)將河水完全攔截儲存 (D)工業汙水排放海洋避免汙染河水。

※【公民科】第 35-50 題，每題 2 分。

35、校園霸凌是學生之間存在不對等的欺凌與壓迫情形。下列何者可能已經構成校園霸凌？(甲)總是拿同學身材、身體特徵開玩笑；(乙)考試總是名列前茅讓同學難以超越；(丙)經常使用網路散布謠言、留下辱罵或嘲笑同學的字眼；(丁)長期聯合同學排擠班上自己不喜歡的同學；(戊)同學違反校規向老師告狀 (A)甲丙丁 (B)甲丁戊 (C)乙丙戊 (D)乙丁戊。

36、下表是部落與社區的比較表，請問有哪一個選項的資料是正確的？

	部落	社區
(A)形成	漢人逼迫	居住關係
(B)同質性	高	高
(C)族群認同	低	低
(D)重要組織	如：長老會議	如：社區管理委員會

37、嘉祐的雅美(達悟)族好友即將過生日，由於沒法到蘭嶼當地祝賀友人，嘉祐在公民課時得知我國有一政府機關專門負責與原住民族有關的事務，而且該機關還有提供電子賀卡的服務。請問：他應該是到了哪一個政府機關的網站？

(A)原住民族委員會 (B)僑務委員會 (C)客家委員會 (D)文化部。

38、以諾：「我們社區環境美麗、人情味濃厚，我愈來愈喜歡這個地方了」

少屏：「對呀，溫泉博物館、圖書館吸引很多遊客來拍照，身為這社區的一份子真的是太光榮了！」 請問：兩人的對話，最主要表現哪一項社區觀念？

(A)地區 (B)共同關係 (C)社區意識 (D)社區組織。

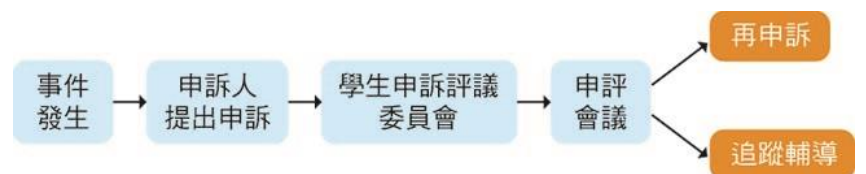


39、下列有關「社區」的敘述有哪些內容是正確的？(甲)須有一個鄉鎮的區域範圍才能

構成社區，一棟大樓不足以構成社區 (乙)社區不是政府劃定的法定單位 (丙)社區居民至少須有 50 人以上 (丁)社區居民的宗教信仰需相同 (戊)社區是自然形成的公共生活領域 (A)甲丙 (B)乙戊 (C)甲丙丁 (D)甲乙戊。

40、如果學生認為學校的獎懲措施不當，導致權益受損，可依

右表流程向校方提起申訴。請問：下列何者適用這套申訴流程？(A)段考答案錯誤，希望獲得更正 (B)班會表決沒過半，希望獲得翻案 (C)違反學校校規，但校方處罰過重 (D)校園販毒被抓，不服警察的逮捕。



41、阿虎在開班會時吵鬧不停，鐵雄轉頭叫阿虎安靜一點，卻因此在放學後被阿虎痛毆一頓。阿虎的爺爺知道情況後，嘆了口氣說，家裡只有祖孫二人，自己為了工作常不在家，想好好管教孫子，實在是有心無力。根據上述內容判斷，下列敘述何者正確？ (A)針對開班會時的情況，鐵雄可提出權宜問題 (B)鐵雄可申請保護令，以免阿虎再次拳腳相向 (C)鐵雄可向學校提起訴願替自己討回公道 (D)阿虎家的家庭型態最可能為小家庭型態。 【103 會考】

42、右列是某學者對於我國犯罪防治研究報告的部分內容，根據其內容判斷，若要減少都市地區財產犯罪案件發生，下列何項建議最符合文末的論點？ 【109 會考】

(A)增加基層警察人數 (B)修法加重罰鍰金額 (C)協助安裝保全設施 (D)強化民眾社區意識。

根據犯罪案件統計顯示，都市地區與鄉村地區的犯罪型態不同，二者在殺人、傷害等暴力犯罪的犯罪率無顯著差異；但在汽(機)車竊盜、強盜、搶奪等財產犯罪，都市地區的犯罪率明顯較高。因此，若要減少都市地區財產犯罪的案件，可以朝鄉村地區的特性來思考對策。

43、(2020/12/17 聯合新聞編)「台東縣成功鎮都歷部落垃圾掩埋場原訂至 2020 年底到期，由於焚化爐尚未啟用，鎮公所要展期至 2024，引起阿美族都歷部落居民不滿長期飽受臭氣熏天，組自救會拉布條抗議，希望掩埋場能夠不再使用，還給部落乾淨的環境；並請相關單位遵循《●●法》第 21 條和部落溝通。縣府表示，尊重部落意見，近日將開

協調會溝通。」請問：從新聞內文中，可得知都歷部落居民面對危機是透過什麼方式來表達訴求？
 (A)部落營造 (B)社區營造 (C)社會運動 (D)社會流動。

44、承上題，從新聞內文可以判斷出《●●法》應是下列哪項法規？

(A)教育基本法 (B)原住民族基本法 (C)地方制度法 (D)原住民族委員會組織法。

⑩以下為七年 7 班開班會的紀錄，會議的主題為決定寒假班遊的地點，班會前，開會通知單上子淇已先提出「萬華老街遊」的議案。請回答 44-48 題。

臺北市立新民國民中學 七年 7 班 第二 十 週班會紀錄

日期	109 / 01 / 18	應到人數	18 人	實到人數	16 人	缺席座號	6、30
主席	依婷	司儀	梓同	紀錄	鈺婷		
紀錄內容	討論題目：寒假班遊地點 1____(甲)____宣布會議開始 2 直接進行「討論事項」(慈慧趕緊提出__(乙)__問題，提醒主席，請主席處理)，主席隨即更正程序 3 報告事項(主席及班上幹部進行工作報告) 4 討論事項-班遊的地點(討論期間廷雲和文旭因意見不合而發生口角) 議案提出的順序：萬華老街→九份鐵路之旅→淡水老街 5 臨時動議 6 散會、導師講評						

45、請問(甲)應該是由下列何人宣布？ (A)主席 (B)司儀 (C)紀錄 (D)導師。

46、根據班會的相關開會規則，下列正確的敘述有幾項？ ①子淇提出的議案為「提案」，須經過 2 人以上「附署」才能成立 ②紀錄中的空格(乙)應該填上秩序問題 ③廷雲和文旭的口角衝突，同學可以提出權宜問題 ④臨時動議不是會議議程內的討論事項，所以附議後可直接表決 ⑤發言前，要先舉手並徵求導師同意 (A)1 項 (B)2 項 (C)3 項 (D)4 項。

47、下列何項討論是屬於學生的自治事務？ (A)決定上課時間 (B)表決遲交作業的幾位同學下課不能出教室懲罰 (C)修改全校學生手機使用規則 (D)票選下學期校外教學地點。

48、請問主席應先從哪一個提議的地點先表決？ (A)萬華老街 (B)九份鐵路之旅 (C)淡水老街 (D)看主席心情。

49、下列對於班會各角色的敘述何者正確？ (A)「司儀」要將表決方式及票數、結果詳實記錄 (B)「導師」必須公正主持會議，必要時可推翻表決票數 (C)「主席」需主持會議，賦予參加人員發言地位 (D)「紀錄」要時時記得宣讀會議程序。

50、學生透過開班會的方式來決定公共事務，理性表達自己的意見，並尊重不同意見的人，突顯何種概念的重要性？ (A)主權在民 (B)地方自治 (C)終身學習 (D)學生自治。