

臺北市立新民國中 109學年度 第1學期 八年級社會領域 第3次段考試卷

八年 班 座號： 姓名：

一、單選題(1-50題，每題2分。)

※【歷史科】第1-16題

- 琦琦偶然之下穿越時空，到了某一城市，該城市因鴉片戰爭開放為通商口岸，在外國公共租界中開闢最早，西化發展快速，經濟發展首屈一指，直到今日某些黑幫大哥電影仍以此為背景，為中國大陸的一線城市。請問：琦琦到達的是哪一城市？(A)香港 (B)深圳 (C)上海 (D)北京。
- 宜君在讀某資料寫道：德國公使克林德被殺事件發生後，德國皇帝威廉二世決意報復中國，瓦德西被任為聯軍總司令，熱切執行威廉二世發布的命令：「你們知道，你們面對一個狡猾的、勇敢的、武備良好的和殘忍的敵人。假如你們遇到他，記住：不要同情他，不要接收戰俘。你們要勇敢地作戰，讓中國人在一千年後還不敢窺視德國人」，請問這題記錄中國的哪一段歷史？(A)鴉片戰爭結束後，各國要求租借權 (B)趁英法聯軍之際，脅迫開放天津 (C)以平定韓國內亂為由，發動對中國戰爭 (D)庚子拳亂結束後，聯軍瓜分中國。

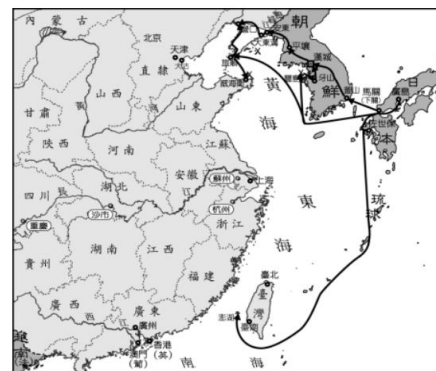
- 右表為小婉的作業有關對清末不平等條約的舉例，請問是指外國取得了何種權利？

審判地點	廈門的美國領事法庭
裁決者	美國駐廈門領事館總領事
陪審員	三人，包括一名美國領事館代表
被告	美國公民 J.H. Edward
罪名	於中國非法徵募及販運勞工至國外
判決	依美國法律判決一年監禁、罰款一千元

- (A)關稅協定 (B)領事裁判權 (C)租界劃定 (D)片面最惠國待遇。

- 有一位學者提及：「清朝嘉慶、道光年間，因規定與外國貿易為一口通商，江、浙販售給西方國家的生絲不從較近的上海出口，而要搬運到路程有十倍之遙的指定通商口岸，光是運費及利息就使成本約增加了35%至40%。」上述期間能與外國交易的指定商口為下列何者？(A)福州 (B)廣州 (C)廈門 (D)香港。

- 右圖是列強侵略中國的路線圖。根據圖中的路線，這應該是哪一次戰役的路線圖？(A)鴉片戰爭 (B)英法聯軍 (C)中法戰爭 (D)甲午戰爭。



- 晚清民初之際《醒世新編》的作者有意識的將大腳婦人與小腳婦人進行比較，極力宣揚大腳婦人不論在行動與德性上，都優於小腳婦人，企圖製造一種「羨慕天足」的想法，來鼓吹廢除纏足的運動，此種想法形成以後可能帶來的改變為何？(A)男女從此獲得平等地位(B)女權因此獲得法律保障(C)女性有獲得外出就業的機會(D)女性在家庭中扮演溫順的角色。

- 清朝年間，有大臣上奏，建議朝廷選擇聰穎幼童，將他們送到西方各國學習軍政、船政、數學、製造等學問，十餘年後，當幼童學成歸國並貢獻所學，中國便能熟悉西方技術，國家可以逐漸壯大。朝廷同意此一建議，將其頒布施行。上述情況最早應出現於下列何時？(A)鴉片戰爭期間(B)自強運動期間(C)戊戌變法之際(D)新文化運動後。

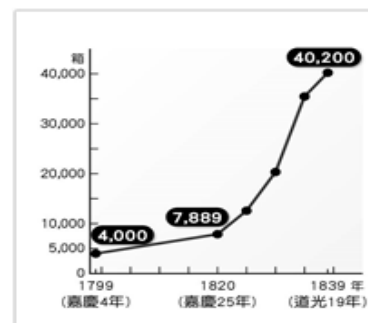
- 萱萱看到新聞報導：「圓明園十二生肖獸首銅像，原來位於清朝圓明園中，後來因戰火被帶往國外，其中馬首後來由澳門企業家購買，捐回圓明園，並由圓明園管理處於2020年12月公开展示。」請問上述馬首是在哪次戰火中帶走的？(A)鴉片戰爭 (B)英、法聯軍 (C)甲午戰爭 (D)八國聯軍。

- 右圖所顯示的事件背景應為下列何者？(A)鴉片戰爭 (B)英、法聯軍 (C)甲午戰爭 (D)八國聯軍。

- 承上題，某位歷史人物曾經聯合上書請願，得到皇帝支持，推動政治改革，後來組織學會、辦報紙，鼓吹政治革新的理念，卻因保守派發動政變，使他的理想曇花一現，最後亡命海外。根據上述資料判斷，這篇文章介紹的歷史人物是誰？(A)李鴻章 (B)張之洞 (C)康有為 (D)孫中山。



- 右圖是清末自英國輸入某商品的數量變化。請問：依據史實，此項商品大量輸入中國，造成何種影響？(A)有益於人民的健康，延年益壽 (B)利於中國賺取外匯，刺激商業 (C)造成中國白銀外流，國庫日窮 (D)促使國人媚外，喪失民族精神。



- 「清末，朝廷向列強宣戰，當時部分地方督撫卻與上海各國領事協議：『作為省的最高長官，我們將維護外國人生命與財產的安全，並在管轄區內鎮壓亂民，各國應約束其士兵的行動。』」上述情況的出現與下列何者關係最密切？(A)日俄戰爭 (B)義和團事變 (C)同盟會成立 (D)甲午戰爭爆發。

- 清末以來，中國因西方勢力的入侵刺激，發展出「自強運動」、「戊戌變法」、「庚子新政」到「革命及新文化運動」，可看出在中國知識文化階層產生巨大的變動，以此來看以下何敘述正確？(A)自強運動廢除科舉，使舊知識分子無所適從 (B)戊戌變法設立京師大學堂，採中西思想並用造就新思想 (C)庚子新政下詔君主立憲，知識分子進入體制內改革 (D)革命成功後開始設立女子學校，造成女性知識分子大量產生。

- 一則資料中提到：「上海自風行報紙後，以各報出版皆在清晨，故破曉後，賣報者群集於報館之門，爭先恐後，擁擠特甚，甚有門尚未啟，而賣報人已在外守候者，足證各報消暢之廣。」下列何者即當時較具代表性的報刊？(A)美麗島 (B)自由中國 (C)聯合報 (D)萬國公報。

◎請閱讀短文，並回答下列問題：

從 1840 年的鴉片戰爭開始，作為重要當事人主戰派的首領林則徐比任何一個中國人都認識到世界形勢的巨大變化，他請好友魏源編纂成了《海國圖志》，書中主張「師夷長技以制夷」的思想，主張學習國外先進的科學技術，藉以抵禦外國的侵略，使中國走上富強的道路。

但魏源在這本書中，介紹了英美等國民主制度，認為英美聯邦制、選舉和分權制衡的司法制度，值得中國人借鑑，正是如此，《海國圖志》在中國被打入了冷宮。當時魏源的好友就分析，這主要是因為《海國圖志》「犯諸公之忌」，談論了不該談論的事，從而使中國錯失了至少二十年發展機遇。

1851 年，一個偶然機會，《海國圖志》傳到了日本，此時的日本還處在鎖國狀態，但魏源的這部書卻讓日本人如獲至寶，深刻的啟發了日本人的近代意識。江戶晚期的日本思想家佐久間象山研讀了《海國圖志》後，佩服魏源「師夷之長技以制夷」的主張，以為應該像魏源那樣以全新世界格局重新規劃日本的發展方略。在中國許多人仍將西方文明視為「奇技淫巧」時，日本知識階層普遍閱讀過魏源的這本《海國圖志》，進而改革建立自己的工業、商業基礎，用不長的時間實現了在遠東建立一個西方式國家的夢想。

文章節錄：由鍾穎川談歷史，魏源翻譯的《海國圖志》為什麼沒改變中國卻改變了東亞格局？

原文網址：<https://kknews.cc/history/65oyakp.html>

15、《海國圖志》一書傳到日本以後，曾受到知識分子的歡迎，並且推動仿效西方文化的變革，此變革指的是下列何者？

(A)戊戌變法 (B)立憲運動 (C)明治維新 (D)自強運動。

16、清末之時，部分人士主張「師夷長技以制夷」，而後恭親王則提出「自強之術，必先練兵」，並主導新政令的推行，當時朝廷推動重要的改革為何？

(A)設立政府機關統一處理外交事務 (B)廣設鐵路強化中央到地方交通 (C)應允採用君主立憲的政治體制 (D)排除中國傳統文化全盤西化。

※【地理科】第 17-33 題

17、請問紐西蘭哪一族原住民的傳統戰舞近年已成為紐西蘭在各種場合中最著名的表演？

(A)毛利人 (B)薩摩亞人 (C)印第安人 (D)因紐特人。

18、右圖為大洋洲的簡圖，圖中 A、B 代表其分界線。請問：B 界線與下列哪一條線相符？

(A)赤道 (B)本初經線 (C)國際換日線 (D)北回歸線。

19、美國科幻電影魔戒中不論冰河與火山場景都取景於紐西蘭，其自然環境的多樣讓紐國獲得了哪一個美名？(A)地形大百科 (B)地形博覽會 (C)活的地形教室 (D)地形博物館。

20、在兩極地區可見的永晝及永夜現象，其形成原因主要與下列何者有關？

(A)日月的相對位置 (B)太陽繞地球公轉 (C)太陽輻射不穩定 (D)地軸傾斜 23.5 度。

21、繆均與藝文打算到世界上最大、最長的珊瑚礁群之中如同美人魚般優雅浮潛。請問：他們該前往附圖中的何處？(A)甲 (B)乙 (C)丙 (D)丁。

22、到澳洲觀光免不了要去見見澳洲的特有種無尾熊及袋鼠等嬌客，而牠們成為澳洲特有種的主要原因為何？

(A)只有澳洲環境適合生長 (B)唯獨澳洲沒有天敵物種
(C)地塊古老醞釀生物演化 (D)位置孤立導致無法遷移。

23、澳洲主要的貿易往來對象，是位於周遭的亞太地區，故澳洲要積極與鄰近國家發展經貿關係，應格外積極參與下列哪個貿易組織？

(A)WTO (B)UN (C)WHO (D)APEC。



24、右圖是 20 世紀澳洲土地利用圖，請問圖中標示「useless」的區塊為何是無法使用的土地？

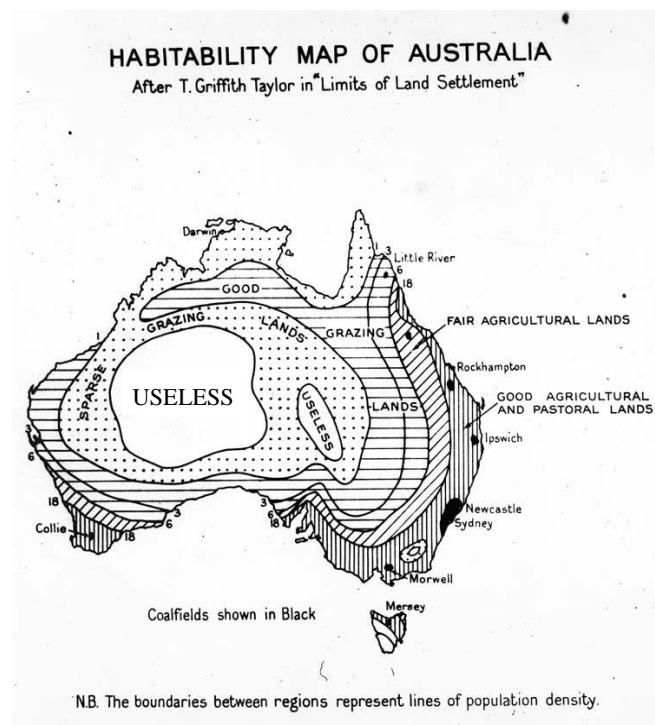
(A)氣候乾燥 (B)叢林密布 (C)交通落後 (D)隸屬原住民保留區。

25、從紐西蘭的緯度和盛行風來看，當地主要的氣候型態為何？

(A)溫帶地中海型氣候 (B)溫帶海洋性氣候
(C)熱帶莽原氣候 (D)熱帶雨林氣候。

26、澳洲的女富豪 Gina Rinehart 的身家財產估計 187 億美元，而其財富的累積最發跡於礦業的開發，請問澳洲之所以擁有豐富的礦藏，原因為何？

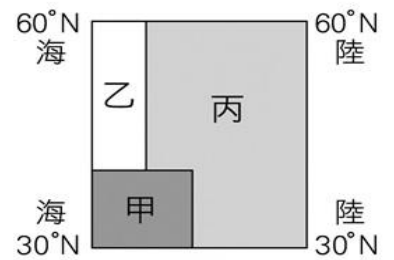
(A)面積廣大 (B)地質古老 (C)火山眾多 (D)岩層獨特。



27、右圖是溫帶的主要氣候分布簡圖，圖中哪個代號的氣候特徵是冬雨夏乾？

(A)甲 (B)乙 (C)丙

28、氣候型態與副熱帶季風十分相似的夏雨型暖濕帶氣候經常出現在赤道與回歸線之間的陸地東側靠海地帶，例如澳洲東南側就是這種濕熱的氣候，而究竟其水氣是藉由哪種風所攜帶進來？(A)東北信風 (B)東南信風 (C)西風 (D)東風。

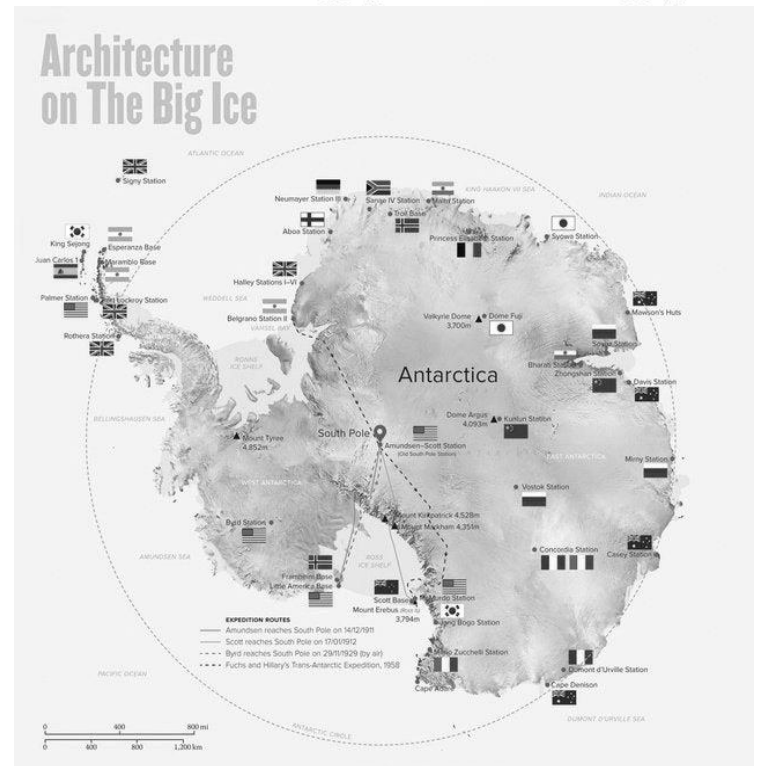


29、右圖為南極大陸上研究中心以國旗來表明所屬，可看出國籍眾多，但究竟南極大陸的主權隸屬於誰？

(A)美國 (B)俄羅斯 (C)不屬於任何人 (D)被各國瓜分。

30、803 在兩極誰才是世界上最冷的地方這件事上有了爭執，請問誰說的才是對的？

- (A)楷威：當然是南極，畢竟這裡可是一大片的冰洋
- (B)昀澤：當然是北極，這裡可是冷到沒有任何居民呢
- (C)孟璇：一定是北極，這裡可是地球的極北之處阿
- (D)思穎：絕對是南極，它可是塊兩千米以上的高原呢。



◎請閱讀短文，並回答下列問題：

(法新社巴黎 28 日電) 根據今天公布的報告，2020 年全球 10 大氣候災害引起的承保損失高達 1500 億美元 (約新台幣 4.2 兆元)，超過 2019 年的災損金額，反映全球暖化的長期影響。

從今年 1 月澳洲野火瘋狂延燒，到截至 11 月大西洋颶風形成次數破紀錄，這些天災奪走至少 3500 條人命，導致 1350 多萬人流離失所。

然而，一個多世紀以來的氣溫和降水紀錄，加上數十年來有關颶風和海平面上升的衛星數據，在在顯示地表溫度上升的影響正在加劇。舉例來說，颶風、颱風和氣旋等大型熱帶風暴的威力如今恐變得更強，持續時間更長，挾帶水量更多，波及的範圍也更甚歷史紀錄。

2020 年破紀錄出現 30 個有命名的大西洋颶風，至少造成 400 人喪命和 410 億美元災損，而全球未來可能看到更多這樣的風暴。中國和印度今夏洪水氾濫，季風季節連續第 2 年出現異常降雨，與氣候如何影響降水的預測一致。2020 年 10 大極端天氣事件中，就有 5 起與亞洲異常多雨的季風有關。

美國加州、澳洲乃至俄羅斯西伯利亞偏遠地區燃起熊熊野火，延燒範圍破紀錄，也符合全球暖化趨勢，而隨著氣溫節節攀升，這類情況還會加劇。澳洲 2019 年底至 2020 年初的野火危機前所未見，不僅燒毀了 20% 森林，數以千萬計野生動物更是難逃死劫。最近研究顯示，相較於一個世紀前，歐洲發生致命熱浪的機率更是攀升將近 100 倍。

世界氣象組織秘書長塔拉斯 (Petteri Taalas) 說：「以往屬於『百年一見』的熱浪和洪災，如今變得愈來愈常見。」

(譯者：劉文瑜/核稿：盧映孜) 改寫自 2020 年 12 月 28 日 暖化加劇極端天氣 2020 全球氣候災損達 4.2 兆/法新社

31、請問造成文中所指的暖化，元凶是下列哪種現象或效應？(A)臭氧破洞 (B)溫室效應 (C)蝴蝶效應 (D)熱島效應

32、請問氣候異變帶來的眾多結果中對大洋洲的三大島群而言，殺傷力最大的是？

(A)乾旱 (B)暴雨 (C)風雪 (D)海平面上升。

33、承上題，為何該項變化會對三大島群影響比一般島國來得大？

(A)島嶼面積小 (B)島嶼數量多 (C)島嶼海拔低 (D)島嶼分布廣

※【公民科】第 34-50 題

34、世真每天一早起床都會打開手機搜尋中央氣象局網站查詢氣象資訊，亦會閱讀「中學生報」了解這周國內外新聞大事。

上述世真的行為符合下列概念的定義？(A)駭客 (B)閱聽人 (C)媒體人 (D)文藝青年。

35、依據我國相關法律規定，設籍於臺北市的庭謙首次參與我國「正副總統選舉」，希望將手中神聖的一票投給他心目中理想的候選人。庭謙應於臺北市設籍滿幾個月才有投票的資格？

(A) 3個月 (B) 4個月 (C) 5個月 (D) 6個月

36、承上題，此次總統大選亦有四位同學一起前往投開票所，他們身上攜帶的物品，請問根據我國相關法規，哪一個人可以順利進場投票？

(A)貴祥	(B)翊苓	(C)仁和	(D)家儀
身分證、印章、照相機	健保卡、投票通知單	身分證、健保卡	印章、自然人憑證

37、下列各家報社本日新聞頭條，何者的標題有加入主觀的意見陳述及價值判斷？

(A)



(B)



(C)



(D)



38、民主國家中，「媒體識讀」是不可或缺的公民素養，最主要的原因為何？(A)媒體是為政府政策宣導服務而存在 (B)媒體保障了公民可以自由發言的權利 (C)媒體提供公民完全正確的學習管道 (D)媒體設定討論的公共議題可形成政策。

39、班上同學一起討論對於「政治參與」的看法，下列哪一位同學的敘述最正確？

- (A)郁琪：「參與政治只能透過選舉投票的方式達成。」 (B)博宇：「政治參與是公民的權利，國民無法享有。」
(C)宣竹：「和朋友討論政府政策也是一種政治參與。」 (D)敏皓：「只有加入政黨之後，人民才能參與政治」

40、在日常生活中，我們常透過媒體來理解社會現象，因此「媒體識讀」成了現代社會應具有的公民素養，請問身為閱聽人我們要如何培養「媒體識讀」的能力？(甲)主動思辯能力 (乙)溝通與協調 (丙)辯別「事實」與「意見」 (丁)新聞撰稿能力 (戊)電腦資訊能力 (A)甲乙 (B)甲丙 (C)丙丁戊 (D)甲丙丁。

41、(2020/12/26 自由)『日前有民眾在公共政策網路參與平臺(<https://join.gov.tw/>)提案指現在學生睡眠普遍不足，上課時常會有打瞌睡的情況，希望藉此能延後上課時間，「國高中上課時間改為 9 點 30 分至 5 點整放學」，也讓學生讀書效率加倍。附議人數目前已超過通過門檻，議題也在社群平台掀起熱議。對此，教育部初步回應，全案尚涉及地方權責，教育部將再行研議，將於明年 2 月 23 日前具體回應。』上文中可看出公共政策網路參與平台顯現媒體發揮的哪一項公共角色？

- (A)提供平臺讓民眾了解政策 (B)匯集民意讓平臺成為守門人
(C)政府設定議題引導討論方向 (D)提供空間平臺評論公共議題。

42、依據相關法律對於合格選舉人的各項規定，下列哪一位「沒有資格」投票選出 2020 年總統大選？

	年齡(歲)	在選舉區設籍時間	備註
(A)	40	1 年	現任副總統
(B)	20	5 年	受監護宣告
(C)	22	7 個月	因缺課過多被學校退學的大四學生
(D)	35	6 個月	因犯罪被法院宣告褫奪公權

43、2019 年是香港局勢多變的一年，「反送中」、「逃犯條例修訂」不斷發展與升級，香港人提出「光復香港，時代革命」的口號，並引發全世界廣泛關注。一連串的行動大部分抗爭始終是沒有代表群眾的領導人和組織的自發運動。在沒有明顯統一的組織帶領和呼籲下，示威者透過網際網路平臺號召各地民眾發起各式抗議活動，並經由網路迅速傳播全世界，讓全球各地人了解香港問題。下列何者最能說明香港的社會現象？(A)網路發達提升閱聽人媒體識讀能力 (B)網路發達削弱了民間團體的影響力 (C)網路發達擴大民眾公共參與的機會 (D)網路發達使閱聽人僅成訊息接收者。

44、近年來由於網路通訊軟體發達，大量訊息在手機的聯繫群組間快速流傳。右圖是小芳家庭群組裡的對話，根據圖中內容判斷，在網路科技發達的時代，下列何者更應受到重視？【109 會考】

- (A)媒體識讀的素養 (B)醫療技術的提升 (C)資訊科技的設備 (D)生命倫理的推廣。

45、新聞報導：新竹縣及縣內的竹北市人口成長快速，若照目前的增長速度推估，到了 2018 年底舉辦地方選舉時，依據相關法律的規定，竹北市選民所能選出的地方民意代表席次，都各將增加一席。上述報導中所指稱的地方民意代表，應為下列哪一組合？(A)市議員、立法委員 (B)縣議員、立法委員 (C)市議員、市民代表 (D)縣議員、市民代表。【108 會考】

歡樂家庭群組

叔叔

網路上說，甲狀腺有問題的人，從以形補形的觀點來看，應該多吃魚頭，有助於補充甲狀腺。

小芳

真的嗎？可是有醫生說這是沒有根據的網路謠言，反而要小心吃太多對身體會造成負面影響。

已讀 8 人

46、右圖是中央選舉委員會的宣導海報，這是加強宣導何項原則？
 (A)普通 (B)平等 (C)直接 (D)無記名。

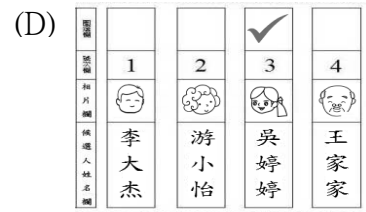
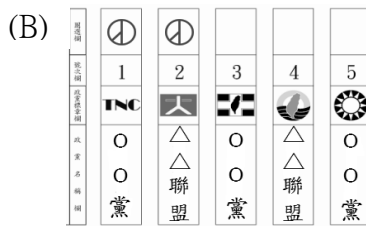


47、承上題，根據右圖內容判斷，該圖與下列何項規定的精神相同？
 (A)只能使用投票所戳章圈選候選人 (B)只能投一張票且每張票價值相等
 (C)受監護宣告未撤銷者沒有投票權 (D)選民須帶證件親自到投票所投票。

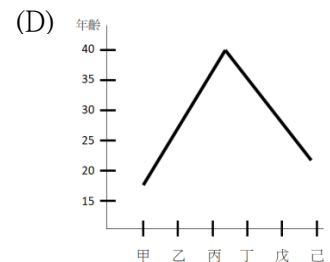
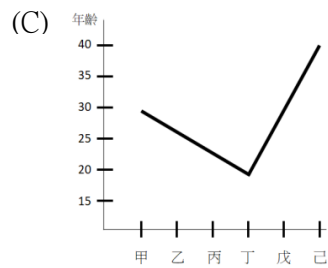
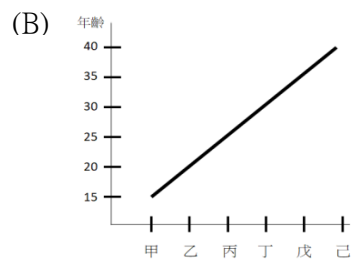
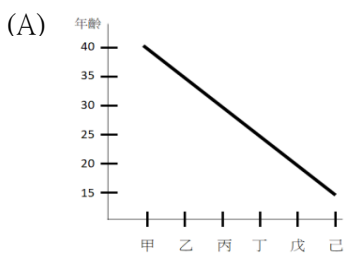
48、右圖是柔安參加我國某黨造勢晚會的現況，從圖中內容判斷，柔安最可能是參與何種公職人員選舉？ (A)正副總統選舉 (B)立法委員選舉 (C)立法院院長選舉 (D)省主席選舉。



49、承上題，依據我國法規，下列哪一張票是有效的政黨票？



50、(甲)參選金門縣縣長 (乙)參選阿里山鄉鄉長 (丙)參選泉源里長 (丁)公民投票 (戊)參選基隆市市長 (己)參選總統、副總統。我國在公職人員選舉及公民投票上設有年齡限制，若依照甲~己各項最低年齡限制的規定，依序畫出的連接線，最接近下列何者？



試題完成，記得再檢查一遍答案卡與試卷，並務必將自己的答案抄寫於題目卷上，以利試後檢討。