

臺北市新民國中109學年度 第一學期 9年級社會領域 第3次段考試卷

九年 ____ 班 座號：____ 姓名：____

一、單選題(1-50題，每題2分。)

※【歷史科】第1-17題

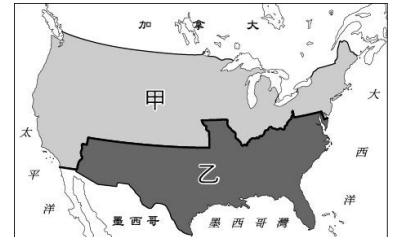
01、小維在介紹某位科學家時，拿出一張如右圖的說明圖片。從圖中內容判斷，小維應該在介紹下列哪位科學家？ (A)培根 (B)牛頓 (C)伽利略 (D)哥白尼。



02、當學校的籃球校隊外出比賽，若遭慘敗，會形容為「慘遭滑鐵盧」。請問：此一諺語的典故與下列哪一位人物有關？ (A)凱撒 (B)路易十六 (C)拿破崙 (D)路易十四。

03、十七世紀有些歐洲君主奉行「絕對專制」，認為王權神聖不可侵犯，人民僅能被動地服從命令。請問：下列何者不是此類君主的特色？ (A)主張權力來自上帝授予 (B)實施中央集權制度 (C)以教會的意見為最終依歸 (D)軍隊與政府官員直屬於帝王。

04、右圖是十九世紀某國國內的形勢圖，甲、乙兩個地區因對某件事的立場不同而發生衝突。關於這個事件，下列敘述何者正確？



(A)這個事件發生在歐洲 (B)甲乙發生衝突後，爆發百年戰爭 (C)最後甲乙分裂為兩個國家 (D)甲的立場是反對蓄奴。

05、工業革命提高生產力，也帶動了交通運輸發展，而其最初是肇始於哪一項產業？

(A)紡織業 (B)手工業 (C)農業 (D)礦冶業。

06、兩黨制是指一個國家由兩個勢均力敵的政黨，通過競選取得議會多數席位，或者贏得總統選舉的勝利，而輪流執政的政黨制度。請問：這樣的制度最早源自於哪個國家？ (A)希臘 (B)法國 (C)美國 (D)英國。

07、老師講解某位學者的學說：「他主張自由貿易並不需要政府過多的注意與限制，競爭愈為自由與普遍，則愈有利於社會，也能使國家得到充分的發展與繁榮。」老師最可能是介紹下列哪一位學者？

(A)馬克思 (B)孟德斯鳩 (C)亞當斯密 (D)馬基維利。

08、有位歷史學者指出：「這兩百多年間人類製造的東西，比過去人類幾十萬年中製造的東西還要多得多。」請問：會造成這種現象，主要是受到下列何者的影響？ (A)海外探險拓殖 (B)宗教改革 (C)科學革命 (D)工業革命。

09、法國在美國獨立100年時，送給美國一座自由女神像。自由女神腳下是打碎的鎖鍊，象徵掙脫暴政的束縛，右手高舉著自由火炬，左手則捧著一部重要文獻，請問：自由女神手上所捧的文獻是什麼？

(A)人權宣言 (B)權利法案 (C)開羅宣言 (D)獨立宣言。

10、「哥倫布發現了新大陸，□□發現了新宇宙。」這是在描述□□因為發明了望遠鏡，得以發現宇宙中行星繞太陽的真相。請問：□□是哪位科學家？ (A)伽利略 (B)哥白尼 (C)牛頓 (D)笛卡兒。

11、發生於十八世紀的美國獨立運動和法國大革命，反抗暴虐的殖民政權及專制王權，人民力量獲得空前勝利，並在保守的歐洲政局掀起濤天巨浪。請問：下列何項是兩者的共同處？ (A)革命的發生均受到啟蒙運動的影響 (B)革命後均制定三權分立的憲法 (C)革命過程均處死國王 (D)革命結束後均建立維繫百年以上的共和政府。

12、湘庭於歷史人物傳記中閱讀了一段關於帝王的評述如下：「他對西歐的進步勢力感到興趣，西元1696至1698年間拜訪了幾個國家。回到俄國後，引進了西方技術，讓政府及軍事體系現代化，並於西元1703年，把首都遷到緊鄰波羅的海的新建城市——聖彼得堡。他削弱貴族和教會勢力，增強君王權力。由於讓俄羅斯躋身歐洲強權，他被廣泛視為俄羅斯歷史上傑出的統治者和改革者，但某些改革實施手段太過粗暴，造成相當多的傷亡。也因為他拋棄了許多俄羅斯獨特的文化而被民族主義者譴責。」請問：這位帝王是下列何者？

(A)腓特烈二世 (B)彼得大帝 (C)凱薩琳二世 (D)路易腓力。

13、奧利佛是一位生活在19世紀英國礦場裡的小童工，年僅12歲，每天工作10幾個小時，穿梭在狹窄汗穢的環境中，只能領微薄的薪水，同礦場裡，如同奧利佛這樣的童工還很多。請問：造成奧利佛這樣小童工處境的是哪一事件？

(A)科學革命 (B)宗教改革 (C)工業革命 (D)啟蒙運動。

14、承上題，當時有一位學者，關心社會底層的勞工朋友，對於貧富差距的問題，主張要發動階級鬥爭，打倒有產階級，平分有產階級的財產，以達成共產的目標。請問：這位學者是何人？

(A)笛卡兒 (B)馬克思 (C)亞當斯密 (D)瓦特。

◎這場會議是西元1814~1815年時，在奧國所召開的一次歐洲各國外交會議，會議是由奧國政治家提議和組織的，其目的是重劃戰爭後的歐洲政治地圖。會議由保守人士主導，所採取的是正統原則，目的是為謀求歐洲的穩定與和平。請回答下列問題：

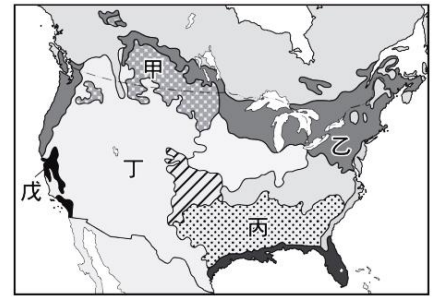
15、根據文中內容判斷，這場會議應是指下列何者？ (A)大陸會議 (B)三級會議 (C)國民會議 (D)維也納會議。

16、文中提及的奧國政治家應是下列何者？ (A)梅特涅 (B)伏爾泰 (C)林肯 (D)羅伯斯比。

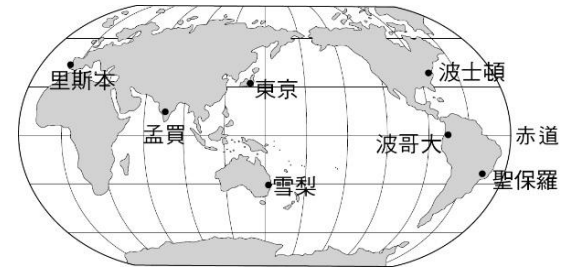
17、會議的目的為重劃戰爭後的情勢，而這場戰爭最初應是由誰所發動的？ (A)林肯 (B)拿破崙 (C)清教徒 (D)平民階級。

※【地理科】第 18-33 題

- 18、北美洲五大湖其中之一不但是世界最大淡水湖，同時五大湖的淡水更佔全球淡水資源的 20%，究竟這五個湖泊的出現和下列哪種營力最密切？ (A)冰河 (B)斷層 (C)海水 (D)火山
- 19、「美國某處大量種植棉花，形成了棉花帶，早期對勞力有強烈需求故贊成蓄養黑奴。」此議題甚至是美國南北內戰的重要導火線，請問上述所指的農牧區分布於附圖何處？ (A)甲 (B)乙 (C)丙 (D)丁。
- 20、美國、加拿大與墨西哥於 1994 年來成立何種經濟組織，藉由減免關稅促進貨物流通，以求工商業進一步發展？ (A)ASEAN (B)WHO (C)OPEC (D)NAFTA



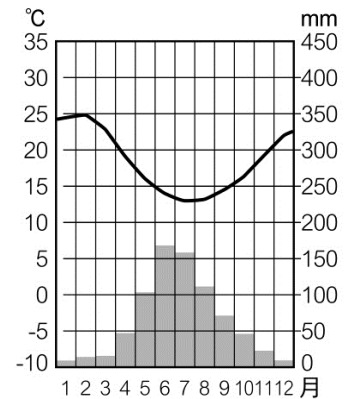
- 21、富豪昀霖計畫要搭乘私人船隻環遊右圖中的城市，藉機拜訪他位在各地的女朋友們，而當他在雪梨與女友參觀歌劇院的同時，波士頓的女友下最後通牒要求兩天內見面否則分手，請問心急如焚的昀霖只能將希望寄託在下列哪一條運河身上？ (A)巴拿馬運河 (B)京杭大運河 (C)蘇伊士運河 (D)美茵-多瑙運河



- 22、右圖為巴西的人口分布圖，白點處是人口集中地區，請問呈現如此狀態的原因主要為何？ (A)地形 (B)宗教 (C)水文 (D)氣候。
- 23、健銘有著彭于晏的體格、李奧納多的臉龐、奧斯卡影帝般的演技、葛萊美獎歌手般的嗓音，打算國中畢業就前往美國衝刺他的電影演員生涯，請問他最可能前往哪一個城市？ (A)底特律 (B)洛杉磯 (C)休士頓 (D)西雅圖
- 24、內華達州位在美國境內的洛磯山東側，而造成當地乾燥少雨且溫差大，對當地發展的限制極大的主要成因為下列何者？ (A)背西風 (B)身處內陸 (C)高壓籠罩 (D)寒流影響



- 25、苡恩身為北美地區的農夫卻不曾親自下田，她只負責接客戶訂單，選定作物後聯絡農業公司的詩涵包辦所有事務，進而完成訂單，這樣的農業經營方式，該有具備哪種特色？ (A)集約度高 (B)單位面積產量大 (C)商業化經營 (D)農產品種類多元
- 26、下列哪個國家在中南美洲中，但是使用的語言卻和鄰近國家不同？ (A)哥倫比亞 (B)委內瑞拉 (C)墨西哥 (D)巴西



- 27、中南美洲人口集中都市，而許多大都市的形成大多歸因於當初殖民母國對於哪一項條件的需求極高？ (A)交通 (B)地形 (C)氣候 (D)資源。
- 28、智利南北長度超過四千公里，而右圖所代表的氣候種類型，應位在智利國土的哪一段中？ (A)智利國土北段 (B)智利國土中段 (C)智利國土南段 (D)智利無此一種氣候
- 29、下列關於北美洲常常發生區域性天氣災害的敘述，何者正確？ (A)美國西南沿岸加州夏季颶風侵襲事件屢見不鮮 (B)東北部拉不拉多高原在春夏之際常有龍捲風災害 (C)冬春之際由於北方沙塵隨季風南下，全區會有沙塵暴現象 (D)北方冷空氣經常自平坦的中部平原南下，導致暴風雪
- 30、南美洲的溫帶氣候中，獨獨缺了溫帶大陸性氣候，請問其原因在於？ (A)距海遠近 (B)陸地形狀 (C)緯度高低 (D)洋流性質

◎請閱讀短文，並回答下列問題：

民主黨籍的拜登早前勝出美國總統選舉，即將在明年 1 月入主白宮，同屬民主黨的前總統奧巴馬認為，美國當地「瘋狂的陰謀論」文化令國家分裂漸趨嚴重，要扭轉這個趨勢，仍然有很漫長的路要走。

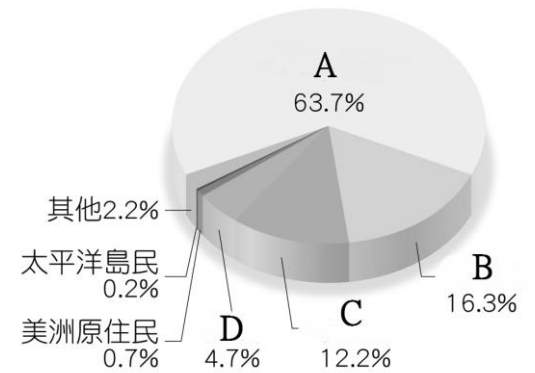
作為美國歷史上第一個黑人總統，奧巴馬接受專訪時說，種族問題是美國歷史上「其中一個主要的爭議點」，形容那是美國社會的「原罪」。他認為，美國過去這個夏天發生的一系列事件，包括男子佛洛伊德 (George Floyd) 死亡引發的一系列衝突，同時創造了令人悲傷和令人鼓舞的時刻。黑人男子佛洛伊德在被警察控制中死亡，警察被指濫用武力，很多社群的抗議演變成嚴重的衝突，不僅在美國，甚至在全球都有反應。「Black Lives Matter」(黑人的命也是命) 和美國種族問題今年夏天再次因為種族議題爆發示威，浪潮蔓延全國。

文章改寫自 2020 年 11 月 16 日 BBC NEWS

31、美國常被稱為是「民族的大熔爐」，這句話最能反映出下列哪項事實？

- (A)美國原住民種類世界最多 (B)美國是歷史最悠久的國家之一
(C)美國具有多元的文化 (D)美國的強勢文化同化了世界其他民族

32、右為美國境內民族比例圖，文章中所提及 George Floyd 所屬民族是圖中的哪一種代號？ (A)A (B)B (C)C (D)D



33、根據文章，下列何項議題並非美國目前必須正視而積極處理的？

- (A)弱勢文化的維護 (B)族群公平的維持
(C)街頭遊行的合法性 (D)警方執法的尺度拿捏。

※【公民科】第 34-50 題，每題 2 分

34、請判斷下列何者屬於「失業人口」？ (A)辭掉工作出國念研究所的文薇 (B)大學剛畢業四處面試的凱翔 (C)十八歲開始環遊世界的湘庭 (D)宅在家當啃老族的小軒。

35、企業除了獲取利潤創造盈餘外，也應承擔企業的倫理與責任。下列四名公司經營人，何者的作為不符合企業應有的倫理與責任？ (A)高老闆在公司成立哺乳室，提供女性員工使用 (B)林老闆設立健身房，提供員工休閒 (C)曾老闆提供良好的售後服務 (D)洪老闆為了節省成本，要求員工加班不得支領加班費。

36、下列生活行動中，哪個行為最無法減少二氧化碳排放量？ (A)改變飲食習慣，多吃本地生產的當季食物 (B)將各類型帳單從紙本方式改成電子形式寄送 (C)時常網購國外名牌服飾與鞋子 (D)若非要開車不可，先檢查車胎以及後車廂，只載必要的東西。

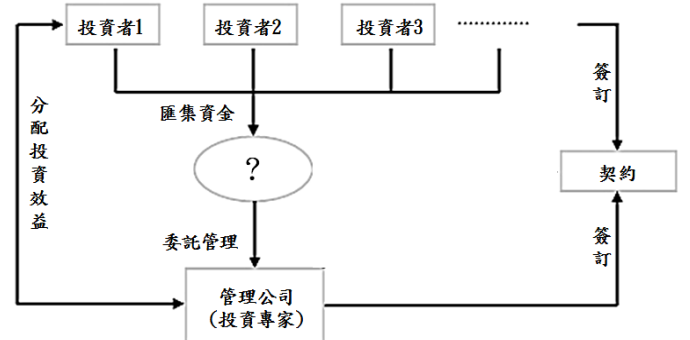
37、昀儒和昀霖兩人共同出資成立手遊 APP 設計工作室，利用創意發想各種好玩的手遊 APP 產品，創造了可觀的利潤。請問昀儒和昀霖的工作室應該屬於哪一種企業型態？ (A)社團 (B)合夥企業 (C)獨資企業 (D)股份有限公司。

38、奕盼原本在實體書店工作，但近年來網路書店盛行、電子書崛起，實體書店較難生存，他的老闆決定轉型經營網路書店，但因為他不具備相關專業，只好離職。請問：關於奕盼這類型的失業，下列敘述何者正確？ (A)可透過職訓中心增加就業機會 (B)此種類別屬於摩擦型的失業 (C)經濟大環境不景氣使得百業蕭條 (D)奕盼缺乏的是找工作的行動。

39、(2020/12/18 經濟日報)「鮮活實業於台北國際食品展推出採用最先進的植物纖維萃取工法和成型技術製作而成的「竹纖維吸管」，使用天然的環保原料，保證無毒、無塑化劑，且能夠自然分解於土壤中達到□□的目標，最重要的是不同於市面上的紙吸管，泡在飲料裡不會軟爛，吸珍珠也都不成問題！」從新聞敘述中，該公司想要達成的目標□□應為下列何種概念？ (A)機會成本 (B)絕對利益 (C)永續發展 (D)供需法則。

40、根據右圖，判斷這是哪一項理財工具的運作示意圖？

- (A)股票 (B)個人保險 (C)公司債券 (D)共同基金。



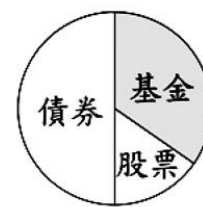
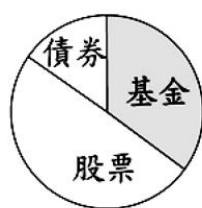
41、(2020/9/30 自由時報)「某求職網日前發布「新冠薪資貧族 VS.疫後斜槓族調查」，調查結果顯示，40.7%受訪者是每月薪資幾乎花光甚至透支的「月光族」；81.9%認為每月薪資不夠應付生活上所有開銷，平均必須加薪 9831 元才夠用。」請問：下列何者理財觀念才能避免出現更多「月光族」？

- 【甲】不論薪資多寡，都應該要理財，先設定好目標，再一步一腳印、循序漸進，慢慢累積財富
【乙】投資野心要大、不要顧忌自己有多少資產，才能追求反敗為勝的機會
【丙】把錢分散在不同的投資管道，除了能有效規避風險外，也能做好資產配置和風險管控
【丁】工作壓力大應大方犒賞自己，因此每個月一領到薪水，要感謝自己一個月的辛勞而大買特買、增添行頭
【戊】任何投資都有虧損風險，因此不要投資任何理財工具。

- (A)甲丙 (B)甲丙戊 (C)乙丁戊 (D)甲乙丙。

42、宥杰計畫要帶全家到南美洲自助旅遊，以十年為限，並花了時間研究各種不同理財工具。他決定要採取較「保守穩健、低風險」的方式來賺取旅費，下列何種投資組合符合這個想法？

- (A) (B) (C) (D)



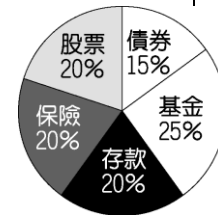
43、(2020/10/6 蘋果日報)「某文教集團董事長返台後居家檢疫期間趴趴走，遭查獲後還刻意隱瞞外出次數，被新北衛生局重罰 100 萬元，而外界傳聞「吹哨者」員工，遭到公司報復開除，因而向勞工局投訴其 7.5 萬元業績獎金與 66 萬元資遣費全都拿不到。」請問該名員工向勞工局投訴公司，捍衛自己的權利的行為，符合下列何項理念？
 (A)職場倫理 (B)綠色經濟 (C)永續發展 (D)尊嚴勞動。

44、甲、乙、丙、丁四人分別進行了一項投資，其投資報酬率如右表所示，若他們各自投資所獲得的利潤皆相同，根據表中內容判斷，何者的投資金額最高？
 (A)甲 (B)乙 (C)丙 (D)丁。

投資人	投資報酬率
甲	10%
乙	20%
丙	30%
丁	40%

【108 會考】

45、右下圖是宇哲的投資理財工具分配比例，其投資組合方式符合何種理財原則？
 (A)比較利益法則 (B)分散風險原則 (C)負擔能力原則 (D)資源分配原則。



46、右圖為阿嘉 2015 年 10 月的財務記錄。根據圖中資料判斷，阿嘉該月的投資報酬率，可透過下列哪兩項記錄內容得知？
 (A)甲、丙 (B)甲、丁 (C)乙、丙 (D)乙、丁。

【107 會考】

2015 年 10 月財務記錄：	
甲、	月初時總共有現金 40 萬元。
乙、	拿出 30 萬元現金進行投資。
丙、	投資結果共獲利了 10 萬元。
丁、	現金因獲利增加為 50 萬元。

47、某媒體常在網站上以虛擬動畫呈現新聞內容，但因表現方式有時過於血腥、暴力，引起輿論譴責。民間團體呼籲該媒體應顧及報導對社會可能產生的負面影響，勿以商業利益為優先考量。上述團體的訴求內容，主要凸顯出下列何項議題的重要性？【108 會考】
 (A)資訊科技的多元發展 (B)社會團體的監督力量 (C)新聞報導的自由程度 (D)傳播媒體的社會責任。

①企業社會責任是指企業在營運範疇內應該遵守的是非判斷準則，大致可以分為對員工、消費者及社會三大面向，請判斷下列各家公司的作法，符合哪一個面向的企業倫理？

參考選項

- (A)對員工
- (B)對消費者
- (C)對社會與自然環境

48、(2020/12/18 聯合新聞網)「TOYOTA、LEXUS 和 HINO 台灣總代理和泰汽車自 2011 年起，每年至少捐贈一台「和泰號」捐血車，平均打造一台捐血車需花費約 650 萬元，幾年捐贈下來占全台捐血車數量約 16%，是台灣捐贈最多捐血車的企業，歷年來和泰號捐血車累計募血超過 112 萬袋，為台灣血液庫注入超過 2.8 億 c.c. 血量，平均每月服務全台上萬名捐血民眾，今年加入和泰 11 號捐血車後，預計每年可再擴大募集約 620 萬 c.c. 血量，為台灣醫療用血提供強力支援。」

49、(2020/12/2 聯合新聞網)「飛騰雲端系統公司提供員工「靈魂洗滌假」，獎勵每年表現優良的員工有 2 至 5 天的無理由、無條件的休假。公司人管師表示，飛騰是系統業，工作壓力大，也很燒腦，靈魂洗滌假就讓員工想幹嘛就幹嘛，全然放鬆。」

50、(2020/12/15 中央通訊社)「士林地檢署偵辦口罩國家隊弊案，查出加利科技將 395 萬餘片中國製非醫用口罩流入實名制，詐得徵用款 1068 萬餘元，另挪用熔噴布製作口罩獲利 2339 萬餘元，今天起訴負責人林明進等被告。」上述新聞內文，顯示該公司缺乏哪一面向的企業倫理？

試題完成，記得再檢查一遍答案卡與試卷，並務必將自己的答案抄寫於題目卷上，以利試後檢討。