

臺北市立新民國中 109 學年度 第二學期 七年級社會領域 第一次段考試卷

七年 班 座號： 姓名：

單選題(共有 50 題，請掌握好答題時間。)

※【歷史科】第 1-17 題，每題 2 分。

- 西元 1930 年代中後期，日本積極對外擴張，並計畫將臺灣建設為對外擴張的前進基地，此時日本政府在臺的施政原則，不包括下列何者？
(A)皇民化 (B)工業化 (C)南進政策 (D)民族自決
- 臺中市政府拆除日治時期清水街役場的木造宿舍，引起地方人士要求保存的呼聲。回顧過去，日治時期日本治臺的三大基礎方針為：(甲)無方針；(乙)內地延長；(丙)皇民化。這三項方針施行先後順序為何？
(A)甲→乙→丙 (B)乙→甲→丙 (C)丙→甲→乙 (D)甲→丙→乙
- 日本統治臺灣，初期任命武官擔任總督職務，中期改以文官任職，1930 年代以後，因為下列哪一個原因，日本政府再次以武官就任總督，嚴強控制臺灣？
(A)西來庵事件時臺灣人民揭竿起義 (B)日本欲將臺灣建設成南進基地 (C)理蕃政策一再以高壓手段對付原住民，引發霧社事件 (D)捲入第一次世界大戰，全臺動員徵兵
- 陳阿山是一位生活在日治時期的漢人，當時臺灣總督府正在積極推動皇民化運動，他的生活中會遭遇下列哪一種狀況？
(A)此時統治當局大力推展『雙語運動』，他被迫取英文名字、日文名字，公眾場合則用臺語 (B)他翻開報紙，看到當天刊載台南玉井發生反抗日本的西來庵事件 (C)這時候總督府在臺灣發展的口號是工業臺灣、農業日本 (D)他看不到歌仔戲、布袋戲，也無法到神壇祭拜，全家定期去參拜神社
- 右圖是臺灣某一時期對外代表的國旗，這面國旗會出現在下列哪個階段？
(A)漢人反對清政府統治，欲獨立建國 (B)孫中山革命團體到臺灣成立新國號 (C)臺灣人民武裝抗日，反對日本接收臺灣 (D)臺灣一國兩制，北部為日本政權，南部為清領政權
- 「嘿嘿……嘿啞一隻鳥仔哮啾啾，咧嘿呵，哮到三更一半暝，找無巢，呵嘿呵……。」這是臺語歌〈一隻鳥仔哮啾啾〉的部分歌詞，描寫的是被拋棄的小鳥不再受母鳥眷顧，每天哭啼到三更半夜。這首歌是在暗喻哪一項事件的發生？
(A)甲午戰爭後臺灣被迫割讓給日本 (B)西來庵事件臺人被日方殘殺 (C)清領時期所爆發的林爽文事件 (D)日治時期原住民抗日的霧社事件
- 臺灣總督府所建立的統治體制具有許多特色。下列敘述何者錯誤？
(A)臺灣總督擁有行政、立法、司法及軍事大權 (B)臺灣總督的統治基礎法源是《六三法》 (C)利用村里長制度輔助警察施政 (D)警察是臺人日常生活中權力最大的日本官吏，被臺人稱為「大人」
- 〈賽德克·巴萊〉是一部 2011 年臺灣導演魏德聖拍攝的電影。片名〈賽德克·巴萊〉意為「真正的人」，講述臺灣島上人民抗爭的故事，這部電影讓國人更加重視臺灣歷史。有關這部電影的描述，下列何者錯誤？
(A)這是發生在無方針初期文官統治時期的事件 (B)事件發生原因是因為日本人實施「五年理蕃計畫」而開發山林資源，侵擾部落導致原住民不滿 (C)當時原住民族被日本人施以種族歧視政策 (D)現在南投縣仁愛鄉清流部落的賽德克族人是在事件後被遷居至此，這是總督府檢討統治原住民政策後強制性的集團移住
- 下列有關日治時期的警察制度，誰的說法正確？
(A)甲生：「當時警察被人民稱為『大人』，接受保正指揮。」 (B)乙生：「當時警察權責極大，甚至可以制定法律處分罪犯喔！」 (C)丙生：「警察除了要調查人口、督導公共衛生，連原住民都得被警察管！」 (D)丁生：「青壯的警察還組成『壯丁團』，協助救災及鎮壓抗日分子呢！」
- 臺灣為一海島，經濟高度依賴對外貿易，港口建設十分重要。日治時期建造哪兩個港口，使臺灣成為往來東亞的重要中繼站？
(A)安平港、高雄港 (B)高雄港、臺中港 (C)高雄港、基隆港 (D)基隆港、花蓮港
- 日治時期，日人於 1905 年實施第一次的人口普查以及舊慣調查，下列何者不是實施這種政策的目的？
(A)準確的掌握人口動態 (B)有助於了解臺灣的風俗民情 (C)了解臺灣的舊有習慣 (D)配合臺灣人的需要，進行民主政治改革
- 日治初期，臺灣有許多種貨幣在通行，造成很多困擾，為解決這個問題，政府統一發行如右的貨幣。當時臺人使用的是哪個機構所發行的貨幣？



- (A)臺灣銀行 (B)臺北銀行 (C)日本銀行 (D)日臺商銀

13. 下列左表為日治時期臺籍與日籍兒童就學率之比較，右表顯示日治時期某一年臺灣的教育狀況，顯示出殖民教育體制下的教育實況。下列關於對於日治時期臺灣教育政策的敘述，何者較符合實際情況？

年代	1904	1909	1914
臺籍	3.8%	5.5%	9.1%
日籍	67.7%	90.9%	94.1%
年代	1920	1925	1930
臺籍	25.1%	27.2%	33.1%
日籍	98.0%	98.3%	98.8%
年代	1935	1940	1944
臺籍	41.5%	57.6%	71.3%
日籍	99.3%	99.6%	99.6%

項目		日本人	臺灣人
基礎教育	學生數	23,711	210,727
	學齡兒童就學率	98.2%	28.4%
中等以上教育	中等學校學生數	477	251
	專門學校學生數	6,856	4,642
	高等教育學生數	220	28

- (A)1943 年，臺灣正式實施四年義務教育，教材採取日語、漢文雙軌並行制 (B)1920 年代，日本實施「內地延長主義」政策，從教育統計數字卻無法隱瞞臺、日人教育機會不均等的現實 (C)日本因歐戰後民族自決風氣大盛而允許臺人自治，使得以日語教育為主的學校教育無法推廣 (D)臺、日人教育機會均等，無論中學或高等教育都以培養基層行政人才為主
14. 依照上題敘述，下列其中哪個選項正確？
 (A)高等教育：設立臺灣帝國大學廣招台日學生就讀，為現在臺灣大學之前身 (B)教育原則：同等待遇、隔離政策為原則 (C)初等教育：日本人進小學校，臺灣人進公學校，原住民進蕃童教育所 (D)中等教育：臺籍菁英所創設的台北中學校，提供臺人較為平等的教育機會

◎請閱讀短文，並回答下列問題：

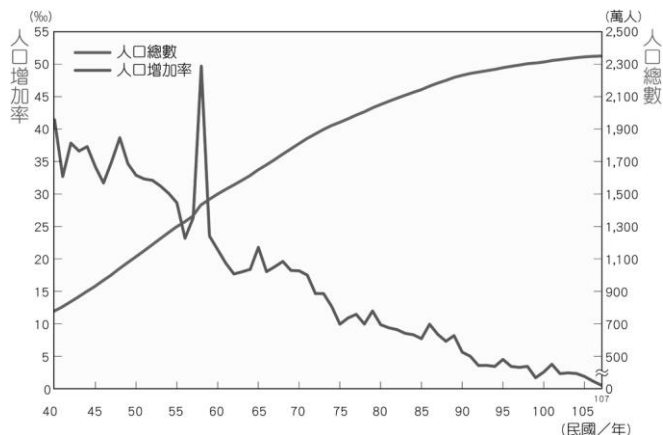
嘉南大圳計劃經費本為 4200 萬日幣。建築費不斷追加，面臨的困難又接踵而來。例如開通烏山嶺隧道時，曾發生爆炸，人員傷亡慘重，此段工程需六年才完成。當時民戶需出公工一人，以人力開挖築堤。集排水，疏洪、灌溉功能的嘉南大圳於 1930 年 5 月完工。其灌溉面積達 13 萬甲，使嘉南地區成為糧倉。其實除了大圳，30 年代前後重要的基礎建設還有發電廠（34 年完工）。總督府為了推動日資主導的工業化，穩定電力供應是不可或缺的。加上當時的工業教育逐漸完備，如 1931 年創立的台南高等工業學校。又整合工業與糖業研究所，以上總總，成功培養不少在地的技術人員，成為戰後台灣產業經營的助力。此外，總督府大興土木，所需的補助經費甚殷。除了工商業稅收外，還有依賴的財源是鴉片專賣。自從日本接管台灣，一直沒有禁絕鴉片，反而提供特許吸食證明，販售不同等第的煙膏，更自詡為人道政策，實際上是難捨其中的豐厚利源。以 1919 年為例，4700 萬稅收中有 4 成為鴉片專賣收入。加上，煙膏上抽取嗎啡又另作藥用。直至 30 年代，日本內閣甚至整合鴉片，嗎啡營銷網絡。由朝鮮負責供應生鴉片給台灣總督府及關東廳，後者的粗製嗎啡及沒收嗎啡則轉交朝鮮專賣。日本國策下各殖民地分工合作，維繫鴉片網絡。執政當局不欲流毒傳至內地，又不想放棄巨大利益，託於說辭，正是這政策的矛盾所在。

節錄【電影說歷史 — 從《KANO》看台灣殖民時期的建設與同化政策】，作者 Martin Yim

15. 根據閱讀可知:「他雖然只是技師，但他完成了一項史無前例的浩大成就，以至於臺灣人感念他的貢獻，為他樹立銅像，也是少數保留到現在還未被拆除的日本人銅像，他的名字是？
 (A)佐久間左馬太 (B)伊藤博文 (C)後藤新平 (D)八田與一
16. 30 年代前後日本還興建了當時臺灣最大的水力發電廠，此發電廠發電量驚人，充裕的電力不僅供給全臺，也刺激了當時的產業發展。此發電廠是指下列何者？
 (A)石門水庫發電廠 (B)日月潭水力發電所 (C)烏山頭水力發電廠 (D)虎頭山水力發電廠
17. 日本統治臺灣時期，將許多物品列為專賣，以增加臺灣財政的收入。除了鴉片的專賣收入成為主要財政來源，還有許多物品也列入專賣。下列哪一物品不是專賣物品？
 (A)香菸 (B)稻米 (C)酒類 (D)樟腦

※【地理科】第 18-34 題，每題 2 分。

18. 根據右圖，民國 50~60 年代臺灣的人口增加率出現大幅變化，其原因為？
 (A)政局不穩大舉移民 (B)戰爭後嬰兒人數大增
 (C)軍民併入一般戶籍 (D)疾病蔓延大量死亡。
19. 去年臺北市的普林斯頓學校國小部，本來預計招生 60 位國小學童，沒想到開學後傳出只有 1 個學生真的完成繳費，請問上述的社會新聞顯示出近年臺灣的哪一項社會問題？
 (A)移出率低 (B)移入率低 (C)死亡率低 (D)出生率低

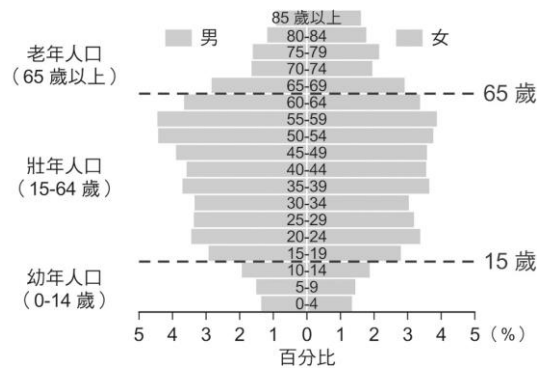


20、右圖為某國的人口金字塔，請根據其形態判斷最有可能是下列哪一個國家？

- (A)新加坡 (B)印度 (C)越南 (D)中國。

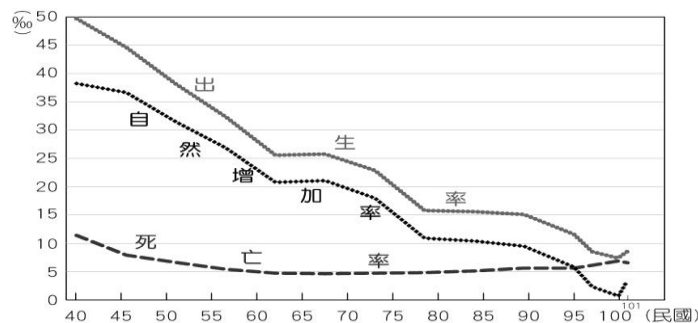
21、促使人口遷移的力量因地、因人而異，若以正常觀點來看，下列何者最可能是臺北市的拉力？

- (A)市區清幽寧靜 (B)市區空氣清新
(C)上班交通順暢 (D)基礎建設普及。



22、右圖為臺灣近 60 多年來出生率、死亡率、自然增加率的變化圖，請根據圖表的走勢判斷，自然增加率的起伏基本上與何者的連動性最強？

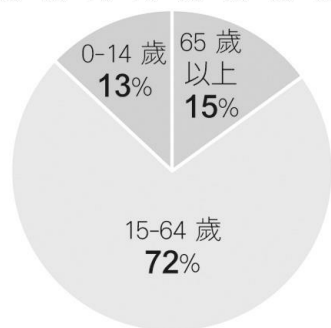
- (A)出生率 (B)死亡率 (C)移出率 (D)移入率。



23、依穎與韻軒的男友是臺灣職業籃球運動員，每當球賽到臺灣中南部進行時，兩人就會隨之到該縣市居住，待賽事結束再前往其他縣市，請問此舉對於臺灣可算是？

- (A)國際永久遷移 (B)國內暫時遷移 (C)國際暫時遷移 (D)國內永久遷移。

24、茗翔生意頭腦一級棒，當他看到右圖的臺灣人口比例時，馬上想到哪種產業在未來幾十年內勢必會持續火紅？(A)幼稚園 (B)安養院 (C)美容院 (D)按摩院。



25、下列陳述何者對於臺灣來說算是人口變化裡的「社會增加」？

- (A)紫媽決定利用暑假騎三輪車環臺 18 圈
(B)柏賢下決心為了女友們自北投搬家南投
(C)若琳小學時父母決定帶她自南非回臺定居
(D)品言與愛人在臺結婚並生下可愛的三胞胎。

26、根據右圖的臺灣人口分布圖，請從中分析下列哪一項臺灣人分布的特色是正確的？

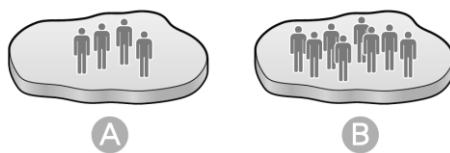
- (A)鄉村多於都市 (B)東部多於西部 (C)離島多於本島 (D)平地多於山地。

27、如果新民國中 702 班的女生人數為 10 人，男生人數為 7 人，則該班的性別比約為多少？(A)70 (B)80 (C)142 (D)90。

28、下列哪一國籍的配偶由於各種習慣與信仰皆與臺灣相似度最高，故來臺的外籍配偶人數為最多？(A)印尼 (B)中國 (C)越南 (D)美國。

29、若右圖 A、B 兩地的面積大小相同，單就圖中顯示判斷，兩地生活品質最可能有何不同感受？

- (A)B 地生活空間擁擠 (B)A 地公共建設容易毀損
(C)A 地資源耗損快速 (D)B 地環境維持自然原貌。

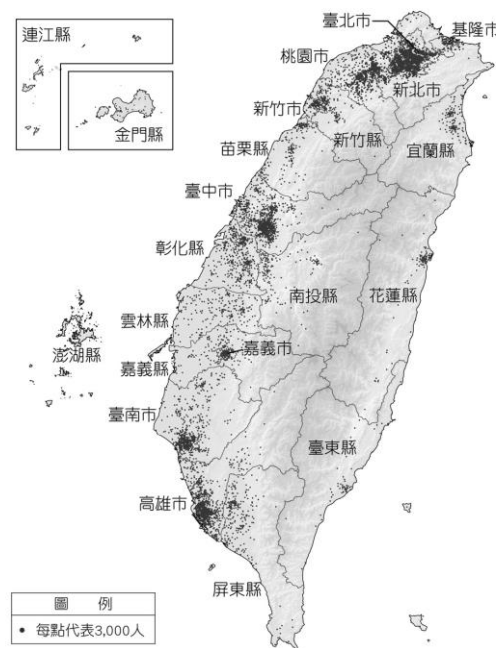


30、若一地的自然增加率為負值，所代表的意義為何？

- (A)出生 > 死亡 (B)出生 < 死亡 (C)移入 > 移出 (D)移入 < 移出。

31、15 歲的文謙家有 5 個人，分別是小他一歲的妹妹子淇、姐姐可謙 28 歲、媽媽宜安 47 歲、爸爸嘉陸 48 歲、奶奶芊以諾 67 歲。請問文謙家有多少人屬於壯年人口？

- (A)1 (B)2 (C)3 (D)4。



◎請閱讀短文，並回答下列問題：

內政部日前公布 2020 年人口統計，去年出生人數 16 萬 5249 人，創 20 年來新低；但死亡人數 17 萬 3156 人，超過出生人數近萬，人口首次呈現負成長，引發引發社會一陣譁然。但人口越來越少，是台灣獨有的景象嗎？把目光放眼全球，少子化已成國際趨勢。根據聯合國統計全球都在少生小孩，只是亞洲「進度」更快。

日本人口從 2007 年開始，已連續 13 年呈現負成長，韓國生育率更是拿下全球末段班。仔細探究日、韓少子化的原因，其中包含各種層面：像是無法負擔的房價、難以成長的薪水、避孕途徑增加、女性意識抬頭等等，很難找出一蹴可幾的解決方法。日、韓政府也持續在政策上下猛藥。「0 至 6 歲國家養」並不是郭董選總統才第一次出現的口號。2019 年 10 月，安倍政府便喊出「0 至 16 歲國家養」，並在同月份開始調漲消費稅（日本消費稅從原本的 8% 漲到 10%），期望藉由提高全體消費稅，實現育兒教育醫療免費化；韓國政府則是預計 2022 年起，每月提供育嬰補助，以及 200 萬韓元一次性的生育補貼以及育嬰假期間，每月 300 萬韓元津貼。

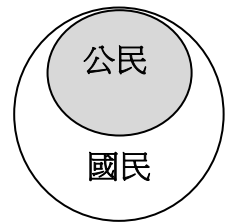
回頭看看台灣，少子化政策也被羅列在蔡英文總統主要 8 大政見中，並從上屆當選後，便提出少子女化對策計畫等因應措施，政院最近甚至還計劃加碼補助二胎，希望能挽救低生育率困境。然而，即令鼓勵生育法寶盡出。不論是日本、韓國，還是台灣，在去年新生兒數量上，都再創歷史新低。

改寫自 全球人數都在崩盤下塌，少子化是全球危機，還是臺灣轉機？ 報橘 2021.01.22


- 32、根據文中所描述之情形，下列何者**最不可能**是政府祭出的治本之策？
(A)產業發展轉型 (B)提供良好的托/教育環境 (C)放寬領養外國兒童的規範 (D)吸引外國人才與擴大外需市場。
- 33、若幼年人口比例低落，當他們成長為青壯年階段時，將面臨何項數據的飆升？
(A)性別比 (B)撫養比 (C)人口密度 (D)自然增加率。
- 34、臺灣的某任行政院長曾說造成臺灣少子化的原因有四，根據文章來分析，下列何者應該**不在**原因之中？
(A)托育問題 (B)低薪 (C)空屋率高 (D)教育問題。

※【公民科】第 35-50 題，每題 2 分。

- 35、右圖為「國民」與「公民」這兩個概念的包含關係。依圖所示，下列對於「國民」與「公民」的比較敘述何者正確？(A)「公民」都具備有「國民」身份 (B)「國民」都具備有「公民」身份 (C)只有「公民」才能參與國家公共事務 (D)「國民」參與公共事務有年齡限制。



- 36、下列何種組合**不符合**「團體」的定義？
(A)飛盤隊隊員 (B)搶購口罩人潮 (C)戲劇社團成員 (D)新民國中全體師生。
- 37、身為國中生的我們，目前可以透過以下哪一個管道來參與公共事務？(A)組織學生工會改變校園環境 (B)組織政治團體，監督政府施政 (C)為優良學生代表跟學長姐拉票 (D)參加全國公民投票表達意見。
- 38、右圖花蓮縣身心障礙服務中心長期的志工招募海報，呈現團體的哪一種特徵？
(A)民間性 (B)自主性 (C)營利性 (D)組織性。



- 39、我國《憲法》保障人民的結社自由，人民可依相關法律組織團體。請問：關於人民的結社自由權，下列何者之看法較為適當？(A)人民可成立任何團體而不受限制 (B)公民才具有權利組成或參加團體 (C)一個人不可以同時加入數個團體 (D)個人是出於自由意願而組成團體。
- 40、聯合國難民署網頁這樣寫著「是因迫害、戰爭或暴力而被迫離開自己國家的人士，他們是有正當理由畏懼，由於其種族、宗教、國籍、政治見解或於某一特殊團體而遭到迫害。全球超過三分之二的□□都是來自五個國家：敘利亞、委內瑞拉、阿富汗、南蘇丹和緬甸。」根據上文□□我們稱之為什麼？(A)國民 (B)公民 (C)難民 (D)遊民。
- 41、憂心中油第三天然氣接收站興建影響桃園大潭藻礁生態系，環保團體自去年 12 月發起「搶救藻礁」公投連署，日前超過 70 萬份珍愛藻礁公投連署書已送交中選會，是全台第一個由民間發起的生態保育公投案，可望今年八月舉行公投。上述環保團體的作法對公共生活有哪些方面的影響？
(甲)監督與影響政府施政 (乙)促成公共意見的形成 (丙)增進民眾的公共參與 (丁)形塑人民團體的權威 (戊)打擊政府的權力 (A)甲乙丙 (B)乙丙丁 (C)丙丁戊 (D)甲乙丙丁戊。



- 42、(2021/3/20 客家新聞)「桃園市擁有超過 500 隊環保志工隊，人數高達 3 萬 5 千人以上，其中在平鎮區新榮里就有一位志工鍾順保，今年 72 歲，加入環保志工隊 14 年來，每天風雨無阻出勤，里長表示，鍾老先生雖然有身心障礙及重聽，但是他熱愛社區，只要看見社區有小廣告或是回收物，都會自動帶回回收處分類處理，從不要求回報，讓社區居民相當感動。」鍾老生這樣的舉動展現了下列何種公民德性？
(A)尊重多元意見 (B)獨立思考與明辨是非 (C)捍衛正義與增進公益 (D)自主精神與自治能力。
- 43、(2021/3/18 udn)「台鐵擬推動四輪三班制，落實周休二日，但該舉可能讓員工月薪減少 1 萬 1000 元，台鐵企業工會宜蘭分會日前發起連署抗議，擬在清明連假合法休假，屆時台鐵宜蘭站、雙溪站恐鬧空城，外界憂心東部疏運受衝擊。對此，交通部長表示尊重並持續溝通，也希望員工考量台鐵是大家的，應以疏運順暢為職責。」從文中可知台鐵企業工會的目的為下列何者？(A)保障勞工權益，改善勞工生活 (B)推動公益慈善活動，為社會貢獻心力 (C)結交朋友，與人建立情誼 (D)結合政治理念，獲取執政機會。
- 44、請問：此次罷工活動能否順利落幕，有賴工會與政府**雙方協商看能否達成共識**的結果，期望他們展現了何種公民素養的表現？(A)追求社會正義 (B)秉持尊重與理性 (C)促進公眾利益 (D)遵守公共秩序。
- 45、下列是四位網友在網路聊天室聊天的內容，若其中一人為我國國民，僅根據他們的敘述判斷，何者在聊天當時最可能具有中華民國國籍？(A)小萍：「我的出生地是美國，不過現在在臺灣工作。」(B)小文：「等了五年，我下週將前往內政部申請歸化。」(C)小君：「我的父母都是日本人，但我在花蓮縣出生。」(D)小瑋：「我出生當天，父親正好當選嘉義縣縣議員。」

【106 會考】

- 46、右列是某加油站看板上的文字，根據其內容判斷，加油站業者該作為的目的，最可能是為了實踐下列哪一項公民素養？【103 會考】
(A)尊重多元文化 (B)擴大公共參與 (C)培養倫理道德 (D)追求社會正義。

歡迎您的光臨！
本公司專為身心障礙人士提供工作機會，讓他們得以自力更生。您的鼓勵是我們信心的泉源，感謝您的支持。

47、下表為子諾的近日活動的行事曆，根據內容判斷，她參加的哪一項活動與其他三者的團體性質不一樣？

(A)5月9日	家庭舉辦母親節聚餐
(B)6月4日	與大學社團同學去自由廣場靜坐聲援緬甸
(C)7月15日	八投里仁協會北投導覽志工培訓
(D)8月6日	樹黨黨員大會活動

喜憨兒社會福利基金會

- ①成立時間：民國 84 年(西元 1995 年)
- ①使命：「為心智障礙者開創生命的尊嚴與生存的喜悅」以愛與關懷化解障礙，啟發憨兒的潛能回歸社會主流，為心智障礙者改造生命。
- ①願景：「終生教育、終生照顧」提供心智障礙者的終生教育及在社區中獲得終生照顧。
- ①近況：目前基金會共設有 21 個庇護工作站（含烘焙坊、餐廳、烘焙工場等）及創新的園藝工作隊，以社區化、正常化及無障礙之工作訓練職場，協助憨兒獲得工作技能，並視個別學員之狀態，轉介至超商、餐廳、清潔公司等一般職場就業。



48、根據上圖，下列關於該基金會的敘述，何者正確？

- (A)非志願的結社自由 (B)屬於非營利的志願團體 (C)國中生無法參與基金會活動 (D)加入團體屬《憲法》保障集會自由。

49、根據上文可知「喜憨兒基金會」成立的目的應為下列何者？

- (A)建立人際關係 (B)實現政治理想 (C)達成共同理念 (D)保障員工權益。

50、根據基金會介紹內文中畫底線的部分，呈現志願團體的何種特徵？

- (A)民間性 (B)自主性 (C)志願性 (D)組織性。

試題完成，記得再檢查一遍答案卡與試卷，並務必將自己的答案抄寫於題目卷上，以利試後檢討。