

臺北市新民國中109學年度 第二學期 九年級社會領域 第一次段考試卷

年 _____ 班 座號： _____ 姓名： _____

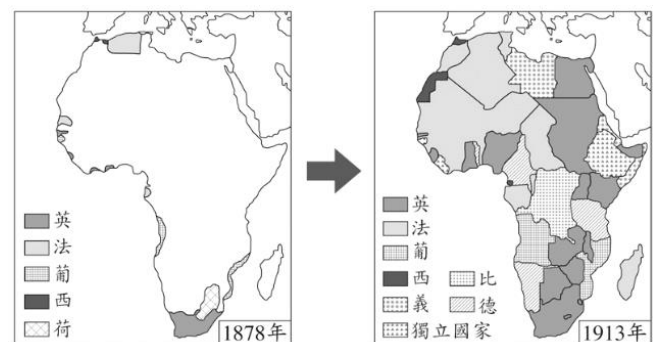
一、單選題(1-50題，每題2分。)

※【歷史科】第1-17題

- 1、領導拉丁美洲各地從事獨立運動，而有「拉丁美洲獨立運動之父」之稱的是下列何人？
(A)門羅 (B)玻利瓦 (C)華盛頓 (D)加富爾。
- 2、某位歷史人物曾向國會大聲疾呼：「目前的重大問題絕非演說、辯論或過半數的投票所能解決。……要救日耳曼，只有靠血和鐵！」這應該是指何人？ (A)拿破崙 (B)華盛頓 (C)玻利瓦 (D)俾斯麥。
- 3、十九世紀初期拉丁美洲的獨立運動，主要是趁著下列哪一個時機而發起抗爭？
(A)歐洲各國積極發展國內工業 (B)英、法兩國爭奪北美殖民地 (C)拿破崙對外侵略並擴張勢力 (D)巴爾幹半島興起民族獨立運動。
- 4、從歷史事件的因果關係來進行研判，「？」應是下列哪個會議？
拿破崙戰爭 → **維也納會議** = **第一次世界大戰** → **?**
(A)巴黎和會 (B)法蘭克福會議 (C)柏林會議 (D)華盛頓會議。
- 5、中國與日本歷史上都曾有一段閉關自守的年代，下列對於兩國當時的敘述，何者錯誤？
(A)兩國下令鎖國都和西方宗教有關 (B)鎖國時期，對外貿易地點分別為廣州、長崎 (C)打開中、日門戶的外力都是美國 (D)明治維新後讓日本成為亞洲最現代化與工業化的國家。
- 6、二十世紀時，奧匈帝國向塞爾維亞宣戰後，隔天，甲、乙兩國領袖互通電報，其部分內容如附圖所示，甲、乙兩國最可能是下列何者？

甲國發出的電報	對塞爾維亞而言，這是一場卑鄙的戰爭。基於同為斯拉夫民族的立場，我國人民極為憤怒，而這種巨大壓力，將迫使我不惜走上戰爭之路。為了避免歐洲陷入戰火，我懇求你，想辦法阻止你盟國奧地利的戰爭行為。	乙國發出的電報	我不認為奧地利對塞爾維亞的宣戰，是卑鄙的行動。因為奧地利根據過去經驗判斷，塞爾維亞所作的承諾完全不可靠。因此，在奧、塞的衝突中，我建議貴國不要支持塞爾維亞，保持旁觀，避免捲入歐洲這場最可怕的戰爭。
---------	--	---------	--

- (A)甲：俄國、乙：德國 (B)甲：俄國、乙：法國 (C)甲：法國、乙：德國 (D)甲：法國、乙：俄國。
- 7、下列何地由於列強的干預不斷，境內新興國家間糾紛不斷，在十九世紀時有「歐洲火藥庫」之稱？
(A)義大利半島 (B)日耳曼地區 (C)巴爾幹半島 (D)奧匈帝國。
 - 8、西元1917年時，哪個國家由於國內爆發革命而退出一次大戰的戰局？
(A)俄國 (B)義大利 (C)奧匈帝國 (D)塞爾維亞。
 - 9、右圖是一張宣傳海報，由這張海報的內容加以判斷，此海報中出現的情形可能與下列哪一個事件的影響有關？ (A)法國大革命 (B)拿破崙戰爭 (C)美國獨立 (D)第一次世界大戰。
 - 10、十九世紀後期以來的列強，對海外殖民地的爭奪如此激烈，主要是憑藉著下列何種理論的支持？
(A)社會主義 (B)民族自決 (C)孤立主義 (D)社會達爾文主義。
 - 11、下列有關義大利的統一運動，何者為非？
(A)義大利半島十九世紀初曾受到拿破崙所控制 (B)俾斯麥等人組織「青年義大利黨」，以恢復「古羅馬光榮」為號召 (C)加里波底組織紅衫軍征戰義大利南部 (D)薩丁尼亞王國逐步控制義大利各地，並趁普法戰爭之際收復羅馬，完成義大利統一。
 - 12、人類被壓抑的欲望常會藉由夢境顯現出來，因而可以透過解析夢境，了解影響人類行為的因子」，上述的觀念可能是受到何人理論的影響？
(A)雷馬克 (B)愛因斯坦 (C)佛洛伊德 (D)居禮夫人
 - 13、右圖是曉莉在書上看到的插圖，這二幅圖的變化最能說明下列何者在非洲的發展？
(A)鎖國政策 (B)區域統合 (C)美蘇冷戰 (D)帝國主義。
 - 14、下列何人的畫作不崇尚寫實，且刻意強調幾何結構，因此成為二十世紀初期藝術的代表？
(A)莫內 (B)畢加索 (C)米勒 (D)梵谷。



- 15、豪哥對現今世界常設性的國際組織極感興趣，他想研究第一個成立的國際和平組織。請問：他需要蒐集下列哪一機構的資料？(A)聯合國 (B)國際聯盟 (C)歐洲聯盟 (D)亞太經濟合作會議。

◆請閱讀這篇短文，回答相關問題。

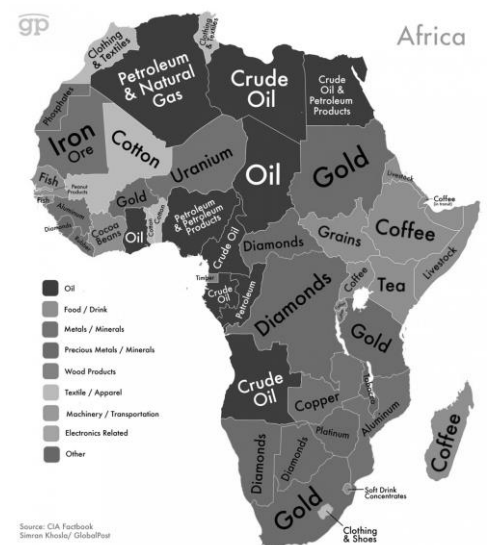
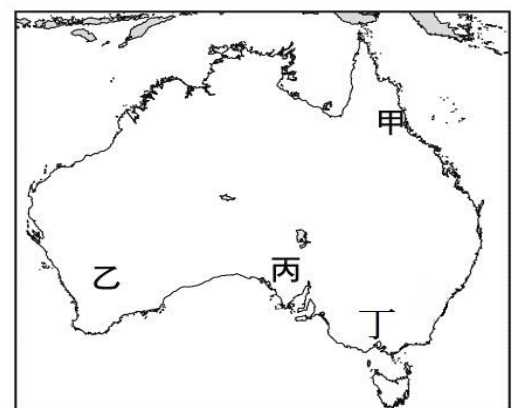
十七世紀時，□□幕府宣布除了中國人與荷蘭人之外，不許外人到日本貿易，也不准日船行駛海外，從此開啟了日本的鎖國時代。

十九世紀中葉，西方的強國強迫日本結束鎖國，開放通商口岸，幕府被迫於西元 1867 年還政於天皇。天皇推行的改革運動使日本脫胎換骨，並在西元 1894~1895 年的甲午戰爭，以及西元 1904~1905 年的日俄戰爭，擊敗中國與俄國，成為新帝國主義強國之一。

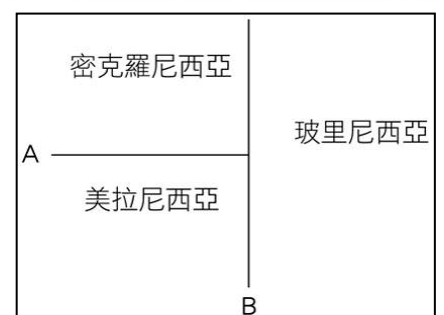
- 16、根據文中描述，開啟日本鎖國時代的「□□幕府」，應該是下列何者？
 (A)鎌倉幕府 (B)明治幕府 (C)室町幕府 (D)江戶幕府
- 17、文中提及「強國」強迫日本開放通商口岸，它應該是下列哪個國家？
 (A)法國 (B)英國 (C)美國 (D)德國

※【地理科】第 18-33 題

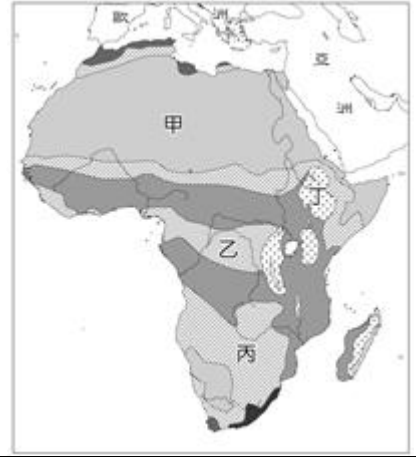
- 18、一千萬年後非洲將會是右圖一般的樣貌，而沿著東非大裂谷形成的該種地形景觀，主要作用力為何？
 (A)斷層陷落 (B)火山作用 (C)冰河侵蝕 (D)風力吹蝕。
- 19、古埃及文明的建立與尼羅河的定期氾濫息息相關，尼羅河的定期氾濫與其上游屬於哪種氣候類形相關？
 (A)雨林 (B)莽原 (C)高地 (D)地中海。
- 20、非洲大部分國家和中南美洲許多國家一樣，太過依賴一、兩種農、礦產的出口，而此經濟類形皆源自於下列哪一向因素？
 (A)市場趨勢造成 (B)專制政府掌控
 (C)歷史背景導致 (D)自然環境限制。
- 21、宣皓剛在墨爾本舉辦的澳網公開賽中，直落三擊敗了塞爾維亞球王，而接受訪問時他說道：「那裡的氣候和我上回在英國倫敦稱霸溫布敦賽事時一樣，著實讓我得心應手啊！」請問：宣皓這回的比賽應該是辦在右圖的哪個代號之處？ (A)甲 (B)丙 (C)丁 (D)乙。
- 22、位於大洋洲的吐瓦魯估計在 50 年之後國土會因海平面上升而損失 60% 面積之多，吐瓦魯的災情較一般島國嚴重之主因為？
 (A)島嶼成因 (B)地理位置 (C)面積大小 (D)氣候條件。
- 23、非洲氣候普遍炎熱且大致呈南北對稱分布，而其對稱軸正好就是哪條經緯線？
 (A)赤道 (B)北回歸線 (C)南回歸線 (D)國際換日線。
- 24、每次比賽前，星辰都會先聲奪人地朝著對手瞪大眼睛、疵牙咧嘴、伸長舌頭、捶胸頓足，口中並不斷念念有詞，意圖恫嚇對手，挫挫其銳氣，請問星辰最有可能是哪個國家的運動代表隊？
 (A)埃及 (B)紐西蘭 (C)剛果 (D)澳洲。
- 25、澳洲境內的有袋類與鴨嘴獸等動物，皆為當地的特有種，每年均吸引許多觀光客前來觀賞，請問這些特有種之所以「特有」的主要原因為何？
 (A)面積廣大 (B)氣候獨特 (C)地塊古老 (D)位置孤立。
- 26、右圖為非洲各國最值錢的輸出物，請分析圖中顯示的訊息與下列哪一項非洲本身的環境條件關係最密切？
 (A)四面環海 (B)殖民統治
 (C)雨林廣布 (D)地質古老。



- 27、南極與北極皆處於極圈內，但南極的氣溫卻比北極低，造成此現象的主要原因為何？
 (A)南極居民二氧化碳排放量少 (B)南極為一陸地且地勢較高
 (C)北極溫室效較為嚴重 (D)北極獲得較多日照輻射。
- 28、右圖為大洋洲的簡圖，圖中 A、B 代表其分界線。請問：B 界線與下列哪一條線相符？
 (A)赤道 (B)本初經線 (C)國際換日線 (D)北回歸線。
- 29、下列何者是阻絕非洲早期南北交通往來的最大的屏障？
 (A)戈壁沙漠 (B)撒哈拉沙漠
 (C)喀拉哈里沙漠 (D)塔克拉瑪干沙漠。



- 30、醫術與顏值兼具的俞然，期待能夠開發出新藥來治癒 COVID-19，積極尋找具有療效的藥材，請問右圖中哪個代號所在地，最有希望讓俞然找到生物科技研究所需要的素材？ (A)丙 (B)丁 (C)乙 (D)甲。



一九九九年，美國由民間發起了組織－「TransFair USA」，提倡企業應跳過中間商，並且用合理的價錢直接向農民購買產品，以減少對農民的剝削。二〇〇三年四月，台灣星巴克第一次在點菜單上加入了一個讓人摸不著頭腦、又有點嚴肅的品項：公平交易咖啡。另外，還定每月二十號為「公平交易日」，在這一天，所有台灣星巴克將會用「公平交易咖啡豆」烹煮每一杯咖啡。

公平貿易的核心目標在於「停止對於第三世界生產者的剝削」，尊敬生產者與土地、降低環境破壞、讓消費者有意識的選擇有價值的產品都是公平貿易的價值。手段是透過「保證收購價格」以及「公平貿易社區發展金」來幫助弱勢小農，並且要求他們採用友善環境的永續耕作方式，同時以「公平貿易認證標章」的機制來串連生產者與消費者，以確保公平貿易商品的品質與來歷。公平貿易約只佔全球貿易量的百分之一，但是公平貿易所傳遞的社會價值卻龐大地無法估計。縱使仍有反對聲浪，公平貿易還是一股不可擋的世界潮流，在先進國家已經有頗為亮眼的表現，消費者不再單單以價格去定義產品的價值，他們學會去質疑、去探究產品的來源，因為尊重土地、尊重生產者，也尊重有能力做選擇的自己。

改寫自一杯咖啡怎麼推動社會改變？「公平貿易」讓我們看見咖啡豆裡的公義 / 2014/08/29 報橘

- 31、幾乎世界各大洲都有一些熱帶小農，經常在產品貿易上處於被剝削的角色，這一種種植熱帶經濟作物的農業類別，其正式的名稱為？ (A)熱帶栽培業 (B)商業性穀物農業 (C)綠洲農業 (D)地中海型農業。
- 32、而非洲、中南美洲在積極拓展此種農業上不遺餘力這件事，最有可能成為哪一項全球議題的元凶？ (A)臭氧破洞 (B)石油危機 (C)基因突變 (D)溫室效應。
- 33、文章所指的第三世界國家通常處於國際貿易中的下風，但下列哪一件事情上他們卻有不容被忽視的力量？ (A)發展企業的成熟經驗 (B)掌控科技核心技術 (C)握有世界多數財富 (D)占有聯合國多數席次。

※【公民科】第 34-50 題

- 34、(2020/11/24 自由)「日本專業調查公司 Formalhaut Techno Solutions 拆解 iPhone 12 發現，就成本而言，南韓零件的佔比居冠。該公司推估 iPhone 12 的生產成本為 373 美元 (1 萬 0836 台幣)，其中南韓零件佔 27.3%，其次是美國的 25.6%；日本零件佔 13.2%，台灣 12.1%，中國 4.7%。」此報導的內容可以用來說明下列何種概念？ (A)文化融合 (B)貧富差距 (C)全球化 (D)文化衝突。



- 35、文薇每天早上都會利用手機上網看右圖網頁，請問右圖主要強調傳播媒體的何種功能？ (A)教育文化 (B)提供訊息 (C)休閒娛樂 (D)監督政府。

- 36、下列何者不屬於文化的範圍？ (A)每年 3-7 月為台灣藍鵲的築巢繁殖期 (B)今年國中會考將於 5 月 15、16 日舉辦 (C)「鮭魚改名之亂」後討論姓名修改程序 (D)我國正在準備修憲 18 歲參政權。

- 37、(2021/2/23 中央通訊社)「代理孕母在國內為不合法，立委指出不少民眾前往海外尋求代理孕母，遇事無法獲法律保障，爭議 20 年的代理孕母問題，希望政府正視、修訂●●法，能協助更多需要幫助的家庭」請問：此一法律名稱為何？ (A)《優生保健法》 (B)《全民健康保險法》 (C)《器官移植條例》 (D)《人工生殖法》。

- 38、承上題，上文牽涉到下列何項議題的兩難？ (A)科技與隱私權的衝突 (B)智慧財產的知識分享 (C)生物科技與生命倫理 (D)性別議題與資訊應用。

- 39、《天下雜誌》2020 年「縣市長施政滿意度」暨「幸福城市」調查出爐！結果顯示：不論藍綠，人民要的是務實做事，跟超商一樣 24 小時在身邊的首長。這份調查也讓民調落後的地方首長有所警惕。請問：《天下雜誌》此舉最主要是在發揮傳播媒體的何種功能？ (A)教育文化 (B)提供訊息 (C)休閒娛樂 (D)監督政府。

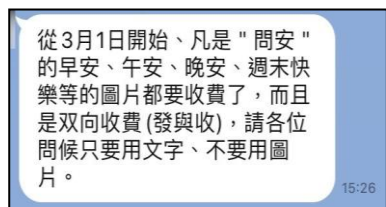
- 40、(2020/11/20 中央通訊社)「金門縣警局刑事警察大隊表示，破獲侵害金酒●●案，查扣 5000 多枚開瓶器、鑰匙圈、磁鐵貼等侵權商品(如右圖)，並將許姓盤商等 3 人移送金門地檢署偵辦。」從上文可知偽造金門高粱酒的包裝和標籤的仿冒行為已違反下列何項法律？ (A)《民法》 (B)《商標法》 (C)《著作權法》 (D)《專利法》。



- 41、承上題，政府必須避免任何人或商家受到非法侵害，進而讓經濟順利發展。上述警察查獲侵權商品是屬於政府展現哪一項經濟功能角色？ (A)提供公共財 (B)減少機會成本 (C)保障私有財產 (D)縮短貧富差距。

42、臺灣的大眾文化受歐美、日本等國家影響甚鉅，但近年地方特色文化也逐漸興起，藉由重新包裝和改造等途徑，比如將一成不變的傳統粿，學日本糕點精緻風格變身為五彩繽紛精緻小巧的小點心，也在食物本質上加入健康養生的食材，透過外觀的改變提高年輕人吃這類傳統手藝食品的興趣。下列何者最足以解釋上述現象？(A)全球化促使文化發展趨向單一化 (B)跨國企業影響各地休閒生活型態 (C)本土文化加入不同文化元素共存融合 (D)臺灣傳統文化成為全球主流文化。

43、因為資訊科技的發展快速，人們接收訊息的方式變的更多速度也更快，但是也造成網路上假消息滿天飛的情況(如右圖)，為了防止民眾受假訊息之害，哪一種方法才是最根本的解決之道？(A)加強民眾媒體識讀的能力 (B)加重散布假訊息者刑責 (C)管控媒體訊息經政府審查 (D)成立專案小組逐條查核訊息並澄清。



44、許多社會議題透過網路快速傳遞，網民們熱烈的討論，迅速集結意見，甚至結合眾人的力量，發展成一種社會運動，如搶救藻礁公投運動。上述內容說明，網路已成為發表意見及參與社會議題討論的重要媒介，此種發展趨勢和資訊時代強調的何項概念最為符合？(A)強化資訊倫理的實踐 (B)重視個人隱私的保障 (C)強調多元文化的發展 (D)落實媒體接近使用權。



45、曾被飼養的流浪動物對人類較無戒心，但此特點卻被某些人利用，他們不但虐待流浪貓、狗，還將過程拍成影片上傳到網路平臺供人觀賞。雖然違法者多已受到法律制裁，但憾事卻難以挽回。上述案例凸顯下列何者的重要性？【107 會考】

- (A)辨識媒體傳播資訊的真偽 (B)生命無貴賤之分皆應被尊重
(C)資訊流通應避免侵害他人隱私 (D)重視環境保護以維護生物多樣性。

46、哲維在網路上看到基因改造議題，依照圖中內文想要傳達哪一種訊息？

- (A)資訊科技的隱憂 (B)生物科技的權衡 (C)傳播科技的議題
(D)資訊倫理的建立。

47、某媒體常在網站上以虛擬動畫呈現新聞內容，但因表現方式有時過於血腥、暴力，引起輿論譴責。民間團體呼籲該媒體應顧及報導對社會可能產生的負面影響，勿以商業利益為優先考量。上述團體的訴求內容，主要凸顯出下列何項議題的重要性？

- (A)資訊科技的多元發展 (B)社會團體的監督力量
(C)新聞報導的自由程度 (D)傳播媒體的社會責任。

【108 會考】

①請閱讀以下資料，並回答第 48-50 題：

臺北小菲律賓區（英語：ChungShan），又稱菲律賓街，是一個位在臺灣臺北市中山北路三段、介於民族東路、德惠街、農安街間的街區及商圈，該街區為臺北都會區眾多菲律賓籍勞工與移民的主要假日聚集地。當地的信仰中心有「聖多福天主堂」，也是臺北市唯一以英語為主要語言的天主教會堂區。當 1992 年開放外籍移工後，逐漸吸引了菲律賓教徒參加彌撒聚會，也進而請來菲律賓籍神父提供他加祿語彌撒聚會，於是該地區成了菲律賓移工的聚集地。「金萬萬名店城」大樓為各式服務與商品的主要聚集地之一。當地有豐富多樣的菲律賓式餐飲選擇。 【資料來源：維基百科】

48、從「臺北小菲律賓區」可以看見臺灣社會中存在什麼現象？

- (A)臺灣社會同時有許多不同文化並存的蹤跡 (B)臺灣社會只有單一文化，看不見外來文化
(C)臺灣是一個封閉社會，無法接受外來文化 (D)外來文化對臺灣社會並不會造成任何影響。

49、下列各國文化中擁有異國風情的原因何者與「臺北小菲律賓區」相同？(A)台灣四處可聽見韓國歌曲 (B)電影院正在上映好萊塢熱門片 (C)位於美國紐約的唐人街 (D)高雄舊火車站的日式皇宮屋頂。

50、身為台灣人民我們應該抱持何種態度面對其他文化？

- (A)文化應分出優劣，才能藉此輔導並提升劣質文化 (B)培養民族的優越感，才能幫助其他弱勢文化
(C)一個社會只能有一種文化，所以應統一其他文化 (D)勿用自己民族的標準、好惡去判斷其他文化。

試題完成，記得再檢查一遍答案卡與試卷，並務必自己的答案抄寫於題目卷以利於檢討。