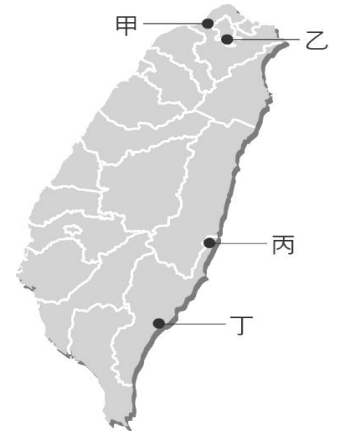


單選題(共有 50 題，每題 2 分、共 100 分請掌握好答題時間。)

※【歷史科】第 1-17 題

- 臺灣曾掀起一波「葡氏蛋塔風潮」，許多店家爭相模仿製作鄰近臺灣某地瑪嘉烈餅店的葡式蛋塔。全盛時期，一條街上同時有好幾間店，且皆人潮滿滿，甚至曾造成蛋價上漲的情況。然而在葡氏蛋塔退燒之後，許多專賣店接連收攤倒店，並創造了「蛋塔效應」「蛋塔現象」等名詞。請問曾為葡萄殖民地的某地是指  
(A)澳門 (B)香港 (C)上海 (D)馬尼拉
- 右圖是臺灣主要史前遺址的分布圖。假如想了解舊石器時代及金屬器時代，哪兩個遺址所提供的參考資料最詳盡？  
(A)丙丁 (B)甲丙 (C)甲丁 (D)乙丁
- 「西元 1621 年，海商□率領部眾由笨港登陸，來臺屯墾；並自中國招募漢人來臺拓墾，首開風氣。」連東亞海域霸主鄭芝龍都曾經是他的下屬，後來在臺灣病死。請問：上文中的海商應是指下列何人？  
(A)何斌 (B)沈有容 (C)施琅 (D)顏思齊
- 週休二日在臺北搭乘捷運做一趟知性之旅，既方便又省時，捷運站附近有相當多的先民遺跡。若要找探訪石器時代舊址，可以在那兩站下車？  
(A)圓山站、芝山站 (B)關渡站、大安森林公園站 (C)石牌站、世貿中心 (D)劍潭站、動物園站
- 由於西班牙人的遠東貿易逐漸受荷蘭人威脅，因此西班牙繼荷蘭之後，也到臺灣北部發展勢力。西班牙人在臺灣的發展的主要活動大約在哪兒？  
(A)台灣中部 (B)台灣南部 (C)台灣北部 (D)台灣東部
- 賽德克亞族傳說上古時代，白石山牡丹岩 (Bunohon) 長有一棵大樹，此樹半邊為木質，另一半邊卻由岩石所構成。一天，從樹幹裡走出男女二神，此二神生下很多子女，子女又繁衍很多後代。幾代人後因人口增加，牡丹岩這個地方太小而不夠居住，族人因而四散他遷。從此人們必須終身勞動與農耕，而不得閒暇。阿美族有兄妹坐在容器上漂流到臺灣的傳說，達悟族有祖先飄洋過海移居到蘭嶼的故事。請問這些傳說故事有何種意義？  
(A)原住民生活在臺灣未曾離開過 (B)原住民的祖先來自同一地區 (C)有些原住民可能是從其他地區遷移來臺 (D)原住民的傳說故事都是虛假不可信的
- 資料一、此人物曾創建臺灣史上首個漢人政權。資料二、後人曾如此形容他的功績：「開萬古得未曾有之奇，洪荒留此山川，作遺民世界；極一生無可如何之遇，缺憾還諸天地，是創格完人。」以上資料說明何人的事蹟？  
(A)顏思齊 (B)鄭成功 (C)施琅 (D)鄭經
- 在臺灣歷史上的各個時期，對於原住民的稱呼不一，如生番、熟番、高砂族、山地同胞，直到何時才正式採用「原住民族」一詞？  
(A)荷據時期 (B)清帝國時期 (C)日據時期 (D)中華民國時期
- 為了解糧食不足的困窘，鄭成功實行軍屯制度，此政策的性質為何？  
(A)政教合一 (B)寓兵於農 (C)化番為民 (D)結寨自保
- 甲、大航海時代開始。乙、文獻記載漢人在澎湖活動。丙、明朝防倭寇實施海禁政策。丁、荷蘭人佔領澎湖。  
以上敘述中，發生最晚的事件是 (A)甲 (B)乙 (C)丙 (D)丁
- 右圖是小佑歷史課本裡的參考圖片。從圖中的訊息判斷，下列何者敘述錯誤？  
(A)此地如今已被砂土淹沒，成為市區的一部分 (B)鄭成功從鹿耳門水道進入台江，突破守軍防線 (C)熱蘭遮城是西班牙人建立的城堡 (D)除了漢人以外，荷蘭人、日本人、西班牙人相繼來臺經商，代表臺灣國際貿易地位越來越重要
- 鄭氏在台的經營，大多於何人在位時期完成？ (A)鄭芝龍 (B)鄭成功 (C)鄭克塽 (D)鄭經
- 純伊在書上讀到：「荷蘭人以臺灣作為國際貿易的轉運站，連結中國、日本與巴達維亞間的貿易。」請問：下列何者應是當時臺灣自產輸往日本的商品？  
(A)瓷器 (B)鹿皮 (C)香料 (D)檜木
- 十七世紀歐洲人在東亞地區建立商貿據點，右圖所繪製的簡圖，是哪個國家的貿易據點？  
(A)葡萄牙 (B)西班牙 (C)荷蘭 (D)英國
- 鄭氏治臺時期的經貿發展，下列各項敘述，何者正確？  
(A)為了抗清，曾經實施海禁政策 (B)主要依賴拓墾與貿易與清抗衡 (C)積極與荷蘭、美國通商，取得軍事物資 (D)當時倭寇為患，鄭軍予以痛擊，逼迫日本鎖國



◎請閱讀短文，並回答下列問題：

民國前二五一年，一六六一年（永曆十五年、順治十八年）四月二十一日中午，鄭成功起兵二萬五千人、船隻九百艘攻台。船到澎湖即發生糧食不足的現象，鄭成功下令就澎湖三十七島取行糧，得到回報是：「各嶼並無田園若種禾粟，蕃薯、大麥、黍、稷、斗升湊解，合有百餘石，不足當大師一餐之用」。以致在風雨中鄭成功下令航向臺灣。他當時說：「冰堅可渡，天意有在。天意若付我平定臺灣，今晚開駕後，自然風恬浪靜。不然，官兵豈堪坐困斷島受餓耶？」

鄭成功的部隊一上岸即將荷蘭軍打得落花流水，西方人記述鄭成功的軍隊是：「國姓爺的軍隊中有弓箭兵，以對抗荷人的槍兵，又軍隊中有鐵人軍，每一人著鐵製的鱗甲，包住全身，鐵片長度可掩住膝蓋以下，以保護到兩腳。這是一個武裝齊備的軍隊，他們戰鬥中，無視洋槍的威力，沒有一個人將死亡擺在心上，勇猛無比，不管周邊有許多人被打死，照常像瘋狗似的前撲。況且他們也有相當多的重砲及充足的火藥。」這是黃種人第一次向歐洲白人爭奪殖民地成功的例子。登陸不到一個月，實際僅二十四天即佔領全臺灣，僅留下「熱蘭遮城」。

16. 文中沒有出現的紀年方式是 (A)干支紀年 (B)西元紀年 (C) 民國紀年 (D)帝王紀年  
 17. 下列敘述何者正確?  
 (A)鄭成功得到臺灣為反清復明基地 (B)他在臺灣設立承天府，改國號為鄭 (C)曾經南征西班牙的菲律賓殖民地 (D) 拆除赤崁樓、熱蘭遮城分別為媽祖廟、天后宮

18. 倘若新民國中地圖上的方位標示不清，只知道下午的陽光從科學樓方向過來，請藉此判定下列哪個設施是在敬業樓的正北方？

- (A)操場 (B)工藝樓  
 (C)樂群樓 (D)行政樓。  
 19. 「冠群坐在謝安的前面」，這樣的位置概念與下列何者相同？  
 (A)台北市北投區新民路 10 號  
 (B)新北投捷運站的經緯度是 121°E, 25°N  
 (C)承佑升旗隊伍排在第二排第一位  
 (D)新民國中在中興新村的西方

20. 可用來劃分東、西半球以及南、北半球依序是哪兩條經緯線？

- (A)北回歸線、赤道 (B)國際換日線、赤道  
 (C)本初經線、赤道 (D)南迴歸線、北極圈。  
 21. 為何在同一個地球上，南北半球會有季節顛倒之情況？

- (A) 因為太陽繞著地球轉 (B)因為地球由西向東自轉  
 (C)因為地軸傾斜 23.5 度在公轉 (D)因為地球是稍扁的球體。

22. 昀霖在某一張地圖上看見「0 500 1000公尺」的標示，這是地圖上用來呈現哪種資訊？(A)方位 (B)比例尺 (C)圖例 (D)圖名。

23. 右圖為世界全圖。右圖中打上「★」的海域名稱是什麼？  
 (A)太平洋 (B)印度洋 (C)大西洋 (D)北極海。

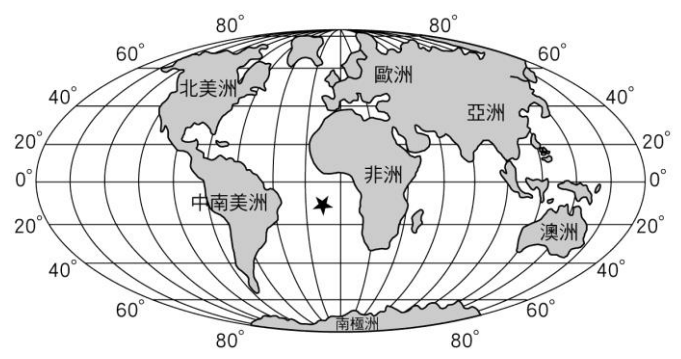
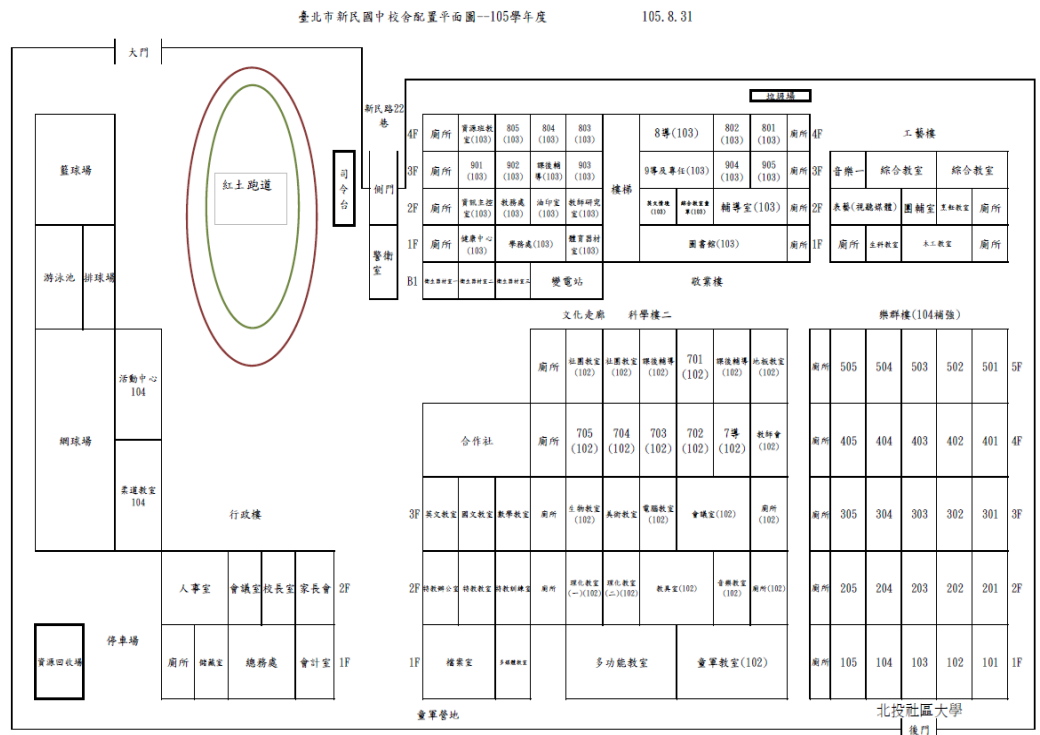
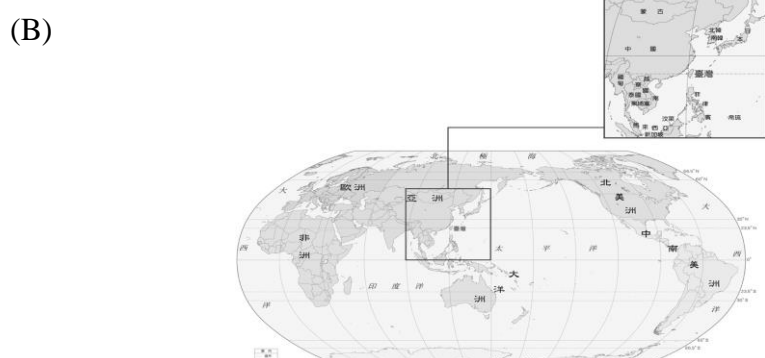
24. 臺灣的面積占世界陸地的 0.0277%，而生物種類卻占全球物種的 3.8%，原因為何？

- (A)台灣積極生態復育 (B)地處偏僻動物無法來去自如 (C)地大物博種類繁多 (D)地形與氣候的多元樣貌。

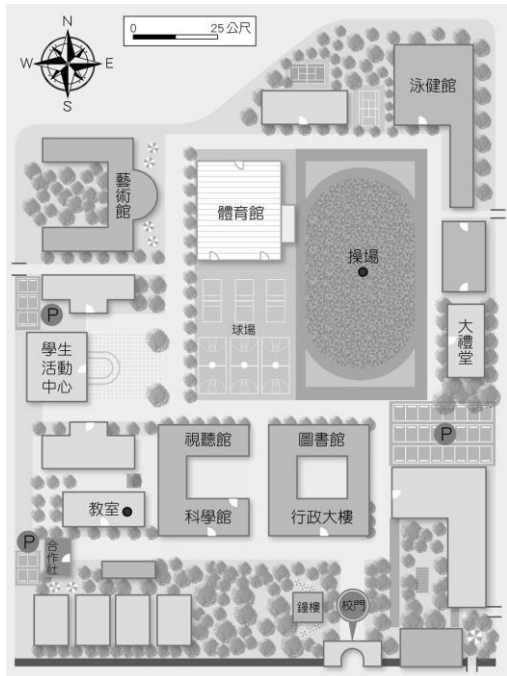
25. 廣大興 28 號事件，是 2013 年 5 月 9 日菲律賓海巡署東北呂宋島海巡區暨漁業及水產資源局公務船與臺灣屏東縣琉球鄉籍的漁船「廣大興 28 號」的海上喋血事件，造成廣大興 28 號船上漁民死亡。造成中華民國與菲律賓之間的外交關係緊張，此事件主因乃是兩國之間哪一個區域概念重疊所導致。

- (A)經濟海域 (B)領海 (C)國防海域 (D)採集海域。

26. 在紙張大小一樣的前題之下，下列哪一張圖所使用的比例尺最大？



(C)



(D)



- 27、電子地圖是近年來地圖檢索的最佳工具，比起「傳統紙本地圖」具有下列何種優勢？  
 (A)比例尺可任意切換 (B)保存較為占空間 (C)不需借助科技產品 (D)資訊更新較緩慢。
- 28、下列有關大與小比例尺在使用上的差異，何者正確？  
 (A)大比例尺適合繪製大範圍區域地圖 (B)大例尺地圖內容呈現較為模糊  
 (C)小例尺地圖適合繪製校園地圖 (D)小比例尺地圖的縮小程度較多
- 29、台灣(東經 120 度)男孩泊鉞每天上午十點都要打視訊電話給位在各地的女朋友們甜言蜜語，但這次他竟然不小心弄錯撥打時間擾人清夢，請問下列哪一位通話對象最可是這次烏龍事件的受害者？  
 (A)位在西經 155 度的仙杜瑞拉 (B)位在東經 13 度的艾莉兒  
 (C)位在東經 160 度的蘇菲亞 (D)位在西經 72 度的愛蓮娜
- 30、領海是指各國由其領海基線向外推移多少哩的範圍？ (A)50 (B)12 (C)200 (D)1,000
- 31、志賢明天要去美國夏威夷(約東經 150 度)旅遊。他應該把他的手錶做怎樣的調整？  
 (A)調慢兩小時 (B)調快兩小時 (C)調快一小時 (D)調慢一小時

◎請閱讀短文，並回答下列問題：

位在澎湖七美西南約 30 海里,俗稱「台灣灘」水域屢傳遭大陸抽砂船違規抽砂，一度引發關注，認為有國安疑慮。國家海洋研究院今年在當地水域進行潛水調查，公布灰矇的水下世界，但仍能發現罕見的豆丁海馬。根據海巡署統計，大陸抽砂船違法越界抽砂，近三年驅離次數共計 4649 艘次，其中澎湖縣海域台灣灘就驅離超過 4000 艘次，約占 86%。當地水域水文狀況引發關注。國家海洋研究院表示，為掌握台灣周邊海域生態資源的現況，於 2020 年進行第 1 次臺灣灘潛水調查，近期在澎湖群島西南方的台灣灘海域，首次記錄到豆丁海馬。國海院院長邱永芳表示，台灣灘位於我國專屬海域內，此次調查發現此海域亦適合豆丁海馬生存的棲息環境，也顯示台灣灘的海洋生態保育需要受到更多關注。

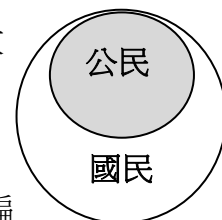
改寫自 2021-09-22 洪哲政／台北報導

- 32、根據文章所寫，台灣灘乃是屬於台灣的哪一種領域範圍？  
 (A)領空 (B)領海 (C)經濟海域 (D)防空識別區。
- 33、根據文章形容，台灣出現了豆丁海馬這種罕見熱帶海洋生物，可說是與台灣下列哪項條件相關？  
 (A)緯度高低 (B)地勢高低 (C)經度度數 (D)人口多寡。
- 34、請問文章當中對於台灣灘的位置描述屬於哪一種？  
 (A)絕對位置 (B)標準位置 (C)國際位置 (D)相對位置。


※【公民科】第 35-50 題。

- 35、依據我國《國籍法》的規定，下列哪一種情況可以成為中華民國「國民」？  
 (A)出生在台灣 (B)年滿 20 歲 (C)父或母有我國國籍 (D)有工作能力。
- 36、公民課堂上，老師想確認同學是否知道何謂性騷擾，因此於課堂上分組玩一項「性騷擾○×大考驗」活動，請問：這五題的答案依序為何？  
 (A)○、×、×、○、× (B)○、○、×、○、×  
 (C)×、×、○、○、○ (D)○、○、○、×、×。
- 37、下列有關促進性別平等的觀念，何者正確？ (A)女性當自強，現代社會家事全交由男性承擔 (B)為改善軍隊陽盛陰衰現象而要求女生都要念軍校 (C)所有事情對男女有一樣的要求才是性別平等 (D)回歸個人本質，讓人人都有發展機會。
- 38、關於我國「公民」在行使參政權的法定年齡規範，下列何者正確？ (A)年滿 16 歲可應考試、服公職 (B)年滿 18 歲具有選舉權 (C)年滿 18 歲具有公民投票權 (D)年滿 20 歲可參選公職人員。

1. 男生也會成為性騷擾的受害者。
2. 性騷擾只會發生在陌生人之間。
3. 遭到性騷擾的人，是因為自己的言行舉止太過輕浮，穿著太暴露。
4. 即使是男女朋友，還是必須尊重對方，否則仍可能構成性騷擾。
5. 講黃色笑話是種幽默的展現，不是性騷擾



- 39、右圖為「國民」與「公民」這兩個概念的包含關係。依圖所示，下列對於「國民」與「公民」的比較敘述何者正確？(A)「公民」都具備有「國民」身份 (B)「國民」都具備有「公民」身份 (C)只有「公民」才能參與公共事務 (D)「國民」參與投票選舉沒有年齡身分限制。
- 40、四位同學在上完公民課後，利用下課時間在教室討論「人權」與「人性尊嚴」的內容。請問：何者的說法最正確？(A)志賢：人性尊嚴與人權兩者之間沒有任何關係 (B)依玲：法律具有強制力可破除所有偏見來保障人權 (C)葦宣：透過保障普世的人權來維護人性尊嚴 (D)歆穎：「人權是與生俱來的」無須爭取或保障就能獲得。
- 41、近年來由於網路通訊軟體發達，大量假訊息在手機的聯繫群組間快速流傳。右圖是阿君家庭群組裡的對話，根據圖中內容判斷，在網路科技發達的時代，下列哪個基本公民德性素養應該要更重視？(A)理性思考批判 (B)參與公共事務 (C)和平尊重包容 (D)捍衛公平正義。【109 會考改編】
- 42、承上題，假新聞、假消息頻傳有很多小撇步可以由民眾自行驗證網路訊息是否為真。請問下列何種查證訊息方式 可能效果不佳？(A)觀察文章報導者：如果文章未記名，也無標示來源，很可能是東拼西湊的不實訊息 (B)善用以圖搜圖：確認該照片曾被哪些報導使用過，是否遭到移花接木或是時序錯誤 (C)查證民間與官方成立的臺灣事實查核中心，以查核該訊息是否經過證實 (D)再次搜尋文章標題：如果類似的文章內容有出現在多家媒體網站，即為真實的訊息。
- 43、(2021/9/18 udn 新聞網)「中秋連假風景區湧現人潮，中央疫情指揮中心呼籲，外出務必落實社交距離、戴口罩、勤洗手，但這段期間若出現社區傳播疫情，不排除再加嚴防疫措施。」疫情期間，政府一再提醒國民作好並遵守防疫規則，是希望國民能實踐哪一種公民基本德性？(A)和平尊重包容 (B)遵守法律規範 (C)捍衛公平正義 (D)參與公共事務。
- 44、右圖是新聞報導中的標題，若新聞事件中的受害者要尋求權利救濟，下列哪一項法律最能提供他協助？【108 會考】  
(A)《刑法》 (B)《少年事件處理法》 (C)《性別工作平等法》 (D)《性別平等教育法》。
- 45、(2021/8/23 udn 新聞網)「日前有民眾在「公共政策網路平台」提案「國、高中上課時間改為 9：30 到 17：00」引發熱議，教育部於 8 月 19 日及 24 日舉辦公聽會。全國家長團體聯盟發表網路調查結果，贊成的人數為 1156 人 (24.6%)，不贊成的人數為 3534 人 (75.4%)。」從上文得知，此議題突顯出我國國民具備了何項基本德性？(A)遵守法律規範 (B)參與公共事務 (C)理性思考批判 (D)捍衛公平正義。
- 46、(2021/9/10 中央社)「面對外界質疑阿富汗臨時政府陣容沒有女性成員，塔利班組織一名發言人在接受當地電視台訪問時回應，女性的本份就是生育，然後把伊斯蘭教的倫理教導給子女，不是參與政治。」請問，此發言人的言論可用下列何者說明？(A)性騷擾 (B)性別歧視 (C)性別氣質 (D)性傾向。



◎〈閱讀理解題〉請閱讀下列兩則新聞，並回答題目：

**【2021/08/26 新頭殼 newtalk】倡議「月經平權」 北市試辦女性國中生生理用品免費**  
 台北市政府推動性別平等、倡議月經平權，將於今年 9 月開始的新學期，在信義、士林、重慶、木柵、古亭共 5 所國中推出國中生生理用品免費供應試辦計畫，預計有 1522 人受惠。台北市長表示，台灣女生一生花在生理用品就接近 10 萬元，這樣男生、女生一生下來的花費，女生就至少要有這 10 萬的支出。他知道大家經濟狀況不同，希望不要因為月經問題造成更大的不平等。  
 現在蘇格蘭、紐西蘭也在推動生理用品免費供應政策，其中，紐西蘭今年開始宣布，北市也要跟上先進國家，目前也在編列預算，若議會支持明年就可以開始此計畫。目前辦理方式會於學校女廁內設置「she can 月經盒」，本次由 Kotex 靠得住品牌公益合作，提供這學期 5 校的無限量日用型、一般型及量多型等不同生理用品。

- 47、從新聞中的敘述，我們可以知道台北市政府此舉的目的為何？(A)為了落實性別平權 (B)防治公共場所的性騷擾 (C)強化性別刻板印象 (D)準備嚴懲學校性別歧視行為。
- 48、請問：台北市政府試辦這個計劃，是在落實《世界人權宣言》哪一項原則？(A)人人有權主張和表達意見的自由 (B)人人有權被公正和公開的審訊 (C)在證明有罪之前，應被視為無罪 (D)人人在尊嚴及權利上一律平等。

我國同酬日係依據行政院主計總處「受僱員工薪資調查」，以當年兩性平均時薪差距計算自隔年 1 月 1 日起女性需增加之工作日數。依主計總處 109 年薪資統計初步結果，我國女性平均時薪 296 元，為男性 344 元之 86%，兩性薪資差距為 14%，換言之，女性較男性需多工作 51 天 (365 日曆天×14%÷51 天)，才能達到整年總薪資相同，因此 110 年「同酬日」為 2 月 20 日。  
 近 10 年，我國兩性平均時薪差距由 99 年 17.1% 下降至 109 年 14%，亦即女性需增加工作天數由 63 天減少至 51 天，兩性平均薪資差距縮減 3.1 個百分點及減少 12 天。歷年來我國兩性平均薪資差距相較美、日、韓等國為小，109 年我國為 14%，低於日本之 31.9%(108 年)、韓國 30.6%(108 年)及美國 17.7%。近 10 年來，各國薪資差距皆呈下降趨勢，以韓國縮減 7.8 個百分點最大，日本縮減 3.3 個百分點，我國縮減 3.1 個百分點，美國縮減 1.1 個百分點。  
 【資料來源 2021/2/23 勞動部官網 <https://www.mol.gov.tw/announcement/2099/47746/>】

- 49、我國當前已有專法對上文情況加以規範，民間企業若發生有男女薪資不公平情形，經檢舉並調查屬實後，可依法開罰。請問：這部專法為何？(A)《刑法》 (B)《性騷擾防治法》 (C)《性別工作平等法》 (D)《性別平等教育法》。
- 50、根據新聞內文，下列對於我國性別平權的狀況敘述何者正確？(A)我國男女薪資差距已獲得平等的地位 (B)職場上同工不同酬現象屬於「性別歧視」 (C)我國男女平均薪資差距比美日韓大 (D)政府對於男女薪資問題沒有權力規範。

試題完成，記得再檢查一遍答案卡與試卷，並務必將自己的答案抄寫於題目卷上，以利試後檢討。