

# 臺北市新民國中110學年度 第1學期 8年級社會領域 第一次段考試卷

八年 班 座號： 姓名：

## 一、單選題(1-50題，每題2分。)

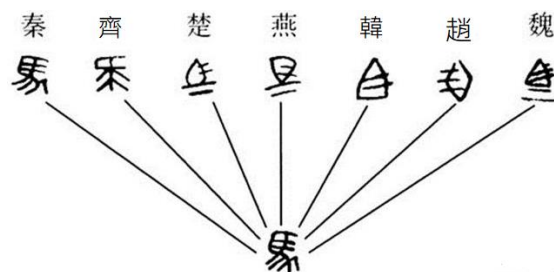
### ※【歷史科】第1-16題。

- 右圖呈現某一時期中外交流概況，下列何者符合該時期的往來情形？  
(A)西方向漢進貢以換取曆法及絲織品 (B)小麥製的胡餅隨商人傳入中國  
(C)傳統彈撥樂器琵琶由漢傳往西方諸國 (D)中國以茶葉陶瓷為主要輸出商品。
- 阿淮生於中國某個思想學說輝煌的朝代，那個朝代想要做官出人頭地，不在乎年齡老少，只要是個人才，抱著自己獨特學術的中心思想，再透過言辭遊說打動國君，一定可以得到重用，上文中的阿淮，最可能是下列何時的人？(A)春秋戰國時期 (B)西漢時期(C)東西晉時期 (D)隋唐時期。
- 若今天一位國君，他主張應該順應自然，小國寡民則是最理想的體制。他的思想應該還包含下列何者？  
(A)以禮為規範教化人民 (B)減少對人民的干涉 (C)重視農工增加生產 (D)增設國防準備動員戰鬥。
- 花花正在為了歷史報告尋找相關資料，右圖文獻內容是她即將引用的其中一項資料，以為她的報告提供更多佐證史料。根據右列內容判斷，花花最可能是以下列何者作為報告主題？。(A)佛教傳入中國的途徑 (B)大化革新與日本的改革  
(C)中國統治者的學說思想 (D)唐朝漢文化的交流傳播。
- 秦統一天下後，宰相李斯向秦始皇提出建議，指出周文王與周武王雖然封了許多同姓子弟，但是在關係疏遠後卻像是仇敵般互相爭鬥，連周天子也無法阻止。如今皇帝統一天下，更應該在各個行政區實施郡縣制。上述制度最大的特色為下列何者？(A)地方官員由諸侯共同推選 (B)地方官員卸任後，職位可傳給後代  
(C)皇帝可任命郡守，郡守再任命縣令 (D)無論是郡守或縣令皆由皇帝指派。
- 唐代書生柳原出遊，途中結交一個來自「君子國」的外國人，這個外國人對於中國的文字、儒學、佛學皆有相當的造詣。他應該是哪一國人？(A)日本 (B)越南 (C)新羅 (D)大食。
- 現今的中外學者均認為張騫出使西域是絲路開通的歷史指標。請問：他兩次出使西域有何重要的貢獻？  
(A)擴大漢帝國的版圖 (B)促進海上國際貿易 (C)使漢帝國成為東亞盟主 (D)促進東西經濟文化交流。
- 蓉蓉在一本以中國某個朝代為背景的歷史小說中，看見一段大臣對君主的勸諫之言，內容如附圖所示。關於其中藉以鞏固政權的方式，下列說明何者正確？(A)君主將土地賜給同姓諸侯，確立貴族階層 (B)君主將經戰爭兼併而來的土地設置為縣 (C)將異姓諸侯輪調各地只留有功的將領在京城  
(D)攻打鄰近小國，與遠方國家互通友好。
- 何種制度打破魏晉以來「上品無寒門，下品無世族」的局面，仕途逐漸不再為少數世家大族所壟斷？  
(A)科舉制度 (B)察舉制度 (C)九品中正制 (D)血緣制度。
- 上課時老師用文字的變化來說明某位君主的改革，根據右圖來判斷，此君主最可能是下列何者？(A)齊桓公 (B)秦始皇 (C)漢武帝 (D)隋文帝。
- 日本學者宮崎市定在《宮崎市定中國史》中提到「為了除去歷來在選用官吏時往往受到有勢力的家族左右的弊端，根據陳群的建議，在地方的郡設置中正官，負責評定候補官吏的資格並推選到中央，這一做法應當按照當時的稱呼稱作『九品官人法』」若我們要翻閱書籍仔細查閱名稱相似的九品官人制度。下列哪本書可以查到相關資訊？  
(A)《唐會書》 (B)《魏晉制度史》 (C)《先秦諸子學說》 (D)《漢代的任官制度》。
- 「君王集軍政大權於一身，其下有輔助推動政務的宰相，以及漸趨系統化和專業化的文武官員，地方上的郡縣長官也由君王直接任命。這些大小官員大部分不再是憑藉血緣世襲的封建貴族，而是平民出身的才學之士。」上文最能說明中國歷史上何種情況的發展？(A)君主權力的衰微 (B)中央集權的形成 (C)世族社會的出現  
(D)地方勢力的割據。
- 周朝至秦漢修築長城以防犯外族入侵，由右圖來看，是要防犯何地的外族？  
(A)甲 (B)乙 (C)丙 (D)丁。
- 承上題，以下哪一個敘述，符合當時該地外族的生活習慣？(A)貴族以黃、綠、褐三色釉陶陪葬物 (B)依循曆法節氣進行耕種，以稻為食 (C)以馬騎乘、食肉飲奶游牧為生 (D)狩採集穿獸皮，住杆欄式建築。



《資治通鑑》記載，從貞觀十四年（公元640年）開始，長安國子監增築學舍並增加學員，「於是四方學者雲集京師，乃至高麗、百濟、新羅、高昌、吐蕃諸酋長亦遣子弟請入國學，聖堂講筵者至八千餘人。」

過去，周公在一場動亂後，採取「封建親戚」的做法，希望能夠藉此鞏固周國的政權命脈。……重用有功、親近親人，與關係親近的國家交好，和尊重有才幹的人，是掌握政權最重要的事啊！





◎請閱讀短文，並回答下列問題：

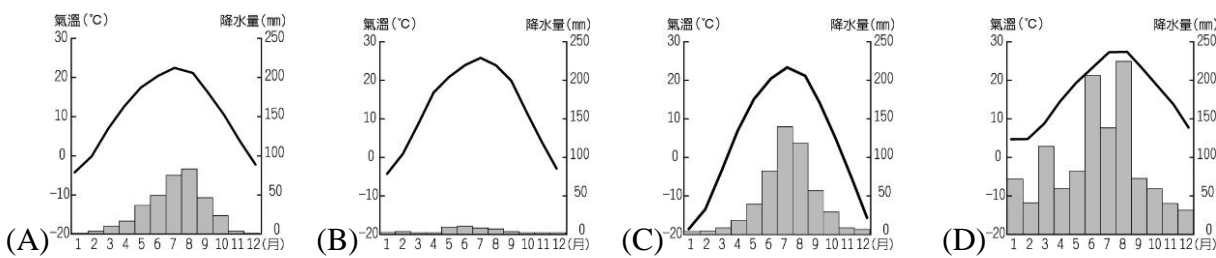

不同的宗教信仰影響著中國人的生活，每個宗教因環境而有所改變，如右圖西王母在先秦《山海經》記載為有老虎的牙齒與豹的尾巴，掌有很多不死藥。從戰國到西漢後，西王母脫離原始形象變為美麗神女，曾賜給漢武帝仙桃（又稱蟠桃，吃了能夠起死回生、長生不死），西漢末年，大旱及天災，民不聊生，關東百姓離鄉逃難，手持稻桿拜西王母，求取庇佑，祭拜西王母的民眾相互傳書說：西王母告訴百姓，信西王母者可以不死。後來這件有關西王母的事件，也被漢朝官方記載，演變至今也成為流傳中國（甲）信仰的重要神明。



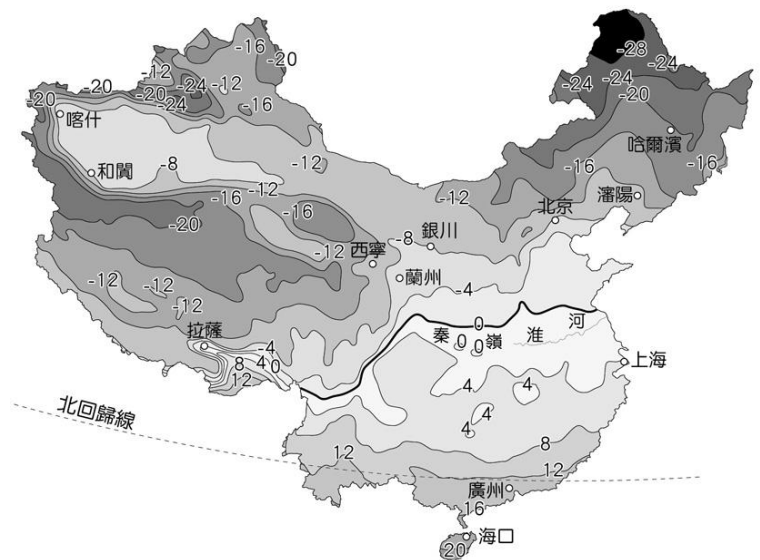
- 15、請問（甲）應為何派別的宗教？ (A)泛靈信仰 (B)佛教信仰 (C)道教信仰 (D)伊斯蘭教。  
16、請問漢朝當時官方是以何種文體記載此事？(A)行書 (B)楷書 (C)小篆 (D)隸書。

※【地理科】第 17-33 題。


- 17、人在北京的爾威，於七夕早上八點打電話給熱戀中的新疆女友～迪力熱叭，請問電話那頭接起來的第一句話最可能是？  
(A)親愛的，午餐吃飽沒？ (B)搞什麼鬼，你知道現在幾點嗎？  
(C)情人節都過了才打電話？ (D)今晚的星空真美麗啊，不愧是七夕。
- 18、下列哪一項情景的產生足見中國的文化傳播至世界？  
(A)麥當勞在中國開設了 3500 家以上的分店 (B)中國約有一億民眾信仰基督教  
(C)美國紐約市內有著名的唐人街 (D)中文為世界使用者最多之語言
- 19、「中國某地區的 1 月均溫約為 5°C，7 月約在 20°C 以上；年降水量在 1280 mm 左右，夏季是主要雨季。」由上文判斷，該地區應為何種氣候？  
(A)溫帶季風氣候 (B)溫帶草原氣候 (C)熱帶季風氣候 (D)副熱帶季風氣候
- 20、右圖為中國五大地形比例，請問丘陵的代號應該為？ (A)甲 (B)乙 (C)丙 (D)丁。
- 21、中國長河大多由西向東流入海洋，且來自海洋的水氣也能向西進入內陸，影響此現象的主為何？  
(A)地勢走向 (B)季風方向 (C)海岸線長短 (D)緯度高低。
- 22、請問下列四張氣候圖所呈現的氣候類型，何者最有可能出現在右圖所標示之地區？



- 23、祖堯腳上穿著某運動品牌的喬丹 36 代球鞋，意外發現上面寫著 made in China，請問這正好符合中國的哪種形象？  
(A)市場廣大 (B)勞力充沛 (C)交通便利 (D)礦物豐富
- 24、右圖為中國某一季節等溫線分布圖，由圖中所提供的資訊，可以判斷出下列哪項事實？  
(A)這是夏天的溫度分布 (B)可以用普遍高溫來形容  
(C)0°C 等溫線大致與秦嶺、淮河一線重疊  
(D)哈爾濱很可能是因為高度的關係而低溫。
- 25、自然環境會對早期人類的生活型態有著絕對的影響力，請問下列哪種建築構造或風格是為了適應當地濕熱環境而產生？(A)杆欄式 (B)坐北朝南 (C)小窗平頂 (D)炕。
- 26、中國擁有的總資源經常在全世界名列前茅，但是換算成人均平均值時總是顯得匱乏，其根本原因是？  
(A)地形複雜 (B)開發度低 (C)氣候惡劣 (D)人口眾多



- 27、右圖是中國大陸在農曆春節前後發生的一種大規模交通現象，請問此現象主要呈現出中國哪一項的人口問題？  
(A)城鄉移動 (B)人口分布不均 (C)少子化嚴重 (D)高齡化浮現。
- 28、2019 年中國網路消費人數與金額大幅增長，證明了中國已經具備哪一項吸引投資的誘因？ (A)資金 (B)市場 (C)交通 (D)技術



- 29、以現今的情況來看，中國移至海外的人口數量高居世界前茅，而探究其外移主因或移民者本身背景為何？  
 (A)原鄉糧食不足 (B)高所得或專業人才 (C)原鄉人口壓力過大 (D)從事勞力活為主的壯年人。
- 30、自工業革命以來，人類大量使用化石燃料，同時加速砍伐森林，導致溫室氣體濃度提升而增加地球暖化幅度，而請問下列哪一個國家二氧化碳的排放量高居世界首位？ (A)美國 (B)日本 (C)中國 (D)印度

◎請閱讀短文，並回答下列問題：

南華早報 9 月 30 日報導，西安交通大學研究顯示，中國人口萎縮速度超乎預期，45 年內人口可能減半，以 2020 年的數據來分析，每名婦女需要生育兩個小孩，才能讓總人口數維持不變。除此之外，根據 2020 的人口普查資料，中國 60 歲以上老年人口已經超越孩童，65 歲以上族群也已佔總人口的 13.5%，雖略低於兒童的 17%，但超越恐怕只是時間問題。

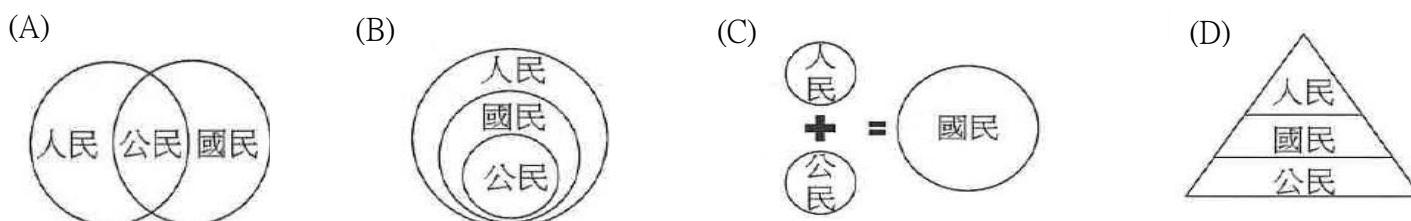
儘管 2021 年 6 月北京鬆綁限制，允許生第三胎，但是高房價等經濟因素讓少子化問題難解。中國政府出手調控房價、並壓低教育成本、增加幼稚園數量，但是研究強調仍需更多政策，才能搶救生育率。

改寫自 MoneyDJ 新聞 2021-10-01 陳苓

- 31、根據文章所指，日前鬆綁允許生育第三胎，而 1970 到 2015 年之間的生育規定卻是？  
 (A)一胎化 (B)有條件二胎化 (C)無生育限制 (D)完全禁止。
- 32、根據文章的數據，2020 年中國的扶養比為？ (A)13.5% (B)18% (C)30.5% (D) 43.8%。
- 33、人口問題是許多國家相同的課題，而下列哪一項社為問題也是未來必須面對，同時因為少子化而更加凸顯出來？  
 (A)失業問題 (B)物價膨脹 (C)老人照護 (D)治安問題。

※【公民科】第 34-50 題。

- 34、人民是國家組成要素之一，下列對於「人民、國民、公民」三者的圖示關係，何者最能正確描繪出？



- 35、法國的政治思想家孟德斯鳩提出「三權分立」的學說，請問：這三權指的是 (A)行政權、司法權、立法權 (B)行政權、監察權、考試權 (C)司法權、考試權、立法權 (D)行政權、立法權、監察權。
- 36、以諾在介紹國家的概念時提到：「國家享有獨立自主的地位，無須服從更高權威，儘管各國國力有所差距，但是國際地位應一律平等。因此，任何國家皆無權干涉他國內政。」根據上述內容判斷，她解釋的是下列何種國家構成要素？  
 (A)人民 (B)領土 (C)政府 (D)主權。
- 37、駿哲為了公民報告正在「全國法規資料庫」網站(<https://law.moj.gov.tw/>)查詢，以下是他查到的部分內文節錄：「前言 中華民國國民大會受全體國民之付託，依據孫中山先生創立中華民國之遺教，為鞏固國權，保障民權，奠定社會安寧，增進人民福利，制定本〇〇法，頒行全國，永矢咸遵。第 1 條：中華民國基於三民主義，為民有民治民享之民主共和國。」根據內文，可以得知〇〇法為下列何項法律？ (A)《國民大會組織法》 (B)《中華民國刑法》 (C)《中華民國憲法》 (D)《國立國父紀念館組織法》。

- 38、右表是子庭上課後所整理出來有關「國家」與「政府」的比較表，依據內容，下列敘述何者正確？ (A)從範圍而論，政府包含而且大於國家 (B)從權力而論，國家主權透過政府來運作 (C)從持續性而論，政府更替會影響國家存在 (D)從整體而論，國家的概念等同於政府的概念。

	國家	政府
範圍	廣	國家組成要素之一
權力	主權	統治權
持續性	永久持續	短暫可更替

- 39、在法治國家中，法律的功能不包括下列何者？  
 (A)保障人民權利 (B)維持社會秩序 (C)確保統治者權力 (D)促進社會進步。
- 40、右圖為某則新聞報導，下列關於圖中法律的敘述，何者正確？  
 (A)兩者法律位階相同屬於狹義的法律 (B)《教師法》需經司法院三讀通過  
 (C)《教師法施行細則》教育部修定即可 (D)《教師法施行細則》可違反《教師法》規定。



- 41、老師讓同學以「有限政府」為主題，提出相關的說明。請問：下列何人的說明有誤？  
 (A)晉寬：強調統治者是國家的主人，掌握所有的權力 (B)嘉陞：政府的權力不得侵害人民權利  
 (C)慈慧：以增進人民的福祉為依歸 (D)宜萱：政府自身在規模、職權上會受到法律及社會的監督。
- 42、下表為人治與法治所做的比較表，請問哪一項內容正確？

	人治	法治
(A)有無法律的存在	無	有
(B)法律的制定者	民意代表	統治者
(C)法律約束的對象	政府與人民	人民
(D)制定法律的目	統治者統治人民的工具	保障人權、限制政府權力

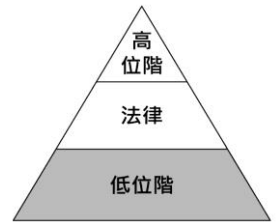
- 43、曉華是我國國民，她與美國籍男子結婚後生下一女，對於女兒國籍的歸屬感到疑惑，因此上網尋求相關資訊。右圖中四位網友的回答何者正確？  
(A)甲 (B)乙 (C)丙 (D)丁。

【103 會考】

甲：必須先知道女兒的出生地，才能確定女兒是否具有我國國籍。  
乙：因為父親是美國籍，所以女兒不具有我國國籍。  
丙：母親具有我國國籍，因此女兒也會具有我國國籍。  
丁：女兒必須經過歸化手續，才能取得我國國籍。

- 44、右圖為我國廣義的法律位階示意圖，圖中灰色區塊所代表的法律類型，具有下列何項特色？  
(A)可由行政機關訂定 (B)必須經總統公布施行  
(C)內容多為原則性的規範 (D)修改必須經公民投票複決。

【109 會考】



- 45、承上題，下列各法律條文何者同屬於此低位階？ (A)《傳染病防治法》(B)《中途學校教育實施辦法》(C)《嚴重特殊傳染性肺炎防治及紓困振興特別條例》(D)《司法院釋字第 748 號解釋施行法》。

- 46、右表為我國有關 12 年國教的相關規定，根據內容判斷，下列何者最符合表中所呈現出來的憲法特性？ (A)法律抵觸憲法無效 (B)憲法的修改程序最為嚴格 (C)憲法只有規範人民權利 (D)憲法的內容簡明扼要。

法律名稱	條文內容
憲法	人民有受國民教育之權利與義務。
國民教育法、強迫入學條例	6 至 15 歲學齡之國民強迫義務教育
十二年國民基本教育實施計畫	普及、義務、強迫入學、免學費、以政府辦理為原則、劃分學區免試入學、單一類型學校及施以普通教育。

限制女性夜間工作違憲 勞動部：健康因素或孕婦例外

2021/9/13 中央社

大法官釋憲認為限制女性勞工夜間工作違反《憲法》保障性別平等，判定違憲。勞動部表示，該項自宣布日起已失效力，但女性若因健康因素或是妊娠、哺乳期，仍不得執行夜間勤務。司法院釋字 807 號指出，《勞動基準法》第 49 條第 1 項規定限制女性勞工夜間工作形成差別待遇，淪於性別角色窠臼，違反憲法第 7 條保障性別平等意旨，自解釋公布之日起失效。勞動部已通函各地方主管機關，依大法官釋憲《勞動基準法》第 49 條第 1 項規定違憲，自該日起失其效力。

- 47、上文中有關「        」底線部分，可以看出我國政府機關彼此的互動關係，突顯出下列何項概念？  
(A)均權制度 (B)分權制衡 (C)主權在民 (D)地方自治。
- 48、根據上文，《勞動基準法》第 49 條第 1 項失其效力的原因，顯現《憲法》的何項特性？  
(A)最高性 (B)原則性 (C)固定性 (D)約制性。
- 49、上文中《勞動基準法》的修正程序，下列何者正確？  
(A)司法院三讀表決 → 大法官公布 (B)行政院三讀表決 → 立法院公布  
(C)立法院三讀通過 → 行政院公布 (D)立法院三讀通過 → 總統公布。
- 50、下列關於《憲法》的描述，何者正確？ (A)由行政機關負責制定及公布 (B)法律及命令是否抵觸憲法，由立法院負責解釋 (C)是國家的根本大法，人民權利的保障書 (D)《憲法》主要在具體實現命令的內涵。

試題完成，記得再檢查一遍答案卡與試卷，並務必將自己的答案抄寫於題目卷上，以利試後檢討