

# 臺北市新民國中110學年度 第1學期 9年級社會領域 第1次段考試卷

年 \_\_\_\_\_ 班 座號： \_\_\_\_\_ 姓名： \_\_\_\_\_

## 一、單選題(1-50題，每題2分。)

### ※【歷史科】第1-17題

01、老師講述古代西亞歷史時，提供同學以下法典的內容，請同學們討論。


- (一)如果一個人毀了一個貴族的眼，他的眼也要被打瞎。
- (二)如果他打斷同身分人的骨頭，他的骨頭也應被打斷。
- (三)如果他打瞎一個平民的眼或打斷骨頭，他應付銀子。
- (四)如果他打瞎一個奴隸的眼，他應付奴隸身價的半數。
- (五)如果妻子受丈夫虐待，有取回嫁妝而回娘家的權利。

根據上述資訊，請你判斷以下的說法何者正確？

- (A)漢摩拉比法典主張傷人者只需付錢賠償
- (B)漢摩拉比法典中不承認女性的法律地位
- (C)漢摩拉比法典主張法律之前，人人平等
- (D)漢摩拉比法典蘊含報復主義的原則。

02、大英博物館藏有一部古埃及人所留的死者之書(如右圖)，亡者被陰間的使者領向一個天平，他的心臟被拿來測量一生的善惡，陰間之神則在旁監看，並宣判死者是否能夠重生。請問：這反映了古埃及宗教的何種觀念？

- (A)明白四締、遵行正道
- (B)因果報應、靈魂輪迴
- (C)靈魂不滅、死後審判
- (D)善惡對立、光明必勝。



03、仁和撰寫有關印度「婆羅門教」的報告內容如下，何者正確？

- (A)阿利安人創立了婆羅門教
- (B)婆羅門教主張人死後須經過審判
- (C)受婆羅門教影響，印度社會階級平等
- (D)婆羅門教主張眾生平等，經修行可以解脫輪迴。

04、右圖是欣怡向同學介紹她暑假的旅遊心得。請問：這個神殿是哪一個民族的信仰？

- (A)波斯人
- (B)羅馬人
- (C)埃及人
- (D)希臘人。



我造訪第一個版圖橫跨三洲的帝國宮殿遺址，看到24小時都燃燒著聖火的神殿……。

05、新聞報導：「近來印度性侵案頻傳，屢屢躍上國際新聞版面，學者認為，重男輕女與種姓制度是這股亂象的元凶，在錯誤觀念尚未被導正前，即使提高刑責也無法改變現狀。」有關新聞中提及的「種姓制度」，具有下列哪一特色？

- (A)創造出平等和諧的社會
- (B)分為貴族、庶人、奴隸三大種姓
- (C)不同種姓間不得通婚
- (D)平民可以藉由才能與努力成為貴族。

06、古西亞地區有一民族擅長於航海經商，經常往返於地中海地區，並將古埃及文字改良後傳入歐洲。請問：上文所述應是指下列哪一個民族？

- (A)波斯人
- (B)蘇美人
- (C)腓尼基人
- (D)巴比倫人。

07、羅馬共和時期曾編訂一部法典，其中有與現代法律相似的概念，例如：「任何人不得將尚未定罪的人置於死地。」這應是指下列哪部法典？

- (A)《漢摩拉比法典》
- (B)十二表法
- (C)《查士丁尼法典》
- (D)憲法。

08、歷史上有一個民族居住於地中海東岸的巴勒斯坦地區，在宗教方面，創立了猶太教，認為上帝耶和華是唯一真神，對後世西方宗教帶來很大的影響。請問：這個民族是下列哪一民族？

- (A)蘇美人
- (B)巴比倫人
- (C)希伯來人
- (D)波斯人。

09、有一部賣座的電影《神鬼傳奇》，內容敘述古代一位祭司因罪被處死並製成木乃伊，卻在數千年後復活並引發眾多災難。請問這部電影中可能還會出現哪個情節？

- (A)眾人向耶穌膜拜，並接受神諭。
- (B)使用六十進位法，根據月球運行週期制定陰曆。
- (C)角鬥士在競技場內搏鬥，觀眾在臺上吆喝。
- (D)修築雄偉高大的金字塔，作為國王未來的陵寢。

10、下列有關雅典與斯巴達城邦的比較，何者正確？

- (A)皆位於希臘地區
- (B)前者重視軍事教育，後者則以民主制度為主
- (C)皆利用投票決定流放者
- (D)人民均需接受嚴格的軍事訓練。

11、下列關於西亞古文化的敘述，何者正確？

- (A)西亞地區包括小亞細亞、兩河流域及非洲北部等地 (B)巴比倫人依據月亮的運行制定陰曆，並使用六十進位法  
(C)蘇美人發明的楔形文字為日後西亞大部分民族所使用 (D)蘇美人創立祆教，並修建祆教神廟。

12、希臘化時期是指亞歷山大死後的三百年間，帝國境內希臘、西亞等地的文化不斷融合的時期。請問：下列何者並非此時所發生的史事？

- (A)帝國境內鼓勵民族通婚，並積極推廣希臘語文 (B)阿基米德發現槓桿原理 (C)歐幾里德撰寫《幾何原本》  
(D)波希戰爭爆發。

13、西元 2020 年，因應新冠肺炎疫情嚴峻，國際奧林匹克委員會、東京奧運籌備會宣布東京奧運延期至西元 2021 年舉辦。請問：現代奧林匹克運動會源自於哪個古文化的祭神慶典？

- (A)蘇美 (B)埃及 (C)希臘 (D)羅馬。

14、右圖為某統治者的東征路線示意圖。根據城市分布範圍判斷，此軍事行動應由下列何人所領導？

- (A)凱撒 (B)亞歷山大 (C)歐幾里德 (D)查士丁尼。



◎請閱讀短文，並回答下列問題：

2001 年的賣座史詩電影《神鬼戰士》，描述羅馬將軍麥希穆斯在二世紀末期曾率軍團擊敗北方的外患，深受皇帝馬卡斯·奧里略的賞識欲將王位傳給他，然而卻受到王子康莫德斯的嫉恨，康莫德斯謀殺老皇帝後自行登位，並派人殺害麥希穆斯的妻小，他也被捕即將處決，危急之際掙扎逃脫，過程中卻負傷被奴隸販子所救，而成為一名角鬥士，他必須在各地的格鬥場，殺掉每一位場上的敵人，才能存活下來。

由於他武藝高超，晉身角鬥士中的佼佼者，奴隸主遂帶著他們一行人前往角鬥士的最高殿堂-羅馬競技場，打算讓麥希穆斯大展身手，而他自己也能從賭盤中大賺一筆。

然而即將重返羅馬的麥希穆斯，心中只有一個念頭：如何藉由自己的武技，在格鬥競技中嶄露頭角，進而接近康莫德斯並殺掉他，為老皇帝及家人報仇……

15、這部電影所描述的時代背景，應該處於羅馬政治史中的哪個階段？

- (A)部落時期 (B)王政時期 (C)共和時期 (D)帝國時期。

16、文中「北方的外患」是指哪個民族？

- (A)匈奴人 (B)日耳曼人 (C)波斯人 (D)鄂圖曼土耳其人。

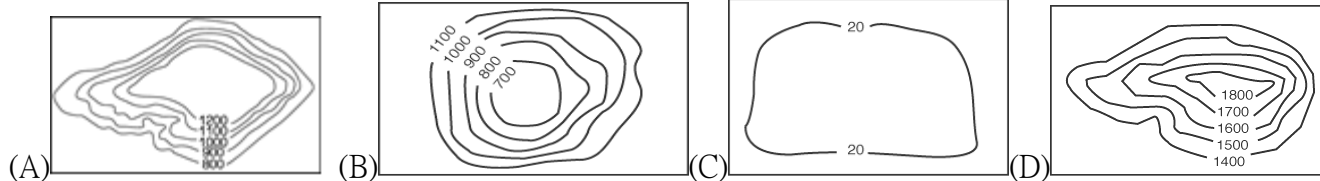
17、羅馬競技場今日仍聳立著，成為著名的觀光景點。如果想要瞻仰、參觀這偉大的建築，必須要到下圖中的何處？



- (A)甲 (B)乙 (C)丙 (D)丁。

### ※【地理科】第 17-33 題

18、非洲的地形主體，可用下列哪一張等高線圖表示？



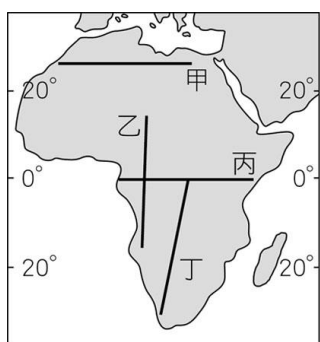
19、非洲大部分國家和中南美洲許多國家一樣，太過依賴一、兩種農、礦產的出口，而此經濟類形皆源自於下列哪一向因素？ (A)市場趨勢造成 (B)專制政府掌控 (C)歷史背景導致 (D)自然環境限制。

20、在基礎建設普遍級度不足的非洲各地，電影馭風男孩便是描述用科學知識來發電拯救村落的個案，而除了風力發電外，下列哪一種發電方式最適合在非洲的大多數氣候環境中應用？


- (A)太陽能發電 (B)核能發電 (C)水力發電 (D)地熱發電。

21、新民大富豪開著新買的新車，請問他沿著附圖 1 上哪一條路線飛行，才能依序見到如附圖 2 所示的天然植物景觀變化？

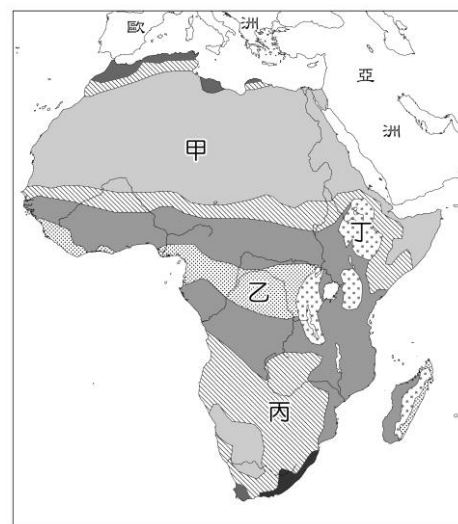
(A)甲 (B)乙 (C)丙 (D)丁。



▲圖 1



▲圖 2



22、醫術與顏值兼具的偉泓，企圖開發出新藥來治癒 COVID-19，而藥材所需要的生物基因素材越多越好，請問右圖中哪個代號所在地，最有希望讓偉泓找到生物科技研究所需要的材料？

(A)丙 (B)丁 (C)乙 (D)甲。

23、非洲氣候普遍炎熱且大致呈南北對稱分布，而其對稱軸正好就是哪條經緯線？

(A)赤道 (B)北回歸線 (C)南回歸線 (D)國際換日線。

24、早期歐洲列強以何種方式在非洲劃分勢力範圍，造成非洲各國複雜的民族組成，也埋下日後部落衝突與政治不安的因子？

(A)山河 (B)宗教 (C)語言 (D)經緯度。

25、倘若一千萬年後非洲真的如預期一般呈現右圖般的樣貌，該是斷層作用沿著哪個非洲地理區作用而形成？

(A)撒哈拉盆地 (B)剛果盆地 (C)東非裂谷 (D)衣索比亞高原。

26、下圖為非洲居民傳統的游耕生活方式，其進行的正確順序應為何？

(A)甲乙丙丁 (B)乙甲丁丙 (C)乙丙丁甲 (D)丙丁甲乙。



27、某連鎖飲料品牌透過「保證收購價格」等方式來幫助非洲弱勢小農，同時藉此要求他們採用友善環境的永續耕作方式，這樣的作法除了環境保育之外，主要還有下列哪一項目的？

(A)維持公平貿易 (B)塑造企業形象 (C)拉抬銷售價格 (D)打擊品牌對手。

28、非洲自然資源蘊藏豐富，貴重金屬或是石化燃料皆有，而請問下列何者是造成此一特徵的主因？

(A)原始森林密布 (B)沙漠面積廣大 (C)古老結晶岩層 (D)河川侵蝕劇烈。

29、受歐洲殖民國家的影響，非洲各國的經濟活動中，以哪種農業類型特別發達？

(A)游耕 (B)灌溉農業 (C)熱帶栽培業 (D)地中海型農業。

30、倘若從非洲北部出發，經過中部非洲後直達南部，沿途經過地區的年雨量變化應該是？

(A)一路遞減 (B)先增後減 (C)一路遞增 (D)先減後增。

◎請閱讀短文，並回答第 31~33 題：

在南非於一九九四年成為民主國家後的歡天喜地氣氛中，非洲復興碰上的困難卻愈來愈大。除了許多國家境內的戰爭，非洲還苦於其他多場衝突，事實上，非洲邁入獨立時代五十年後，前景黯淡一如以往，它的人均國民所得比第二窮的南亞還少了三分之一。而由於人口增加到超過十億，目前一半的人口靠一天不到一美元的收入過活。

西方政府一方面肯定「追求非洲發展的新夥伴關係」所訂下的目標，也沒有哪個西方政府願意為了非洲的復興，修改本國的貿易政策、農業政策。非洲農產品面臨工業化國家所設置的關稅壁壘，這些壁壘使它們進不了西方市場。以棉花為例，非洲是世上第三大棉花生產區，在西非，因為其他國家對其本國農民給予優惠的補助，讓棉花能比西非賣得更便宜，導致西非棉花近年產量從成長了一成四，收入卻下跌了三成一，由此可知非洲的農業在國際競爭下之辛苦。

改寫自 2017/05/12 關鍵評論／脫離不了的殖民：獨立六十年至今跌跌撞撞的「非洲復興」美夢

- 31、由文章可知非洲的貧窮問題嚴重，而下列哪一原因是其最主要的原因？  
 (A)農業仰賴種植經濟作物 (B)不公平的貿易制度 (C)極度惡劣的自然環境 (D)糧食極度的缺乏。
- 32、請問下列哪個非洲的社會現象會讓其貧窮問題雪上加霜？  
 (A)氣候的異變 (B)政治局勢的不穩 (C)人口的快速成長 (D)基礎建設的缺乏。
- 33、由文章可知道戰亂頻繁是非洲面臨的困境之一，下列何者不是引發戰爭的主因？  
 (A)宗教 (B)領土 (C)資源 (D)疾病。

※【公民科】第 34-50 題

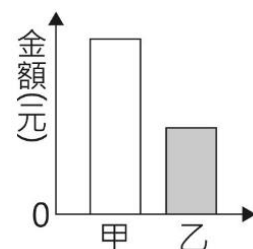
- 34、關於經濟問題的產生，下列哪個敘述是錯誤的？  
 (A)資源取之不盡用之不竭 (B)面臨選擇的問題 (C)資源有限欲望無窮 (D)機會成本的選擇。
- 35、雞排店老闆為了吸引消費者，舉辦促銷活動，將雞排的售價從 65 元調整為 45 元。從價格因素來看，若消費者的所得及其他條件不變，消費者願意購買雞排的數量最有可能產生何種變化？ (A)不一定，消費者可能多買，也可能會少買  
 (B)本來每周吃一次，可能會改成 3 天吃一次 (C)不管價格有無變動，想買的數量不會改變 (D)生產成本降低使價格變便宜，應該多買一些。
- 36、關於經濟學所討論的「稀少」，下列敘述何者正確？ (A)有錢人不會面臨「稀少」的問題 (B)不花代價就可取得的資源都具有「稀少性」 (C)在沙漠地區，水資源不具有「稀少」的特質 (D)對空污嚴重的地區，清新的空氣具有「稀少性」。
- 37、油品市場在台灣的競爭非常激烈，下列是新民加油站所提出的四種因應方案，何種屬於最直接降低成本的做法？  
 (A)自助加油可省每公升柴、汽油 0.2 元 (B)各類柴、汽油每公升降價 0.5 元 (C)工讀生時薪由 180 調為 160 元 (D)加油滿五百元贈公益彩券一張。

- 38、家儀有甲、乙、丙三份工作機會，將其機會成本繪製如右表。若家儀在繪製表格時僅以薪資為考量，根據表中內容判斷，甲、乙、丙三份工作的薪資，由高到低依序為下列何者？ (A)乙、丙、甲 (B)丙、乙、甲 (C)乙、甲、丙 (D)甲、乙、丙。

工作	機會成本
甲	乙的薪資
乙	丙的薪資
丙	乙的薪資

- 39、九年六班(甲)在校慶園遊會有申請攤位，幾位同學正在努力炒著「金門炒泡麵」(乙)，香味四溢吸引了許多同學、老師(丙)前來攤位購買，有人一口氣買了兩份 100 元的炒泡麵(丁)當午餐和晚餐。上述(甲)、(乙)、(丙)、(丁)畫底線部分何者最符合「消費行為」的定義？  
 (A)甲 (B)乙 (C)丙 (D)丁。

- 40、右圖為某班園遊會擺設冷飲攤的營收結果，其中甲代表銷貨收入，乙代表利潤。若後來發現生產成本中少列入一筆設備租金費用，在此筆費用列入計算後，圖中甲、乙最可能出現的情況為下列何者？  
 (A)甲不變，乙不變 (B)甲不變，乙下降 (C)甲下降，乙不變 (D)甲下降，乙下降。



- 41、下列哪一種行為，適合用「價格影響生產者的資源分配」？ (A)由於種高麗菜的利潤下降，農民將轉種其它農作物 (B)致凱這個月加薪，所以多買了兩瓶高級香檳 (C)房價持續高漲，科瑾沒有足夠的現金買房 (D)中油宣佈明天油價將調漲，姿羽今天先把車子的油加滿。
- 42、日常生活中，下列哪一事件會使消費者降低消費意願？ (A)推出飲料「第二件半價」折扣優惠 (B)預期衛生紙的價格將在近期内調漲 (C)廠商請奧運選手代言最新健身器材 (D)速食店為反映成本而調高漢堡薯條套餐價格。
- 43、(2021/9/24 三立新聞)「蘋果日前開賣定價 2、3 萬元的 iPhone13 系列新機，蘋果門市買氣旺，最受歡迎是 iPhone13 Pro 系列，很多果粉就是看準今年效能、錄影功能升級，加上新顏色「天峰藍」也很受果粉青睞。另外現場也有一位果粉一口氣帶走四支，從 iPhone13 mini、iPhone13、iPhone13 Pro、iPhone13 Pro Max 4 款機型全包。從內文中得知，造成民眾搶購熱潮的因素為何？ (A)商品價格 (B)所得水準高低 (C)消費者的偏好 (D)預期心理。

- 44、小芊獲得甲、乙、丙、丁四個薪資不同的工作機會，若她僅以薪資作為選擇工作的依據，在甲、乙兩工作中，她會選擇甲工作，且機會成本為 35,000 元；她另將乙、丙工作與乙、丁工作分別比較，結果整理如右表。根據表中資訊判斷，乙、丙、丁三項工作的薪資高低關係應為下列何者？

選擇比較的工作	最佳選擇的機會成本
乙、丙	35,000 元
乙、丁	32,000 元

【109 補考】

- (A)乙 > 丙 > 丁 (B)丙 > 丁 > 乙 (C)丁 > 乙 > 丙 (D)丙 > 乙 > 丁。

- 45、金芳工廠評估三種營運策略的收支情況，如右表所示。若僅考量利潤，該工廠的最佳選擇是「維持現狀」，且此選擇的機會成本是「增產乙產品」。根據上述內容判斷，表中「☆」處的數值，最可能為下列何者？

營運策略	銷貨收入	生產成本
增產甲產品	120	90
增產乙產品	105	☆
維持現狀	80	40

【110 會考】

- (A) 80 (B) 70 (C) 60 (D) 50

【2021/8/11 中央社】世界衛生組織（WHO）表示，COVID-19 疫苗全球分配「可恥的」不均，有能力做出改變的 20 位領袖應於 10 月之前扭轉局面。

根據法新社統計，全球目前施打近 45 億劑疫苗，而被世界銀行（World Bank）列為高所得的國家，每百人施打了 104 劑，但在 29 個低所得國家中，每百人僅施打了 2 劑。

對於富裕國家獨占疫苗供給，而開發中國家就連最脆弱族群要施打疫苗都有困難，世衛對於這項「道德惡行」愈來愈憤怒難耐。

- 46、從新聞內文得知，WHO 在疫苗的分配上主張應該採取何種原則？(A)由各國國力強弱分配 (B)各國政府報價高低來決定 (C)考量國際間公平正義的精神 (D)由各國人口多寡平均分配。
- 47、有關國際間 COVID-19 疫苗分配的方式，下列方式何者較能有效率運用疫苗資源？(A)各國政府應放任讓疫苗分配自由競爭 (B)各國政府不該強行介入疫苗分配問題 (C)現階段的疫苗不屬於有限資源 (D)應依各國需求差異狀況協調出疫苗分配方式。

配合振興五倍券上路，相關部會祭出共 8 類、1236 萬份加碼振興券。除了前 400 萬名數位綁定者，可免抽籤獲得經濟部的 500 元「好食券」之外，其餘 7 種加碼券，包括動滋券、藝 Fun 券、農遊券、客庄券、國旅券、地方創生券和 i 原券，將自 10 月 11 日至 11 月 5 日連 4 週抽籤，每人最多有 4 次中籤機會，民眾 9/22 起可至官網登記參與抽籤。

行政院表示，各部會正設計振興五倍券加碼方案，除延續去年的經驗，也會參考各界意見，衡量經費等因素後做出決定。

【資料來源：2021.09 風傳媒、自由時報、工商時報整理】

- 48、右下(表一)為各部會這次加碼券所需要的經費預算，為了這次加碼券所付出的代價符合下列哪一個概念？(A)人性尊嚴 (B)公平分配 (C)機會成本 (D)使用者付費。
- 49、從上文中得知，下列有關領取加碼券的資源分配方式敘述何者正確？(A)所有加碼券都是透過抽籤方式來獲取 (B)好食券是透過「先占先贏」的方式來分配 (C)加碼券不具有稀少性隨手可得 (D)抽籤是最能讓有需要的人運用的方式。
- 50、根據上文，會促使民眾對加碼券的領取主要是下表中的哪一種誘因？

	正向誘因	負向誘因
金錢誘因	(A)	(B)
非金錢誘因	(C)	(D)

### 如何領取各部會加碼券？

<b>農遊券</b> 146萬份 888元 • 農林漁牧及農村旅遊 • 須抽籤	<b>藝fun券</b> 300萬份 600元 • 藝文產業及文創展演 • 須抽籤	<b>好食券</b> 400萬份 500元 • 餐飲、夜市、市場 • 前400萬人申請數位振興券即贈
<b>動滋券</b> 200萬份 500元 • 運動健身及賽事觀賞 • 須抽籤	<b>共1236萬份 將於官網抽籤 (5000.gov.tw)</b>	<b>國旅券</b> 120萬份 1000元 • 可購買旅遊相關產品 • 須抽籤
<b>客庄券</b> 40萬份 500元 • 客庄觀光及客庄文創 • 須抽籤	<b>i原券</b> 10萬份 1000元 • 原住民店家產品服務 • 綁定台灣Pay免抽籤	<b>地方創生券</b> 20萬份 500元 • 地方創生事業相關 • 須抽籤

風傳媒 THE WIND MEDIA

部會券種	發放份數(份)	每券面額(元)	總金額
交通部國旅券	120萬	1000	12億
原民會i原券	10萬	1000	1億
農委會農遊券	146萬	888	12.96億
文化部藝fun券	300萬	600	18億
教育部動滋券	200萬	500	10億
客委會客庄券	40萬	500	2億
國發會地方創生券	20萬	500	1億
經濟部好食券	400萬	500	20億
總計	1236萬份		76.96億

八大部會加碼券的份數及預算規劃一覽。資料來源：相關單位，記者查訪；製表整理：朱漢崙

(表一)

試題完成，記得再檢查一遍答案卡與試卷，並務必自己的答案抄寫於題目卷以利於檢討。