

臺北市新民國中110學年度 第1學期 8年級社會領域 第2次段考試卷

年 班 座號： 姓名：

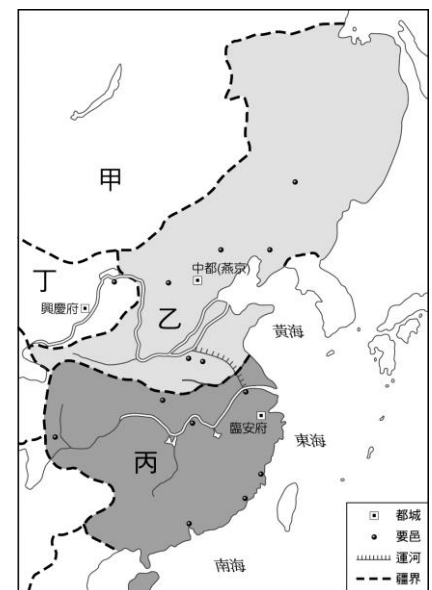
一、單選題(1-50題，每題2分。)

※【歷史科】第1-16題

- 宋元時期，海運發達，來自印度洋的貿易商延伸至東亞，皇帝對國際貿易採取寬鬆政策，指定某些城市進行國際貿易，參看右圖為當時某邊界港口進行貿易的示意圖，請問這個港口最可能為下列何者？
(A)北京 (B)泉州 (C)應天府 (D)汴京。
- 元朝相較於前朝，連接歐亞的陸上貿易更加繁榮，請問該朝統治者的何種作為，最能促使歐亞的商貿大增？
(A)開通大都到杭州的大運河
(B)大量印製紙鈔 (C)在各地廣設驛站 (D)建立橫跨歐亞的四大汗國。
- 玉環參訪故宮博物院時，看到其中一幅圖畫主要是在描繪宋代汴京的繁榮景象。這張圖畫最有可能是下列哪一幅？
(A)《清明上河圖》 (B)《早春圖》
(C)《鵲華秋色圖》 (D)《谿山行旅圖》。
- 元代時，穆期林頻繁的來到中國，他們可能經歷何種生活狀況？
(A)目睹火銃火藥進攻安南納入版圖 (B)感受到儒學在中原興盛發展
(C)運用活字版印製經書傳教 (D)使用經西域傳入修訂的曆法。



- 右圖代表十三世紀中國境內的政治形勢，以下哪一項內容可確實說明當時諸國之間的關係與後來的演變？
(A)丙國後來遭乙國所滅 (B)丙國曾與甲國聯合對抗契丹人 (C)丙國曾對甲國稱臣，以歲幣維持與敵國之間的和平 (D)乙國消滅丁國，但後來被甲國所滅。
- 疫情趨緩，我國政府為促進經濟循環，發行五倍券刺激消費，許多夜市也因而恢復以往的人潮。請問中國從哪一個時代開始，也因商業的繁榮，而有「夜市」的出現？
(A)唐 (B)宋 (C)元 (D)明。
- 蔡倫在古董店參觀中國歷代貨幣，發現紙幣是十世紀左右才開始使用的，對此中國貨幣的發展。下列何者敘述正確？
(A)因造紙技術的改良當時統治者發行紙幣
(B)最早的紙幣起源可推至四川商界發起的「會子」 (C)當時朝代銅錢因流通至國外造成國內錢荒 (D)至此中國貨幣以紙幣取代金屬貨幣。
- 夏迫譚是一個住在西亞的伊斯蘭教徒，他曾目睹蒙古大軍帶著威力強大的火炮，襲捲城鎮的恐怖景象，由此我們可以推知，阿文可能是生活在幾世紀的人？
(A)十二世紀 (B)十三世紀 (C)十四世紀 (D)十五世紀。
- 請閱讀以下文字，請問以下對這位傳教士在中國經歷的事情敘述何者正確？
(A)與中國大臣徐光啓合譯幾何原本 (B)因獻上世界地圖受到清朝皇帝的重用 (C)他改信佛教著僧裝，出家當和尚
(D)成功將歐洲科學及工業思想傳入中國。



宋念申在《發現東亞：現代東亞如何成形？全球視野下的關鍵大歷史》中對某位傳教士的描寫如下：

「他」原本和多數傳教士一樣，把基督教比附佛教，他著僧裝，把傳教場所以寺廟命名。後來，他發現儒士對中國社會影響巨大，而佛教對於大多數儒士而言並不那麼有吸引力。於是他脫下僧袍，蓄起鬍鬚，完全把自己打扮成儒生的模樣，甚至宣稱儒家與天主教本就是一回事，儒家世界所崇尚的天，和天主教的唯一神，本質上並沒有什麼不同。

- 右表為中國某王朝的疆域擴張示意圖。根據內容判斷，該朝代應該是下列何者？
(A)唐朝 (B)元朝 (C)明朝 (D)清朝。
- 某班的同學正在討論中國的朝貢貿易體制，請問：下列敘述何者正確？
(A)在中國官方監督下進行貿易 (B)蒙古帝國起始建立朝貢貿易
(C)中國介入他國內政維持秩序 (D)日本曾同時向中國及琉球朝貢。
- 家家星期天參加了一場演講，演講內容以玄奘、張騫、利瑪竇等人的事蹟為主，請由此判斷，這次的演講主題最可能是下列哪一項？
(A)中國文學的時代精神 (B)外來宗教的中國化 (C)中西交通與文化交流
(D)科技發展與文明變遷。

年分	國家發展
1636年	朝鮮朝貢
1683年	征服臺灣
1697年	蒙古納入統治
1720年	西藏納入統治
1758年	新疆納入統治
1769年	緬甸成為屬國
1787年	暹羅成為屬國
1789年	安南成為屬國

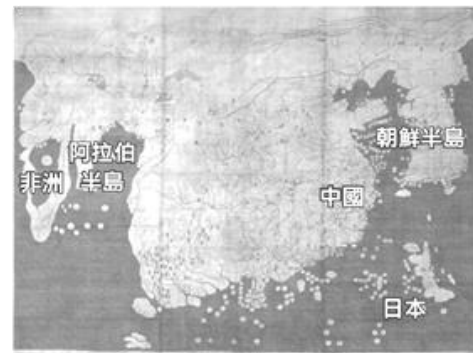
- 13、面對段考的來臨，蒙哥努力整理歷史課本製成如右圖附表，請問該表中的空格應填入哪一個名詞才正確？ (A)匈奴 (B)突厥 (C)党項 (D)女真。
- 14、居易繳交期中作業「宋元三大創新科技」的報告，請問下列何項舉例是正確的？
 (A)杭州工匠刻製木活字趕印富商的祖譜
 (B)學者使用渾天儀觀察天體運行
 (C)工人們利用麻頭、樹皮與破布等材料製作紙張
 (D)學者利用地動儀研究某日凌晨發生的地震。

朝代	北方外患族群
北宋	契丹
南宋	
明	滿州

◎請閱讀短文，並回答下列問題：

14 世紀末建國稱王的朝鮮太祖李成桂，要求大臣權近（1352-1409）依據大元帝國的地圖資料製作世界地圖，於 1402 年繪製完成，名為《混一疆理歷代國都之圖》，多被簡稱為《疆理圖》。

基督教世界的地圖上方通常是地理位置的「東方」，伊斯蘭世界的地圖上方則是「南方」，《疆理圖》的上方則是「北方」。此圖正中央是中國，領土遼闊的巨大國家。另外也畫出了中南半島、印度、錫蘭等地。至於韓國，在地圖上的面積，幾乎僅次於中國，也擁有廣大領土。其領土面積與中國領土面積相比，與實際上的巨大差距並不一致。

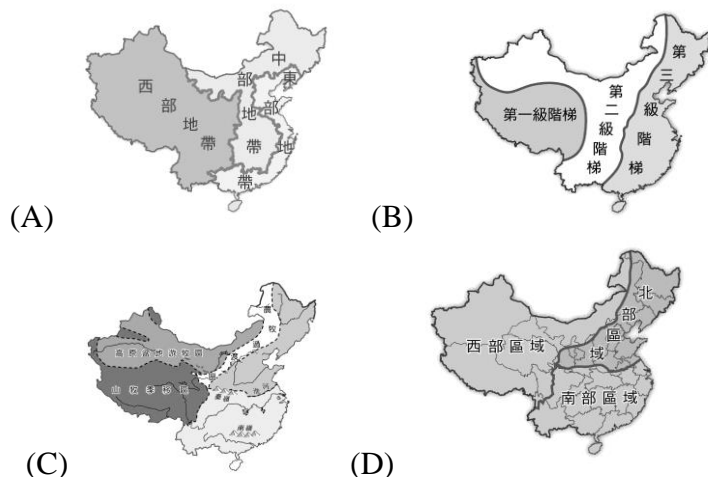
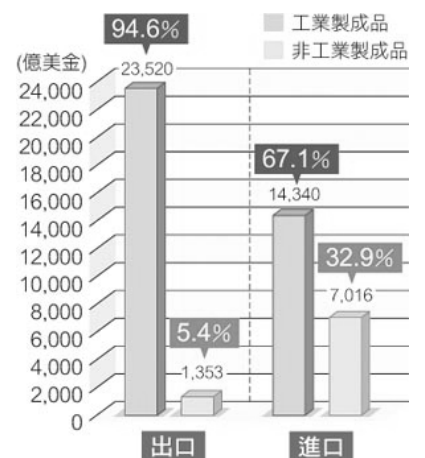


混一疆理歷代國都之圖

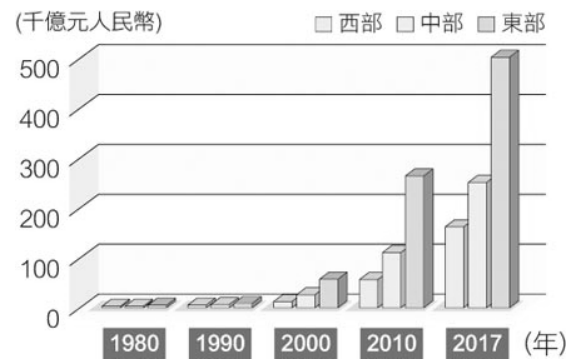
- 15、文章說「基督教世界的地圖上方通常是地理位置的『東方』，伊斯蘭世界的地圖上方則是『南方』，《疆理圖》的上方則是『北方』。」不同的地圖繪製會有不同的方位，可能是因為何種因素？ (A)貿易路線影響 (B)文化背景不同 (C)北方定位不易 (D)繪圖工匠工具差異。
- 16、以現代知識來看，圖中的某些國家及地區，畫的方位不對、面積大小不對、距離也不對。可見下列何敘述最符合當時作者的用意？ (A)朝鮮國應與中國平起平坐 (B)日本是屬於朝鮮的蕃屬國 (C)朝鮮國力佔世界重要地位 (D)非洲文明比阿拉伯國家先進。

※【地理科】第 17-33 題

- 17、北京和多個中國北方城市在今年 3 月 15 日遭遇近年來最強沙塵天氣，天空一片昏黃，城區大部分地區能見度小於 1000 米，已屬於極差的能見度，同時空氣質量更達到重度污染等級，請問這懸浮的污染物可能藉由何種媒介影響到我們台灣？(A)季風 (B)洋流 (C)颱風 (D)龍捲風
- 18、堪稱新民歷年來顏值第一的型男柏賢，今天腳上穿著某美國知名運動品牌的第 36 代最新球鞋，帥氣的他吸引著全校目光時，卻也意外發現球鞋上面寫著 **made in Vietnam**(越南)，這正意味著近年中國逐漸卸下哪種稱號的形象？
 (A)世界市場 (B)潮流中心 (C)盜版王國 (D)世界工廠
- 19、右表為中國進出口商品類別圖，由表可知中國目前經濟發展的目前由何者帶動？
 (A)農業 (B)工業 (C)金融業 (D)礦業
- 20、西部大開發一系列政策是為了促進西部地區發展而生，但下列何者並非其重點項目？
 (A)西氣東輸 (B)西電東送 (C)北水南調 (D)青藏鐵路。
- 21、不同的依據可以劃分出不同的中國地圖，若以經濟發展程度高低為基礎可能畫出下列哪張地圖？



22、右圖為三大經濟帶的國內生產毛額比較表，請問下列哪些因素為造成近年三個經濟帶間發展趨勢之主因？(甲)中、西部資源較豐 (乙)東部資金充裕 (丙)東部技術領先 (丁)中部交通最便利



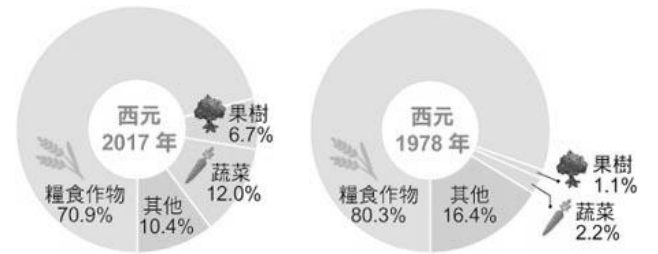
(A)甲丙 (B)甲丁 (C)乙丁 (D)乙丙

23、近代由於人類大量使用化石燃料，同時加速砍伐森林，導致溫室氣體濃度提升而增加地球暖化幅度，其中殺傷力最強莫過於二氧化碳，而請問下列哪一個國家二氧化碳的排放量高居世界第一位？

(A)美國 (B)中國 (C)新加坡 (D)印度

24、酸雨指的是所有氣狀污染物或粒狀污染物，隨著雨、雪、霧或雹等降水形態而落到地面者皆屬之，而判斷是否為酸雨的PH值劃分標準為？(A)高於3.8 (B)低於7 (C)高於10.3 (D)低於5.6

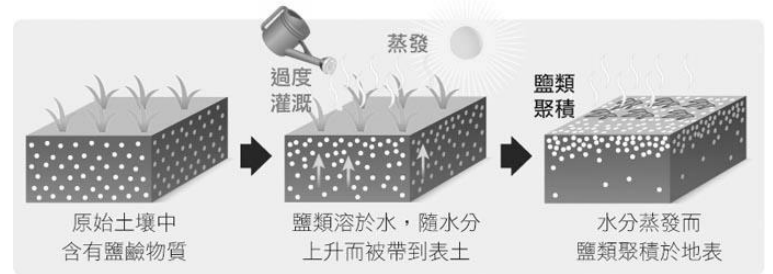
25、右圖為過去與現在中國的農作栽種比例圖，請問從圖中可以分析出現在中國的何種現象？



(A)飲食開始多樣化 (B)農業走向商業化 (C)農業收入大幅提升 (D)人口數量銳減

26、中國設立經濟特區和開放沿海城市，主要是為引進下列哪些國外資源？

(A)資金和技術 (B)勞工和市場 (C)運輸和通訊 (D)原料和動力。

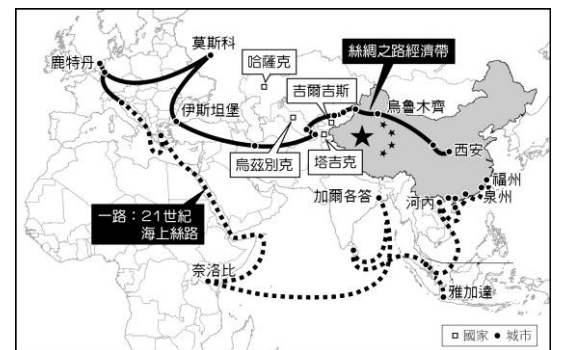


27、請問右圖所描述的環境問題，較容易在中國的哪一個地區裡發生？(A)東北平原 (B)閩浙丘陵 (C)新疆沙漠 (D)四川盆地

28、山寨仿冒案件之所以在中國層出不窮，可歸因於現今中國具有哪項工業發展的優越區位條件？

(A)豐富的原料 (B)廣大的市場 (C)低廉的動力 (D)便利的運輸

29、右圖為中國的某項政策的建構藍圖，中國希望透過此一政策，使沿線上的國家加強基礎建設及開發，也藉此讓中國與周邊國家在經濟、貿易的合作關係上更加密切，此項政策名為？



(A)西部大開發 (B)開放經濟特區 (C)一帶一路 (D)亞洲基礎建設投資銀行

30、2012 年到 2020 年，中國工業增加值由 20.9 萬億元增長到 31.3 萬億元，其中製造業增加值由 16.98 萬億元增長到 26.6 萬億元，佔全球比重由 22.5% 提高到近 30%，而下列選項何者與中國製造業大幅成長有高度相關？

(A)美國就業率升高 (B)南韓空汙日數減少 (C)中國原物料需求大增 (D)東南亞森林輸出減少

◎請閱讀短文，並回答下列問題：

2005 年中國規畫了鮮活農產品運輸綠色通道路網，並於隔年 1 月 15 日全部開通。該路網主要由「五縱二橫」七條線路組成，如右圖所示。路網貫穿了中國 31 個省、自治區和直轄市，並直通 29 個省會都市（省政府所在地）。後來國政府鑒於此通道頗具成效，公告 2010 年 12 月 1 日起，全國所有收費公路（含收費的獨立橋樑、隧道）全部納入鮮活農產品運輸綠色通道路網的範圍，對整車合法裝載運輸鮮活農產品車輛免收車輛通行費。請問：



31、為何中國政府要設立鮮活農產品運輸綠色通道？

(A)縮減農地生產規模 (B)強化東部經濟帶發展 (C)分攤交通建設建築成本 (D)提高農產流通效率

32、當全中國所有收費公路都納入鮮活農產品運輸綠色通道路網的範圍，這有助於鄉村地區的農業經營會有怎樣的轉變？(A)農作物專業化生產 (B)改善農村勞力老化 (C)農場經營朝觀光化 (D)農業型態朝自給性

33、承上題，過去臺灣在下列哪項交通路線完工後，西半部的農村也有達到類似的地理現象？

(A)高速鐵路 (B)南北向高速公路 (C)臺鐵縱貫線 (D)東西向高速公路

※【公民科】第 34-50 題，每題 2 分。

34、新民國中所屬的地方自治的行政機關與立法機關依序配對，下列何者正確？(A)台北市政府—台北市議會 (B)台北市議會—台北市政府 (C)北投區公所—北投區民代表會 (D)林泉里辦公室—林泉里民代表大會。

35、下列哪一個「市」是與其它「市」不在同一個層級？(A)台北市 (B)桃園市 (C)新竹市 (D)高雄市。

36、下列哪些事項屬於地方政府的工作？(A)舉辦公務人員考試，培訓人才 (B)修改《所得稅法》，減輕民眾的賦稅負擔 (C)台北北投溫泉祭，鼓勵民眾參與 (D)設立地方法院，解決人民糾紛。

37、關於我國預算、決算的審查過程，依序①、②、③各為何單位負責？



- (A)行政院，立法院，監察院審計部 (B)立法院，司法院，考試院
(C)監察院審計部，立法院，司法院 (D)行政院，考試院，司法院。

38、下列行政相關事宜可區分為「干預行政」與「給付行政」，下列屬於「給付行政」有幾項？(甲)警察酒測臨檢(乙)國民享有健保(丙)違法加蓋被拆除(丁)施打新冠肺炎疫苗(戊)發放低收入戶補助(己)到臺北市立圖書館北投分館借閱書。(A)5項(B)4項(C)3項(D)2項。

39、一位釣客因天黑視線不良誤入商港範圍內釣魚，但他的行為已違反相關法規，將可能被處以罰鍰，警方提醒民眾千萬不要因疏忽而觸法。上述釣客若被開罰而不服，依法他應先採下列何種方式進行權利救濟？【105 會考】
(A)向警察機關提出請願 (B)向高等法院提出上訴 (C)向訴願管轄機關提出訴願 (D)向高等行政法院提起訴訟。

◎題組題：

題組一

40、宜禎為了找尋「我國中央政府組織」的相關資料，便上網搜尋資訊，如右圖所示。請問：此網站可能為哪一個中央政府單位的網站？



- (A)行政院 (B)司法院 (C)考試院 (D)監察院。

41、下列哪些屬於我國「大法官」的職權？(甲)審理刑事與民事訴訟(乙)審理政黨違憲解散案(丙)審理正副總統彈劾案(丁)統一解釋法律、命令
(A)甲乙 (B)丙丁 (C)甲乙丙 (D)乙丙丁。

題組二

42、依據我國憲法，下列何者屬於我國總統的職權？(A)制定法律 (B)修改憲法 (C)三軍統帥 (D)質詢官員。

43、下列四份報紙的頭版標題，何者屬於「總統」的職權？

(A) (B) (C) (D)

題組三

44、行政機關執行與人民相關事務的措施或行為，稱為「行政行為」。下列何者屬於？(A)在公園散步 (B)到超商買東西 (C)用 LINE 與同學聯絡 (D)繳納路邊停車費。

45、政府的行政行為應該受到法律的約束，避免政府過度權力擴張，使得人民的權利受到侵害。這是行政法上的何種原則？(A)依法行政原則 (B)保護原則 (C)比例原則 (D)公益原則。【習作】

題組四

46、我國中央政府基於五權分立、相互制衡的理念而運作，某些職務雖具有其法定職權，但行使職權時經常需要取得其他機關的同意才能完成，例如緊急命令的發布就包含了許多法定程序。下列何者與上述事例的運作流程無關？

- (A)總統 (B)行政院 (C)立法院 (D)司法院。【110 會考】

47、承上題，從緊急命令的法定程序可以看出我國政府機關間的權力互動關係，上述內容主要隱含下列何項概念？

- (A)分權制衡 (B)均權制度 (C)主權在民 (D)地方自治。

題組五

先開單再說？撤銷紅單申訴率低 民怨「舉證」超麻煩 2021/2/4 三立新聞網

被開紅單大家的心情一定很差，但根據統計高雄市一年開出 271 萬張紅燈，其中來申訴的只有 4 萬多起，比例不到百分之 1.5，其中申訴成功的案件也只有 8000 多件！為何申訴率低，其實最麻煩的就是要自行舉證無違規，要是沒裝行車紀錄器還得透過裁決中心檢視員警密錄器，等到結果出爐通常都過了 1 至 2 個月，耗日費時！



▲申訴流程複雜且曠日費時，不少民眾認栽了事。

48、根據內文，下列敘述何者錯誤？(A)申訴是人民對於處分不服而提出 (B)申訴結果是司法機關作出的判決 (C)罰單是干涉人民權利的行政行為 (D)行政訴訟是人民保護自己權益的方式之一。

49、警察開單屬於行政行為的一種，其性質與下列哪種情境最接近？(A)到戶政事務所申辦身份證 (B)災後發放急難救助金 (C)犯罪依法判處徒刑 (D)要求春節返國民眾居家隔离。

50、從文中可知，為什麼政府要提供人民行政救濟的管道？

- (A)限制人民所應享有的權利 (B)方便政府依據喜好統治人民
(C)避免政府濫權影響人民權益 (D)讓政府方便擴張自己的權力。

試題完成，記得再檢查一遍答案卡與試卷，並務必將自己的答案抄寫於題目卷上，以利試後檢討。