

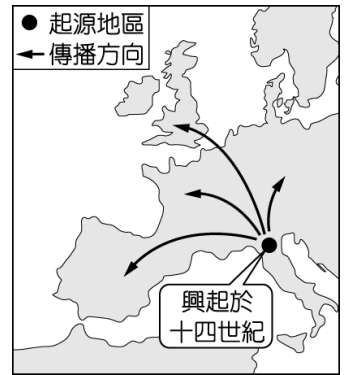
# 臺北市立新民國中 110 學年度 第一學期 九年級社會領域 第二次段考試卷

九年 班 座號： 姓名：

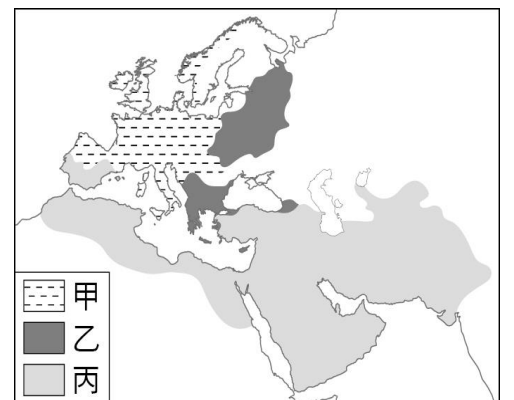
## 一、單選題 (共有 50 題，每題 2 分。)

### ※【歷史科】第 1~17 題。

1、右圖是歐洲史上某一史事的起源與傳播發展方向示意圖，下列何者最足以呈現該史事的內涵？




- (A) 實施男性公民參政  
(B) 研究古典文獻，強調人文主義  
(C) 將基督教設為國教，生活以宗教為中心  
(D) 使用拉丁文，頒布成文法。
- 2、仁和配合歷史教學活動，讀了一本世界名著，書中內容有：「阿拉伯國王、波斯公主、勇敢的蘇丹王子、狡猾的強盜、邪惡的魔術師，以及巴格達富麗堂皇的宮殿等。」請問：他是配合哪一主題的教學活動？  
(A) 伊斯蘭教世界的發展 (B) 希臘與希臘化時代 (C) 東羅馬帝國與拜占庭文化 (D) 印度文化的興盛。
- 3、歷史課時老師請同學發表有關文藝復興運動的內涵，下列哪位同學的敘述有誤？  
(A) 稱晴：方言文學興起 (B) 科瑾：藝術家採用透視、明暗對比等創作手法  
(C) 治宏：肯定人性的價值與尊嚴 (D) 承洋：強調以神為中心的精神。
- 4、基督教創立後，由於對教義見解及政教權威產生紛歧，曾經歷過兩次分裂。下列有關基督教兩次分裂的敘述，何者正確？  
(A) 第一次的分裂發生在十六世紀 (B) 基督教比天主教更強調教會與教宗的地位  
(C) 十一世紀時東歐的羅馬公教與西歐的希臘正教分庭抗禮 (D) 第二次的分裂造成舊教、新教兩大系統。
- 5、16世紀初，張貼「九十五條論綱」，批評教會腐敗，揭開宗教改革序幕的是何人？  
(A) 亨利八世 (B) 喀爾文 (C) 馬丁路德 (D) 羅耀拉。
- 6、穆罕默德死後十到二十年間，他所獲得的啟示(稱為天啟)被收錄在一本經典中。經典由 114 章所組成，內容詞句簡潔，時常取用與現實問題相關的故事，因此傳道時容易讓一般人理解。請問：上述提到的經典是下列何者？  
(A) 《舊約聖經》 (B) 《古蘭經》 (C) 《新約聖經》 (D) 《吠陀經》。
- 7、佛教與基督教都是當今世界的重要宗教，兩者就其形成的背景而言，有何共同特徵？  
(A) 都對當地舊有宗教的教義提出改革 (B) 都是為了對抗政府的高壓統治  
(C) 都相信天堂和永生 (D) 都根源於一神論的思想。
- 8、古代印度設有種姓制度，將人民分為四個階級，在中國的元朝也有種族階級政策，各層的身分、地位各有不同，彼此有高低之分。下列關於這兩者的比較，何者正確？  
(A) 兩種制度皆源自於宗教教義 (B) 兩者皆因朝代的滅亡而在該地迅速消失  
(C) 兩者最低階級都是奴隸 (D) 兩者都是以外來者身分為便於統治而創。
- 9、西元四世紀，面對帝國國勢漸衰，這位皇帝為加強對東方各省的控制，選定於拜占庭另立新都並頒訂法令，賦予基督教合法的地位。這位皇帝應為何者？  
(A) 凱撒 (B) 屋大維 (C) 君士坦丁 (D) 狄奧多西。
- 10、□□因不滿舊有的階級觀念，希望可以改善人們的生活，提出眾生平等的主張，吸引民眾追隨。請問□□應填入何者？  
(A) 玄奘 (B) 阿育王 (C) 漢摩拉比 (D) 釋迦牟尼。
- 11、基督教創立發展的歷史約二千年，對歐洲及世界各地均造成不小的影響。下列有關基督教發展的敘述，何者正確？  
(A) 羅馬帝國初期對宗教採取放任政策，因此基督教不曾遭遇迫害  
(B) 基督教教會與人民的生活關係密切，中古西歐形同基督教世界  
(C) 十六世紀初，基督教發生第一次大分裂，出現了路德、喀爾文、耶穌會等新教支派  
(D) 明清之際，耶穌會教士將西方文化傳入中國，促進中西文化交流，一直持續到清末。
- 12、右圖是 11 世紀後期三個宗教的分布示意圖，圖中甲、乙、丙應分別為下列何者？  
(A) 甲：希臘正教；乙：伊斯蘭教；丙：羅馬公教  
(B) 甲：希臘正教；乙：羅馬公教；丙：伊斯蘭教  
(C) 甲：羅馬公教；乙：希臘正教；丙：伊斯蘭教  
(D) 甲：羅馬公教；乙：伊斯蘭教；丙：希臘正教。



- 14、小瑜申請到了西班牙南部的格瑞納達大學展開為期一年的交換學生計畫，出發前小瑜對西班牙的印象是個天主教國家，但在她所求學的城市中著名的建築卻是屬於伊斯蘭的建築樣式。請問：是什麼歷史事實造就了格瑞納達有如此特別的風格？
- (A)阿拉伯人曾經占領過西班牙，且統治過西班牙數百年  
 (B)格瑞納德是歐洲最靠近北非的城市之一，北非的阿拉伯商人將此城作為其對歐洲的貿易據點  
 (C)鄂圖曼土耳其人為了掌控地中海往大西洋的海運通道，曾經占有過西班牙南部  
 (D)鄂圖曼土耳其人為了征服拜占庭帝國先行奪取西班牙以開闢西部戰線。

◎題組題：

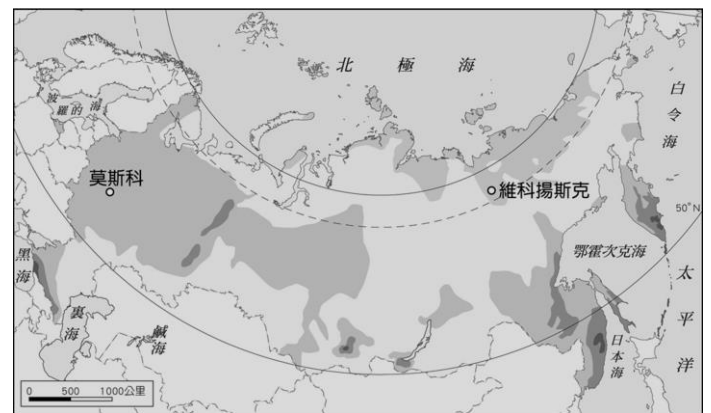
宗教改革後，五名立場不同的神職人員恰好住在同一旅社。晚餐後，他們決定為自己信仰的教派進行辯論，請針對圖中的發言回答下列問題：



- 15、A 主張信徒可以用金錢免於罪罰。請問：他所販售者為何，使他得以獲取利潤？  
 (A)加油券 (B)振興五倍券 (C)《聖經》 (D)贖罪券。
- 16、A、B 的發言，讓 C 認為金錢會讓信徒墮落，但是 D 卻反駁他。請問：D 信仰的教派為何？  
 (A)路德教派 (B)喀爾文教派 (C)英格蘭國教派 (D)耶穌會。
- 17、E 與 A 具有相同的信仰，但 E 經歷 B 的挑戰後，要求教士以嚴格自律的生活重建人們的信心，請問：E 隸屬何種組織？  
 (A)路德教派 (B)喀爾文教派 (C)英格蘭國教派 (D)耶穌會。

※【地理科】第 18-33 題

- 18、歐洲許多國家致力於再生能源發電，德國與荷蘭便是一例，而用來風力發電的裝置應該面向何方才能獲取最大的動能？(A)東側 (B)南側 (C)北側 (D)西側
- 19、人稱新民高富帥的宥任，長相像彭于晏而口袋像郭台銘，由於他相信某國的工業水準舉世無雙，而給家裡人買的車都是該國產品，於是他給煮飯阿婆買的代步車是 BENZ、打掃阿桑買的是 BMW、門口警衛是奧迪、庭院園丁是保時捷，請問他是對哪一個國家的工業技術水準深信不疑？(A)德國 (B)法國 (C)義大利 (D)英國
- 20、右圖為俄羅斯雨量分布圖，請分析影響該分布狀態的主因為何？  
 (A)距海遠近 (B)盛行風向 (C)緯度高低 (D)地勢高低
- 21、關於歐盟各國的邊境取消管制一事，請問是下列哪一項公約所簽署的內容？  
 (A)京都公約 (B)申根公約 (C)哥本哈根公約 (D)莫斯科公約。
- 22、在英國擁有著多家製造工廠的治宏，企業規模與產品製造量擴大之下，可能需要哪家廠商的鼎力協助？  
 (A)王盛鐵工廠 (B)君義服裝設計  
 (C)承洋貨運行 (D)貴祥人壽保險

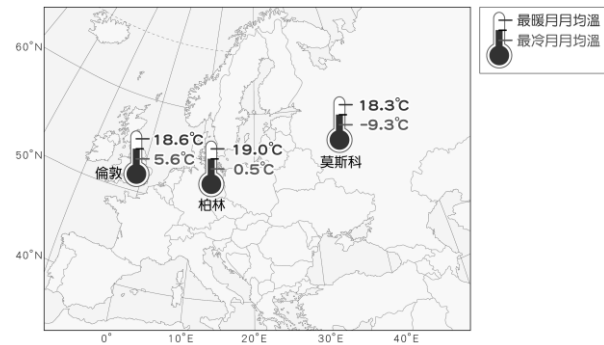


- 23、歐洲三面環海，南歐及北歐兩個分區多半島，因為海洋與陸地交錯分布，使海灣得以深入內陸地區，而有利於航運與貿易的發展。請問：下列哪一個半島所在的分區，與其它三者不同？  
 (A)伊比利半島 (B)義大利半島 (C)巴爾幹半島 (D)斯堪地那維亞半島
- 24、賣座電影北海小英雄的主角小威，為了找到解除魔咒的方法救回自己的母親，努力成為一名維京戰士，並登上父親的維京船，一同前往受冰河侵蝕而形成的洛基峽灣探險。上述片中的場景，最可能是以右圖何地的海岸為背景？  
 (A)甲 (B)乙 (C)丙 (D)丁
- 25、歐盟是由歐洲國家經過一系列的談判與合作，逐步組成的區域性經濟組織。請問：歐洲國家組成歐盟的原因，下列敘述何者正確？  
 (A)限制歐洲以外國家貨物進口 (B)提高各國的關稅以穩定稅收  
 (C)開放邊境加強軍事交流 (D)促進歐洲的和平與穩定



26、右圖顯示歐洲同一水平位置上的三個城市之最高與最低月均溫，請問其呈現出的溫度差異可歸咎於？

- (A)盛行風向 (B)緯度高低 (C)洋流性質 (D)地勢高低

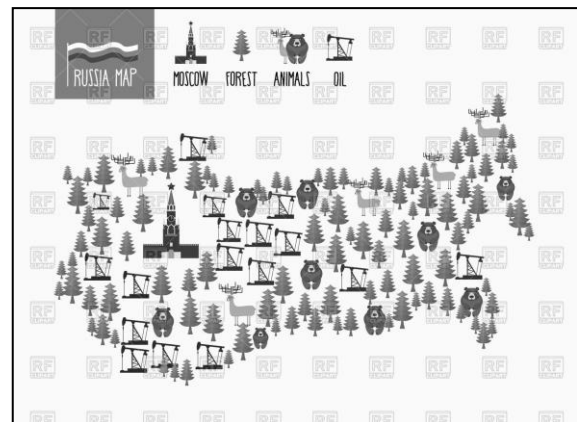


27、觀光業已經成為歐洲各國經濟的重要支柱，每年帶來數千億美金的收入。下列四個景點中，何者其所在地配地是正確？

- (A)西班牙的龐貝城 (B)西班牙的聖家堂  
(C)德國的羅浮宮 (D)希臘的蔚藍海岸

28、右圖為俄羅斯的極簡地圖，簡略但仍可直接從圖中判斷出該國具備有下列哪一項特色？

- (A)自然資源相當豐富 (B)為世界八大業強國之一  
(C)大部分是熱帶氣候類型 (D)境內以斯拉夫族為主。



29、書瀚到歐洲某個號稱時尚之都的城市旅遊，他噴上當地名牌香奈兒的古龍水，坐在香榭大道旁的咖啡雅座裡，一手端著拿鐵咖啡，另一手把玩著剛買的艾菲爾鐵塔鑰匙圈，等著夢中情人出現。請問上文所描述的是哪個城市？

- (A)布魯塞爾 (B)倫敦 (C)維也納 (D)巴黎

30、總部位於法國的空中巴士公司(Airbus S.A.S.)，是歐洲最大的民航飛機製造公司，由數個國家共同出資成立，並跨國合作研發與設計，再由法國負責生產飛機控制系統、英國製造引擎、德國生產機體，而西班牙負責尾翼製造等。請問：歐洲國家共同製造飛機的主要原因為何？

- (A)各國市場狹小，工廠規模不大 (B)技術人才難得，生產效率不彰  
(C)整合各國優勢，建立歐洲品牌 (D)資金籌措不易，公司營運困難

◎請閱讀短文，並回答第 31~33 題：

九千兩百公里是什麼概念？相當於四分之一地球圓周，也是西伯利亞鐵路全長。乘著這條穿越歐亞的橫貫線，沿北極圈外環，從海參崴直抵國家核心——莫斯科，全程耗時約八天、途經八個時區。從西邊的波羅的海開始，眼看歐洲哥德式建築，接著逐漸轉變成混和式巴洛克皇宮，再轉變成標誌性的圓頂教堂，再往東一點，穿越一望無際的森林與山坡，眼前盡是西伯利亞木造小屋。到了亞洲交界的戈壁沙漠，窗外僅是荒涼黃土，再隔一天，黃土已經變成蔥蔥草原，點綴著潔白的蒙古游牧帳篷。續往東行，接著看見了城鎮，看見了人類現代文明造物，成排的高樓大廈、堆疊的高架橋梁、魚貫的汽機車輛——原來已經抵達海參崴。

這條風景線帶著時間的向度，濃縮了宏觀歷史的摺線，這樣的旅程，彷彿就是一趟穿越時空的列車，串聯起古往今來的歷史片段，也點亮東西方文明交會的光亮。

改寫自 2021/05/11 工商時報／西伯利亞大鐵路

31、根據文章，俄羅斯的信仰以圓頂式的宗教建築聞名於世，請問俄羅斯的主要信仰宗教是？

- (A)東正教 (B)伊斯蘭教 (C)天主教 (D)印度教

32、根據文章，旅程途中見到的無邊際森林，是屬於何種類型的樹木？

- (A)闊葉林 (B)闊針葉混林 (C)針葉林 (D)雨林

33、請問文章中的西伯利亞鐵路，是屬於 BRICS(金磚五國)裡的哪一個國家？

- (A)B (B)R (C)I (D)C

※【公民科】第 34-50 題

◎華樂工作多年後，決定自己開一家炒麵店，以下 34-38 題有關麵店經營問題試回答：

34、右圖中的華樂和雨晴兩人在討論哪一項生產課題？

- (A)生產什麼 (B)如何生產 (C)為誰生產 (D)為何生產。

35、華樂決定在開幕當天祭出買「第二碗 5 折」的促銷方案，請問此類促銷方案是利用何種策略賺取利潤？ (A)降低生產成本 (B)增加銷貨收入 (C)提高產品價格 (D)提升服務品質。

36、華樂的炒泡麵店開始營業後，生意不錯，若想要讓獲利再增加，與其它廠商競爭方式，下列何者屬於「非價格競爭」？

- (A)上網打卡分享可獲得 98 折優惠 (B)每星期三推出買一送一方案  
(C)加入會員享炒泡麵 9 折優惠 (D)電話訂餐可享外送免費服務。

37、華樂在麵店裡身兼多職，要服務客人、收銀，偶爾也要當廚師的小幫手，這是運用何種策略經營麵店？

- (A)降低生產成本 (B)增加銷貨收入 (C)提高產品價格 (D)提升服務品質。

我要開一家金門炒泡麵店，在想店面要開在學校旁？或是上班族聚集較多的地方？

我覺得開在學校附近較好，比較多學生會來吃。



38、右表是華樂經營麵店 11 月份的收支一覽表，金門炒泡麵每份 100 元。根據右表判斷，華樂在 11 月份的利潤為多少？(A)12 萬元 (B)6 萬元 (C)4 萬元 (D)3 萬元。

炒泡麵共賣出 1200 份  
 雇用一名廚師 6 萬元  
 承租店面費用 2 萬元  
 水電支出費用 1 萬

39、交子(如右圖)，是中國北宋時四川流行的票據和紙幣，是世上最早「正式」發行的紙幣，當時人們可以用此來買賣商品。請問：由上述「可以用來買賣商品」可知「交子」具下列何種貨幣功能？  
 (A)交易媒介 (B)價值衡量 (C)清償債務 (D)價值儲存。



40、洪奶奶有次講起她年輕時候生活環境變化很快，並列出下表來說明當年生活的變化情形。從右表顯示出當時的國力與經濟情況如何？

年代	1936	1938	1940	1942
100 元可交易產品	2 頭牛	1 頭豬	10 顆雞蛋	5 顆糖

(A)國家強盛，貨幣的價值升高 (B)通貨膨脹，貨幣的購買力變低  
 (C)經濟發達，貨幣需求量大增 (D)貧富懸殊，人民購買力兩極。

41、右列是阿韓說明網路購物的部分內容，根據內容判斷，此種交易方式最可能降低商家的哪一種生產成本？(A)加工製造 (B)交通運輸 (C)店面裝潢 (D)設計研發。【110 會補】

商家能夠在網際網路上架設銷售商品的「虛擬商店」，僅由文字、圖像、影片等訊息介紹商品，顧客不需出門就可滿足消費需求。

42、去年 11 月我國新台幣兌美元約為 28.59：1，而今年目前新台幣兌美元約為 27.8：1，針對以上匯率的變動，下列敘述何者正確？

(A)顯示去年到今年匯率變動的方向為美金升值，新臺幣貶值 (B)今年在臺灣販售的美國商品，可能因匯率變動而調漲售價 (C)只考慮匯率變動因素，今年應有較多的美國學生來臺遊學 (D)若只考慮匯率變動因素，我國商品今年比去年不利出口到美國。

43、有關右圖的敘述何者正確？(A)具有價值儲存的功能 (B)是一種延遲支付的工具  
 (C)不能作為交易的媒介 (D)具有債務清償的功能。



44、承上題，同學們對於「儲值卡」(如悠遊卡)與「信用卡」之間的討論，何者正確？

(A)家儀：「儲值卡和信用是交易媒介，但皆不是法定貨幣。」 (B)楷崑：「儲值卡是由私人銀行發行；信用卡由政府單位發行 (C)惠茹：「儲值卡有延遲支付功能；信用卡則是具有價值儲存功能。」 (D)靜妤：「信用卡可先消費後付款，欠款不會有高額利息需付。」

45、儲值卡、信用卡、手機上的電子支付系統(Line pay、街口支付、Apple pay 等)這些台灣常見的多元支付方式的出現，最主要是由於下列哪一種共同特性而受民眾喜歡？

(A)以物易物的方式 (B)攜帶現金交易的不便 (C)容易被細分 (D)不易變質。

46、右表是甲、乙兩國匯率變動的情形，以吸引乙國遊客為主的甲國觀光業者，看到此變化後感到很憂心。根據表中內容判斷，若甲國的物價水準維持不變，下列何者最可能是上述業者的憂慮？(A)甲國觀光業者經營成本提高 (B)乙國人的平均薪資所得減少 (C)甲國觀光業者數量大幅增加 (D)乙國人到甲國旅遊意願下降。

時間	1 甲幣可兌換的乙幣
去年	10
今年	20

【109 會考】

◎台灣每年手搖杯飲料市場商機龐大，試回答第 47 題-50 題問題：

47、右圖是 Google 地圖上搜尋北投市場附近的飲料店分布圖。從圖中可判斷北投的飲料店市場最有可能呈現下列哪些現象？



(甲)無其它廠商參與，消費者沒有其它選擇 (乙)飲料店會採取各種行銷策略來吸引消費者  
 (丙)消費者可能會買到比其它地區更貴的商品 (丁)廠商數量多，競爭程度高  
 (A)甲乙 (B)丙丁 (C)乙丁 (D)乙丙。

48、台灣街道常看到手搖飲店一條街現象，競爭相當激烈，下列何者為廠商間的良性競爭？

(A)散布不實消息抹黑同業 (B)藉由超級低的價格吸引消費者  
 (C)引進便宜劣質糖漿降低成本 (D)推出創新的飲品吸引顧客。

49、北投市場附近有一家手搖杯店家，在店面上掛著如右圖的布條，請問此店家的競爭方式，與下列何者類型相同？(A)推出買二送一的活動 (B)提供快速點餐的服務 (C)平日中午第二杯半價 (D)晚間七點後買一送一。



50、請問若消費者在購買飲料時，發現有問題，下列何者所採取的方式較適切？

(A)在網路社群上宣傳店家有問題 (B)自認倒楣並不再到該店消費  
 (C)向消費者保護官提出消費申訴 (D)到公平交易委員會提出請願。

試題完成，記得再檢查一遍答案卡與試卷，並務必將自己的答案抄寫於題目卷上，以利試後檢討。