

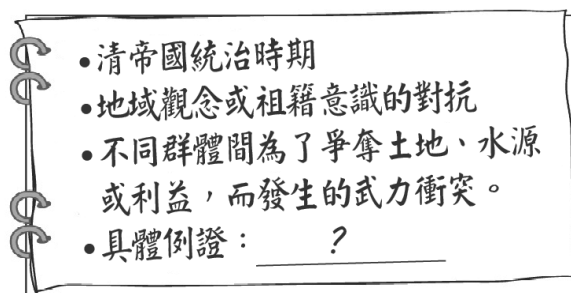
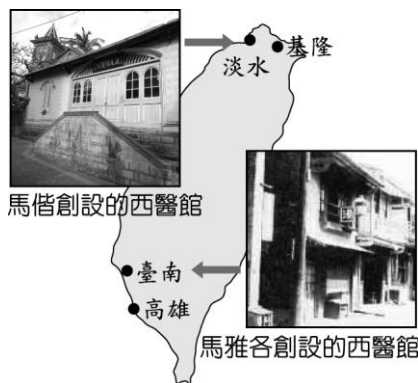
臺北市立新民國中 110 學年度 第一學期 七年級社會領域 第三次段考試卷

七年 班 座號： 姓名：

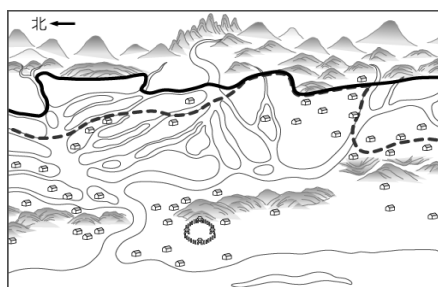
一、單選題(共有 50 題，請掌握好答題時間。)

※【歷史科】第 1-17 題

- 於續是清代剛剛移居到臺灣的漢人。請問於續需要和政府申請何種執照才可從事土地開墾？
(A)戰士授田證 (B)土地買賣契約 (C)墾照 (D)居留證。
- 台灣三大貿易港口有「一府二鹿三艋舺」之稱，下列何處是這諺語所描述的港口所在地？
(A) 八里坌 (B) 安平 (C) 淡水 (D) 基隆
- 臺灣在十九世紀中期開港通商後，因某樣產物為無煙火藥、製藥、工業的原料，多出口到歐美各地，產量曾居世界第一。請問是以下何種產物？ (A)蔗糖 (B)茶葉 (C)稻米 (D)樟腦。
- 正一在研究臺灣的宗族組織，下列敘述何者正確？(A)唐山祖是祭祀第一位來臺開墾的祖先 (B)開臺祖和唐山祖的祭祀都屬於重男輕女的社會習俗 (C)開臺祖和祭祀者不一定有血緣關係 (D)唐山祖和祭祀者一定有血緣關係。
- 下左圖是家玲在臺灣史報告時所使用的圖片，依圖片內容判斷，報告的主題最可能是下列何者？〔100.北北基〕
(A)荷西統治與南北開發 (B)臺灣設省與劉銘傳的建設 (C)開港後的傳教活動與醫療服務 (D)日本統治時期官方醫療體制的建立



- 上右圖描述臺灣史上某一時期的社會現象，圖中的「具體例證」，最適合填入下列何者？〔106.會考〕
(A)地主與官府的對抗 (B)郊商與洋商的對抗 (C)士紳與傳教士的衝突 (D)漳州人與泉州人的衝突。
- 臺中市大甲區的「鎮瀾宮」以供奉媽祖為主，每年媽祖遶境出巡時，都會聚集大批信徒跟隨。請問：除了媽祖之外，臺灣還有哪些神祇是不分祖籍的共同信仰？
(A)土地公、王爺 (B)開漳聖王、三山國王 (C)清水祖師、三山國王 (D)土地公、清水祖師。
- 《渡臺悲歌》中寫到：「勸君切莫過臺灣，臺灣恰似鬼門關，千個人去無人轉，知生知死都是難。就是窖場（墳場）也敢去，臺灣所在滅人山（必死無疑）」上文描述中國漢人渡海來臺的艱辛。請問：中國來臺移民以下列哪兩個省分最多？
(A)福建、廣東 (B)廣東、廣西 (C)江西、浙江 (D)湖南、湖北。
- 噶瑪蘭族耆老的口述歷史寫到，小時候不是居住在現在的部落所在地，而是在一個三面環山，四處都有湧泉的地方，族裡決定避開日益增多的漢人才決定往南遷徙至新地點。請問：上文中的耆老小時候最可能居住的地方為何？
(A)埔里 (B)臺北 (C)花蓮 (D)宜蘭。
- 小月翻看古地圖（下左圖）時，發現地圖上有兩種不一樣的界線，姐姐跟她解釋，兩種線代表的意義一樣，但實線是後來界線改變後新畫的。請問：兩種線界線的改變，代表下列何種情況發生？ (A)番界逐漸向內山地區移動 (B)茶葉種植從平地向內山地區移動 (C)平埔族獵場逐漸擴大 (D)高山原住民生存空間變大。



- 上右圖描繪的是清代臺灣原住民協助官員渡溪的情景，協助渡溪推筏為政府指派給原住民的勞役項目之一，除此之外，原住民還要負責開路、運糧等事務。有某社的原住民最後不堪負荷，憤而聯合中部地區的平埔族群各社反抗。請問：上述是為下列哪一件事件？ (A)麻豆社之役 (B)郭懷一事件 (C)大肚王反叛事件 (D)大甲西社事件。
- 漢原關係一直是統治臺灣的政權所面臨的難題，下列為各政權對此所採行的措施，請按照時間先後順序排列？
甲：大批漢人來臺後，透過買賣、欺騙等手段取得原住民土地，使平埔族群的生存空間大幅縮減。
乙：歸順的部落長老、頭目參與地方會議，以協助政令推行。
丙：為解決糧食不足而實施軍屯，不斷開墾而使原漢關係緊張。
(A)乙甲丙 (B)乙丙甲 (C)丙乙甲 (D)甲乙丙

13. 阿秀周末時和家人出遊，發現在某個菜市場裡的小廟「水仙宮」，竟然曾是清帝國時期當地糖郊的總部。一旁的神農老街、接官亭等史蹟，都見證了這座城市是臺灣在清帝國初期唯一合法港口所在。請問：阿秀出遊的地點位於下列哪一縣市？ (A)屏東縣 (B)高雄市 (C)臺南市 (D)彰化縣
14. 清帝國時期臺灣有一條重要水圳，是由來臺的漢人與原住民合作興建，採取割地換水的模式，為求雙方合作順利，這名漢人甚至娶了平埔族頭目女兒為妻。這條水圳完工後，成為清帝國以來該地區農業生產命脈。請問建造水圳的漢人為何人？ (A)郭錫瑠 (B)張達京 (C)施世榜 (D)曹謹
15. 臺灣開港通商後，下列哪一組商品是主要的進口商品？
(A)鴉片、紡織品 (B)藥材、茶葉 (C)樟腦、紡織品 (D)軍火、鹿皮

請根據這篇論述清代經濟發展的文章，回答下列問題：

此地製茶工坊林立，茶葉產期時，茶行必須僱用許多女工，多則五、六十人，少則二、三十人，甚至有漳、泉婦女來此短期工作，每日工資四、五錢不等。

16. 上文描述的地方，最有可能位於臺灣何處？ (A)安平 (B)打狗 (C)大稻埕 (D)鹿港
17. 上文主要是在敘述茶葉在臺灣發展的情形。下列何者不是茶葉盛產之後，對臺灣造成的影響？
(A)帶動臺灣中、北部城鎮的興起 (B)貿易對象不再局限於中國一地 (C)經濟、政治重心逐漸轉移到北部
(D)對外貿易發展良好，1878年以後臺灣一直維持入超狀態

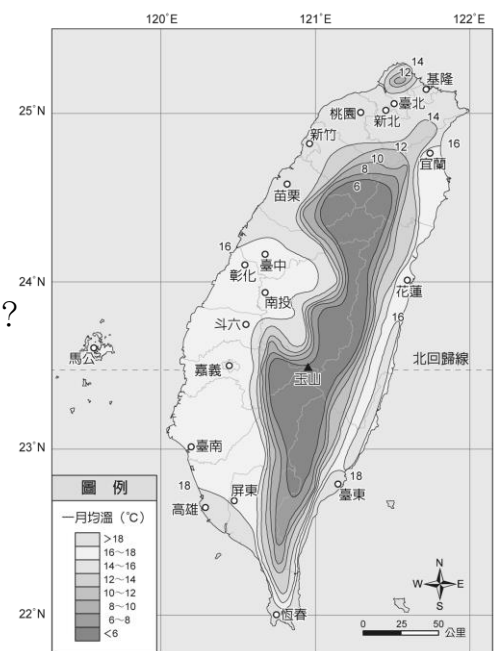
※【地理科】第 18-34 題

18. 臺灣夏季時，住在南投的宏珉感覺到些微的涼意，而住在台南的湘瑩卻酷熱難耐到海邊戲水，這種差異的產生，可能與下列哪項因素關係最密切？
(A)地形 (B)緯度 (C)季風 (D)距海遠近。

19. 全球淡水的分布中，以下列何項所占的比例最高？
(A)地下水 (B)大氣中的水 (C)冰雪 (D)海洋。

20. 關於臺灣的降雨特徵，下列何者正確？ (A)夏季雨量多於冬季
(B)離島雨量多於本島 (C)南部雨量多於北部 (D)平地雨量多於山地。

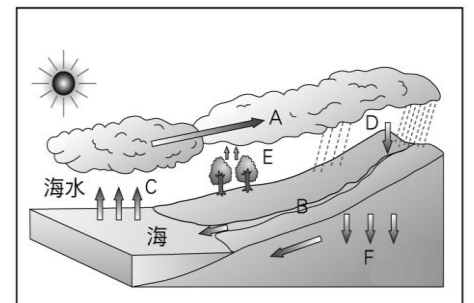
21. 右圖是臺灣一月均溫的等溫線圖，請根據此圖判斷出臺灣冬季氣溫變化的何種特徵？
(A)山區溫暖成為避寒勝地 (B)為一年中南北溫差較大之時
(C)全台普遍高溫 (D)南部溫度遠低於北部。




22. 臺灣南部河川被稱為荒溪型河川與下列哪一項環境特徵有極大的相關？
(A)阿里山山脈 (B)山群縱貫南北 (C)丘陵所佔比例偏高 (D)風向的季節轉換。

23. 臺灣主要河川的分水嶺是下列哪座山脈？
(A)阿里山山脈 (B)中央山脈 (C)玉山山脈 (D)雪山山脈。

24. 右圖是水循環模式圖，請問圖中何項過程代號是在指所謂「降水」的形成？
(A)A (B)D (C)C (D)F。

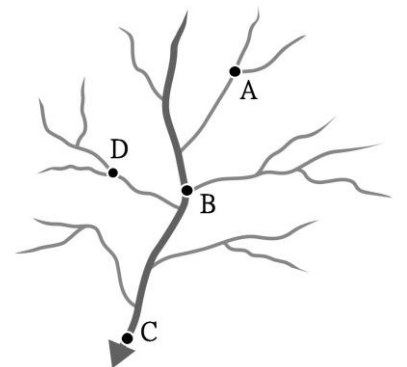


25. 地面天氣圖中，若台灣上空有  的符號，代表目前台灣的天氣狀況最可能為何？ (A)冷氣團來襲 (B)乾燥高溫 (C)陰雨綿綿 (D)颱風逼近。

26. 下列何種地理現象的出現與當地的焚風出現有關？
(A)基隆地區雨量豐沛 (B)台南養殖漁業災損
(C)屏東洋蔥品質優 (D)新竹米粉 Q 彈順口。

27. 考量到臺灣的自然環境條件，請問下列何者並非對於臺灣水文狀況適合的描述？
(A)流量變化大 (B)水質含沙量低 (C)短小流急 (D)東西分流。

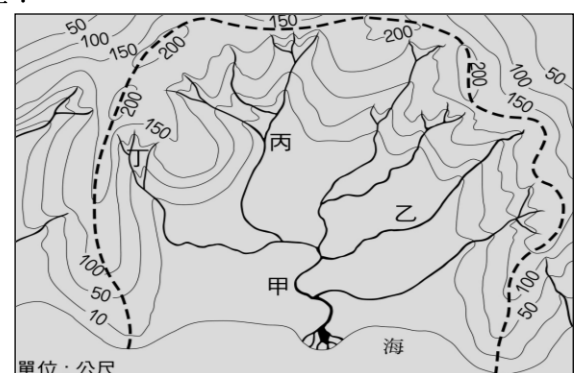
28. 右圖為某河流的水系圖，請問下列哪一個點的集水區範圍最大？
(A)A (B)B (C)C (D)D。



29. 攔砂壩的設置雖能有效防止水庫的淤積，但對生態環境卻會造成不小的影響。下列何者可能是設立攔砂壩帶來的結果？
(A)使生態系統更能順利繁衍 (B)讓上游河道通暢
(C)加劇地層下陷的危機 (D)河口處因沙源減少而使海岸線後退。

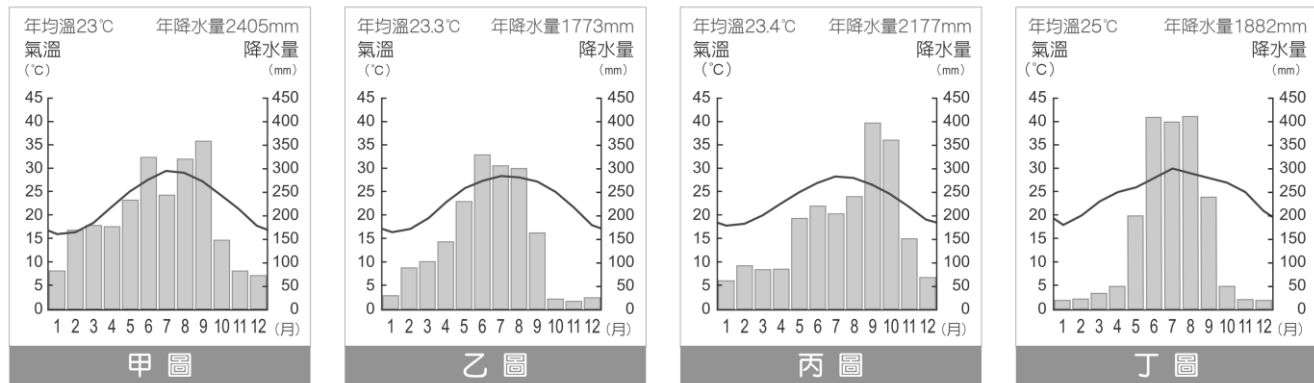
30. 臺灣梅雨對台灣的供水有相當大的重要性，而關於梅雨的描述下列何者正確？
(A)經常在七、八月後開始出現 (B)主要發生在迎著季風的山坡地
(C)因鋒面滯留不前而產生 (D)常伴隨著強風、豪雨。

31. 附圖是一區域內水文的示意圖，請問圖中的虛線內部是指下列何者？
(A)流域 (B)主流 (C)分水嶺 (D)支流。



◎請解讀圖表，並回答下列問題：

下面有四張臺灣的氣候圖。請依據圖片，回答下列問題：

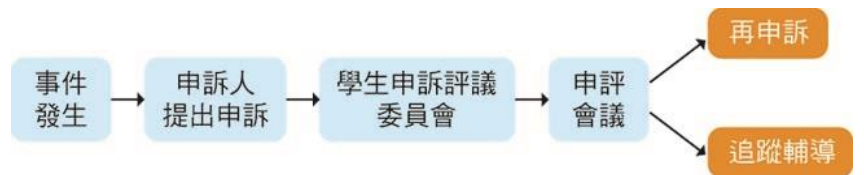


月分	1	2	3	4	5	6	7	8	9	10	11	12
氣溫 (°C)	18	20	23	25	26	28	30	29	28	27	25	21
降水量 (mm)	20	23	35	50	200	410	400	412	240	50	22	20

- 32、上表的氣候資料，符合題幹中的哪張氣候圖？ (A)甲圖 (B)乙圖 (C)丙圖 (D)丁圖。
- 33、哪張氣候圖乾溼季最為分明，可能最需要建設儲水設施？ (A)甲圖 (B)乙圖 (C)丙圖 (D)丁圖。
- 34、甲~丁四張氣候圖分別代表臺北、臺中、高雄、花蓮的氣候狀況，請分析氣候特徵並加以配對，何者正確？
(A)臺北→甲 (B)臺中→丙 (C)高雄→乙 (D)花蓮→丁。

※【公民科】第 35-50 題，每題 2 分。

- 35、剛舉辦完的樂樂棒球及校慶創意進場活動，圓滿結束。這樣的班級活動，讓各班同學間的向心力更強、感情也更好了。上述畫線部分，彰顯學校教育的何種功能？
(A)培養良善人際互動能力 (B)發覺潛能以展現自我 (C)追求適性的學習方法 (D)學習參與公共事務知能。
- 36、部落是指原住民族於特定區域內，依其傳統規範、共同生活結合而成的團體，經中央原住民族主管機關核定者。請問：上述是哪一項法律對部落的定義？
(A)《憲法》 (B)《原住民族基本法》 (C)《原住民族教育法》 (D)《原住民族文化資產處理辦法》。
- 37、學生自治就是要讓學生培養有效及正確處理公共事務的能力及態度。下列各處室在學校官網公告的事項中，何者屬於學生自治的範圍？ (A)教務處：2 月 21 日是「國際母語日」，請全校師生在這一天多用母語交談 (B)輔導室：各班同學的「生涯檔案」資料，本周內填寫完畢 (C)總務處：預購買校服同學，請上校網查詢夏冬校服價格再至總務處購買 (D)學務處：請各班推薦「優良學生代表」，每班推薦一名出來參選，詳如計畫說明。
- 38、如果學生認為學校的獎懲措施不當，導致權益受損，可依照右表流程向校方提起申訴。請問：下列何者適用這套申訴流程？(A)段考答案錯誤，希望獲得更正 (B)班會表決沒過半，希望重新表決 (C)違反學校校規，但校方處罰過重 (D)校園販毒被抓，不服警察的逮捕。



- 39、每年的 4 月 30 日是「國際不打小孩日」(International Spankout Day) 最早是美國反體罰組織「有效管教中心」在 1998 年發起，它的英文名稱中 spank 一詞俗稱「打屁股」，所以國際不打小孩日也被譯作「無巴掌日」或「拒絕體罰日」。原本只在美國境內推動的日子，迅速收到國際響應，從 2001 年起，獲得國際反體罰及兒童人權團體的認同，在這一天舉辦不同形式的活動，倡議終止體罰兒童，推廣正面管教方式，我國立法院也於 2006 年正式立法禁止體罰。請問：「國際不打小孩日」立意最主要目的是為了下列何者？ (A)確保未成年子女不受父母管教權利 (B)避免兒童觸犯相關法律規定 (C)弱化學校對未成年學生的管教權 (D)保障子女的身體自主權及人格發展權不受侵害。
- 40、校園霸凌是學生之間存在不對等的欺凌與壓迫情形。下列何者可能已經構成校園霸凌？(甲)總是拿同學身材、身體特徵開玩笑；(乙)考試總是名列前茅讓同學難以超越；(丙)經常使用網路散布謠言、留下辱罵或嘲笑同學的字眼；(丁)長期聯合同學排擠班上自己不喜歡的同學；(戊)看到同學違反校規向老師告狀 (A)甲丙丁 (B)甲丁戊 (C)乙丙戊 (D)乙丁戊。
- 41、以下為某報章雜誌的文字：

秀林鄉地處中央山脈東側，地勢高聳陡峭，鄉境大部分被畫入太魯閣國家公園的範圍，居民以太魯閣族為主，觀光業發達。境內的布洛灣台地位於立霧溪下游，曾經是太魯閣族人聚居的部落，現規畫為原住民特色園區。

秀林部落居民以發展觀光業為主，這可能符合哪項 107 年度「原住民族部落活力計畫」？

【習作】

- (A)復振部落傳統文化，凝聚文化主體認同 (B)發展部落經濟產業，促進部落就業機會
(C)營造民族生活環境，建構部落安全場域 (D)落實部落會議組織，奠定原住民族自治基礎。

◎題組題：

題組一

- 42、社群網絡中張貼了一則訊息，依內容判斷，舉辦人舉辦讀書會的用意為何？
 (A)尋求道德發展的層次提升 (B)確立弱勢群體的人權保障
 (C)認同主流文化的重要願景 (D)找回原住民族的文化傳統。
- 43、為改善部落，原住民常以原住民族傳統文化做為部落恢復生機活力的基礎，下列何者較符合珍惜傳統文化的方式？
 (A)邀請知名藝術家到部落設展 (B)販賣便宜小米酒給觀光客飲用
 (C)找出部落獨有特色並加以推廣 (D)學習其他原住民族的舞蹈表演。

讀書會訊息
 ※讀書會閱讀資料索取和報名，請聯絡：
 kavalan@mail.com
 ※舉辦緣起：面對社會變遷快速，很多部落的年輕人遷往都市生活，連帶使得傳統的原住民族文化面臨流失的危機。
 因此本讀書會拋磚引玉，希望透過探究有關書寫原住民族傳統生活的文學作品，喚起族人對傳統文化的珍視。

題組二

飛魚季是雅美族人一年當中最為重要的漁獵活動季節，捕捉飛魚 (libangbang) 是雅美族人最為關心的事物，飛魚也成為雅美族社會組織、儀式文化、造船文化、歲時祭儀的構成依據。雅美人認為飛魚是上天的恩賜，所以對於飛魚的捕撈、剖理、曝曬、烹煮都有一定的儀式，飛魚祭期間各種生活禁忌在傳統習俗中都規定的很清楚，至今為雅美族人仍依循傳統禁忌進行飛魚季漁撈活動。飛魚季期間有許多的儀式進行，如：



招魚祭：

在祈求豐魚祭後隔天，大約於二月中舉行，意在召請飛魚，祈求漁穫豐碩。依照以前的慣例，大都在舊曆年前後，由紅頭村首先舉行招魚儀式。

飛魚收藏季：

在六至七月舉行，表示飛魚汛期已結束，曬乾儲存以備冬季時食用。結束捕飛魚的當天，村民將今年捕獲的大魚尾巴穿串掉掛在海邊，表示飛魚季節已經結束，從那天起，不再捕捉飛魚，改抓其他的食用魚。

飛魚終食季 (manojgoyin)：

在每年的中秋節以後，男子捉羊，女子收芋頭，隔天煮芋頭和飛魚，盛裝共食後，當年開始停止食用飛魚乾，並將剩餘的飛魚乾丟棄。雅美人相信在祭典的時候，將家裡所儲存的飛魚乾全部吃完或分送給親友，會有源源不絕的飛魚可吃。

圖文資料來源：蘭嶼鄉公所網站(<http://www.lanyu.gov.tw/home.php>)

- 44、從上文可知，根據我國相關法規要被認定為「部落」必須具備幾項構成要素？(甲)原住民 (乙)原住民族地區 (丙)狩獵文化 (丁)傳統規範共同生活 (A)甲乙丙 (B)甲乙丁 (C)乙丙丁 (D)甲乙丙丁。
- 45、根據上文，下列敘述何者正確？(A)雅美族在飛魚季期間捕撈沒有任何約束 (B)有關飛魚的捕撈、烹煮方式沒有分季節與方式 (C)雅美族的飛魚季是文化傳承與教育的基石 (D)雅美族人嚴禁將家裡儲存的飛魚乾分送給親友吃。
- 46、上文內容中的畫底線「_____」處，代表了原住民族部落的何種精神？
 (A)互助扶助的共享精神 (B)崇敬神靈的部落倫理 (C)各司其職的部落自治 (D)創新文化的再造認同。

題組三

以下為七年 5 班開班會的紀錄，會議的主題為決定班遊的地點，班會前，開會通知單上品全已先提出「九份老街遊」的議案。

臺北市立新民國民中學 七年 5 班 第二十 週班會紀錄

日期	110 / 01 / 18	應到人數	20 人	實到人數	19 人	缺席座號	5
主席	志賢	司儀	葦宣	紀錄		歆穎	
紀錄內容	討論題目：班遊地點 1_(甲)_宣布會議開始 2 直接進行「討論事項」(依玲趕緊提出_(乙)_問題，提醒主席，請主席處理)，主席隨即更正程序 3 報告事項(主席及班上幹部進行工作報告) 4 討論事項-班遊的地點(討論期間泊鉉和宸澤因意見不合而發生口角) 議案提出的順序：九份老街遊→淡水八里行→六福村一日遊 5 臨時動議 6 散會、導師講評						

- 47、根據班會的相關開會規則，下列正確的敘述有幾項？①品全的「提案」主席可以用「先提議，後表決」方式 ②_(甲)_應該填上司儀 ③紀錄中的空格_(乙)_應該填上秩序問題 ④泊鉉和宸澤的口角衝突，可以提出權宜問題 ⑤發言前，要先舉手並徵求導師同意 (A)1 項 (B)2 項 (C)3 項 (D)4 項。
- 48、請問主席應先從哪一個提議的地點先表決？(A)九份老街遊 (B)淡水八里行 (C)六福村一日遊 (D)看主席心情。
- 49、下列對於班會各角色的敘述何者正確？(A)「司儀」要將表決方式及票數、結果詳實記錄 (B)「導師」必須公正主持會議，必要時可推翻表決票數 (C)「主席」需主持會議，賦予參加人員發言地位 (D)「紀錄」要時時記得宣讀會議程序。
- 50、爸爸與剛上國中的女兒一同參加家長座談會，看到教室牆上貼著「班級生活公約」，感慨地說：「以前我們唸書時，學生只能遵守由學校制定的校規與班規，真羨慕你們現在師生可以相互溝通，共同擬定大家願意接受的生活公約。」上述父親所描述的轉變，最可能是因下列何項概念逐漸受到重視？
 (A)主權在民 (B)地方自治 (C)終身學習 (D)學生自治。

【108 會考】