

臺北市立新民國中110學年度 第1學期 8年級社會領域 第3次段考試卷

年 班 座號： 姓名：

一、單選題(1-50題，每題2分。)

※【歷史科】第1-16題

- 1、清朝政府請來英國人赫德做海關總稅務司，赫德為中國人設計港口海關制度，以致向清廷上交的稅款大增，其後他向慈禧太后建議，將增收的關稅用來開辦京師大學堂，並保送中國人去西方留學見識，學習什麼叫制度管理。請問：中國大臣開始有「師夷之長以制夷」，採用西方的工業技術及制度，有是在哪一場戰爭後發生？
(A)八國聯軍 (B)甲午戰爭 (C)英法聯軍 (D)鴉片戰爭。
- 2、右圖內容是某次美國外交聲明的概要，根據內容判斷，美國提出了何種要求？
(A)協定關稅 (B)最惠國待遇 (C)門戶開放 (D)公平貿易。
- 3、中國近代報業，是隨著中外經濟、文化交流和西方殖民主義的侵略擴張而逐步發展起來的。當時，中國的識字率不高，文盲所在多有，為迎合大眾口味也出現圖像式的新聞報紙。下列哪一種屬於這種報刊？
(A)申報 (B)大公報 (C)上海新報 (D)點石齋畫報。
- 4、以下是一位外國記者對臺灣的記錄：「在插滿了新國旗的建築物內，擠入了許多情緒高昂的人們。新國旗以藍色為背景，中間有隻黃色老虎，尾巴翹得半天高；官員與群眾燃放鞭炮互相打氣。……直到日本軍艦在沿岸偵察的消息傳來，群眾像被潑了盆冷水般紛紛走避，官員則退入房內商量對策。這時大家才發現，想要爭取建立新的政權，除了升旗、放鞭炮以外，還有其他更重要的事情要做。」上述內容與下列何者最為相關？
(A)中華民國退出聯合國 (B)《馬關條約》的簽署 (C)臺灣地方自治聯盟的成立 (D)臺灣省政府發布「戒嚴令」。
- 5、上歷史課時，歷史老師正在利用如右的地圖介紹某個戰爭，請問：歷史老師正在敘述哪一場戰爭的結果？(A)鴉片戰爭 (B)甲午戰爭 (C)八國聯軍 (D)英法聯軍。
- 6、以下是一位學者對於歷史上某次政治改革所做的評論：「憲法由資政院起草議決，皇帝頒布；修正權屬於國會；皇帝權力以憲法規定者為限。上述這些規定雖限制了部分皇權，卻仍然強調皇帝神聖不可侵犯，對於人民的民主權利隻字未提。」根據內容判斷，推行上述政治改革的最可能是下列何者？(A)1860年的太平天國 (B)1911年的清朝政府 (C)1947年的國民政府 (D)1949年的中華人民共和國。
- 7、「二十世紀初，清廷與某國簽訂『中越交界禁止革命黨章程』，要求該國官員協助查辦在中越邊境活動的革命份子，若有人在越南境內傳播對清廷不利的言論，則依照該國的律例加以懲治。」上文中的「某國」最可能是下列何者？(A)日本 (B)英國 (C)法國 (D)美國。
- 8、西學進入中國後，在何者的鼓吹下，開始有女學堂的成立，給予婦女受教育的權利？
(A)商人 (B)醫生 (C)外交官 (D)傳教士。
- 9、西力東漸使得近代中國的城市與社會出現變化，引進西方生活方式也改變了中國城市的面貌，右圖中國的哪一個城市最先受到影響而改變？(A)甲 (B)乙 (C)丙 (D)丁。
- 10、一個國家想要保護自己的產業，可用關稅來防止外國的傾銷，但是中國在哪場戰爭之後，卻失去此一控制機制，使得當時國內的工商業遭受嚴重的傷害？
(A)鴉片戰爭 (B)英法聯軍 (C)中法戰爭 (D)甲午戰爭。
- 11、某暢銷電視劇以清朝晚期上海的租界為背景，描述男女主角在租界所發生的愛情故事。電視內容會出現下列哪一個場景？
(A)男主角是新科秀才，鴉片戰爭為避戰禍，遷居到上海英租界
(B)女主角是外國商人，在租界開設工廠並聘中國人到工廠工作
(C)男主角後受清朝派任在英租界，專職裁判租界商人違法事件
(D)兩人相識相戀結婚生子，要子女就讀廣方言館準備科舉考試。
- 12、老師講解清朝的內憂外患，在內有太平天國之亂，外來有西方國家進犯，請問，這是發生在中國的哪場戰爭？
(A)鴉片戰爭 (B)英法聯軍 (C)甲午戰爭 (D)八國聯軍之役。

我國政府希望各國在中國的商業和航運能享受平等待遇，我國人民的利益，也不得因列強在華畫分勢力範圍而受到損害，故反對列強在大清帝國領土內的獨占權利，或對土地的控制權。



13、小民蒐集中國近代某一歷史事件的四份相關資料，如下表所示。表中的「資料一」最可能是下列何者？

資料一	？
資料二	英國人派來攻打中國的上萬名士兵，在北京天壇紮營。他們的馬，蹂躪著一切。
資料三	俄國人洗劫北京頤和園的行動已經完成，所有珍貴物品都已經包裝好並貼上標籤。
資料四	法、德兩國把北京天文臺的珍貴儀器據為己有，儀器將被送往巴黎和柏林。

- (A) 太平軍正向北方發展，勢力從南京向首都北京地區蔓延
 (B) 大學生罷課、結隊在全城遊行，並聚集至親日官員住宅抗議
 (C) 義和團燒毀天主教堂、美國傳教團體的房舍，以及海關外國雇員的住所
 (D) 武昌已經宣布成立共和政權，革命軍隊準備和來自北方的清朝軍隊作戰。
- 14、某份資料記載：「這本書的作者為魏源，內容在介紹歐美各國的國情，影響後來的洋務運動。此套書籍傳到日本，帶給日本人很大的影響。」資料中描述的是哪一本書籍？
 (A) 《四洲志》 (B) 《海國圖志》 (C) 《幾何原本》 (D) 《夢溪筆談》。

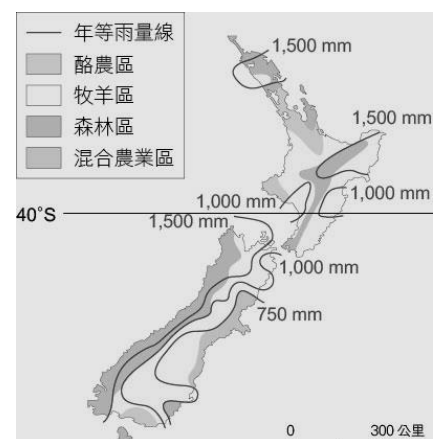
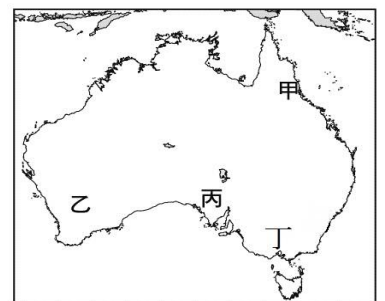
◎請閱讀短文，並回答下列問題：

1633年起，日本政府頒布一系列禁令，斷絕與西班牙、葡萄牙的關係，只准許荷蘭、中國的商船在長崎貿易。傳統論述都稱之為「鎖國」。然而，日本仍維持著和朝鮮、琉球、大清帝國、荷蘭東印度公司的往來，也就是說日本不是真正的鎖國。其實日本當時與鴉片戰爭前的大清帝國一樣，先前擁有對外關係的主導權，是在黑船事件後才失去。

- 15、日本在黑船事件積極變法改革，請問以下相關改革的述敘何者正確？
 (A) 當時進行改革的天皇為豐臣秀吉
 (B) 為了響應改革，日本將首都遷往京都
 (C) 為了了解世界情勢，日本派出使節團訪問美洲
 (D) 在改革運動下，日本改行君主立憲，並推動義務教育。
- 16、18世紀的清朝政府，也曾下令鎖國政策，請問以下對兩國的述敘何者正確？
 (A) 清朝政府比日本政府還晚開放通商口岸
 (B) 日本與清朝是受大英帝國的進犯才開放港口通商
 (C) 日本改革後以武力強迫清朝允許在通商口岸設立工廠
 (D) 日本鎖國時期朝鮮及琉球同時為日本及清朝的屬國。

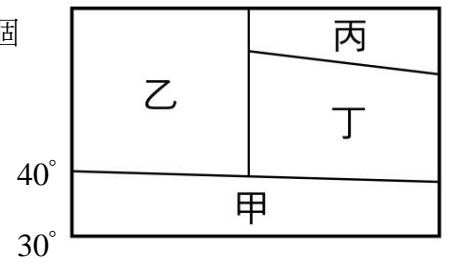
※【地理科】第 17-33 題

- 17、正傑剛在墨爾本舉辦的澳網公開賽中，直落三擊敗了喬科維奇，而接受訪問時他說道：「這裡的氣候冬雨夏乾，著實讓我得心應手啊！」
 請問：正傑這回的比賽應該是辦在右圖的哪個代號之處？
 (A) 丙 (B) 甲 (C) 丁 (D) 乙。
- 18、每次比賽前，承諺都會先聲奪人地朝著對手瞪大眼睛、疵牙咧嘴、伸長舌頭、捶胸頓足，口中並不斷念念有詞，意圖恫嚇對手，挫挫其銳氣，請問承諺最有可能是哪個國家的運動代表隊？
 (A) 俄羅斯 (B) 紐西蘭 (C) 南非 (D) 澳洲。
- 19、右圖為大洋洲三大島群的分布簡圖，圖中 A、B 代表其分界線。請問：B 界線與下列哪一條經緯線相符？
 (A) 赤道 (B) 本初經線 (C) 國際換日線 (D) 北回歸線。
- 20、南極與北極緯度相當，南極卻是最低溫的所在，造成此現象的主要原因為何？
 (A) 南極為陸地且地形為高原 (B) 北極的人口較稀少
 (C) 北極受地球暖化的影響較深 (D) 南極的太陽輻射較弱。
- 21、右圖為紐西蘭年等雨量的分布地圖。東、西岸的降水量差異，主要和哪兩項因素有關？
 (A) 洋流與緯度 (B) 緯度與風向 (C) 風向與地形 (D) 洋流與地形。
- 22、澳洲面積達 770 萬平方公里，但卻地廣人稀，適合耕作的土地面積不多，其主要原因為何？
 (A) 山多平原少 (B) 乾燥面積廣大 (C) 沼澤遍布，積水不消 (D) 石炭岩廣布。
- 23、因全球暖化造成海平面上升，大洋洲上的馬紹爾群島面臨「滅頂」的危機，該國總統希爾達·海妮 (Hilda Heine) 表示，目前唯一的方法就是把陸地墊高，雖然非常困難但不得不做。請問追根究柢該島國災情嚴重之主因為？
 (A) 島嶼成因 (B) 地理位置 (C) 面積大小 (D) 氣候條件。
- 24、澳洲境內的有袋類及鴨嘴獸等動物，皆為當地的特有種，每年均吸引許多觀光客前來觀賞。請問：當地多特有種生物的主要原因為何？
 (A) 面積廣大 (B) 氣候特別 (C) 地塊古老 (D) 位置偏遠孤立。



25、右圖是北半球溫帶大陸的氣候分布簡圖，圖中方形代表陸地，兩側皆為海水，請問哪個代號最足以代表紐西蘭的主要氣候類型？

- (A)甲 (B)乙 (C)丙 (D)丁



26、兩極地區成為戰略競爭合作地區之主因不包含下列何者？

- (A)富含能源資源 (B)適合做核子試驗
(C)國家間戰略合作 (D)新航路開通。

27、根據澳洲外交部公布，其貿易往來夥伴主要為中、美、日、韓、英，請判斷澳洲主要貿易政策主要是？

- (A)脫非入美 (B)脫美入歐洲 (C)脫歐入亞 (D)脫亞入非。

28、右圖為海平面發生變化後的地表樣貌，請問下列何者為此全球災害的背後兇手之一？

- (A)氫氣 (B)一氧化碳
(C)氮氣 (D)甲烷。

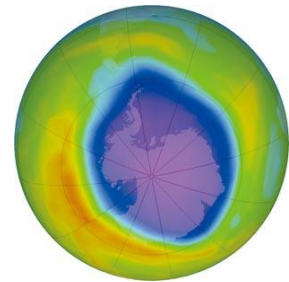


29、下列哪個島嶼的原住民並非與我們台灣原住民屬同一語系？

- (A)復活節島 (B)帛琉 (C)紐西蘭 (D)澳洲。

30、右圖為大氣層某種氣體的濃度狀態，下列哪一項協議的簽署就是為了緩和此種環境問題惡化？

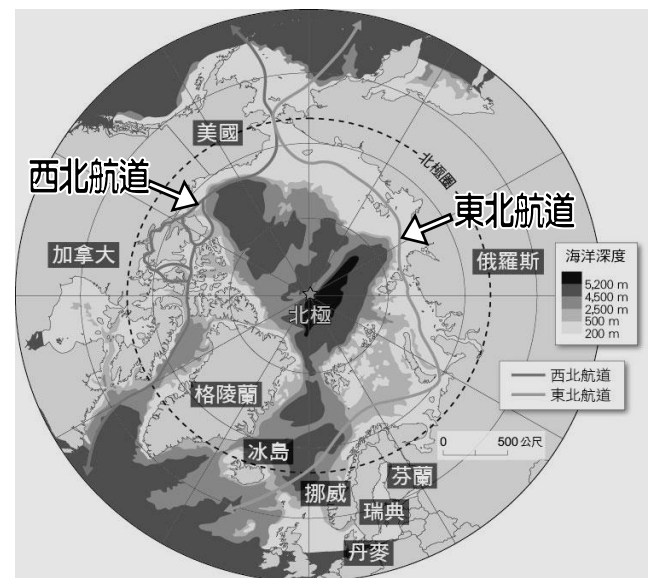
- (A)馬德里協定書 (B)巴黎協定 (C)京都議定書 (D)蒙特婁議定書。



◎請閱讀短文，並回答下列問題：

由於全球氣候變暖的影響，北極地區的冰雪開始逐步融化，原先封凍的沿海冰層融化後可以作為新航線，並且大大縮短航行距離。作為北極周邊國家，美俄都非常重視北極航線的開闢，最重要的是，北極航線終年冰雪覆蓋，人跡罕至，因此反而相對安全，可以有效避開海盜猖獗的海區。由於地處高寒海域，俄羅斯在破冰船的研究和建造技術可謂首屈一指，全球約 90% 的破冰船都隸屬俄羅斯所有，一旦俄羅斯確立了相關的北極航行守則，必然會在北冰洋地區搶先確立主導權，在和美國競爭北極控制權時才能爭取更加主動的地位。

原文網址：<https://kknews.cc/world/k64nlpp.html>



31、無論是西北航道或東北航道，北極海上的航行危險性已降低，這與下列哪一個現象密切相關？

- (A)海水汙染使浮冰融解 (B)洋流改變浮冰的位置 (C)全球暖化使氣溫改變 (D)鄰近國家積極開發資源

32、俄羅斯發現北極海蘊藏豐富的石油、天然氣，並派出迷你潛艇潛入，在海床插上國旗宣示主權，此舉引起周圍國家不滿。請問：此周圍國家不可能為何？ (A)瑞典 (B)挪威 (C)美國 (D)加拿大

33、勇敢帥氣、喜歡享受孤獨的硬漢晉寬，沿著東北航道，獨自從歐洲挪威前往俄羅斯東部，沿途他可能會看到什麼樣的景觀？

- (A)破冰船小心行駛，周圍環繞壯麗的峽灣 (B)雪白的高原大陸上，有大批成群的企鵝
(C)毛利人居住在冰屋，透過冰上垂釣覓食 (D)夜晚來臨時，南十字星在天空閃爍

※【公民科】第 34-50 題，每題 2 分。

34、下列四位司法人員職業的說明，何者正確？

(A) 我是依法獨立審判案件的檢察官



(B) 我是擔任法庭記錄的書記官。



(C) 我是依法提出公訴的律師。



(D) 我是為刑事被告進行辯護的檢察官




- 35、(2021/04/22Yahoo 新聞)屏東監獄收容人花燈作品「春曉」、「看見台灣」，在 2021 台灣燈會全國花燈競賽機關團體組作品中分別榮獲「燈王」及「甲等」。「春曉」使用 2000 朵櫻花，見者都說「美翻了！」請問上文呈現刑罰的何種目的？ (A)矯正犯罪 (B)預防犯罪 (C)制裁犯罪 (D)報復犯罪。
- 36、現代公民對《刑法》應有基本且正確的認知。以下關於《刑法》的敘述何者正確？ (A)「不知者無罪」《刑法》對於不知法而犯罪者不處罰 (B)《刑法》是最嚴厲的制裁手段可以解決所有反社會行為 (C)透過《刑法》以公權力制裁犯罪，禁止私人報仇方式 (D)《刑法》是政府為了控制人民，展現統治權而制定而成。
- 37、17 歲的阿翔無照駕駛且不遵守交通號誌，造成一連串的追撞事故。右表是阿翔此次事件中所付出的費用，其中屬於「刑事責任」的部分是多少元？
(A)10,000 (B)18,000 (C)28,000 (D)98,000。
- | 項目 | 金額(元) |
|----------|--------|
| 地方法院易科罰金 | 10,000 |
| 賠償醫藥費 | 50,000 |
| 違反交通規則罰鍰 | 18,000 |
| 修復損傷之汽機車 | 20,000 |
- 38、小君在高鐵站內偷了一支最新型的手機並拿去變賣，事後失風被抓。類似情形下，阿芸在通訊行偷了一支新款手機遭逮捕。但是，最後法院判決定讞的結果是小君是「加重竊盜罪」；阿芸是一般的「竊盜罪」。因為我國刑法規定，加重竊盜罪為於車站或埠頭等重要交通場所竊盜的行為定為「加重竊盜」罪。因此，法官依照法條判處的原則為何？
(A)誠實信用原則 (B)正當防衛原則 (C)契約自由原則 (D)罪刑法定主義。

◎題組題：

題組一

- 39、下列哪一個同學所說的刑罰，是不能單獨科處，只能附隨於主刑才能科處的刑罰？



- 40、下列有關此從刑的敘述何者正確？ (A)與「沒收」同屬於《刑法》的從刑 (B)是由檢察官負責宣告判刑並執行 (C)被判此從刑，將不具有選舉權與罷免權 (D)剝奪擔任公務員或成為公職候選人之資格。
- 41、下列何者與「無期徒刑」屬於同性質的刑罰？ (A)死刑 (B)罰金 (C)拘留 (D)有期徒刑。

題組二

- 42、右圖是一則網路新聞報導，根據圖中內容判斷，在此案的處理過程中，最可能會出現下列何種情況？
【110 會考】

消費者注意

豪睷公司未經主管機關許可，自國外引進聲稱具有療效的床墊販售牟利，違反《藥事法》規定，相關單位進行調查後，決定對該公司業務負責人提起公訴。

- (A)大法官對案件進行公平審理 (B)檢察官主導案件的偵查工作
(C)消保官追訴負責人的犯罪行為 (D)書記官協助業者進行調解事宜

- 43、右圖有關提起對該公司業務負責人提起公訴的責任，與下列事件何者相同？

- (A)深夜社區唱歌妨礙安寧 (B)入屋竊取遭警方逮捕
(C)損害鄰居車窗要求賠償 (D)騎車出門沒帶安全帽。

- 44、對於右圖的訴訟案件，法院最不可能出現下列何種判決結果？

- (A)處以有期徒刑 (B)宣告褫奪公權 (C)處以高額罰鍰 (D)沒收犯罪所得。

題組三

- 45、右圖是公民課的某張投影片內容，節錄了部分的《刑法》條文。請根據圖文內容判斷，該張投影片應是用來說明下列何項概念？ (A)何種行為構成犯罪 (B)刑罰當中的主刑與從刑 (C)犯罪後要如何處罰 (D)人民如何提起行政救濟。

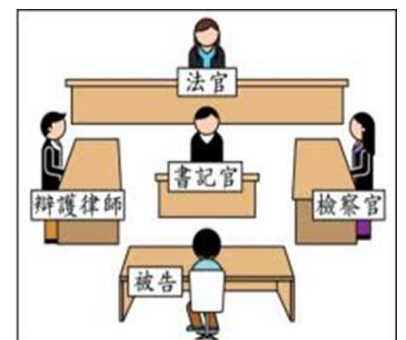
第310條：意圖散布於眾，而指摘或傳述足以毀損他人名譽之事者，為誹謗罪……

第320條：意圖為自己或第三人不法之所有，而竊取他人之動產者，為竊盜罪……

- 46、國家在對人民施以刑罰時，如刑誹謗罪與竊盜罪，都會根據法律定義好才能加以刑罰。《刑法》這種概念是下列何種精神的具體展現？ (A)主權在民 (B)依法行政 (C)法律位階 (D)給付行政。

題組四

右圖是法庭位置圖，請回答下列題目：



- 47、依右圖，最有可能是審理下列何種案件？
(A)遺產分配的官司 (B)債務履行的糾紛 (C)販賣毒品的行為 (D)政黨違憲的審理。
- 48、如果有人犯罪，侵害他人的權利，任何人只要知悉有犯罪嫌疑時，都可以向右列何者申報犯罪事實？ (A)法官 (B)律師 (C)書記官 (D)檢察官。
- 49、上述任何人知悉犯罪都可以跟相關人員告知，屬於刑事訴訟的哪個程序？
(A)公訴 (B)告訴 (C)告發 (D)自訴。
- 50、發生刑事案件時，偵查人員蒐集、鑑定相關證據，並研判嫌疑人的心態、動機等，以呈現犯罪事實，其目的在提供下列何人作為「判決」的依據？ (A)法官 (B)檢察官 (C)原告律師 (D)刑事警察。

【104 會考】