

臺北市立新民國中107學年度 第二學期 七年級社會領域 第二次段考試卷

七年 _____ 班 座號：_____ 姓名：_____

一、單選題(1-50 題，每題 2 分。)

※【歷史科】第 1-17 題

- 1、生於日治時期的阿甘爺爺常自豪的說：「我可是受過日治時期的義務教育喔，還曾拿到特優獎。」請問：阿甘爺爺最早應是在下列哪一年接受過義務教育？ (A)1940 年 (B)1943 年 (C)1946 年 (D)1949 年。
- 2、「這所大學於西元 1928 年創校，是日治時期臺灣唯一的高等學府。該校已是擁有文政、理學、農學、醫學、工學五個學部(學院)和預科，以及熱帶醫學、南方人文、南方資源研究所的綜合大學。請問：上述的大學位於右圖哪一區？ (A)甲 (B)乙 (C)丙 (D)丁。
- 3、總督府為了配合殖民統治政策，發展臺灣產業，在某層級的教育上重視實用原則。請問：其主要目的為下列何者？ (A)實施日臺共學制度 (B)達成風俗習慣的改變 (C)為落實地方自治 (D)以培養基層技術人員。
- 4、日治時期，林獻堂等士紳為何努力集資成立「臺中中學校」，下列哪一選項的敘述是正確的？
(A)臺灣人為爭取自身受教育的權益而設立 (B)為培養臺灣人的中等學校教師而設立
(C)為了證明日治時期臺灣教育機會是公平的而設立 (D)為增加臺灣中部的教育機構數量而設立。
- 5、西元 1915 年有一則新聞：「最近一段時間市內帽子店、裁縫店生意興隆，顧客紛至沓來消費購買……裁縫店更是日夜加班趕工，訂單不斷。」這是因實行哪項措施的結果？
(A)全盤西化政策 (B)放足斷髮政策 (C)漸進主義政策 (D)回歸傳統政策。
- 6、臺灣在日本統治期間，人口數由近 300 萬增加到 600 多萬，人口增加迅速。下列何者是造成此現象的主要原因？
(A)日本地狹人稠，眾多日人移民來臺謀生 (B)為提高蔗糖產量，日人招募華南居民來臺
(C)糧食充裕，公共衛生觀念及現代醫療制度建立 (D)南進政策需大量人力，殖民政府積極獎勵生育。【96 基測】
- 7、日治時期，蔣渭水先生曾寫作一篇《臨床講義》，針對當時臺灣現狀開立一份診斷書，其中部分內容如下：一、病人：臺灣島 二、診斷：世界文化的低能兒 三、病因：智識之營養不良 四、處方：正規學校教育、補習教育、幼稚園、圖書館、讀報社，以上綜合藥劑調和後立即服用，二十年必可痊癒 蔣渭水先生開這個處方的目的是下列哪一選項？
(A)希望臺灣人反抗總督府 (B)希望以文化活動啟迪民智 (C)希望臺人向總督府爭取立法權 (D)希望臺人真正融入日本社會。
- 8、國民政府接收臺灣初期，政策失當導致社會秩序不穩，其中以下列哪方面的問題最為嚴重？
(A)外交 (B)經濟 (C)文化 (D)軍事。
- 9、隨著「二二八」紀念碑在臺北新公園舉行落成典禮，並將新公園改名為「二二八和平紀念公園」，各界都期盼臺灣社會能因此揮別幾十年的陰影與悲痛，更希望大家對此歷史事件，有正確而充分的認識。下列關於二二八事件的敘述，何者**正確**？ (A)導火線為查緝毒品的衝突 (B)事件發生的時間是在解嚴後 (C)當時的行政長官陳儀請中央派軍來臺鎮壓 (D)政府至今仍拒絕出面承認處理失當。
- 10、承上題，二二八事件對於日後臺灣歷史的發展產生了下列何種負面的影響？
(A)政局逐漸崩壞 (B)經濟全面蕭條 (C)菁英分子移居國外 (D)族群融合頗為不佳。
- 11、國民政府遷臺後，為了維護政治安定，中央民意代表一直沒有改選，因此被諷為「萬年國會」，一直到下列哪位總統任內才全面改選？ (A)蔣經國 (B)李登輝 (C)陳水扁 (D)馬英九。
- 12、「戒嚴令」的廢除是臺灣歷史發展上一個重要的轉折點，也是臺灣政治民主化重要的里程碑。民國 76 年，蔣經國總統宣布解除戒嚴，對臺灣社會產生最直接的影響是下列哪一選項？
(A)臺灣經濟逐漸繁榮 (B)黨禁與報禁的開放 (C)總統開始由選民直選 (D)積極促進族群融合。
- 13、曉芬在一篇報告中寫到：「西元 1950 年代，臺灣正處於戒嚴時期，政治管控嚴密。儘管如此，他仍主辦《自由中國》雜誌，持續宣揚自由、民主理念。1960 年，他更因籌備組織政黨，而遭到政府逮捕、判刑。」文中的「他」是指下列何人？ (A)陳儀 (B)胡適 (C)雷震 (D)蔣渭水。【100 北北基聯測】



◎請閱讀下列短文，並回答下列問題：

西元 1915 年余清芳等人主導的西來庵事件後，臺灣民眾瞭解到零星的武力無法打敗強敵，被迫放棄 20 年的武裝抗日，改採政治、社會運動，來表達他們不甘臣服的心聲。加上第一次世界大戰後，美國總統威爾遜提出民族自決的主張，成為時代主流，日本總督府為了順應潮流，對臺灣改採同化政策，高唱「一視同仁」，於是當時臺灣的知識分子趁機對總督府提出改革不合理的殖民政治，希望設立臺灣議會、民選地方議員，希望達到完全的地方自治。

梁啟超曾向林獻堂建議，臺灣應該效法英國統治下的愛爾蘭，放棄武力抵抗，改走議會路線，以爭取臺人的權益。蔣渭水也認同非武裝抗日的路線，他認為「臺灣議會的設置，是臺灣人唯一的出路」。在林獻堂、蔣渭水等人的領導下，前後發動

15 次的請願活動，喚醒臺灣人的政治、社會意識。

此外，臺灣地方自治聯盟也要求總督府把市、街、庄的協議員改為民選，並且將協議會改為有決策權的機關。臺灣地方自治聯盟強調在目標完成之後便會將組織解散，因此在所有的社運團體中，它是總督府最能容忍的一個。不過，到了 1930 年代以來，總督府對社會的控制轉趨嚴密，臺灣的政治社會運動終告沉寂。(資料來源：翰林教師手冊)

14、根據上述短文，西元 1920 年代起，臺灣一些有志之士發起的「臺灣議會設置請願運動」，企圖爭取下列何種權力？

(A)監察權 (B)司法權 (C)立法權 (D)考試權。

15、根據上述短文，到了 1930 年代以來，總督府對社會的控制轉趨嚴密，臺灣的政治社會運動終告沉寂人，是因日人推動

下列哪一政策的結果？ (A)民族自決 (B)皇民化運動 (C)西進政策 (D)差別待遇。

◎請閱讀下列短文，並回答下列問題：

臺灣在某個時期的政治案件，有不少是出自於戒嚴統治與戡亂體制下的產物。在戒嚴期間，立法院為了防止中國共產黨在臺灣從事顛覆活動，並嚇阻臺灣人民追求自由民主，通過了懲治叛亂條例以及動員戡亂時期檢肅匪諜條例，擴充解釋犯罪的構成要件，這些法規內容的規定相當模糊，但刑責卻很重，動輒便以「唯一死刑」處理，縱容情治單位機關網羅所有人民的政治行動，弄得臺灣社會人心惶惶。

在蔣中正、蔣經國父子的主導下，為數十萬以上的情治、特務系統，無所不在的進行監控。車站、市場、街道貼滿了「匪諜就在你身邊」，「檢肅匪諜人人有責」，「通匪則死」的標語。並不時貼出紅色布告，記載每天被槍決的匪諜資料。就在這種肅殺的氣氛之下，政治被視為危險的事務，人們也不敢在思想、文化上自由探索，社會上處於一種單調、封閉的狀態中。

(資料來源：翰林教師手冊)

16、根據上述短文，臺灣某個時期，政府常以肅檢「匪諜」、「叛亂者」為名逮捕異議分子，使冤案頻傳。請問：這是指臺灣哪一個時期的狀況？ (A)臺灣光復初期 (B)白色恐怖期間 (C)黨外運動興起時期 (D)宣布解嚴以後。

17、小惠是生活在上述短文所述時期的臺灣人，當時她生活周遭會遇到下列何種狀況？ (A)可以和鄰居時常議論政治

(B)她可以與友人創立政治團體 (C)她可以上街參加反核的遊行 (D)她看的報紙是受政府管制。

※【地理科】第 18-34 題

18、部份臺商在中國投資所設的廠，逐漸因為中國的經濟進步而失去原有優勢，這是因為當初其最主要考慮的可能是下列哪項因素？ (A)勞工 (B)資金 (C)技術 (D)市場。

19、就鮮奶油蛋糕工廠的產品特質而言，則下列何處最可能是該工業的區位考量？

(A)都市近郊 (B)港口旁邊 (C)麥田附近 (D)發電廠周邊。

20、上班族培傑整日忙於工作，下班只想宅在家，小從生活必需品，大到電器家具，都不想出門採購，而下列種消費通路最能夠符合他的購物習性？ (A)批發 (B)零售 (C)量販 (D)網購。

21、下列哪種交通工具的最大功能在於都會區內部的交通聯傑，使其有更緊密的連結、擴大通勤圈甚至是都會區的範圍？

(A)高速公路 (B)鐵路 (C)捷運 (D)省道。

22、明星球員嘉豪代言某美國知名運動品牌，美國設計師設計他專屬的球鞋樣式後，卻將設計圖傳送到國外去量產，請問下列哪個國家最可能是藍圖傳送的對象？ (A)日本 (B)德國 (C)印尼 (D)臺灣。

23、網路上購物的通路林立，許多知名集團也都早已從實體店面跨足線上購物，現在甚至連付款的方式也進步到五花八門，請問下列何者可能是這些便利之下產生的社會問題？

(A)工廠直營打壞市場行情 (B)不肖業者將個人的資料外洩 (C)單價過高導致經濟負擔 (D)大容量包裝導致強迫購買。

24、不論何種工業，在選擇工業區位之時，主要目的為何？

(A)開發客戶數量 (B)提升就業機會 (C)減少環境汙染 (D)降低生產成本。

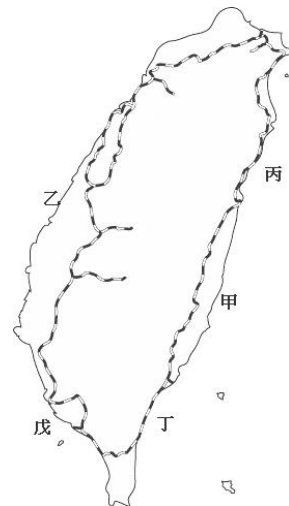
25、以下何種環境因素較易出現「散村」景觀？

(A)丘陵廣布地區 (B)治安不佳地區 (C)舊時開墾制度所致 (D)水源充沛的地方。

26、逸圻打算坐火車來趟 2019 國慶煙火旅行，如果從臺北出發，途中想先在宜蘭品嚐美食，途中參加蘭嶼螃蟹節活動，最後到屏東觀看煙火做為句點，依據右圖逸圻所需搭乘的鐵路幹線代號排序與名稱配對下列何者正確？

(A)乙縱貫線→丙北迴線→甲宜蘭線→丁南迴線 (B)乙縱貫線→戊屏東線→丁南迴線→甲花東線

(C)丙宜蘭線→甲花東線→丁南迴線 (D)戊南迴線→丁屏東線→甲花東線→丙宜蘭線。



27、臺塑集團於雲林麥寮離島基礎工業園區中打造臺灣的第六座輕油裂解廠，該園區大部分面積以填海造陸興建，甚至有專用港口。由此可見此種類型工業在臺灣興建首重？

(A)原料 (B)勞工 (C)市場 (D)交通。

28、梁欣室內設計公司將設計藍圖在地球各角落間的公司中互相傳遞，進而在不浪費絲毫下班時間的情況下完成，但此種高效率最可能需要哪一種交通方式的配合？ (A)空運 (B)陸運 (C)海運 (D)網際網路。

29、日本為臺灣重要貿易夥伴，請問下列哪種情形是造成台日之間目前進出口貿易狀況的原因？

- (A)臺灣的華碩手機幾乎日本人手一臺 (B)愛拍照的艾恩堅持只買日本 nikon 單眼相機
(C)日本民眾最愛駕駛臺灣的納智傑汽車 (D)臺塑石油公司向日本進口大量原油。

30、採用「以量制價」的方式，試圖迎合消費者追求低價的心態，此為何種商業型態？

- (A)批發 (B)量販 (C)零售 (D)網購。

◎請閱讀短文，並回答下列問題：

當全球各大製造強權都在積極搶進先進製造，但你知道嗎，一家「地表最接近工業 4.0 的企業」就在你我身邊。它是台積電，公認在生產技術最先進和複雜的晶圓製造行業。為了讓台灣製造業理解智慧化的威力，更要為產業帶來數位轉型動能，《天下》獨家走訪台積電，一窺全球專業晶圓代工霸主的製造智慧化之路。自九〇年代，八吋晶圓廠導入電腦化，台積電就開始在製造管理上建立門檻。到了 2000 年開始自動化，當年建立全新的十二吋超大晶圓廠，自動化程度已是全球同業先驅，包括派工、運送系統到設備自動化，都已是全自動化的等級。半導體製程是一門高度複雜的工藝，有上千個製程步驟，每道製程都必須精準控制，每個工廠都有數千台機台，每個機台一天可收集數百萬到數千萬筆數據。一顆新晶片要量產，通常會先經研發試產，待製程參數等諸多生產因子調到最佳化後，才外放到各晶圓廠大量生產。王建光透露，目前在全球擁有 13 座晶圓廠的台積電，也多半由母廠負責試產穩定後，再到各廠投片量產。對晶片製造者來說，很大的考驗就是如何把試產時的表現，精準移植到量產。過往最知名的就是英特爾的「精確複製」(Copy Exactly) 模式，亦即英特爾在全球每座晶圓廠的每條生產線，不僅都採用相同的生產設備，連廠內管路配置、尺寸、長度，甚至幾個彎角都要一模一樣，以此確保從研發產線到量產能表現一致外，也可預防同樣的問題重覆發生。秉持製造卓越的初心，一路成就全球製造業典範的台積電，接下來還能演繹多強大的「智造」本事，全世界都在看。

改寫自《天下雜誌》665 期《台積電 稱霸全球工業 4.0》

31、根據上述文章，你認為所謂的先進製造業應該具有哪些特徵(甲)勞力密集 (乙)技術密集 (丙)資金密集

- (A)甲乙 (B)乙丙 (C)甲丁 (D)甲丙。

32、臺積電是臺灣製造業的龍頭，而許都這樣的企業，造就出臺灣目前以國際貿易為經濟命脈，請問臺灣目前的貿易狀態為？

- (A)打平 (B)入超 (C)出超 (D)無法估計。

33、工業 4.0 指的是第四次工業革命，2013 年德國聯邦教育及研究部和聯邦經濟及科技部將其納入《高技術戰略 2020》的十大未來專案，投資預計達 2 億歐元，而根據文章你覺得下列哪些特徵將會是所謂工業 4.0 最需要提升的部份？

- (甲)電腦化 (乙)數位化 (丙)智慧化 (丁)客製化 (A)甲乙丁 (B)乙丙丁 (C)甲丙丁 (D)甲乙丙。

34、就文章描述，你認為臺積電所屬的工業類型會將他的晶圓廠設置在下列何處？

- (A)新竹科學工業園區 (B)雲林離島工業區 (C)高雄楠梓加工出口區 (D)花蓮和平工業區。

※【公民科】第 35-50 題

35、「新民路、文化走廊、地熱谷景觀、北投溫泉博物館、大屯山、新民國中校規」。請問：上列選項中有幾項屬於「文化」？

- (A)2 項 (B)3 項 (C)4 項 (D)5 項。

36、下列哪些行為是屬於「風俗習慣」的範圍？(甲)端午節吃粽子 (乙)捷運上讓位給孕婦 (丙)醫院電梯沒有 4 樓選項 (丁)看到地上有垃圾就撿起來 (戊)跟著媽祖繞境 (A)甲、乙、丙 (B)丙、丁、戊 (C)甲、丙、丁 (D)甲、丙。

37、美食界盛事「第二屆台北米其林指南 2019」日前揭曉，今年共有 6 間餐廳新入選，三星餐廳仍然僅有一間。必比登推薦美食也列出知名平價小吃，公館夜市、延三夜市及華西街夜市是首度有攤商入選，名單公布後的經濟效益可觀。事實上，飲食文化是人類文明很重要的一部分，各國在介紹自己文化的內容時，一定會提到飲食，由此可知飲食文化具有哪一種特徵？ (A)差異性 (B)普遍性 (C)累積性 (D)制約性。

38、右圖為「DailyView 網路溫度計」(<https://dailyview.tw/>)分析了 2017 年 12 月 17 日至 2018 年 12 月 16 日的網路聲量，透過大數據分析回顧一整年 PTT 上前 10 大最火紅的鄉民流行用語。事實上，若不常接觸這些流行於網路、青少年用語的人而言，可能無法理解這些字句的意思，這種只適用在少部分人的文化現象稱為？

- (A)次文化 (B)次等文化 (C)通俗文化 (D)主流文化。

39、九年 10 班根據(甲)班會程序正在召開班會，今天討論的事項包括：(乙)畢業紀念冊封面圖案、(丙)值日生輪值辦法，之後進行本週中心德目的討論，主題是「(丁)感恩」。最後導師講評時，提醒同學記得感謝學校及家長會精心準備的(戊)包子、發糕及粽子(包高中)，這不僅代表他們的心意，也是一種期許，大家要好好加油，在即將來臨的(己)國中教育會考中好好發揮。請問文中哪些屬於「制度層次」？ (A)甲乙丙 (B)乙丙己 (C)乙丁戊 (D)甲丙己。

40、公民老師在課堂上說明關於「價值觀念變遷」的主題，並請四位同學舉出適當的例子加以說明。下列哪一位同學舉出的例子，最符合上述主題？【104 會考】

- (A)阿智：網際網路科技發達 (B)小強：性別平等意識抬頭 (C)美美：立法委員席次調整 (D)小明：大眾捷運系統普及。

排名	用語	網友怎麼說	網路聲量
1	韓導	「被政治耽誤的導演」	72,189
2	1124滅東廠	「年底用選票給民進黨教訓」	34,245
3	發大財	「OO進的來，OO出的去，OO發大財！」	31,849
4	又老又窮	「台灣有哪裡不是又老又窮？」	25,601
5	越想越不對勁	「台男要好好保護自己」	20,043
6	主流民意	「大家好我們是對同志不友善的中國台北人」	17,817
7	喜韓兒	「韓粉出征，寸草不生」	16,914
8	貪婪老人	「1500=台北價值」	16,765
9	擊潰丁守中	「擊潰丁守中！」	13,304
10	關三天	「政客、名嘴要不要先關一關？」	9,973

資料分析：DailyView網路溫度計 透過 KEYPO 大數據關鍵引擎(keypo.tw) 以國際級的語意分析架構、先進的機器學習技術與人工智慧推論引擎，感知網友語意脈絡與情緒，分析時事網路大數據。
分析期間：2017/12/17~2018/12/16

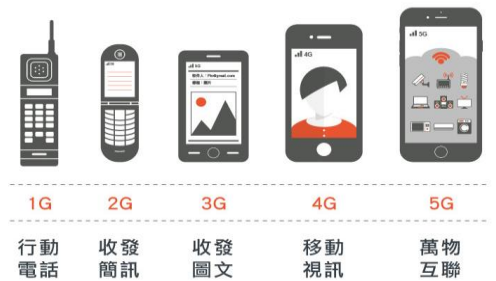
41、有關文化的四項特徵之描述，下列選項何者**有誤**？

特徵	舉例
(A)普遍性	每個國家都有陸地。
(B)差異性	日本慶祝新曆年，台灣過農曆年。
(C)制約性	寮國佛教徒非常虔誠，幾乎每個寮國男人自小都曾到寺廟短期出家，甚或就此不還俗。
(D)累積性	電子交易方式日新月異，支付工具不斷創新，信用卡、電子錢包，進一步演進到行動支付（如：LINE Pay、街口支付、台灣 Pay、Apple Pay 等）。

42、(2019/04/21)交通部修法敲定計程車與租賃車分業管理，引發 Uber 不滿，日前發動 5,000 多人在總統府前凱達格蘭大道進行抗議，要求交通部「廢止惡法」，交通部回應，政府有責任維護業者之間的公平競爭。事實上，當行動叫車平台 App 技術日益成熟時，如何在計程車司機及 Uber 駕駛之間的工作權保障取得平衡，相關的配套法規制度需要怎麼修改兼顧兩方間的利益，考驗著政府相關單位。根據上述內容判斷，下列敘述何者**錯誤**？ (A)是因為制度層次改變所引發的抗議事件 (B)Uber 叫車平台系統是屬於理念層次的發展 (C)Uber 司機透過行動來捍衛自身權益 (D)這反映出器物層次發展太快所帶來的文化失調。



43、右圖是手機通信技術的發展史。目前各國手機大廠業者正在如火如荼研發的 5G (fifth-generation) 譯為第五代移動通信技術，其為 4G 的延伸，可想而知的是比 4G 更快的通信。這顯示出文化發展的哪一個層次與特性？ (A)器物層次；文化的普遍性 (B)制度層次；文化的差異性 (C)器物層次；文化的累積性 (D)理念層次；文化的制約性。



<圖片來源：股感知識庫www.stockfeel.com.tw>

44、(2019/04/22 聯合新聞網)據報導：「423 世界地球日，環保署邀請 18 個攤商、業者、學校、夜市，分享推動減塑限塑的做法心得，例如大甲鎮瀾宮在大甲媽祖遶境期間，廟宇供餐使用不鏽鋼碗筷，寧夏夜市改用環保餐具、設置公共洗滌區等。環保署表示，去年聯合國統計，人類每年製造 90 億公噸的塑膠，僅有 9% 有被回收，大部分的塑膠，最後進了垃圾場、掩埋場或燦爛周遭環境。民國 91 年管制塑膠袋前，國人塑膠袋的用量，每年 200 億個，經過兩次限塑政策後，減少 48 億個，目前每年用量約 150 億個。」從上述內文中得知環保署努力在宣導民眾具有何觀念？ (A)環境倫理 (B)科技倫理 (C)群己倫理 (D)工作倫理。

45、下表中關於四種社會規範的比較，何者**錯誤**？


選項	風俗習慣、倫理道德、宗教信仰	法律
(A)產生背景	長期累積而成	立法機關制定而成
(B)作用	約束人的外在行為	啟發人的內在良知
(C)強制力	無	有
(D)處罰方式	良心譴責、社會輿論批評	國家公權力處罰

◎請閱讀短文，並回答下列問題：

金門浯島城隍遷治慶典，緣起於清康熙 19 年（西元 1680 年），總兵署由金門城移至後浦，相傳是城隍被信眾從金門城古地城隍廟分火到後浦奉祀，後浦浯島城隍廟遂選在每年農曆 4 月 12 日舉辦熱鬧迎城隍慶典，是百姓最敬畏又最親近的神明，香火鼎盛，每年均吸引大批信眾共襄盛舉，近年來在以保留傳統藝陣重新包裝後，不單已為金門全島性的宗教活動，更是台灣宗教結合新時代文化創意轉型的重要里程碑。【資料來源：文化部文資局網站 林茂賢】

46、請問金門迎城隍活動，其所屬的社會規範類型與下列何者相同？ (A)搭乘大眾交通工具請讓位給需要的人 (B)騎乘機車配戴安全帽，違者應強制處罰 (C)己所不欲，勿施於人 (D)穆斯林日常生活須依照《古蘭經》教義與聖訓(al-Hadith)的教誨而行。

47、迎城隍是金門地區目前最大型的廟會活動，是地區重要的宗教暨民俗慶典，更是文化盛宴。金門縣政府每年投入大筆經費宣傳擴大慶典活動的做法可以發揮下列何項功能？ (A)增加縣民就業的機會 (B)提昇文化的控制力 (C)落實文化資產的保存 (D)呈現社會多元化面向。



立法院為了遏止酒駕，日前三讀通過《道路交通管理處罰條例》修法。新法大幅加重汽機車駕駛人的酒駕罰鍰，尤其是再犯和累犯，最重可能終身吊照；拒絕酒測臨檢部分，第一次罰 18 萬元，第二次罰 36 萬元，第三次罰 54 萬元，酒駕累犯重新考照後，還必須在車輛強制加裝"酒精安全鎖"；另外，同車者也有共同責任，將連坐受罰(甲)。【2019/3/27 公視新聞】

48、從文化的內涵看，立法院是加強哪個文化的哪個層次，以遏止酒駕？ (A)器物層次 (B)制度層次 (C)理念層次 (D)物質層次。

49、根據上文，下列有關該項社會規範的敘述何者**錯誤**？ (A)具有強制力處罰違反的人 (B)立法機關依一定程序制定 (C)主要規範人的外在行為 (D)是最高限度的行為準則。

50、有關(甲)底線敘述部分，強調出希望透過修法來約束部分民眾的行為，屬於文化何種特性的加強？ (A)制約性 (B)差異性 (C)累積性 (D)普遍性。

試題完成，記得再檢查一遍答案卡與試卷，並務必將自己的答案抄寫於題目卷上，以利試後檢討。