
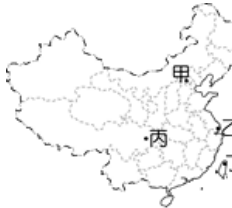


臺北市新民國中107學年度 第二學期 八年級社會領域 第三次段考試卷

年 _____ 班 座號： _____ 姓名： _____

一、單選題(1-50題，每題2分。)

※【歷史科】第1-16題

- 1、民國十三年，孫文先生採取「聯俄容共」的政策，使國民黨與共產黨展開中國歷史上的第一次合作，直到下列哪一個事件發生後，國民黨與共產黨才正式決裂？ (A)五三慘案 (B)寧漢分裂 (C)西安事變 (D)七七事變。
- 2、右圖為民國 15~17 年的國民革命軍的北伐軍事路線圖，請問：圖中的「甲」區是哪一位軍閥的勢力範圍？ (A)吳佩孚 (B)張作霖 (C)孫傳芳 (D)陸榮廷。
- 3、民國 17 年，國民革命北伐期間，曾出兵山東，意圖阻撓中國統一的是下列哪一個國家？ (A)英國 (B)荷蘭 (C)德國 (D)日本
- 4、就歷史發展而言，清末以來，中國喪失的主權中，最早收回的是哪一項權利？ (A)領事裁判權 (B)片面最惠國待遇 (C)租界 (D)關稅自主。
- 5、民國二十四年，政府下令所有的交易、繳稅均需以法幣來支付，造成下列何種影響？ (A)使得私鑄紙幣的情形嚴重 (B)終於統一清末以來幣制混亂的局面 (C)引起人民反彈，取消法幣制度 (D)從此中國經濟快速發展。
- 6、民國二十六年七月七日，日軍在北京宛平縣附近演習，藉口士兵失蹤，挑釁國軍，引發戰爭，史稱「七七事變」。請問：日本憑藉下列那一個條約取得在北京的駐兵權，埋下此禍根？ (A)辛丑和約 (B)南京條約 (C)馬關條約 (D)北京條約。
- 7、小禎說：「第二次世界大戰中，美國的參戰是反侵略陣營致勝的關鍵。」小凱問：「為什麼美國會宣戰？」小禎應怎樣回答才符合史實？ (A)為了維持國際均勢 (B)因為英國積極求援 (C)美國領土受到攻擊 (D)因為物資遭受掠奪。【93 基測】
- 8、二次大戰期間某份國際性會議紀錄提到：「只要你們答應對日宣戰，並出兵東北支援中國作戰，那麼在戰爭結束後，中國的東北地區便交由你們來接收，關東軍的廠房以及武器也交由你們來處理。」請問：由上述的內容來看，可判斷這應該是下列哪場會議紀錄的內容？ (A)巴黎和會 (B)開羅會議 (C)德黑蘭會議 (D)雅爾達會議。
- 9、日本投降後，為搶奪占領區，國共衝突不斷，雖經調停談判，但仍因談判破裂而爆發全面內戰。請問：民國 34 年 6 月，在哪一國的調停之下，國共兩黨嘗試以談判來解決紛爭？ (A)英國 (B)美國 (C)德國 (D)法國。
- 10、中共於民國 38 年底幾乎控制了整個中國大陸，迫使國民政府遷往右圖中的何處？ (A)甲 (B)乙 (C)丙 (D)丁。
- 11、中共建立政權後，在外交方面曾採取「一邊倒」的策略，在下列哪一場戰爭爆發後，中共隨即組織志願軍參戰，便是「一面倒」策略的最佳證明？ (A)韓戰 (B)波灣戰爭 (C)越戰 (D)兩伊戰爭。
- 12、承上題，該場戰爭爆發後，下列哪一國曾派第七艦隊協防右上圖中的丁區？ (A)英國 (B)美國 (C)德國 (D)法國。
- 13、下列哪一位中國的領導者在西元 2013 年提出「一帶一路」的構想，目的在推動沿線各國實現經濟政策協調，期待打造與中國可以互相包容、均衡、普惠的區域經濟合作架構？ (A)鄧小平 (B)江澤民 (C)胡錦濤 (D)習近平。

◎請閱讀短文，並回答下列問題：

張學良曾回憶道：「我真的厭倦內戰，……一點意義也沒有。」當時張學良及東北軍在陝北剿共，東北淪陷後，東北軍再也無法回故鄉，其抗日情緒原本就較為激烈，再加以中共不斷對東北軍展開宣傳，呼籲「中國人不打中國人」使得思念故鄉、抗日心切的東北軍士氣低落，張學良也不禁動搖，不願繼續剿共。民國 25 年 12 月初蔣介石飛抵西安，希望穩定不安的局勢。不料，12 月 12 日，張學良等發動兵變，夾持蔣介石。後來在中共代表周恩來與蔣宋美齡的斡旋下，蔣介石願意停止剿共，接受張學良所提出的大部份協議。12 月 25 日張學良護送蔣介石返回南京，結束了這場夾持事件。這場歷史事件使得中共獲利，不僅轉危為安，還得以在抗日的名義下，名正言順的發展勢力，蓄積了中日戰爭後與國民黨分庭抗禮的實力。諷刺的是，抗日統一戰線形成，也促使日軍加速了侵華的腳步，26 年 7 月爆發了中日戰爭。(資料來源：康軒教師手冊)

- 14、中國共產黨自民國十九年起經國民政府多次圍剿，勢力逐漸瓦解，卻因上述短文中敘述的哪一事件而能起死回生？ (A)九一八事變 (B)一二八事變 (C)西安事變 (D)七七事變。
- 15、上述短文提到「當時張學良及東北軍在陝北剿共，東北淪陷後，東北軍再也無法回故鄉，其抗日情緒原本就較為激烈」請問：因下列哪一歷史事件的發生而使東北受控於日人？ (A)九一八事變 (B)一二八事變 (C)西安事變 (D)七七事變。

◎請閱讀短文，並回答下列問題：

西元 1959 年，毛澤東全力推行的「人民公社」與「大躍進」均告失敗，造成數千萬農民餓死及全國自然生態大破壞，毛澤東辭卸了國家主席職位，專任黨主席。但隨即發動「反右傾鬥爭」，整肅了彭德懷等人。西元 1966 年又發動長達十年的「文化大革命」，鼓動青少年組織「紅衛兵」以「打倒走資派」的口號鬥死了劉少奇及一大批幹部，並大量毀壞全國的文物與古蹟。具後來主持「撥亂反正」工作的中共總書記胡耀邦指出，期間中國受難者約達 2 億人。西元 1976 年 9 月，毛澤東病逝，死後即發生政變，隨後在鄧小平主掌下宣告對「文革」全面的否定。(資料來源：康軒教師手冊)

- 16、由上述短文可知，毛澤東推動「文化大革命」的根本原因為下列哪一選項？
(A)推動現代化 (B)全面西化 (C)鎮壓反革命 (D)奪權鬥爭。

※【地理科】第 17-33 題

- 17、全球穆斯林人口最多的單一國家是印尼，而伊斯蘭教甚至並非印尼本土創立的宗教，請問該宗教傳遞至南洋群島的主因為？

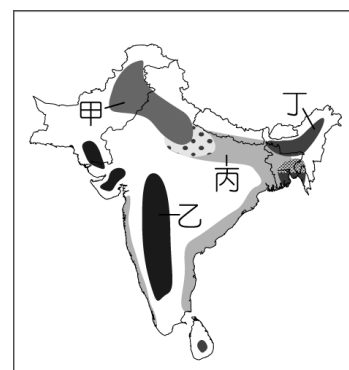
(A)傳教士遠從歐洲前來傳教 (B)因與阿拉伯通商而導入信仰
(C)中國難民逃至南洋群島生根 (D)南洋群島位於海洋航線上

- 18、人間天堂馬爾地夫群島預計在 2050 年消失，主因是某項變化導致印度洋水位逐漸上漲，而全國海拔只有 0.9 公尺的馬爾地夫群島首當其衝，究竟是哪一項全球性變化造成此一嚴重後果？

(A)臭氧破洞 (B)全球暖化 (C)pm2.5 空汙 (D)冰河時期降臨

- 19、印度棉的品質遠近馳名，若根據印度半島的自然環境特色以及棉花適合乾溼分明的氣候來判斷，右圖中哪一個地區為其主要盛產地區？

(A)甲 (B)丁 (C)乙 (D)丙。



- 20、南韓經濟起飛快速採取扶植財團，但也容易產生哪種現象？

(A)官員貪汙收取回扣 (B)中小型企業大幅增加
(C)自由經濟汰弱留強 (D)為保護國內企業而提高關稅

- 21、1967 年東南亞國家為了促進經濟、社會、文化合作，增進人民福祉而成立了下列哪一個組織？

(A)WTO (B)APEC (C)ASEAN (D)WHO

- 22、彥頡參加東南亞自遊行，卻遇到幾位老朋友，下列何者最不可能是出現在這趟旅遊行程中的友人？

(A)遇到力妍在茶園採茶 (B)遇到宗運在海灣挖石油 (C)遇到靜佳在佛寺祈福 (D)遇到逸凡在滑雪場練習

- 23、韓式料理總是免不了以泡菜入菜，請問韓國會習慣於製作醃漬食物的原因為

(A)韓國人無辣不歡 (B)一年三穫豐收吃不完 (C)年僅一至二穫蔬果需保存 (D)研究指出吃泡菜延年益壽

- 24、印度，是個美麗又熱情的國度，但因為文化因素，普通女性在這個國家的地位非常卑微，這一切的不公平均起因於？

(A)封建制度 (B)井田制度 (C)宗法制度 (D)種姓制度

- 25、彥宇打算利用暑假到日本京都求個愛情御守，祈求與暗戀的某個女生感情順利，請問他是到了日本的哪個平原？

(A)關東平原 (B)近畿平原 (C)濃尾平原 (D)東北平原

- 26、生性怕熱與潮濕的睿恩，想去印度向大師學習柔道關節技，請問下列哪個假期最可能適合睿恩去拜訪印度？

(A)春節 (B)中秋節 (C)端午節 (D)清明節

- 27、2010 年時，中南半島面臨了湄公河斷流危機，其原因除了中南半島當年降雨量銳減之外，中國在湄公河上游瀾滄江連續興建 15 個大壩已然成為眾矢之的。請問文中的瀾滄江應該隸屬於中國的哪個區塊？

(A)雲貴高原 (B)四川盆地 (C)橫斷山脈 (D)嶺南丘陵

- 28、某天，日本國民男神政愷竟然在海邊撿到一封瓶中信，進而認識了台灣女孩譜出一段異國戀曲，請問究竟是哪條洋流扮演著這支邱比特的箭？

(A)黑潮 (B)親潮 (C)中國沿岸流 (D)南海洋流

- 29、每年秋天日本各地都有楓紅美景可賞，而就常理判斷，附圖中哪一地區是賞楓客最後的機會？

(A)甲 (B)乙 (C)丙 (D)丁。



- 30、朝陽冬季前往日本旅遊，打算在九州的大分縣泡著地獄溫泉同時配上一盤高檔的生魚片，請問日本漁業豐富和下列哪些洋流的關係最大？(甲)黑潮(乙)南海洋流(丙)中國沿岸流(丁)親潮

(A)甲乙 (B)甲丁 (C)乙丙 (D)丙丁

◎請閱讀短文，並回答下列問題：

寶成集團針對近幾年中國大陸、越南員工抗爭事件頻傳，執行長蔡佩君昨日表示，寶成不會從中國大陸及越南撤資，但她也坦言，未來集團在全球布局的策略上，「會作比例的調整」。

事實上，針對越南勞工權利意識高漲、員工罷工事件頻傳，寶成集團正逐步調整南向政策，未來越南廠確定不會再擴廠，南向投資擴廠腳步，則轉向勞動環境相對穩定的印尼、緬甸等國家。

寶成統計，2017 年共生產 3 億 2,460 萬雙鞋，越南、印尼及中國大陸分別占總產量的 45%、36%和 17%，其他包括柬埔寨、孟加拉及緬甸約占 2%。今第 1 季則生產 7,660 萬雙鞋，越南、印尼及中國大陸分別占總產量的 44%、39%、15%。其中，印尼占比逐漸提升。

蔡佩君主動接受媒體訪問，她強調，寶成絕對沒有撤出中國大陸與越南的動作，對於員工抗爭事件不斷，寶成未來會加強與員工的溝通，並且持續在越南深耕。

改編自 2018-06-16 01:54 經濟日報 越南罷工頻傳 寶成：不會撤資

31、請就文章分析，目前寶成集團的製造部門主要布局在全球的？

(A)南亞 (B)東南亞 (C)中亞 (D)西亞。

32、臺灣許多的製造業早期都轉往大陸發展，而很明顯寶成集團已逐漸自中國轉移出去，請問最主要原因可能是？

(A)薪資高低 (B)素質高低 (C)人數多寡 (D)政治局勢。

33、與日本企業類似，寶成集團製造與行銷部門分布於不同國家，這樣的情況可用哪個專有名詞來形容？

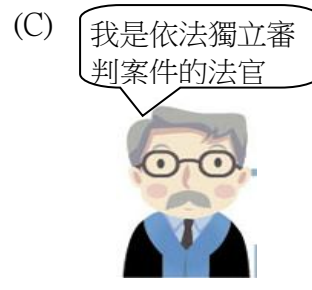
(A)布局全球 (B)異業結盟 (C)自產自銷 (D)跨國製造。

※【公民科】第 34-50 題

34、暑假將至，學生瘋打工，也需注意相關的法規規定。下列關於我國《勞動基準法》的規定那些是正確的？(甲)雇主不可以要求 15 歲以上未滿 16 歲者從事危險性的工作 (乙)雇主僱用童工不需經法定代理人同意 (丙)童工一日工作不得超過八小時，但假日可以工作 (丁)為保護自身安全，打工前要先熟悉法令規定

(A)乙丙 (B)乙丁 (C)甲丁 (D)甲丙。

35、下列四位司法人員職業的說明，何者**錯誤**？



36、民事訴訟採__級__審，刑事訴訟採__級__審，行政訴訟採__級__審。上述空格依序為？

(A) 3, 3, 2, 2, 3, 3 (B) 3, 3, 3, 3, 2, 2 (C) 3, 3, 3, 3, 3, 2 (D) 2, 2, 2, 2, 2, 3。

37、刑事上非常重要的「無罪推定」原則：被告未經審判確定有罪前，推定其為無罪。這是維護人權的重要觀念。請問下列何者為法律上認定的「**有罪之人**」？

(A)被法官判處 3 年有期徒刑定讞的阿德 (B)檢察官偵查終結後，提起公訴的小蝦
(C)服刑滿後，出獄的更生人超哥 (D)因搶奪他人錢包，正被群眾追捕的吳用。

38、有關「中華民國仲裁協會」(如右圖)所處理的權利救濟方式，下列敘述何者正確？

(A)仲裁可運用於商業行為、民事與非告訴乃論的刑事糾紛
(B)由仲裁人處理有關現在或將來的爭議
(C)仲裁庭是由政府官員以及民意代表所成立的
(D)仲裁結果的效力與和解契約相同。



39、(2019/06/06 關鍵評論)「台鐵 6432 車次普悠瑪列車在去年 10 月 21 日在宜蘭新馬站前出軌翻覆，造成 18 死兩百多傷，宜蘭地方檢察署歷經 228 天追查，今日偵結，將涉案的司機員尤振仲、台鐵局副總工程司柳燦煌、綜合調度總所所長吳榮欽等三人依「業務過失致死」等罪嫌提起□□。」根據內文判斷，文中的□□最可能是下列哪一項概念？

(A)公訴 (B)自訴 (C)告發 (D)告訴。

40、根據右表，四人年齡**由大到小**依序排列應為下列者？

(A)甲乙丙丁 (B)乙丙甲丁
(C)乙甲丙丁 (D)丙乙甲丁。

甲	我是童工，不可從事繁重及危險的工作
乙	去年總統大選，終於符合投票年紀，投下人生中的第一票
丙	今天開始不再受到《兒童及少年福利與權益保障法》的保護
丁	我若犯罪將不受《刑法》處罰，因為我屬無責任能力之人

41、15 歲的國中生阿民到網咖玩電腦，後來累到睡在

網咖，直到凌晨 3 點，被警方進行臨檢查獲。請問：警方可能採取哪一措施來處理深夜留連網咖的阿民？(A)將阿民安置於中途學校中，接受特殊教育 (B)將阿民移送至少年法庭，接受刑罰處罰 (C)對阿民父母處以罰鍰，並令其接受親職教育 (D)將收容阿民的業者移送法辦，並處以刑罰。

42、承上題，上述事件應適用下列哪一法律？

(A)《刑法》 (B)《勞動基準法》 (C)《兒童及少年性剝削防治條例》 (D)《兒童及少年福利與權益保障法》。

43、芳慈將社會糾紛的案件大致做整理，結果如右表所示。根據表中內容資訊判斷，下列何者說明正確？

事件類別	件數(件)
民事事件	40
告訴乃論刑事案件	23
非告訴乃論刑事案件	120

- (A)當事人可以聲請調解委員會調解的件數共 40 件
 (B)應由行政法院審理的件數共 120 件
 (C)檢察官應主動進行偵查的件數共 143 件
 (D)可經由和解方式直接解決的件數共 63 件。

◎【閱讀理解題】第 44-50 題，請閱讀下列各則短文，並回答問題：

【2019/5/26 中央社】根據台灣□□法院公布的行政訴訟判決書，有業者引進日本的拉麵品牌在彰化市開店，來自日本的主廚未經許可在店內工作，彰化縣政府認為業者的行為已違反就業服務法 44 條外籍人士不得在台工作的規定，處罰鍰新台幣 15 萬元，詹姓業者不服提訴願被駁回，於是向法院提出行政訴訟。法官根據網路照片，發現日籍人員掛名主廚，有在店內煮麵，且業者在店內懸掛有人名的布條，業者雖辯稱布條是日籍人員自行製作，照片是部落客拍的，說詞不可採，而日籍人員縱然沒有實際料理，但也有技術指導，仍應取得許可，因此駁回業者的行政訴訟。

- 44、依上文所述，業者提出的行政訴訟，審理的□□法院的機關為下列何者？
 (A)地方行政法院 (B)高等行政法院 (C)地方法院行政訴訟庭 (D)最高行政法院。
- 45、請問上述內容與下列哪一事件的管轄法院相同？
 (A)鄰居兩人嫌隙已久，日前發生口角，雙方決定私下和解
 (B)對交通裁決所作成的裁決書不服，例如超速裁決書新臺幣 1,200 元，找管轄法院提出訴訟
 (C)對於高達 1 億元債務求償的二審判決不滿，決定提出再上訴到最高法院
 (D)工傷的勞工，與資方針對賠償金額談不攏，決定交由仲裁庭決定。

中心里里民小王與阿民與細故發生口角，雙方正準備上演全武行，里長在里民緊急電話通知下，趕緊趕往現場排解糾紛，充當和事佬。雙方當事人在里長的勸解下，終於握手談和，並允諾不會再有後續追究行為。

- 46、從上文得知，雙方化解衝突的方法，較屬於下列哪一種權利救濟？(A)訴訟上和解 (B)訴訟外和解 (C)仲裁 (D)訴訟。
- 47、若該地區位於台北市北投區，雙方還是決定要透過調解來解決，可以到下列哪一個機關的「調解委員會」聲請？
 (A)台北市社會局 (B)台北市警察局北投分局 (C)北投區公所 (D)中心里長辦公室。

【2019/3/22 自由】電玩遊戲大廠智冠科技，提告河洛遊戲公司製作的「俠客風雲傳」，抄襲智冠的「武林群俠傳」，智慧財產法院調查發現，「俠客風雲傳」的角色、對話、武器等均與「武林群俠傳」極度相似，認定河洛公司侵害智冠著作權，今判河洛及河洛徐姓負責人須賠償 2400 萬元，且不得再繼續散布「俠客風雲傳」，並在報紙頭版刊登判決主文，可上訴。

- 48、上文中的訴訟，主要涉及到違反下列哪一個法規？(A)著作權法 (B)消費者保護法 (C)公平交易法 (D)商標法。

【2019/6/4 Ettoday 改編】立法院日前三讀通過《少年事件處理法》部分條文修正草案，司法院指出，此次總計異動 32 條條文，是《少事法》1997 年修正公布 87 條條文以來，最大幅度的修正。本次修正共有四大重點：廢除觸法兒童準用《少事法》規定、曝險少年去標籤，縮減司法介入事由、建置曝險少年行政輔導先行機制、尊重少年主體權及保障程序權。司法院認為，這將翻轉少年虞犯的印記，回歸教育、社政體系。

- 49、此次修的法規其所稱的少年，是指下列何種年紀的人？
 (A)14 歲以上，未滿 18 歲 (B)7 歲以上，未滿 20 歲
 (C)14 歲以上，未滿 20 歲 (D)12 歲以上，未滿 18 歲。
- 50、依現行的《少事法》中，有關「少年刑事案件」與「少年保護事件」的比較，下列敘述何者為非？
 (A)前者適用法律為「刑法」，後者則為「少年事件處理法」
 (B)前者適用最輕本刑 5 年以上之有期徒刑
 (C)滿 12 未滿 14 歲觸犯刑罰法律者，適用後者
 (D)檢察官會出現的場景為後者。



試題完成，記得再檢查一遍答案卡與試卷，並務必自己的答案抄寫於題目卷以利於檢討。