

臺北市立新民國中 110學年度 第二學期 九年級社會領域 第一次段考試卷

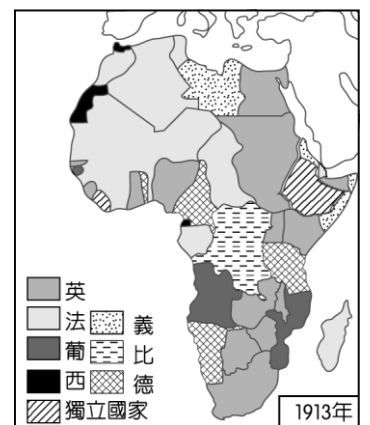
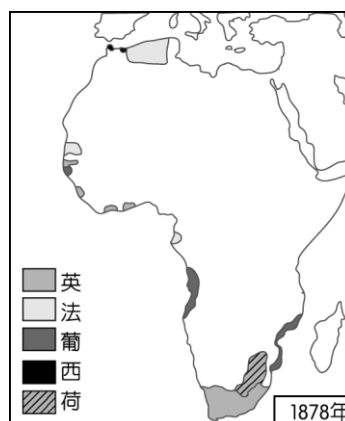
九年 班 座號： 姓名：

一、單選題(1-50題，每題2分)

※【歷史科】第1-17題，每題2分

- 維拉日前確診新冠肺炎(Covid-19)。政府為了匡列確診前後期間與她有接觸的對象，因此公布她在此段時期的足跡。7月14日她參加了一場歷史遺跡導覽，部分內容如右圖所示。請問：維拉參加的導覽主題與下列何者相關？
(A)法國大革命 (B)獨立戰爭 (C)拿破崙失勢 (D)工業革命。
- 阿聖閱讀某一本歷史名人傳記中提到：「他是歐洲史上少數真正明瞭戰爭是政治延伸的人，他總是朝著其能夠達成的目標而努力，並善用各種軍事外交政策促成國家統一，而他也被稱為『鐵血宰相』。」請問：上述的「他」可能是下列哪一位歷史人物？
(A)玻利瓦 (B)加富爾 (C)俾斯麥 (D)拿破崙。
- 「由於『他』的努力，現今委內瑞拉、祕魯、哥倫比亞、厄瓜多、玻利維亞和巴拿馬，這六個國家紛紛從『甲國』殖民統治中解放出來，獲得獨立。」請問：上述的「他」和「甲國」分別是下列何項？
(A)玻利瓦、西班牙 (B)俾斯麥、神聖羅馬帝國 (C)門羅、葡萄牙 (D)拿破崙、鄂圖曼帝國。
- 小竹與朋友籌備一齣關於法國大革命的劇本，下列何者提出的臺詞，最可能被收入劇本中？
(A)阿凱：「我們在國會中沒有代表，是國家和國王失信於我們，因此我們堅決不納稅！」
(B)阿均：「農村擠滿由城市前來謀生的人，工廠建立嚴重影響生活品質。」
(C)仁和：「我們的政府應採行三權分立原則，並實施聯邦制。」
(D)小維：「聽巴黎來的人說，現在巴黎市民已經推派領導人組織反抗活動。這個風氣若不停止，我們也可能受到波及！農民的怒火勢必延燒到我們貴族身上！」。
- 「西元1834年，他們為了促進境內的工商業發展，成立『關稅同盟』，取消部分邦國之間的關稅，加速彼此的經濟交流，奠定了日後統一的經濟基礎。」請問：上文所述最有可能是右圖中哪個地區的統一過程？(A)甲 (B)乙 (C)丙 (D)丁。
- 發生於十八世紀的美國獨立運動和法國大革命，反抗暴虐的殖民政權及專制王權，人民力量獲得空前勝利，並在保守的歐洲政局掀起濤天巨浪。請問：下列何項是兩者的共同處？
(A)革命的發生均受到啟蒙運動的影響 (B)革命後均制定三權分立的憲法
(C)革命過程均處死國王 (D)革命結束後均建立維繫百年以上的共和政府。
- 柴克在有關世界史的書中看到一則有趣的漫畫(如右圖)，描繪一位將領為其國王穿上馬靴，意指將領將其所收復的領土獻給國王。請問：關於這則漫畫的時空背景，下列哪一項論述才是正確的？
(A)俾斯麥主張鐵血政策以促成建國大業 (B)江戶幕府將政權歸還給明治天皇以表效忠
(C)美國總統主張歐洲不應干涉美洲事務 (D)加里波底以軍事行動支持義大利建國大業。
- 西元19世紀前期開始，拉丁美洲展開風起雲湧的獨立運動，此時美國總統門羅發表宣言，有助鞏固各國的獨立，請問：《門羅宣言》的主要內容應為下列何者？
(A)人人生而平等，天賦人權不容剝奪 (B)以正統為原則，主張恢復各國王室統治權
(C)美洲事務由美洲國家解決，反對歐洲干預 (D)推廣自由、平等、博愛的精神，喚醒民族意識。
- 法國大革命看似為單一事件，實則延續將近百年，不少史學家甚至會將法國大革命分期研究。而在大革命期間，拿破崙是相當重要的人物。下列有關於拿破崙在大革命期間的行為，何者錯誤？
(A)多次打敗反法聯軍，並建立其個人聲望 (B)雖然受人民愛戴，但卻堅決不願意稱帝
(C)《拿破崙法典》對歐洲影響深遠 (D)西元1812年曾征討俄國，卻以失敗收場。
- 右圖是小婷在書上看到的插圖。請問：這二幅圖的變化最能顯示下列何者在非洲的發展？
(A)民族自決 (B)門羅宣言 (C)帝國主義 (D)鎖國政策。
- 西元1776年出現一段文字：「人人生而平等，造物者賦予他們若干不可剝奪的權利，包含生命、自由與追求幸福的權利。」下列何者可能是此段文字出現的背景？
(A)瓦特改良蒸汽機 (B)北美十三州對抗英國政府
(C)法國國王召開三級會議 (D)英國向法國宣戰。

08:00-09:30：在巴黎古監獄感受犯人等待行刑的痛苦心情。
09:45-10:30：在協和廣場沉思國王路易十六與皇后遭處決的原因。
11:20-12:30：在巴士底廣場體會當時平民抗議的憤怒情緒。



- 12、有個英國人宣稱：「白人為了生存競爭，已擊敗其他民族。我們將統治全世界次等落後的種族，以促進人類的進化，這就是我們白種人的負擔啊！」請問：這種想法反映當時歐洲人的何種心態？
 (A)民族主義的觀念 (B)社會主義的理想 (C)達爾文的進化論 (D)社會達爾文主義。
- 13、附圖畫中的巨人象徵美國，巨人手中一艘艘的船隻象徵拉丁美洲各國。對於這幅漫畫的解讀，下列何者正確？ (A)這幅漫畫出現的時間應在十七世紀 (B)拉丁美洲各國追隨美國的腳步加入帝國主義行列 (C)拉丁美洲各國希望與美國合作，脫離西、葡兩國的統治 (D)諷刺美國干預拉丁美洲的事務。



◎題組題：

附表是工業革命期間一些重要的發明。請根據表中內容，回答下列問題：

發明者	國籍	年代(西元)	發明物
約翰·凱	(甲)	1733年	飛梭
詹姆斯·瓦特		1781年	蒸汽機
漢·戴維		1815年	礦工燈
喬治·史蒂芬生		1829年	蒸汽火車頭

- 14、從工業革命的發源地推論，表中的甲應為下列何者？ (A)美國 (B)法國 (C)英國 (D)德國。
- 15、從表中「發明物」的發明時間來看，工業革命應從哪一種產業的技術革新開始？
 (A)運輸業 (B)採礦業 (C)紡織業 (D)印刷業。
- 16、生產技術的改進使工廠制度應運而生，也造成了許多問題，例如鍋爐的操作者可能就是薪資微薄的童工，這是工業革命產生的哪一種負面結果？ (A)勞工被當作生產工具來剝削 (B)人口大量流往鄉村 (C)資本主義學說因而逐漸興起 (D)社會主義的弊端漸為人重視。
- 17、下列哪一學說的出現，曾對上述的現象提出批評，期盼能改善此種情形？
 (A)人文主義 (B)社會主義 (C)天賦人權 (D)主權在民。

※【地理科】第 18-33 題，每題 2 分

- 18、臺灣某縣市沿海有許多沙岸和風成地形景觀，當地居民對這些地形會有不同的稱呼。例如：居民會將沙洲稱為「汕」、海邊或河邊的沙丘稱作「崙」。因此該縣市就有稱為二崙和崙背的鄉鎮地名。請問：上文中的縣市應是下列何者？
 (A)雲林縣 (B)花蓮縣 (C)澎湖縣 (D)苗栗縣
- 19、臺灣在古書中曾被記為「大員」，當時大員是指今日臺南市 安平區一帶，其自然環境最接近下列何者？
 (A)岬角灣澳互見的曲折岩岸 (B)船隻易觸礁的珊瑚礁海岸
 (C)山地丘陵沒入海中的崎嶇谷灣 (D)有沙洲與外海相隔的平靜海域
- 20、宜蘭名稱的由來與原住民語有關，其最可能是指下列哪一個族群？
 (A)太魯閣族 (B)噶瑪蘭族 (C)西拉雅族 (D)賽德克族
- 21、北投古名「巴島」的由來，根據考證其原由為？
 (A)原住民語的客語諧音 (B)平埔族的「溫泉」一詞 (C)平埔族的「女巫」一詞 (D)清朝皇帝賜名
- 22、下列選項為兩個不同縣市的地名組合，其中哪一組的地名源起皆與「位在河川匯流處」有關？
 (A)新北市 雙溪區、嘉義縣 溪口鄉 (B)花蓮縣 花蓮市、臺東縣 池上鄉
 (C)嘉義縣 布袋鎮、桃園市 龍潭區 (D)臺東縣 東河鄉、新北市 汐止區
- 23、請問古名「水尾」，後因水尾的發音近似日文的詞句而改名者為下列何者？
 (A)池上 (B)松山 (C)麻豆 (D)瑞穗
- 24、阿甲發現臺灣北部的深澳、鼻頭角、三貂角、卯澳等地名，其命名皆與該地的地形景觀有關。請問：形成這些地形的作用力最可能是下列何者？
 (A)風力堆積 (B)火山作用 (C)河流堆積 (D)海水侵蝕
- 25、澎湖之名稱由來，與地勢低平和島嶼周圍的水域有關。請問：造成當地地勢低平的主要原因為下列何者？
 (A)火山作用 (B)河流沖積 (C)風力侵蝕 (D)海水堆積
- 26、臺灣某行政區內出現許多如鹽埕、鹽埕埔等，與傳統晒鹽、製鹽產業有關的地名，顯示此地過去的傳統產業。請問：該行政區最可能位於臺灣的哪一個區域？
 (A)北部區域 (B)南部區域 (C)中部區域 (D)東部區域
- 27、下列哪一個地名是由噶瑪蘭族對猴子的稱呼，由漢人依其發音轉化與雅化而成？
 (A)頭城 (B)壯圍 (C)羅東 (D)蘇澳
- 28、地名是一地居民根據該地地理特徵所給予的稱呼。下列的鄉鎮市區地名中，哪些是根據該地的「自然環境」命名？

(甲)屏東縣 恆春鎮 (乙)高雄市 鹽埕區 (丙)苗栗縣 大湖鄉 (丁)臺南市 官田區

(A)甲乙 (B)甲丙 (C)乙丙 (D)丙丁

29、小慧調查某一地理區內的地名後，發現該區域內以「坑」、「寮」、「屋」、「窩」為名的地名出現次數最多。請問：小慧所調查的地理區最可能位於下列何處？

(A)臺北盆地 (B)蘭陽平原 (C)苗栗丘陵 (D)嘉南平原

30、舊名半線的彰化，其現在的名稱與哪一個命名由來有關？

(A)源於方位 (B)源於原住民語 (C)源於自然環境 (D)源於皇帝賜名

◎請閱讀短文，並回答第 31~33 題：

某種產業在台灣發展甚早，從荷蘭人來台期間，鼓勵種植甘蔗，清朝治台期間，各地大量生產，到了日治時期，此業成為台灣出口主要產品，全台紛紛建立現代化工廠，巨大的工廠在田野中聳立。1930 年左右，該產業經濟發展到最高峰，曾經佔台灣外銷出口值的一半，富裕了國家更帶動許多城市的發展。而從百年前的興盛，到現今的落寞，該產業在台灣面臨一個歷史分水嶺，如果只將留存的百年工廠，視為土地開發的利益，無視文化上的價值，以及對於社區再造的動力，終有一天，只會成為照片裡的幻影，永遠失去甜蜜的滋味。

改寫自我們的島：台灣蔗糖的晚年紀事

31、根據文章資訊判斷，下列哪一個地名與該產業最為相關？

(A)樟腦寮 (B)鹹菜甕 (C)興化廊 (D)油車口

32、根據文章所描述，此種產業應該主要集中在台灣的哪一區域？

(A)北部區域 (B)南部區域 (C)中部區域 (D)東部區域

33、承上題，此產業活動集中在某區域的主因為？

(A)自然環境 (B)交通條件 (C)人口分布 (D)歷史背景

※【公民科】第 34-50 題，每題 2 分

34、家儀擔任某公司的總經理，她連電腦打字的速度都比祕書還快，但家儀寧可請祕書繕打文件，以節省時間來讓自己專心從事商業上的談判。上述家儀的決定應是基於下列何種經濟理論來考量？

(A)機會成本 (B)壓榨剝削 (C)生產資源 (D)公平正義。

35、下列何者不屬於文化的範圍？(A)今年國中會考預計在 5 月 21、22 日舉行 (B)每年 3-7 月為台灣藍鵲的築巢繁殖期 (C)國防部為提升後備戰力，今年開始 14 天新制教育召集 (D)立法院擬 3 月底審 18 歲公民權修憲案。

36、2 月 21 日為聯合國(UN)訂定的「國際母語日」(International Mother Language Day)強調語言是文化生活的核心，多語言使用促進文化間的溝通交流與教育發展，保護與傳承少數民族的文化與知識，世界各國應尊重與維護少數民族的語言。請問：「國際母語日」的訂定，有助於達到下列何種目標？(A)擴大跨國企業的影響範圍 (B)傳播強勢文化的價值觀念 (C)促進多元文化並存的現象 (D)加速弱勢文化的經濟發展。

37、苡瑄為了期末報告上網搜尋到「科技產業資訊室」(<https://iknow.stpi.narl.org.tw/Default.aspx>)網站有篇報導附圖如右，請問此圖突顯以下哪一個概念的重要性？(A)文化全球化下的衝突 (B)國際組織的跨國議題 (C)本土文化認同的危機 (D)全球化下的國際分工。

38、承上題，蘋果手機生產分布展現何種面向的全球化現象？

(A)政治全球化 (B)環境全球化 (C)文化全球化 (D)經濟全球化。

39、全球化使世界成為一個關係緊密的「地球村」，某國發生的事件往往產生跨越國界的影響。下列哪些事件顯示出「全球化」現象？(甲)搭乘飛機、郵輪到世界各地旅遊，無意中也傳播「新冠病毒」到世界各地 (乙) 2021 年台灣半導體產值已突破 4 兆元，卻同時成為地緣政治下各國爭奪的焦點 (丙)全球大部分的電子廢棄物都流向第三世界國家處理 (丁)紅遍歐美的韓國戲劇《魷魚遊戲》獲得「美國演員工會獎」最佳男演員與最佳女演員獎項

(A)甲乙丙丁 (B)甲乙丁 (C)甲丙丁 (D)乙丙丁。

40、《國家語言發展法》通過後，依規定自 111 學年起，中小學生必修本土語言，包括閩南語、客語、原住民語、馬祖的閩東語和手語。未來國小、國中學生每周都要必修一節本土語言，高中則建議在高一必修兩學分，高二、高三則可開設加深加廣選修，提供對台灣文學等領域有興趣的學生選修。政府主要基於什麼理念而要開設本土語言課程？

(A)順應民主潮流 (B)保存多元文化 (C)促進經濟的發展 (D)提升教育程度。

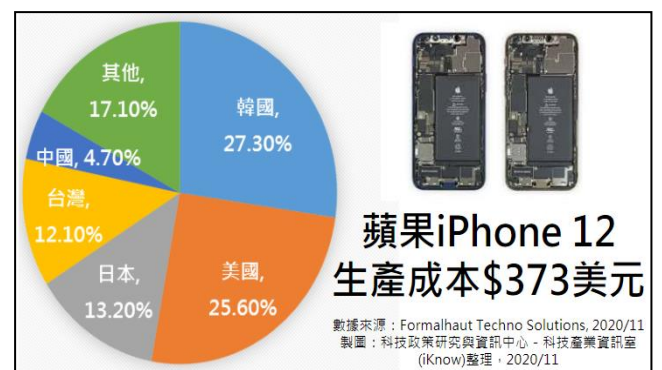
41、西元 2020 年新冠肺炎(COVID-19)疫情肆虐全球，各國人民的生命遭受極大威脅。下列哪一個國際組織提供各國有關病毒的資訊及防疫措施？

(A)國際公平貿易標籤組織

(B)國際勞工組織

(C)世界衛生組織

(D)世界貿易組織。



◎題組題：

題組一：右表是甲國和乙國分別從事小麥與羊毛生產的年產量，若兩國決定依據機會成本進行生產分工，請依據表中資料回答下列問題：

	甲國	乙國
小麥	40	30
羊毛	50	?

單位：萬噸

- 42、已知甲國負責生產羊毛；而乙國生產小麥，請問表中「？」的數字應為下列何者？根據表格內容判斷，表中的『？』最可能為下列何者？
(A)30 (B)40 (C)50 (D)60。
- 43、承上題，下列關於甲國國內種植小麥的農夫和消費者的推論，何者最為正確？(A)小麥國內種植的數量會較之前增加 (B)小麥農夫將更易把產品出口至乙國 (C)消費者會拒絕購買外國進口的小麥 (D)消費者有較便宜的小麥麵粉可購買。
- 44、各國若想在經濟全球化的挑戰與洪流中生存，應如何面對才較為正確？ (A)裁減或剝削員工到極制 (B)放棄生產產品轉向純消費國家 (C)以極低削價競爭方式去販售商品 (D)提升本國自己商品的競爭力。

題組二

- 45、(2022/02/27 中央社)「俄羅斯入侵烏克蘭，美國政府祭出制裁反制，表示將切斷俄國半數高科技產品進口，打斷俄國經濟多元化與支撐軍事的能力。我國的台積電在內的全球電腦晶片業者已開始停止向俄國銷售。」上述的報導內容主要涉及了全球化的哪些面向？ (A)政治、文化 (B)政治、經濟 (C)經濟、文化 (D)政治、經濟、娛樂。
- 46、此次俄烏戰爭，臉書(Facebook)、Google 的串流影音平台 YouTube 都禁止俄羅斯官方媒體投放廣告，並暫時禁用 Google ap 在烏克蘭提供的即時交通資訊功能，防止外界知道哪些路線有平民移動。手機大廠蘋果 (Apple) 也限制 Apple Pay 的部分服務，俄羅斯國營媒體「今日俄羅斯」(RT) 和「俄羅斯衛星通訊社」(Sputnik) 的新聞應用程式也無法在俄國以外地區下載，同時關閉蘋果地圖在烏克蘭的交通和即時路況功能。從上述內容中，可以看出何種因素在全球化的重要性？
(A)資訊科技的發達 (B)本土企業的投資 (C)交通運輸的頻繁 (D)國際組織的成立。

題組三

- 47、老闆僱用小偉、大智、阿雯為店員，並計畫選出其中二人合作製作煎餃與包子，右表為此三人工作成效的資訊。老闆發現依比較利益法則（機會成本）分工，小偉不論與誰合作，皆是負責製作包子；而大智不論與誰合作，皆是負責製作煎餃，根據表中資訊判斷，下列對應關係何者正確？ (A)甲：小偉，乙：大智，丙：阿雯 (B)甲：大智，乙：小偉，丙：阿雯 (C)甲：阿雯，乙：小偉，丙：大智 (D)甲：小偉，乙：阿雯，丙：大智。【109 會考】

店員\產品	包子	煎餃
甲	50	60
乙	50	50
丙	40	50

單位：個/小時

- 48、承上題，三人分工的方式就像國與國之間的分工貿易，都是運用下列何種方式進行分工較具有效率？
(A)選擇銷貨收入高的來分工(B)選擇機會成本低的來分工(C)選擇機會成本高的來分工(D)選擇銷貨收入低的來分工。

題組四

(2022/02/15 工商時報) 必勝客再推出「Hot 台味」超狂新品！端出國際認證台灣夜市美食代表之一「蚵仔煎」，結合鹹香酥脆的「蝦猴酥」，創作出 2022 台味鉅作「蝦猴酥蚵仔比薩煎」，號稱「只有必勝客可以超越必勝客」。

必勝客「蝦猴酥蚵仔比薩煎」集結「蚵仔煎」美味精華，粒粒肥美多汁的嘉義東石鮮蚵、金燦誘人的雞蛋絲與脆甜爽口小白菜，再以台式必備辛香料蒜頭與辣椒提味。最後鋪滿炸得金黃酥脆的「蝦猴酥」在比薩上，散發濃濃鹹香，一口咬下「卡滋卡滋」迷人聲響，非常犯規！再結合奶香四溢的帕馬森起司、濃郁莫札瑞拉起司、特調甜辣醬，完美神還原「蚵仔煎」、「蝦猴酥」的鹹香美味！搭配口感蓬鬆、清爽不油膩的舊金山手工餅皮，迸發驚奇好滋味，保證義大利人吃了之後絕對不會生氣，而是驚嘆叫好！



- 49、請問：下列哪一個概念可以說明上述飲食的特色？
(A)文化傳承 (B)文化資產 (C)文化位階 (D)文化創新。
- 50、面對上文的新品種比薩，國人秉持什麼態度較符合多元文化趨勢？
(A)本土美食文化認同的危機 (B)強勢文化已同化弱勢文化 (C)多元包容態度面對此創新 (D)堅持台灣小吃不可更動性。

試題完成，記得再檢查一遍答案卡與試卷，並務必將自己的答案抄寫於題目卷上，以利試後檢討。