


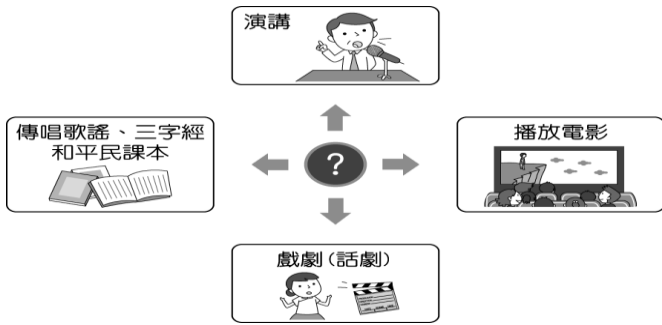
臺北市立新民國中 110 學年度 第二學期 七年級社會領域 第二次段考試卷

七年 班 座號： 姓名：

單選題(共有 50 題，請掌握好答題時間。)

※【歷史科】第 1-17 題，每題兩分

1. 下左圖的漫畫說明了日本治臺時期某個組織舉辦的活動，希望藉由這些活動能啟迪民智。請問：這個組織為何？



- (A)臺灣議會設置請願運動 (B)臺灣文化協會 (C)臺灣民眾黨 (D)臺灣地方自治聯盟。
2. 上右圖為 1940 年代的一則舊剪報，當時此事件造成臺灣民情激憤，演變成後來一連串事情的導火線。請問：剪報中所報導的事件為何？
- (A)二二八事件 (B)國共內戰 (C)日本戰敗投降 (D)實施白色恐怖。
3. 日本治臺時期，總督府在教育政策方面，主要採取何種原則以貫徹殖民政策？
- (A)差別待遇，隔離政策 (B)人人入學、機會平等 (C)強制入學政策 (D)十二年一貫國民義務教育方針。
4. 在第一次世界大戰之後，臺灣的青年因為受到何種風潮的影響，引起日本人的恐慌，而使得殖民政策緩和下來？
- (A)英國自由主義 (B)帝國主義 (C)民族自決思潮 (D)亞洲團結組織思想。
5. 某一紀念碑落成典禮上，主席致詞說：「希望臺灣類似的悲劇永不再發生，因此事件而喪失寶貴生命的本省籍與外省籍同胞，其英靈能得到最大的慰藉，也希望日後我們永遠沒有省籍問題……。」請問此一紀念碑乃因下列哪一事件而設置？
- (A)霧社事件 (B)二二八事件 (C)西來庵事件 (D)第二次世界大戰。
6. 日治時期，為了在臺日人的就學需求，設立了當時全臺唯一一所大學，這所大學至今依然存在。請問是下列哪間大學？
- (A)國立政治大學 (B)國立臺灣師範大學 (C)國立臺北教育大學 (D)國立台灣大學。
7. 哲夫是生活在日本治臺時期的臺灣人。請問：下列何者可能是他會有的生活經驗？
- (A)在街上隨時可以見到男人綁著大辮子 (B)可以請日本友人一起吸食鴉片，吞雲吐霧，警察不會來抓 (C)依據火車時刻表出差洽公 (D)讓女兒纏足以便許配好人家。
8. 國民政府在國共內戰期間，為加強應變能力，明確規範政治運作，制定哪一法源授予總統緊急處分的權力？
- (A)《戡亂時期檢肅匪諜條例》 (B)《戒嚴令》 (C)《動員戡亂時期臨時條款》 (D)《總統副總統選舉罷免法》。
9. 下列哪些政府的作法，會影響到原住民在身分認同、語言文化、傳統土地權等方面，遭到衝擊或喪失？(甲)政府要求原住民以「漢名」登記戶籍；(乙)政府透過學校教育，推行說國語運動；(丙)政府劃設山林保護區或設立國家公園；(丁)政府同意原住民的訴求，給予其「正名」，制定並通過法律保障其人權
- (A)甲乙丁 (B)乙丙丁 (C)甲乙丙 (D)甲丙丁。
10. 政府遷臺不久，有人以五四傳統自居，辦雜誌以提倡自由主義與民主制度，但後來以「涉嫌叛亂」的罪名被逮捕。請問：此人為何？所辦的雜誌為何？
- (A)林獻堂，《臺灣日日新報》 (B)蔣渭水，《臺灣民報》 (C)黃信介，《美麗島》 (D)雷震，《自由中國》。
11. 1949 年因應國共內戰，防止共產思想而宣布戒嚴。1987 年，在歷經長時間的戒嚴後，正式宣布解除戒嚴。請問先宣布戒嚴及後廢除戒嚴是下列哪兩人？(A)陳誠 蔣經國 (B)陳儀 蔣經國 (C)蔣中正 李登輝 (D)雷震 蔣經國。
12. 曉慧整理日本治臺時期的政治社會運動資料，她發現不管是哪一個組織與活動大約都在 1930 年代時結束。請問：這些社會運動的沉寂最有可能是下列哪一個原因？
- (A)中日戰爭爆發 (B)日臺合一政策的成功 (C)社會風俗的演變 (D)「工業日本，農業臺灣」政策的推行。
13. 這是臺灣第一個合法政黨，該團體自許為改革先鋒，以「實現政治、經濟、社會自由」為目標，最後因為政府的打壓，而被迫解散。請問：這個組織應為何？
- (A)臺灣文化協會 (B)臺灣民眾黨 (C)臺灣地方自治聯盟 (D)臺灣議會設置請願運動。
14. 「這次二二八事件的發生，我們的目標在肅清貪官汙吏，爭取本省政治的改革，不是要排斥外省同胞，我們歡迎你們來參加這次改革本省政治的工作，以使臺灣政治的明朗，早日達成……」。上文的發表者應為下列何者？
- (A)陳儀 (B)陳誠 (C)二二八事件紀念基金會 (D)二二八事件處理委員會。
15. 李昱光想了解從大陸淪陷之後、國民政府遷臺到現在中華民國歷任總統先後重要施政。他找到這些總統的名單，有 (甲)蔣經國 (乙)李登輝 (丙)蔡英文 (丁)蔣中正 (戊)陳水扁 (己)馬英九 依其就任先後順序排列應該為下列何者？
- (A)丁乙己丙戊甲 (B)丁甲己乙戊丙 (C)甲丁戊乙己丙 (D)丁甲乙戊己丙。

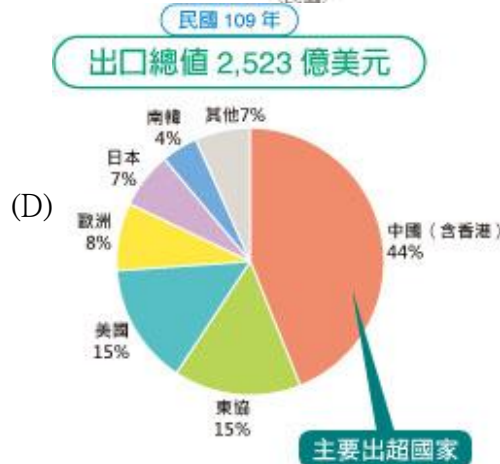
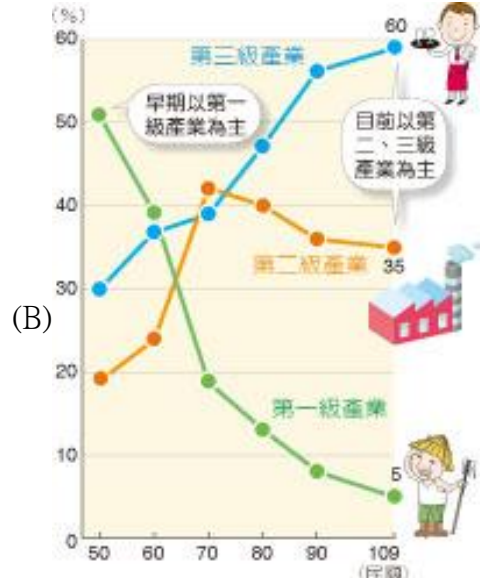
二、題組

1907年4月，27歲的他首次往遊日本東京，曾至橫濱拜訪梁啟超未遇，惟於途次奈良，寓某旅社，邂逅梁啟超（廣東南海新會人）。當時隨行的甘得中任翻譯，由於甘君的普通話不大高明，而梁啟超的廣東腔普通話亦實難懂，故間雜以筆談。梁啟超初落筆即曰「本是同根、今成異國、滄桑之感、諒有同情」「今夜之遇、誠非偶然」，其傷時懷世之情，幾使為之淚下。晤談中梁啟超告以三十年內中國斷無能力救援台胞，警告台人切不可輕舉妄動而無謂犧牲，最好倣效愛爾蘭人對付英國的方法，即厚結日本中央政界顯要，以先牽制台灣總督府，使其不敢過份壓迫台人。梁啟超此一掬誠相告與真知灼見，不但使他銘記在心，並予其重大啟發，奠定其往後採行溫和式社會文化運動的大方針。當時，他並即邀得梁氏來台一遊。與中國近代知名的政治改革家梁啟超的這番深談，讓他決心以非武力抗爭的方式進行政治運動。請問：

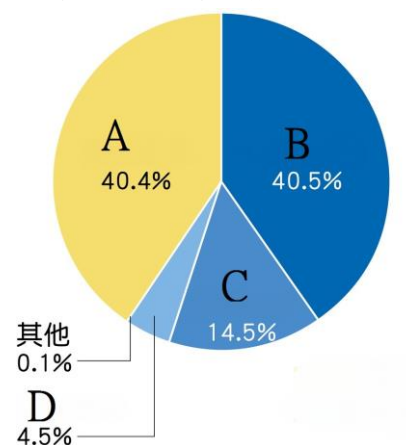
16. 上文中的人物為下列何人？ (A)林獻堂 (B)丘逢甲 (C)蔣渭水 (D)雷震。
17. 這位人物回臺後開始推動政治運動，但歷經數十年的請願抗議，臺灣總督府都不採納。請問：上述此項政治運動可能為何？
(A)成立臺灣文化協會 (B)鼓吹設置臺灣議會 (C)主張實施臺灣獨立 (D)反對皇民化運動。

※【地理科】第 18-34 題，每題 2 分。

- 18、臺灣的養殖漁業為避免哪種環境問題，近年來已經逐漸轉型成為箱網養殖方式？
 (A)空氣汙染 (B)地層下陷 (C)土壤汙染 (D)水土流失。
- 19、茶樹喜溼潤，但又需要排水良好，而當雲霧多時，空氣溼度較高，有利於增加茶葉的芳香。請問：茶樹適合種植在哪個地形區？ (A)丘陵 (B)平原 (C)高原 (D)臺地
- 20、建樺想要找圖來比較在民國 50 年代與現在臺灣經濟主力的變化，下列哪一張圖將最為合適？



- 21、臺灣的環境適合捕撈漁業的發展，而請問下列哪些是臺灣所具備的發展條件？
 (甲)寒暖流交會 (乙)大陸棚廣大 (丙)四面環海，海岸線長 (丁)漁業勞力眾多而充沛
 (A)甲乙丁 (B)甲乙丙 (C)甲丙丁 (D)乙丙丁。
- 22、巨大機械工業股份有限公司於民國 61 年在臺中市大甲區成立，成立初期因取得美國 Schwinn 的代工訂單，成為當時外銷導向、專業代工的自行車專業製造廠，民國 70 年成立自創品牌「捷安特 (Giant)」銷售。臺灣許多企業從代工走向自有品牌，是因為臺灣失去哪項區位優勢，需要積極轉型？ (A)動力 (B)原料 (C)交通 (D)勞力
- 23、新民男神宇展剛與韓國某潮牌簽訂了終身合約，由知名設計師夕當普里斯為他設計專屬的服飾銷售全球，預計將掀起搶購熱潮，但設計師完工後卻特地將設計圖傳送到國外去量產，請問下列哪個國家最可能是藍圖傳送的對象？
 (A)美國 (B)新加坡 (C)越南 (D)臺灣。
- 24、銷售量本來低靡的臺灣某地方農產，因為請了有國民老公之稱的網紅琮棋代言並直播推銷展售，營業額創下歷年新高，請問這符合哪一項農業轉型策略？ (A)品質提升 (B)品牌經營 (C)多角化經營 (D)改善通路
- 25、臺灣自己飼養的牛肉僅能提供國內需求的 5%，其餘皆須進口，請問是下列哪項條件限制了國內的畜牧業發展？
 (A)資金缺乏 (B)氣候限制 (C)空間狹小 (D)技術落後。
- 26、右圖為臺灣各大漁業類別的產值比例，養殖漁業的產值應該為哪一個代號？
 (A)A (B)B (C)C (D)D。
- 27、下列為各時期臺灣工業發展的特色，請依照時間先後，按照順序排列：
 (甲)發展輕工業和農產加工業
 (乙)產業升級，發展高科技產業
 (丙)成立加工出口區，發展勞力密集產業
 (丁)發展重化工業為主，如臺灣國際造船股份有限公司 (中船)
 (A)甲乙丙丁 (B)甲丙丁乙 (C)乙甲丙丁 (D)乙丙甲丁
- 28、日本為臺灣重要貿易夥伴，請問下列哪種情形可以用來描述臺日之間目前進出口的貿易狀況？ (A)陽光型男冠銘堅持只買UNIQLO的衣服 (B)時尚女孩侑宸徹夜排隊購買鴻海手機 (C)帥到分手的品全最愛駕駛納智捷汽車 (D)正到掉渣的韻璇最愛用大同電鍋煮飯。



- 29、建立於民國 76 年的臺灣積體電路製造股份有限公司（俗稱臺積電），是全球最大的專業積體電路製造（晶圓代工）企業，總部位於新竹科學園區。請問：當初臺積電選擇在新竹科學園區設廠的原因可能有哪些？
- (甲) 鄰近港口，便於進口原料
 (乙) 鄰近清華等大學，吸引高科技人才
 (丙) 政府提供許多優惠政策吸引廠商進駐
 (丁) 風勢強勁，利於風力發電，電費低廉
 (A)甲乙 (B)丙丁 (C)乙丙 (D)甲丁
- 30、就鮮奶油蛋糕工廠的產品特質而言，則下列何處最可能是該工業的區位考量？
 (A)都市近郊 (B)港口旁邊 (C)麥田附近 (D)發電廠周邊。
- 31、水稻、茶樹、甘蔗是臺灣三大主要作物，但甘蔗目前耕種面積已迅速縮小，原因最可能為何？
 (A)缺乏水源 (B)市場價格差 (C)國內生產成本太高 (D)國人飲食習慣改變

◎請閱讀短文，並回答下列問題：

臺中市新社區葡萄產銷班第三班，主要生產巨峰葡萄。該班所栽種的葡萄全部套袋，減少病蟲危害，同時運用合理化施肥的理念，使葡萄品質大幅精進，同時利用自製木醋液加以改良土壤，使生產的葡萄果皮黑亮、果肉香甜，在國內早享盛名。產銷班的經營理念是採行共同採購肥料、農藥及包裝材料，並共同運銷以降低生產成本；向農會申請貸款來從事品種改良，並於民國 83 年通過政府的吉園圃標章使用資格，以強化其葡萄銷售的競爭力。該產銷班所生產優質巨峰葡萄，很早就成功攻進日本、新加坡市場，一年外銷產量達 200 公噸；臺灣加入世界貿易組織之後，不但未受到進口水果的競爭影響，反而順勢擴大外銷領域。除了外銷之外，該產銷班也獲得國泰航空公司商務艙及統一超商青睞，提升知名度。



- 32、在文章中，臺中市新社區葡萄產銷班第三班屬於精耕細作的集約農業。請問：臺灣農業大多屬於**集約**的原因為何者？
 (A)地形落差大 (B)位處低緯 (C)人口密度低 (D)土地狹小
- 33、新社區葡萄產業的生產策略，大致可分成精緻農業、有機農業、擴大市場和共同產銷等項目。請問：哪些做法符合「**擴大市場**」的生產策略？(甲) 合理化施肥 (乙) 與航空業者及超商合作 (丙) 外銷日本、新加坡的市場 (丁) 向農會申請貸款，來從事品種改良 (A)甲乙 (B)乙丙 (C)甲丙 (D)乙丁
- 34、若京霖與順文到新社區葡萄產銷班的其中一塊葡萄園，花錢參加體驗一日葡萄農的活動，活動結束每人則可以帶 10 斤的葡萄回家，請問這活動符合臺灣農業哪一項的農業轉型策略？
 (A)品質提升 (B)品牌經營 (C)多角化經營 (D)改善通路

※【公民科】第 35-50 題，每題 2 分。

35、下列何種組合 不符合「團體」的定義？

- (A)飛盤隊隊員 (B)排隊購買快篩劑人潮 (C)柔道社團成員 (D)新民國中全體師生。

36、下表是智孝在課堂上報告某個專題的部分內容，根據表中資料判斷，下列何者最有可能是她報告的主題？ 【習作】

團體	內容	進行期間
車禍受難者救援協會	推動強制汽車責任保險法通過	1990~1996 年
婦女新知基金會	推動性別工作平等法通過	1990~2001 年
董氏基金會	推動菸害防制法通過	1991~1997 年
兒童福利聯盟	推動兒童及少年福利與權益保障法通過	2001~2003 年

- (A)傳播媒體擬定公共政策 (B)民間團體設定公共議題 (C)公共意見影響政策制定 (D)民間團體舉辦公民投票

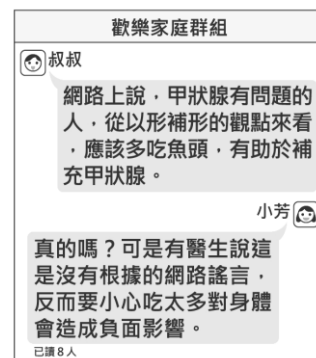
37、身為國中生的我們，目前可以透過以下哪一個管道來參與公共事務？ (A)組織學生工會改變校園環境 (B)組織政治團體，監督政府施政 (C)參加全國公民投票表達意見 (D)為班上優良學生代表跟學長姐拉票。

38、繆言每天一早起床都會打開手機搜尋中央氣象局網站查詢氣象資訊，亦會閱讀「中學生報」了解這周國內外新聞大事。上述繆言的行為符合下列概念的定義？

- (A)駭客 (B)閱聽人 (C)媒體人 (D)文藝青年。

39、近年來由於網路通訊軟體發達，大量訊息在手機的聯繫群組間快速流傳。右圖是小芳家庭群組裡的對話，根據圖中內容判斷，在網路科技發達的時代，下列何者更應受到重視？【109 會考】

- (A)媒體識讀的素養 (B)醫療技術的提升 (C)資訊科技的設備 (D)生命倫理的推廣。



◎題組題：

題組一

40、冠群填好欲參加的社團表格，如右圖所示，並詢問好友的意見。請問：下列何人的說法最正確？ (A)侑宸：社團若只有二個社員，不能算是團體 (B)宏珉：法律規定每個人只能參加一個團體 (C)昀霖：我們所組成的社團，不受法律限制 (D)芩昕：參與團體的自由，是受到法律的保障。

社團選填表

◎請將欲參加的社團塗黑

■手作社 ■桌羽社 □扯鈴社

■書法社 □棒球社 ■園藝社

41、有關加入團體的「結社自由」，是由下列哪一個法規保障的？

- (A)憲法 (B)民法 (C)國民教育法 (D)兒童及少年福利與權益保障法。

42、四位同學分析加入各社團的優點，何者說法屬於滿足情感需求的目的？ (A)加入手作社，可以學到很多木工技巧

- (B)參加桌羽社，可以認識到更多朋友 (C)書法社絕對可以改進手寫字潦草情況 (D)園藝社，希望能一起來美化學校校園。

題組二

喜憨兒社會福利基金會

◎成立時間：民國 84 年(西元 1995 年)

◎使命：「為心智障礙者開創生命的尊嚴與生存的喜悅」以愛與關懷化解障礙，啟發憨兒的潛能回歸社會主流，為心智障礙者改造生命。

◎願景：「終生教育、終生照顧」提供心智障礙者的終生教育及在社區中獲得終生照顧。

◎近況：目前基金會共設有 21 個庇護工作站(含烘焙坊、餐廳、烘焙工場等)及創新的園藝工作隊(甲)，將賺取的經費用在心智障礙者的終生照顧、終生教育上(乙)，以社區化、正常化及無障礙之工作訓練職場，協助憨兒獲得工作技能，並視個別學員之狀態，轉介至超商、餐廳、清潔公司等一般職場就業。

資料來源：<https://www.c-are-us.org.tw/>

43、根據文中可知「喜憨兒基金會」成立的目的應為下列何者？

- (A)聯絡同儕情感 (B)實現政治理想 (C)達成共同使命 (D)保障員工權益。

44、根據基金會介紹內文中畫底線(甲)的部分，呈現志願團體的何種特徵？

- (A)民間性 (B)組織性 (C)志願性 (D)非營利性。

45、文中波折線(乙)的敘述，則是志願團體的哪項特徵？ (A)民間性 (B)組織性 (C)志願性 (D)非營利性。 【習作】

題組三

立法院會於日前表決通過 18 歲公民權修憲案，年滿 18 歲的中華民國國民依法將有選舉、罷免、創制、複決、參與公民投票的權利。接下來將交由公民複決，而這也是台灣憲政史上首次進入公民複決程序的修憲案。

事實上，有關憲法 20 歲投票權下修為 18 歲，已經歷二十幾年討論，曾有媒體對此進行民調，結果顯示有 42% 民眾表示贊成，不贊成者則有 44%，再進行交叉比對後發現，各政黨支持者對於修憲的態度亦有所差異(甲)。意見分歧多年，此次終於立法院通過修憲提案，將送交公民複決投票得出結果。

至於公民複決的門檻，根據憲法增修條文第 12 條規定，經中華民國自由地區選舉人投票複決，有效同意票過選舉人總額之半數。若以 2020 年總統大選的選舉人數換算，也就是說必須超過 965 萬有效票才能通過。

資料來源：2022 綜合網路各新聞資訊

46、從上文內容得知，有關 18 歲公民權議題，最終是要透過哪種表達公共意見的方式？

- (A)座談會 (B)媒體投書 (C)公民投票 (D)示威遊行。

47、內文中畫底線(甲)的部分，呈現出公共意見的哪一種特性？ (A)差異性 (B)影響性 (C)變動性 (D)固定性。

48、上文有關修憲的內文，下列哪一項分析較為正確？

- (A)修憲程序只需公民投票結果即可 (B)公民投票若過對政府施政沒影響
(C)公民投票結果將影響我國參政權 (D)民眾不應對政府施政進行批評。

題組四

49、下列各家報社新聞頭條，何者的標題有加入主觀的意見陳述及價值判斷？

(A)



(B)



(C)



(D)



50、承上題，我們常透過媒體來理解社會現象，因此「媒體識讀」成了現代社會應具有的公民素養，請問：身為閱聽人我們要如何培養「媒體識讀」的能力？(甲)主動思辯能力 (乙)溝通與協調 (丙)辯別「事實」與「意見」 (丁)新聞撰稿能力 (戊)資訊查核能力 (A)甲乙 (B)甲乙丙 (C)丙丁戊 (D)甲丙戊。