

# 臺北市新民國中110學年度 第2學期 8年級社會領域 第3次段考試卷

8年 班 座號： 姓名：

一、單選題(1-50題，每題2分，共100分。)

※【歷史科】第1-16題，每題2分

1、小平在複習歷史時，在筆記本寫下如右表的四個歷史事件。請根據時序，排列先後順序。(A)丁乙丙甲 (B)乙丙丁甲 (C)乙丙甲丁 (D)甲丙乙丁。

代號	歷史事件
甲	七七事變
乙	南京大屠殺
丙	淞滬會戰
丁	國民政府遷都重慶

2、韓戰爆發後，哪個國家以「志願軍」的名義，出兵支援北韓抵抗美國？  
(A)泰國 (B)日本 (C)中共 (D)蘇聯。

3、1955年，亞洲、非洲許多國家在印尼召開會議，主張促進亞、非國家之間的友好合作；1960年代，印度、埃及等國發起「不結盟運動」，參與國家強調獨立自主和不與美、蘇強權結盟。上述會議與不結盟運動，最可能反映出下列何者？

- (A)聯合國的成立 (B)九一一事件的影響  
(C)共產世界的瓦解 (D)第三世界的興起。

4、根據右圖，可能會出現在哪些地區？甲、蘇俄 乙、朝鮮 丙、印尼 丁、日本。  
(A)甲乙丙 (B)乙丙丁 (C)甲丙丁 (D)甲乙丙丁。



參考資料：抗議的身影...慰安婦娘多想要一個道歉，  
聯合報，2020。

5、某位美國官員回憶：「出於人道主義美國應該幫助這些學生，但鑒於學生和使館面臨的風險，使館沒有這樣做，如果使館被當做反擊目標，對中美關係的長期影響將很大。對於我來說，這是八九學運期間一連串艱難抉擇中最難的一個」，請問：這位官員可能提及為哪個事件？

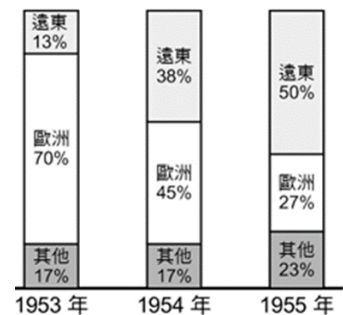
- (A)天安門事件 (B)珍寶島事件 (C)五四運動 (D)反「抗美援朝」事件。

6、某位曾穿大清龍袍，後來只能穿陸海空軍大元帥正裝的人士曾說到：「龍袍從北京的太妃那裡拿來了，但是關東軍卻對我說，日本承認的是『□□皇帝』，不是『大清皇帝』，因此我不能穿清朝龍袍，只能穿關東軍指定的『□□陸海空軍大元帥正裝』。請問上述的某位人士指的是下列何人？

- (A)袁世凱 (B)溥儀 (C)張學良 (D)蔣中正。

7、右圖為1953~1955年間美國軍援分配情形圖。由圖中得出何種資訊？

- (A)美國日漸重視遠東地區的重要性，鞏固民主陣營勢力  
(B)美國畏懼中華人民共和國建國，極力拉攏中共  
(C)美國對「其他」地區的援助，比例日益縮減  
(D)為拉攏共產國家，所以實施軍事合作與援助。



8、中共十一屆三中全會既是鄧小平時代的來臨，也代表了中國改革開放年代的開端。請問在會中鄧小平號召全體黨員從事什麼運動？

- (A)鎮壓反革命運動 (B)社會主義現代化建設  
(C)無產階級文化大革命 (D)資本主義中國化建設。

9、右圖是日本繪製的第二次世界大戰形勢圖，三種圖例代表與日本三種不同關係。從圖中標示的圖例，可得知這是1941年底太平洋戰爭爆發後的世界形勢，最主要的判斷依據應為下列何者？

- (A)英國和德國使用不同圖例  
(B)德國和日本使用相同圖例  
(C)朝鮮和日本使用相同圖例  
(D)英國和美國使用相同圖例。



10、貿易制裁的原理建立在對受制裁國家進行報復，或迫使受制裁對象接受制裁發動國的要求。冷戰時期，美國在哪個事件發生後，開始放寬對中華人民共和國的貿易制裁？

- (A)簽署《上海公報》後 (B)韓戰後 (C)越戰後 (D)六四天安門事件後。

11、右圖是某一時期的政治宣傳漫畫，圖中「大手」代表當時的國際組織，領導各國對抗侵略者。根據內容判斷，該國際組織最可能是下列何者？

- (A)聯合國
- (B)國際聯盟
- (C)華沙公約組織
- (D)石油輸出國家組織



12、有學者提到，東南亞公約組織成立的目的是牽制亞洲的共產主義勢力，雖名為東南亞，實際上參加組織的東南亞國家只有兩個，這個組織最後甚至因為內部無明確共識，在越戰後解散。請問：前述唯二的兩個東南亞國家為何？

- (A)緬甸、寮國 (B)汶萊、泰國 (C) 泰國、菲律賓 (D)印尼、新加坡。

13、右圖是寫著「日華滿協助天下太平」的海報，其中左方女子拿著五色旗，象徵滿族（黃色）、和族（紅色）、漢族（藍色）、蒙古族（白色）、朝鮮族（黑色）五族相互提攜，共享太平盛世。請問：抗戰期間，這幅海報最可能出在哪個城市的大街上？

- (A)西安 (B)重慶 (C)台灣 (D)紐約。



14、西元 1960 年蘇聯與中共交惡，中蘇雙方互相抨擊對方的路線（中共稱蘇聯為修正主義，蘇聯稱中共為教條主義），西元 1969 年為了阻止蘇聯入侵中國，中、蘇雙方在烏蘇里江流域爆發武裝衝突。請問這個事件的發生地點是下列何者？ (A)朝鮮半島 (B)珍寶島 (C)海南島 (D)金門。

◎請閱讀短文，並回答下列問題：

右圖幾個地點在中日戰爭期間均發生重大事件。

以下為某記者記載的述敘：

該場戰役是中國抗日戰爭的第一場重要戰役，也是整個中日戰爭中進行的規模最大、戰鬥最慘烈的一場戰役，中國方面先後投入兵力總總數 75 萬人以上。蔣中正在此戰役幾乎投入所有的精銳部隊，造成極大傷亡。在這之後，中央政府的兵力已無法對全國各地的軍閥造成威脅，中國共產黨、各地軍閥都擁兵自重各據一方。

中國雖然在軍事上戰敗了，但清楚顯現中華民國政府的立場，絕不會向日本投降的策略。日軍原本計畫「三個月內征服中國」，但在此戰役就打了三個月，雖然勉強奪得勝利，日軍不免懷疑「征服中國」的可能性，大大打擊了日本軍隊的士氣。



15、請問上述的戰役在何地發生？(A)甲 (B)乙 (C)丙 (D)丁。

16、如文章所述：在這之後，國民政府的兵力已無法對全國各地的軍閥造成威脅，請問在此戰之後，政府將首都遷往何地，以示抗戰決心？

- (A)乙 (B)丙 (C)丁 (D)戊。

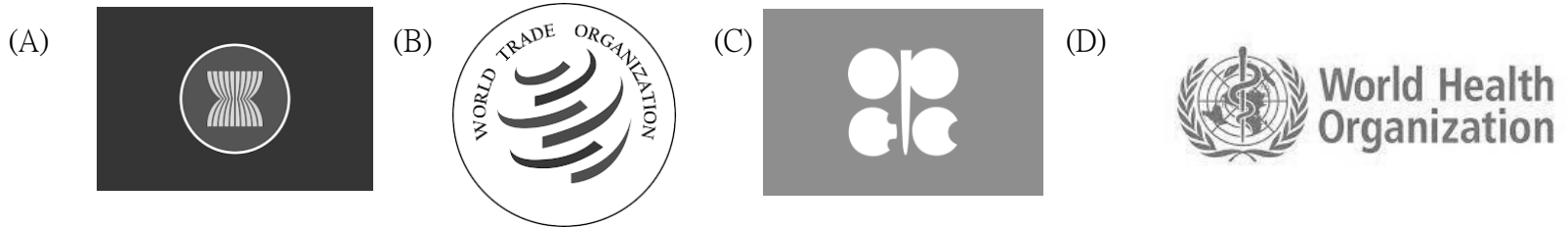
※【地理科】第 17-33 題，每題 2 分

17、印度少女 Lin 愛上了名為 kuan 的印度男孩，但是他們的愛卻因為身處不同階級而被雙方保守的父母嚴厲反對，請問這一切的不公平均起因於何種已廢止的舊制度？ (A)井田制度 (B)世襲制度 (C)封建制度 (D)種姓制度

18、根據東南亞的歷史背景，在被殖民的過程當中，基於殖民母國的需求而造成下列哪種類型的都市容易形成，更進而在獨立後成為首都？

(A)港埠型 (B)防禦型 (C)攻擊型 (D)宗教型

19、某組織成立是為了維護產油國的權力、國際原油的價格和產量水準，下列何者為其標章？



20、如果只根據依據氣候圖判斷，開羅的降雨量極少，但是全埃及人口總數已突破 1 億，開羅都會區也有超過 2,000 萬的人口居住，這樣看似缺水的地區為何還有這麼多人口？

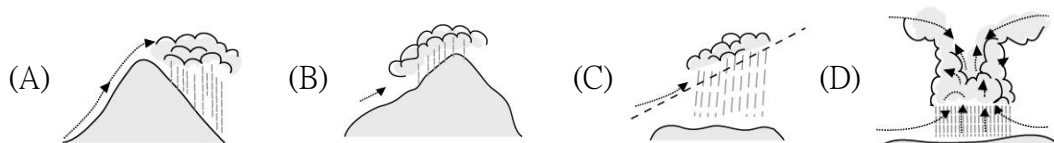
(A)高山積雪融化，提供沙漠綠洲的水源 (B)近年來海水淡化技術普及，供應用水  
(C)積極挖取深層地下水，提供民生 (D)尼羅河流經，促使埃及文明的孕育

21、梓同與文旭相約前往阿拉伯聯合大公國開開眼界，他們打算在沙漠裡衝沙、舊城區遊覽、傳統市集淘寶、帆船飯店享受奢華，請問題目中的描述都代表著阿拉伯聯合大公國目前致力於將產業重心擺在？

(A)石化產業 (B)高科技產業 (C)觀光業 (D)熱帶栽培業。

22、下列何者於新興市場中名列於「亞洲四小虎」之一？ (A)緬甸 (B)越南 (C)南韓 (D)菲律賓

23、東南亞近赤道地區一年的氣候幾乎都一模一樣，用「四時皆是夏，一雨變成秋」來形容再貼切不過了，然而請問上述所稱的「雨」應為下列何者降雨類型？



24、地中海型氣候的雨季時間與眾不同，對於農業可能會有什麼影響？

(A)夏季必須加強灌溉 (B)種植葉大根淺的作物 (C)種植耐潮濕的農作物 (D)土壤貧瘠，需重視施肥

25、韻軒是一個虔誠的印度教徒，某日閨密小陽帶她去夜市品嚐多道美食，突然間韻軒卻和小陽翻臉大吵，請問究竟是下列哪一道料理觸及宗教禁忌，導致韻軒與小陽的絕交？

(A)清蒸石斑 (B)日式炸豬排 (C)沙茶牛肉 (D)三杯雞。

26、「淡水資源常被視為國家重要的資產。若位於河流上游的國家在其境內興建攔水設施或排放汙水，就可能影響下游地區鄰國的供水，因此，河流的控制權常成為國際紛爭的原因之一。」下列哪二個國家之間的關係最適合用來舉例說明上述的紛爭？

(A)南韓、日本 (B)印度、馬爾地夫 (C)中國、臺灣 (D)以色列、巴勒斯坦。

27、西亞有世界最大的石油蘊藏量，石油儲量占世界的 2/3，其中大多分布於何處附近？

(A)黑海 (B)波斯灣 (C)紅海 (D)地中海

28、下列哪一個國家因控制太平洋與印度洋之間的咽喉海峽而貿易發達，成為東南亞經濟最發達的國家？

(A)斯里蘭卡 (B)馬爾地夫 (C)新加坡 (D)菲律賓。

29、下列何種並非發源自西亞的宗教？ (A)基督教 (B)佛教 (C)猶太教 (D)伊斯蘭教

30、西亞戰略及交通地位相當重要，因為地處三大洲的接觸帶上。這三大洲分別為下列何者？

(A)歐洲、亞洲、非洲 (B)亞洲、歐洲、北美洲 (C)歐洲、非洲、北美洲 (D)亞洲、非洲、北美洲

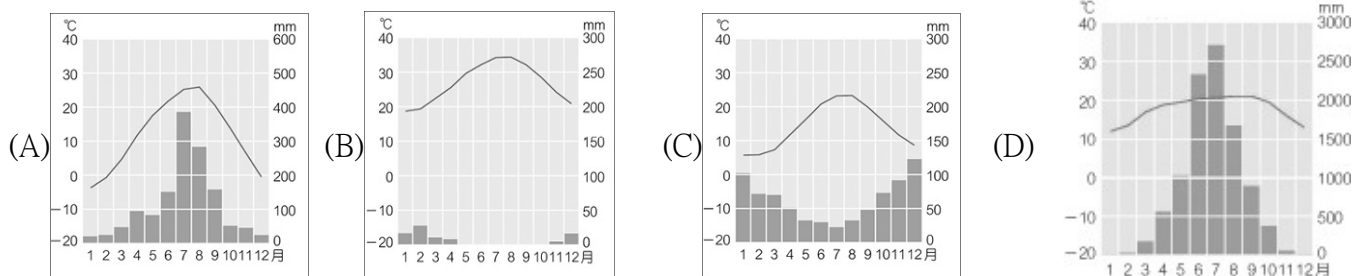
◎請閱讀短文，並回答第 31~33 題：

1990 年，土耳其在幼發拉底河的上游建造西亞最大的水壩 — 阿塔圖克水壩，而阿塔圖克，正是土耳其國父的名字。該水壩的完工不僅每年可供應大量的電能，也讓土耳其東部至敘利亞的邊境一帶獲得水資源，其中，哈爾蘭平原和周邊的土地從原本荒蕪的沙漠，到如今四處可見耕作中的農田。

雖然阿塔圖克水壩帶動附近地區經濟、農業甚至觀光的發展，但築壩攔水的結果導致下游國家的抗議，由於流域內的國家都各自宣稱有其用水權，導致水資源爭奪成為國際衝突的導火線。

參考資料：土耳其入侵敘利亞背後的水資源戰爭，地球知識局

31、依據文章，哈爾蘭平原的氣候圖應為下列何者？



32、根據兩河流域的位置，文中所謂的下流國家應該為何？

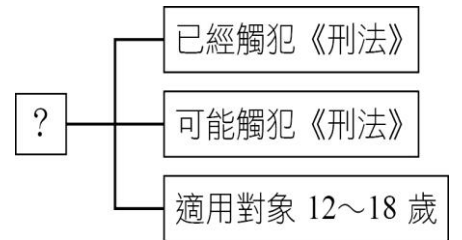
(A)以色列、卡達 (B)伊朗、伊拉克 (C)伊拉克、敘利亞 (D)葉門、伊朗

33、根據文章，為什麼下游國家抗議土耳其興建水壩？

(A)上游興建水壩導致下游河道泥沙淤積阻塞 (B)下游國家水資源取得受到限制  
(C)容易使得下游得到水質優養化 (D)影響兩河流域的航運通行

※【公民科】第 34-50 題，每題 2 分。

- 34、依據右表內容，屬於我國哪一部法律的規範內容？  
 (A)《少年事件處理法》 (B)《家庭暴力防治法》  
 (C)《兒童及少年性剝削防制條例》(D)《兒童及少年福利與權益保障法》



- 35、下列何者 不屬於《民法》規範的事項？  
 (A)金錢借貸 (B)販賣毒品 (C)繼承權爭取 (D)買賣契約。
- 36、暑期即將到來，常有大批青少年深夜留連夜店不回家，若遇警方臨檢，業者將因深夜仍讓未成年人逗留，而 違反 哪一項法律的規定？ (A)《兒童及少年福利與權益保障法》 (B)《少年事件處理法》 (C)《民法》 (D)《刑法》。

◎題組題：


題組一

中心里里民小新與阿民與細故發生口角，雙方正準備上演全武行，里長在里民緊急電話通知下，趕緊趕往現場排解糾紛，充當和事佬。雙方當事人在里長的勸解下，終於握手談和，並允諾不會再有後續追究行為。

- 37、從上文得知，雙方化解衝突的方法，較屬於下列哪一種「權利救濟」？ (A)訴訟上和解 (B)訴訟外和解 (C)調解 (D)訴訟。
- 38、若該地區位於台北市北投區，雙方還是決定要透過「調解」來解決，可以到下列哪一個機關的「調解委員會」聲請？  
 (A)台北市社會局 (B)台北市警察局北投分局 (C)北投區公所 (D)中心里長辦公室。

題組二

- 39、「8-12 超商」為了因應暑假來臨急著招募符合《勞動基準法》童工 資格的工讀生，下列來應徵的四個人，何者符合超商需求？



- 40、承上題，下有關該法規的敘述那些是正確的？ (甲)雇主不可以要求從事危險性的工作 (乙)雇主僱用童工不需要經法定代理人同意 (丙)童工一日工作不得超過八小時，但假日可以工作 (丁)為保護自身安全，打工前要先熟悉法令規定  
 (A)甲丁 (B)乙丁 (C) 乙丙 (D)甲丙。

題組三

- 41、右列選項何者屬於「政治參與」的方式？  
 (A)甲乙丁 (B)甲乙丙 (C)乙丙 (D)丙丁。
- 42、班上同學一起討論對於「政治參與」的看法，下列哪一位同學的敘述最正確？  
 (A)守樑：「和朋友討論政府政策也是一種政治參與。」  
 (B)子淇：「政治參與是公民的權利，國民無法享有。」  
 (C)少屏：「只有加入政黨之後，人民才能參與政治。」  
 (D)羽姪：「參與政治只能透過選舉投票的方式達成。」

選項	活動行程
甲	參加市政府舉辦的跨年活動
乙	到「公共政策參與平台」( <a href="https://join.gov.tw/">https://join.gov.tw/</a> ) 參與附議提案
丙	參加政黨所舉辦的政見發表會
丁	與家族一起參與媽祖進香繞境活動

題組四

- 43、右圖為同班的小賢與阿翔所作的約定，雙方並白紙黑字寫下立據，根據其約定內容之效力為何？  
 (A)只要雙方當事人合意同意就有效  
 (B)需加註上各自身份證字號才有效  
 (C)尚需雙方父母或法定代理人同意  
 (D)違反法律規定與公序良俗，無效。

我是英雄  或狗熊

這次段考總成績輸給對方就繞文化走廊裸奔1圈，不得推託。

立約簽署人：小賢、阿翔

見證人：八年七班全體同學

44、小賢與阿翔在訂定契約之前，有將《民法》有關契約生效的方式整理成如下筆記，請依你所學幫兩人詳看下表，下表何者才是正確而且符合法規？

項目	甲	乙	丙
契約生效方式	雙方合意即可	須書面方式簽約	必須完成登記
例子	便利商店買飲料	工作聘約	買賣房屋

(A)甲的契約生效方式，有助以後訴訟官司的證據說明 (B)乙是生活最常見也最普遍的契約生效方式 (C)丙將結果公示於社會，可以保障交易以外的第三人 (D)限制行為能力人獨立行使甲乙丙，皆無效。

#### 題組五

45、《兒童權利公約》(Convention on the Rights of the Child.簡稱 CRC)是首條具法律約束力的國際公約，保障兒童在公民、經濟、政治、文化和社會中的權利。目前共有 196 個締約國，絕大部份聯合國成員國都承認（或有條件承認），當中只有美國沒有加入，是目前最多國家簽署、共識度最高的國際公約。我國雖不是締約國，但為了將兒童權利公約國內法化，強化我國兒少權益保障與國際接軌，特制定並公布《兒童權利公約施行法》實施。下列何者屬於《兒童權利公約》的原則？(甲)不歧視 (乙)尊重大人意見 (丙)保障兒童生存發展權 (丁)維護兒童最佳利益

(A)甲乙丙 (B)甲丙丁 (C)乙丙丁 (D)甲乙丁。

46、承上題，下列有關《兒童權利公約》(CRC)的相關敘述，何者正確？

(A)我國不是聯合國會員國，因此沒有受到該公約的相關保障  
 (B)該公約所保障的對象是指 12 歲到 18 歲的兒童  
 (C)我國《兒童及少年福利與權利保障法》有符合該公約的精神與內容  
 (D)目前全球簽署該公約的國家不多，對兒童的重視與保障還有待努力。

#### 題組六

47、瑞士透過民眾投票的機制，決定是否訂立全國適用的基本薪資規範，此方案若通過，瑞士將擁有全球最高的基本月薪保障(約新臺幣 136,000 元)，但勞動市場可能也會因此受到影響，最後投票結果否決了該提案。就我國而言，下列何種情況亦會採行類似的機制做出決定？

【110 會考補考】

(A)決議覆議案 (B)表決不信任案 (C)追認緊急命令 (D)複決憲法修正案。

48、承上題，依據我國相關法律規定，我國公民需於戶籍所在地滿幾個月才有參與公民投票資格呢？

(A)

(B)

(C)

(D)



#### 題組七

49、「紓解訟源」是近年司法改革的重點之一，其目的是希望讓民眾在提起訴訟前，能透過公正且具有與法院確定判決相同效力的途徑來解決糾紛，這種方式既可避免耗時的訴訟程序，也能減少司法資源的浪費。下列哪種處理方式最符合「紓解訟源」的作法？

【111 會考】

(A)不服行政處分，向上級機關提起訴願 (B)偷竊財物遭逮，嫌犯希望失主別追究  
 (C)車禍無人受傷，雙方私下和解賠償損失 (D)遭友積欠債務，至調解委員會聲請調解。

50、承上題，上述解決糾紛達到「紓解訟源」的作法，下列哪一種案件發生亦適用此方法？

(A)辱罵同學被控公然侮辱 (B)在便利商店偷飲料零食 (C)一時氣憤之下失手殺人 (D)發現警察開罰單有誤。