

臺北市立新民國中111學年度 第一學期 七年級社會領域 第一次段考試卷

七年 ____ 班 座號：____ 姓名：____

單選題(1-50 題，共 50 題，每題 2 分，請掌握好答題時間。)

※【歷史科】第 1-17 題

- 1、站在新民國中的敬業樓頂樓就可以遠眺到臺灣的主要史前遺址，因為它們剛好位於觀音山的周遭，請問下列哪兩個文化遺址是望向觀音山確實可以大略見到的？
(A)卑南、大坌坑 (B)圓山、大坌坑 (C)大坌坑、十三行 (D)十三行、圓山
- 2、1990 年代末期，臺灣曾掀起一波「葡氏蛋塔風潮」，許多店家爭相模仿製作鄰近臺灣某地瑪嘉烈餅店的葡式蛋塔，此地曾為葡萄牙殖民地。全盛時期，一條街上同時有好幾間店，且皆人潮滿滿，甚至曾造成蛋價上漲的情況。然而在葡氏蛋塔退燒之後，許多專賣店接連收攤，原來兼賣葡氏蛋塔的店家也不再供應。這段蛋塔之亂，甚至造就了「蛋塔效應」、「蛋塔現象」等名詞，形容事物在短時間內因一窩蜂而造成暴起暴跌的現象。請問曾為葡萄殖民地的某地是指
(A)香港 (B)澳門 (C)雅加達 (D)馬尼拉
- 3、根據民族語言學的分類，南島語族是全世界語族分布最廣的一支，有超過兩億五千萬人是南島語系的使用者。下列有關南島語族的敘述，何者正確？
(A)夏威夷群島的原住民為該語族分布的最北端 (B)臺灣原住民的語系和菲律賓的原住民語系最為接近
(C)南島語族於數千年前先抵達東南亞，最後落腳於臺灣 (D)臺灣從舊石器文化至金屬器文化皆是南島語族的遺跡
- 4、10/4 朝會請稅務單位對同學講解國民納稅的重要性。讀台灣史可知，除了納稅以外，清朝將原住民區分為「生番」和「熟番」的依據還有
(A)使用金屬器 (B)服勞役 (C)進行商業貿易 (D)接受基督教信仰
- 5、由於西班牙人的遠東貿易逐漸受荷蘭人威脅，於是西班牙繼荷蘭之後，也到臺灣北部發展勢力。西班牙人在臺灣的發展以何處為基地？
(A)雞籠、淡水 (B)苗栗、雞籠 (C)新竹、淡水 (D)臺南、宜蘭
- 6、歷史課時，老師正在講述某一段課文：「這個史前文化遺址所發現的器物，多為敲擊方式製作的石器，遺址的人們已懂得用火，主要透過採集與漁獵獲取食物。」由上文判斷，老師正在進行哪一個單元的教學活動？
(A)舊石器時代的特色 (B)新石器時代的生活 (C)金屬器時代的活動 (D)歷史時代的文化
- 7、鄭家在台灣戮力反清復明事業，關於鄭氏治臺，下列何者錯誤？
(A)實施軍屯，解決糧食問題 (B)在中國沿海進行走私貿易，吸引英日加入貿易圈
(C)鄭成功在陳永華的協助下將漢人典章制度移植到臺灣 (D)透過對外貿易維持財政需求
- 8、顏思齊是福建海澄青礁人，生於 1589 年。宦官高梁來福建橫征暴斂、欺壓善良。面對這濁惡之世，顏思齊 1611 年因殺了宦家惡僕，被迫流亡日本，居住平戶，以裁縫為生，開啟了他與大海商李旦合夥、義結二十八兄弟，縱橫日本到福建、麻六甲、馬尼拉、台灣等海域的版圖。有關顏思齊的敘述，下列敘述何者正確？
(A)他以海商身份帶領漢人開臺四百年(B)以明朝將領身份勸退佔據澎湖的荷蘭人
(C)以漢人首領的身份反抗荷蘭人的暴虐苛政 (D)他在今臺南設立承天府，發展事業成為東南海域的霸主
- 9、十七世紀時，荷蘭人及西班牙人分別在臺灣發展，下列說明何者正確？
(A)荷蘭人在今赤崁一帶建立熱蘭遮城 (B)西班牙人在蛤仔難建立聖多明哥城
(C)明朝實行鎖國政策後影響到西班牙人的貿易 (D)荷蘭人與西班牙人皆以臺灣作為國際貿易的轉運站
- 10、下列有關清朝正式將臺灣收歸版圖之前的敘述，何者錯誤？
(A)原住民曾經協助荷蘭人平定因不滿荷蘭人徵收重稅而反抗的郭懷一事件
(B)無論是荷據時期或是明鄭時期，鹿皮始終是對外貿易的重要出口品
(C)為了發展臺灣的米糖生產事業，荷蘭人大舉招募海峽對岸的漢人來臺開墾
(D)荷蘭人統治台灣 21 年，明鄭則在堅持 38 年後，被鄭氏降將施琅攻滅結束統治
- 11、右圖是佑佑在翻閱歷史課本時所發現的圖片。從圖中的訊息判斷，下列何者敘述錯誤？
(A)如今此地已被砂土淹沒，成為市區的一部分
(B)鄭成功從鹿耳門水道進入台江，突破荷蘭人守軍防線
(C)熱蘭遮城是荷蘭人建立的城堡，後來城被攻破，鄭成功改名紅毛城
(D)除了漢人以外，荷蘭人、日本人、西班牙人相繼來臺經商，代表臺灣國際貿易地位越來越重要



- 12、妮妮自我介紹：「數千年前，我的祖先移居到臺灣來。因為沒有留下文字紀錄，所以我現在是透過學者的研究來了解祖先們在臺灣的生活情況。」請問：妮妮最不可能是下列哪一族的後代？
(A)布農族 (B)漢族 (C)阿美族 (D)泰雅族
- 13、十七世紀時各方勢力在東亞地區建立貿易據點，請問下列敘述何者正確？
(A)日本吞併琉球，以那霸為據點 (B)英國以香港為貿易中心 (C)荷蘭以澎湖為據點 (D)西班牙以馬尼拉為據點
- 14、明朝、清朝都分別實行海禁政策，是為了甚麼目的？
(A)前者是防禦倭寇，後者是為了對付在臺灣的明鄭勢力 (B)配合日本的鎖國政策，共同防禦歐洲
(C)封閉的陸國思維阻斷向海洋發展的國策 (D)防備臺灣原住民的入侵

◎請閱讀短文，並回答下列問題：

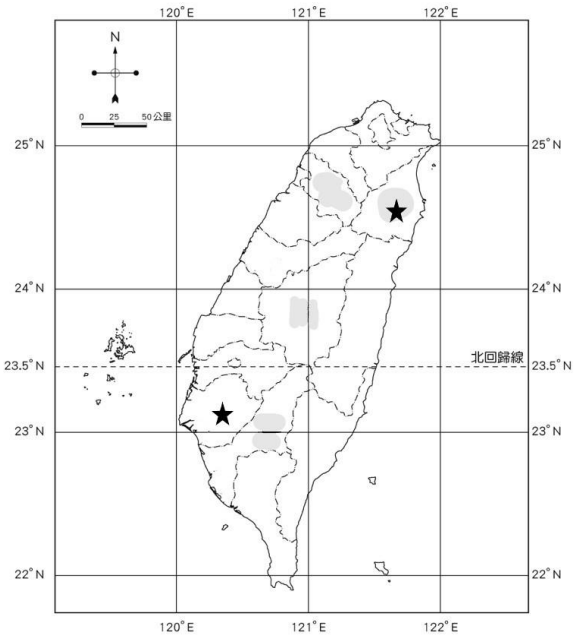
民國前二五一年，一六六一年（永曆十五年、順治十八年）四月二十一日中午，鄭成功起兵二萬五千人、船隻九百艘攻臺。船到澎湖即發生糧食不足的現象，鄭成功下令就澎湖三十七島取行糧，得到回報是：「各嶼並無田園若種禾粟，蕃薯、大麥、黍、稷、斗升湊解，合有百餘石，不足當大師一餐之用」。

以致在風雨中鄭成功下令航向臺灣。他當時說：「冰堅可渡，天意有在。天意若付我平定臺灣，今晚開駕後，自然風恬浪靜。不然，官兵豈堪坐困斷島受餓耶？」鄭成功的部隊一上岸即將荷蘭軍打得落花流水，西方人記述鄭成功的軍隊是：「國姓爺的軍隊中有弓箭兵，以對抗荷人的槍兵，又軍隊中有鐵人軍，每一人著鐵製的鱗甲，包住全身，鐵片長度可掩住膝蓋以下，以保護到兩腳。這是一個武裝齊備的軍隊，他們戰鬥中，無視洋槍隊的威力，沒有一個人將死亡擺在心上，勇猛無比，不管周邊有許多人被打死，照常像瘋狗似的前撲。況且他們也有相當多的重砲及充足的火藥。」這是黃種人第一次向歐洲白人爭奪殖民地成功的例子。登陸不到一個月，實際僅二十四天即佔領全臺灣，僅留下「熱蘭遮城」。

- 15、文中沒有出現的紀年方式是
(A)民國紀年 (B)西元紀年 (C)帝王紀年 (D)干支紀年
- 16、下列哪一個地方跟鄭成功攻臺之役無關？
(A)安平古堡 (B)普羅民遮城 (C)鹿耳門 (D)三貂角
- 17、明鄭政權的建立者與末代執政者分別是
(A)鄭芝龍、鄭克塽 (B)鄭成功、鄭經 (C)鄭成功、鄭克塽 (D)鄭經、鄭克塽

※【地理科】第 18-34 題


- 18、右圖為臺灣地圖，請問兩顆星星之間的直線距離約為多少公里？
 (A)150 公里 (B)250 公里 (C)200 公里 (D)80 公里
- 19、位置可以用許多描述方式來表達，請問下列何者是「絕對位置」的描述？
 (A)學校地址是新民路 10 號 (B)校門口在活動中心的東北方
 (C)榮恩的座位在佳昀的右邊 (D)游泳池教室在操場的西方
- 20、臺灣(東經 120 度)男孩彥樟每天上午十點都要打視訊電話給位在各地的女朋友們甜言蜜語，這次他想在對方的晚餐時間給她一通問候的電話，請問下列哪一位最可是這次驚喜的通話對象？
 (A)位在西經 162 度的Jisoo (B)位在東經 11 度的Jennie
 (C)位在東經 95 度的Rosé (D)位在西經 94 度的Lisa
- 21、下方兩張地圖範圍都是桃園市，但其繪製的內容物卻有所差別，請問造成此一現象的理由是因為哪一項條件的改變？
 (A)方位 (B)年代 (C)圖例 (D)比例尺

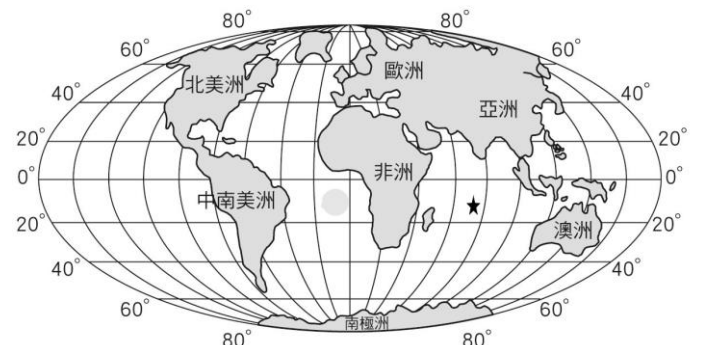


▲圖一



▲圖二

- 22、不同比例尺的地圖，涵蓋範圍大小不同，地理訊息的詳細程度也不同。若我們要認識學校周邊的詳細道路，應該選擇下列哪一個比例尺的街道地圖最為適宜？
 (A)1/5,000 (B)1/50,000 (C)1/100,000 (D)1/36,000,000
- 23、右圖為世界全圖。右圖中打上「★」的海域名稱是什麼？
 (A)太平洋 (B)印度洋 (C)大西洋 (D)北極海。
- 24、太陽照射地球各地的角度不同，會導致緯度高低如何影響各地氣溫變化？
 (A)南、北回歸線之間為溫帶 (B)回歸線到極圈之間為熱帶
 (C)緯度愈低，氣溫跟著愈高 (D)高緯區因太陽直射而氣溫高
- 25、下列對於臺灣的相對位置敘述何者正確？
 (A)臺灣在菲律賓的南方 (B)日本在臺灣的東北方
 (C)越南在臺灣的西北方 (D)臺灣在南韓的南方
- 26、語樂在某一張地圖上看見「」的標示，這是地圖上用來呈現哪種資訊？
 (A)方位 (B)比例尺 (C)圖例 (D)圖名。
- 27、臺灣的行政區劃目前分為六個直轄市和十六個縣、市，總共二十二個縣市。請問：下列哪一個「市」的行政層級與其他三個不同？ (A)桃園市 (B)臺南市 (C)臺中市 (D)新竹市
- 28、為何在同一個地球上，南北半球會有季節顛倒之情況？
 (A)因為地軸傾斜 23.5 度在公轉 (B)因為地球由西向東自轉
 (C)因為太陽繞著地球轉 (D)因為地球是稍扁的球體。
- 29、臺灣的物種繁多，而下列哪一項條件正是造成臺灣有許多特有種的根本原因？
 (A)四面環海 (B)面積廣大 (C)氣候特殊 (D)地形多樣
- 30、經緯線能讓人們判定位置及方位，依照經緯線的特性來判斷，若飛機由北極沿著本初經線飛行，應該會經過下列何地？
 (A)泰國的曼谷 (B)美國的紐約 (C)英國的倫敦 (D)紐西蘭的基督城



31、當太陽光直射南回歸線時，臺灣正值下列哪一個節令？

- (A)清明節 (B)端午節 (C)中秋節 (D)冬至

◎請閱讀短文，並回答下列問題：

臺灣位處於熱帶跟亞熱帶交接，擁有多座海拔 3000 公尺以上的高山，孕育出全世界少見的複雜陸地生態系。海岸森林開始，到平地熱帶雨林、淺山溫帶闊葉林、高山寒帶針葉林，一路到山頂的極地凍原生態體系，擁有極為多樣性的地貌與植被。而這麼豐富的自然生態，由於臺灣面積不大，在短短 2~4 小時的車程中就能到達。臺灣因為具有多樣的生態環境而孕育出豐富的物種，計有 4,000 多種維管束植物、600 多種蕨類、500 多種鳥類等。臺灣面積不到地球陸地的 0.02%，物種卻占有世界的 2.5%，是世界上物種數量最豐富的地區之一。

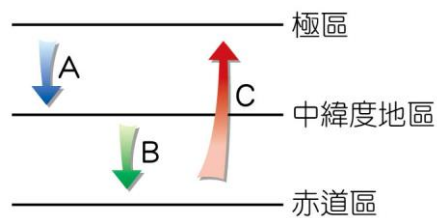
改編自 城市學/臺灣永續旅遊藏一座北半球！番薯小島竟可見阿爾卑斯山薄雪草？

32、關於「臺灣生物種類豐富」的特徵，下列何者關聯性**最低**？

- (A)位於溫、熱帶交界處 (B)位於海空航線的樞紐
(C)擁有海、陸兩域的生態環境 (D)冰河期結束後，部分物種於高山演化成特有生物

33、寒、暖洋流交會，為臺灣帶來豐富的海洋生態資源。右圖為洋流類型示意圖，請根據此圖判斷下列何者正確？

- (A)A 類型的洋流屬於涼流
(B)B 類型的洋流屬於暖流
(C)臺灣有 B、C 類型洋流交會
(D)黑潮屬於 A 類型的洋流



34、承上題，臺灣周遭海域流過的洋流為何？

- (A)親潮與黑潮 (B)中國沿岸流與黑潮
(C)僅有親潮 (D)僅有中國沿岸流

※【公民科】第 35-50 題

- 35、聯合國世界人權宣言第 1 條提到：「人人生而自由，在尊嚴和權利上一律平等。」
 (A)每個人存在價值都應獲得重視 (B)每個人都應以相同的方式生活
 (C)每個人都要從事相同的工作 (D)每個人都應該接受相同的教育內容。
- 36、性別包含「生理性別」和「社會性別」兩種，下列配對組合，何者 正確？
 (A)男生要負責養家—生理性別 (B)女生有月經—社會性別
 (C)男生有精子—社會性別 (D)女生要整理家務—社會性別。
- 37、我國憲法規定除現行犯外，人民即使有犯罪行為，皆須依照法定程序才可逮捕拘禁。此種規定的主要目的應為下列何者？
 (A)讓個人擁有不受限制的自由 (B)避免他人或政府不當的侵害
 (C)讓政府有充分時間確認嫌犯 (D)確保犯罪者獲得生存的保障。
- 38、右表是我國西元 2018 年男、女性常見的名字統計前十名。從表中名字常出現的字，可以看出家長對男、女性小孩的期待。這種命名的意涵顯示了下列哪一種性別概念？ **【習作】**
 (A)社會性別 (B)生理性別 (C)性別偏見 (D)性別歧視。
- 39、我們若要破除「性別刻板印象」，建立性別平等社會，需要長期的努力才能展現成效。下列何者 不是 適當的方法？
 (A)改善法令制度，建立健康和諧的兩性互動關係 (B)應制定法律約束男女互不往來以免爭端
 (C)回歸「個人」的本質，促進性別良好互動 (D)不應有性別設限，個人才能自由、多元的發展。
- 40、(2022/9/8 Yahoo 新聞)「勞動部表示，基本工資審議委員會通過基本工資調整案，月薪從現行 2 萬 5250 元調至 2 萬 6400 元，調升 1150 元，調幅約 4.56%；時薪也由 168 元調至 176 元，調升 8 元。勞動部說明，歷來勞資對於基本工資的調整看法，本有各自立場，最終決定的調整幅度，不可能每一個人都滿意…基本工資的目的，是為了保障基層勞工的生活，必需維持住基本生活的實質購買力。」請問上述與下列何種人性尊嚴的內涵最為相關？
 (A)不受性別歧視 (B)可自由選擇工作 (C)保障基本生活 (D)能展現真實自我。
- 41、教育部在審核新課程綱要時，經「外國學者人名譯名審譯」會參考居禮夫人原文名「Marie Skłodowska-Curie，決定採「Curie, Marie」譯為「居禮瑪里」，新版教科書已陸續正名。教育部強調，教科書中學者譯名應符合性平教育並考量國際慣用，尊重改名決議。這樣的作法是希望維護哪一項性別平等的原則？
 (A)家務承擔的責任分配 (B)利益分配的公平性 (C)個人需求是否被滿足 (D)工作貢獻的肯定
- 42、(2022/3/22 中央社)「主計總處公布國情統計顯示，2020 年家庭暴力事件通報案件被害人 11.4 萬人，其中女性，占比 65.7%，較男性高 31.4 個百分點，性別占比差距呈縮減趨勢。雖然女性家暴被害人仍是比率較高的，但男性被家暴人數較前一出 5727 人。男性家暴被害人多是受到親密關係暴力居多，不同性別都有可能成為家庭暴力的受害者，實務上也發現男性受限傳統文化框架、刻板性別印象等因素，在面對受暴時往往不自覺，容易陷入「難看見、難開口、難求助」的處境，這三個為難經常是男性受暴後最不容易突破的障礙。衛福部還特別設置 0800-013-999 男性關懷專線。」請從性別概念判斷，文中男性受害者易陷於不敢通報的原因與下列何者有關？
 (A)礙於傳統對男性的社會性別印象 (B)基於生理性別男性天性不易開口
 (C)只有女性才是家庭暴力的受害者 (D)男性家暴受害者主因是朋友衝突。
- 43、政府透過許多管道推動社會福利相關政策，例如：以公益彩券回饋金，協助經濟弱勢民眾繳納部分健保相關費用；放寬低收入戶審查門檻，協助經濟弱勢家庭獲得社會救助等。上述政府的二項作法，最主要是為了達成下列何項目的？
 (A)確保民眾財產權利 (B)縮短城鄉發展差距 (C)保障人民生存權利 (D)推廣志工服務活動。 **【105 會考】**

2018 我國前 10 大常見名字

男性	女性
家豪	淑芬
志明	淑惠
俊傑	美玲
建宏	雅婷
俊宏	美惠
志豪	麗華
志偉	淑娟
文雄	淑貞
承翰	怡君
冠宇	淑華

資料來源：內政部 戶政司(2018.10)。全國姓名統計分析。頁 56。

◎題組題：

題組一

【2022/9/23 風傳媒】 伊朗 80 多個城鎮連日爆發反頭巾示威，不分男女老少都走上街頭。13 日，首都德黑蘭 22 歲女子阿米尼 (Mahsa Amini) 因為違反頭巾法而被道德警察逮捕。16 日，她離奇死亡，疑似拘留時遭毆打，當局卻宣稱她的死因與心臟病有關。年輕女孩只因頭巾沒戴好就慘死，伊朗民眾悲憤不已。連續好幾天，該國男人和女人上街要求「正義、自由、不要強制頭巾」，面對安全部隊的暴力鎮壓，他們共同死守街頭，甚至呼籲推翻這個伊斯蘭共和國政府。

自伊朗 1979 年爆發伊斯蘭革命以來，掌權什葉派就將其對伊斯蘭律法的解釋入憲，強制要求女性戴頭巾，目的是為了彰顯伊斯蘭國家的特徵，也是對前代王朝實施現代化政策的反擊。

- 44、根據上述新聞內容，下列有關該國女性的人性尊嚴敘述何者正確？
 (A)該國女生的身體的完整受到妥善的維護 (B)該國女子享有身為人應有的生存條件
 (C)該國女子缺乏自我決定的能力與機會 (D)該國女子的生命安全性一直受到保護。
- 45、上文中有關伊朗的反頭巾示威運動，民眾主要是要訴求什麼？
 (A)政府對於女性應維持強制頭巾 (B)社會提供個人不受限制的自由權
 (C)政府透過法律政策維護人性尊嚴 (D)要求人人應有平等受尊重的權利。

題組二

【2022/9/13 LINE TODAY】維護性別平權及多元性別潮流，新北市林口區公所各項社會建設上尊重不同性別特質，在婦幼公園打造了「性別友善廁所」，全新的設施及無障礙環境，不只多元全齡，也能照顧長者、幼兒及身心障礙者。目前正在試營運中!

- 46、請問從上文報導中可知，該公所是透過哪一種方式來保障人權？
(A)關懷不同特質者的需求 (B)提供民眾經濟上的援助
(C)制定保障人權的相關法規 (D)宣導破除對種族的偏見觀念。
- 47、該公所這樣的作法是做到了哪一方面人性尊嚴的尊重？
(A)種群 (B)性別 (C)區域 (D)宗教。



題組三

- 48、右圖是新聞報導中的標題，若新聞事件中的受害者要尋求權利救濟，下列哪一項法律最能提供他協助？
【108 會考】
(A)《刑法》 (B)《少年事件處理法》 (C)《性別工作平等法》 (D)《性別平等教育法》。
- 49、根據右圖新聞內容判斷，下列敘述何者 **有誤**？
(A)被害人或其父母可向學校申訴 (B)由學校性別平等教育委員會調查輔導
(C)開黃腔為一時口誤不予理會即可 (D)學校應該加強防治校園性騷擾宣導。
- 50、如果你在現場，聽到同學開黃腔性騷擾其它同學時，你該如何用 **最妥當適合** 的方式來處理？
(A)立刻制止取笑的同學，並且請老師協助處理 (B)忽略視而不見的走過，反正不是對自己說
(C)自知沒能力制止同學，乾脆當作沒這回事 (D)幫忙協助報警，並且以暴力方式回擊同學。



試題完成，記得再檢查一遍答案卡與試卷，並務必將自己的答案抄寫於題目卷上，以利試後檢討。