

臺北市立新民國中 111學年度 第一學期 八年級社會領域 第一次段考試卷

八年 班 座號： 姓名：

一、單選題(共有 50 題，請掌握好答題時間。)

※【歷史科】第 1-16 題，每題 2 分。

1、依據《孟子·萬章篇》所述：「王畿，地方千里。公侯皆百里，伯七十里，子男五十里，……，不達於天子，附於諸侯曰附庸。」上文描述的應是下列何者？（註：公侯伯子男均為周朝諸侯爵位。）

- (A)編列戶籍 (B)貴族壟斷禮樂
- (C)實施封建 (D)世族壟斷官職。

2、家家在歷史博物館的某個展覽介紹中看到如右圖的資料，請問：家家所看到的展覽名稱應該為何？

- (A)殷商文化的發展 (B)西周封建下的禮樂
- (C)興築長城與北方外患 (D)絲路開通與文化交流。

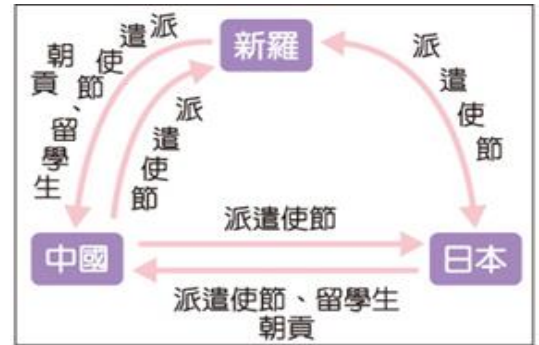
(1)《隋書·音樂志》：「今曲項琵琶、豎頭箜篌之徒，並出自西域，非華夏舊器。」
(2)羅馬帝國的壁畫繪有「酒神的狂女」邁那得斯身著絲綢外衣。
(3)敦煌出土以梵文寫成的佛教經文。

3、魏晉南北朝是中國史上政治大分裂，民族、文化大融合的時期。請問：魏晉南北朝時期由於胡漢融合和文化交流，孕育出哪一個盛世？

- (A)商周 (B)秦漢 (C)隋唐 (D)明清。

4、右圖是某一時期亞洲三個國家交流的情形，根據內容判斷，此時期的交流對當時日本造成了何種影響？

- (A)天皇大權旁落流入幕府 (B)全面中國化本土文化消失
- (C)日本成為東亞地區強國 (D)積極革新並吸收中國文化。

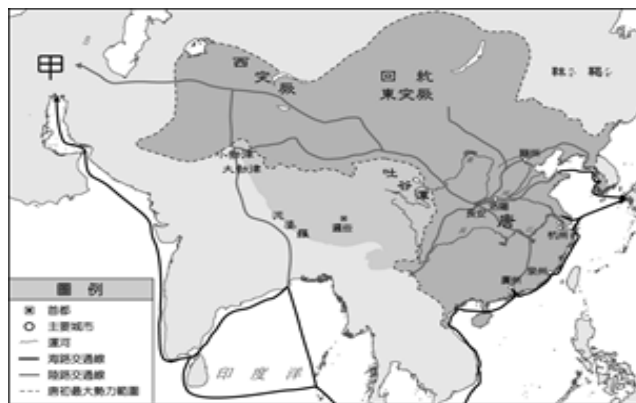


5、唐朝有首詩寫道：「舊時王謝堂前燕，飛入尋常百姓家。」請問：類似王、謝這些世家大族的沒落，除了與政治上的動亂有關，又與下列哪項制度的實施相關？

- (A)封建體制 (B)推舉孝廉 (C)九品官人之法 (D)科舉制度。


6、下圖為唐代對外主要貿易路線圖，圖中與中國貿易往來頻繁的「甲」應為下列何國？

- (A)大食 (B)大秦 (C)吐蕃 (D)新羅。



7、右圖為書法字體中的小篆，其為某一時代通行全國的字體，對中國各地的文化交流有重要影響。請問：關於此字體形成的背景與影響，下列敘述何者正確？

- (A)造成世族社會的出現 (B)此文字是為確立封建體制而施行
- (C)此為中國首度出現的統一文字 (D)由唐太宗大力推行？



8、張騫是中國著名的外交家和探險家。首先開闢了一條經西域、中亞，通往北非、歐洲的道路，此即後世所稱的絲綢之路。西漢歷史學家司馬遷將張騫通西域的壯舉稱為「鑿空」，形容他開通東西兩方的壯舉。請問：皇帝派遣張騫出使西域的主要目的是什麼？

- (A)聯絡西域諸國夾擊匈奴 (B)護送漢朝公主與匈奴和親
- (C)積極發展對西域各國的貿易 (D)說服南匈奴降漢以移居邊境。

9、承上題，皇帝派遣張騫到西域，讓西方貿易通道的「絲路」更加活絡。請問：張騫可能走右圖中的哪一條路線？

- (A)甲 (B)乙 (C)丙 (D)丁。



10、秦一統天下之後，實行一系列加強中央集權、鞏固國家統一的措施，下列哪一敘述是秦代實行中央集權的措施？

- (A)重用外戚在朝為官 (B)地方的首長由朝廷直接任免
(C)分封宗室駐守各地 (D)賦予地方長官軍政大權。

11、日文中的「平假名」，如附圖所示，其創造是模仿自漢字的何種字體？

- (A)草書 (B)隸書 (C)篆書 (D)楷書。

平假名	波	は	奈	な	太	た	加	か	安	あ
	利	り	去	ひ	比	ひ	仁	に	知	ち
	以	い	以	い	以	い	以	い	以	い

12、魏晉南北朝時，由於人民飽受戰亂之苦，宗教成為精神寄託，到了隋唐(甲)宗教在中國進入鼎盛時期，曾有求道修行者(乙)赴印度求學，把西行取經的見聞寫成《大唐西域記》一書，使得上述的宗教成為中國最多人的信仰，請問以下對(甲、乙)的配對，何者正確？

- (A)張騫、伊斯蘭教 (B)嬴政、基督教
(C)文成公主、婆羅門教 (D)玄奘、佛教。

13、某場研討會流程表如右圖，下列何者最適合此研討會的主題？

- (A)絲路貿易的發展史 (B)唐代的外交策略
(C)漢人胡化過程 (D)農業民族和草原民族的關係。

9：30～10：30	漢化不漢化？北魏孝文帝的抉擇
10：30～11：30	長城的修築史
11：30～12：00	綜合座談
12：00～13：00	休息時間
13：00～14：00	張騫出使這條路不平靜
14：00～15：00	文成公主的心情
15：00～16：00	綜合座談

14、牧野之戰是中國信史上第一個被記載可信的王朝決戰，由當時商

紂王迎戰周武王，周武王聯合其他方國部落部隊會合，雙方大戰於牧野。此場戰役中，商紂王戰敗、周武王獲勝，周代開始。請問：牧野之戰的意義為下列何者？ (A) 商王已能有效控制天下的諸侯 (B) 商朝為一王權集中的國家 (C) 商王的共主地位並不穩固 (D)商王與大多數諸侯保持合作關係。

◎請閱讀短文，並回答下列問題：

中國歷史上，首都的選址是一件大事。首都的選定，可能影響國勢與文化方向，北魏孝文帝遷都即是著名的例子。鮮卑君主北魏孝文帝欣慕漢文化，將首都平城遷移至漢人的都城，並厲行禁胡服、變姓氏等漢化政策，為胡漢交融的趨勢奠下基礎。

唐人的視野比任何一個朝代的中國人都更為廣闊，盛唐時期的唐帝國之所以成為外國人雲集聚居的地方，不單是它具有開放性，更重要的是它具有文明世界的優越性，唐朝具有史書記載「天下國家」的世界性。整個東亞地區都接受中華文明的洗禮，



15、北魏孝文帝所實施的漢化政策中，有一項內容是將首都從平城遷至何處呢？

- (A)A (B)B (C)C (D)D。


16、唐朝時文化鼎盛，成為文化中心，當時某國派遣唐使至唐，全力學習唐代文化，而有「君子國」之稱的國家為何？

- (A)E (B)F (C)G (D)H。

※【地理科】第 17-33 題，每題 2 分。

17、右圖為中國五大地形比例圖，請問哪一種地形種類是台灣見不到的？

- (A)丙 (B)甲 (C)丁 (D)乙

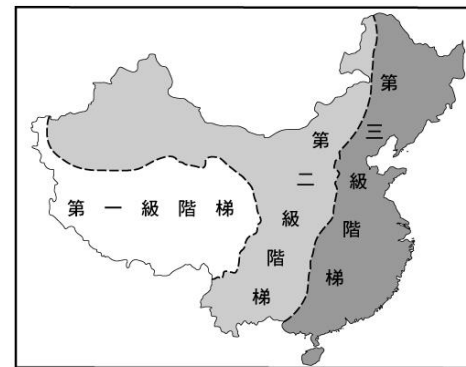


18、自然環境會對早期人類的生活型態有著絕對的影響力，請問下列哪種建築構造或風格是將當地土壤性質發揮到極致？

- (A)杆欄式建築 (B)騎樓 (C)窯洞 (D)蒙古包。

19、中國的某一地理區中，除濱臨世界第一高峰，同時擁有世界海拔最高的鐵路線，更甚至是中國重要河川的發源地，題目所描述的是右圖哪一區域？

- (A)第三級階梯 (B)第二級階梯 (C)第一級階梯



20、下列選項中何者並非秦嶺與淮河所代表的地理分界線？

- (A)一月 0 度等溫線 (B)水田與旱田分界
(C)副熱帶與溫帶 (D)年雨量 500 公釐。

21、「中國某地區的 1 月均溫約為 -5°C，7 月約在 20°C 以上；年降水量在 280 mm 左右，夏季是主要雨季。」由上文判斷，該地區應為何種氣候？

- (A)溫帶季風氣候 (B)溫帶草原氣候 (C)熱帶季風氣候 (D)副熱帶季風氣候

22、中國國土廣大，地形複雜所以氣候也多變，以下對中國氣候特徵的敘述中，哪一項是正確的？

- (A)冬季普遍高溫 (B)降水量東南向西北遞增 (C)夏季南北溫差突破 40 度 (D)降水集中夏季。

23、下列選項中的哪一項地理特性搭配上季風，讓中國免於全境乾燥之窘境？

- (A)全境以溫帶為主 (B)地勢西高東低 (C)山地與高原佔六成 (D)疆界面積名列世界第四。

24、泰國曼谷的唐人街乍看之下像極了中國都市樣貌，從餐飲到宗教無一不飄散濃濃的中國風，請問此一由移民將原鄉文化攜帶至移居地的現象稱為？

- (A)文化複製 (B)文化拷貝 (C)文化擴散 (D)文化傳遞

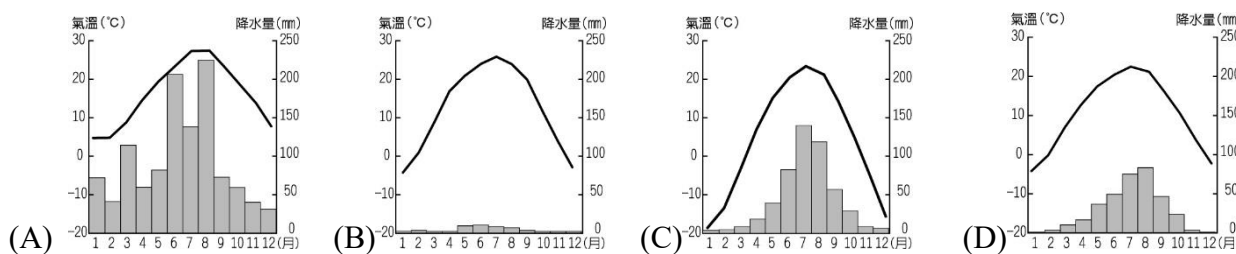
25、所謂季風是指隨著季節轉換風向的風，請問風向轉換的主因為何？

- (A)地球自轉導致風向改變 (B)海陸性質的差異 (C)山脈阻檔導致變向 (D)日月位置不同所導致。

26、2014 年人口和計畫生育局向中國名導演張藝謀夫婦寄出《社會撫養費徵收決定書》，認定兩人非婚生育了 3 名子女，違反了中國計畫生育法，依法徵收計畫外生育費及社會撫養費共計人民幣 748 萬餘元，請問此一計畫生育法依據的是當時哪一項國家政策？

- (A)一胎化政策 (B)二胎化政策 (C)三孩政策 (D)禁止生育政策。

27、請問判斷下列四張氣候圖所代表的氣候類型，何者可代表右圖所標示地區之氣候？

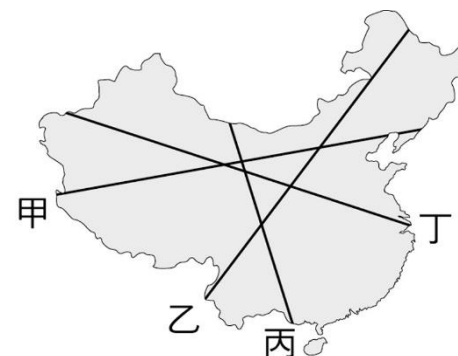


28、「生活環境所能供養生物的數量的能力及分解穢物的能力」是指下列哪一項數據？

- (A)環境續航力 (B)環境支撐力 (C)環境恢復力 (D)環境負載力

29、中國的人口分布因許多因素而極度不均勻，請問右圖中哪條線，最能代表中國人口分布密集與疏鬆的分界？

- (A)甲 (B)乙 (C)丙 (D)丁。



30、中國長河大多由西向東流入海洋，連古代詩詞中也出現「一江春水向東流」的字句，而造成此現象的主為何？

- (A)地勢走向 (B)季風方向 (C)海岸線長短 (D)緯度高低。

◎請閱讀短文，並回答下列問題：

英國廣播公司（British Broadcasting Corporation）2016年報導安徽省有座「光棍村」—在這個 1,600 人的村莊裡，有 112 個年齡在 30~55 歲的男子被登記為單身，比例極高。這說明中國的適婚男性找不到結婚對象的問題非常嚴重，也因此出現許多相親活動。根據中國國家統計局 2010 年的人口普查數據顯示，2000 年後出生的人口約 1.46 億人，其中男生比女生多了將近 1,300 萬人，在在顯示中國人口的嚴重失衡。

- 31、文中所描述的現象，最適合用哪一項數據來證明其嚴重性？
(A)都市化程度 (B)扶養比 (C)性別比 (D)識字率。
- 32、文章中所描述的現象，追根究底可說是源自於哪一項的國家政策？
(A)一胎化政策 (B)共同富裕政策 (C)清零政策 (D)一中政策。
- 33、承上題，上述的國家政策除了導致單身問題嚴重外，眼下哪一個現象亦很可能在村落中出現？
(A)宏珉家今年收到五張國中入學通知 (B)利行的爸媽每個月在眾多兄弟姊妹家裡輪流住
(C)兒子不在家，85 歲的宸澤仍得要下田耕作 (D)銷鉅的妻子在 2010 年時為他添了第九個孩子。

※【公民科】第 34-50 題，每題 2 分。

- 34、下列是八年 5 班召開班會的情形，若以民主政治的特色來看，其中哪一個選項為最能符合「依法而治」法治精神？
 (A)導師指定班級幹部的人選 (B)班會的實施依照《會議規範》來進行
 (C)模範生的人選以多數人意見為依歸 (D)班長不能以身作則，必須下臺以示負責。
- 35、權力(power)與權利(right)是法治國家的兩大軸心，請問：下列用法何者**正確**？
 (A)警察有取締違規交通的權力 (B)立法院應有監督好行政院的权利
 (C)檢察官依法提出公訴的權利 (D)人民有權向政府拒絕徵收的權力。
- 36、香港特別行政區政府修訂媒體俗稱的「逃犯條例」，只要有涉嫌犯案疑慮的人士，都可能面對無條件被逮捕、移交中國處理的風險，但卻引起人民大規模的抗議行動，香港特首宣布撤回「逃犯條例」，此舉所代表的意義為何？
 (A)人民成功推翻政權 (B)政權在和平狀態下轉移 (C)代表國家主權為人民所有 (D)承認政府的政策違反民意。
- 37、(2022/9/3 中央社)「美國國防安全合作署宣布 3 批總價值約 11 億美元的對台軍售案，包括 100 枚響尾蛇飛彈、60 枚魚叉反艦飛彈及監視雷達合約。這是拜登政府上任以來第 6 度對台軍售。」我國購買武器是為了以下國家存在何種目的？
 (A)維持社會秩序 (B)保障基本人權 (C)保衛國家安全 (D)發展社會福利。
- 38、下表為人治與法治所做的比較表，請問哪一項內容正確？

	人治	法治
(A)有無法律的存在	無	有
(B)法律的制定者	民意代表	統治者
(C)法律約束的對象	政府與人民	人民
(D)制定法律的目	統治者統治人民的工具	保障人權、限制政府權力

- 39、(2022/8/26 Yahoo 新聞)「南韓政府日前公布 2021 年的婦女生育率，平均每名婦女一生只生 0.81 個孩子，較前一年的 0.84 再創新低，也是連續四年創下生育率低於 1 人的紀錄。而我國國發會也於日前發布「2022 年至 2070 年人口推估」報告，今年受到疫情和虎年影響，預估今年總生育率降至 0.89 人，也將創歷史新低紀錄，預估出生數約為 13 萬至 14 萬人，較去年減少 1 至 2 萬人。」由上文判斷，韓國與我國的哪一項國家組成要素已經逐漸產生變化？
 (A)人民 (B)政府 (C)主權 (D)領土。
- 40、右表是出來有關「國家」與「政府」的比較表，依據內容，下列敘述何者正確？
 (A)從範圍而論，政府包含而且大於國家
 (B)從持續性而論，政府更替會影響國家存在
 (C)從權力而論，國家的主權可透過政府來運作
 (D)從整體而論，國家的概念等同於政府的概念。

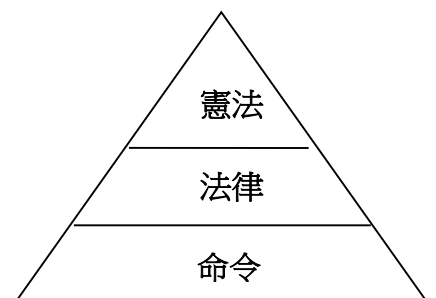
	國家	政府
範圍	廣	國家組成要素之一
權力	主權	統治權
持續性	永久持續	短暫可更替

◎題組題：

題組一

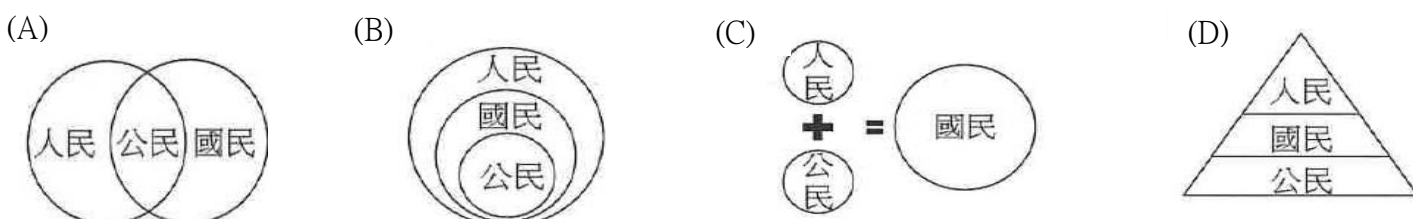
◎右圖為我國法律三位階示意圖，依據此圖回答以下 41-43 題：

- 41、哪一層的法律需由立法院三讀通過，再由總統公布？
 (A)憲法 (B)法律 (C)命令 (D)地方法規。
- 42、承上題，下列哪一項法律條文符合上述的法規制定程序？
 (A)中華民國憲法 (B)國民中學成績考查辦法
 (C)大學法施行細則 (D)少年矯正學校設置及教育實施通則。
- 43、有關「命令」這一層的法律類型，具有下列何項特色？
 (A)可由行政機關訂定 (B)必須經總統公布施行
 (C)內容多為原則性的規範 (D)修改必須經公民投票複決。



題組二

44、人民是國家組成要素之一，下列對於「人民、國民、公民」三者的圖示關係，何者最能正確描繪出？



45、下列何人最有可能是屬於中華民國的「國民」？

我爸從美國來台工作，我跟來著來台灣念2年中學。



(A)

出國終於解禁了，我已準備好中華民國護照了！



(B)

我來台3年了，下個月要回我的國家日本了。



(C)

身為英國人，嫁來台尚未完成歸化手續。



(D)

題組三

◎右圖為我國 2020 年 113 席立法委員選舉結果圖：

46、我國人民每四年可以透過選舉制度選出我國的立法委員，同時也讓政府知道多數民意之所在的作法，屬於民主政治的哪一項特徵？

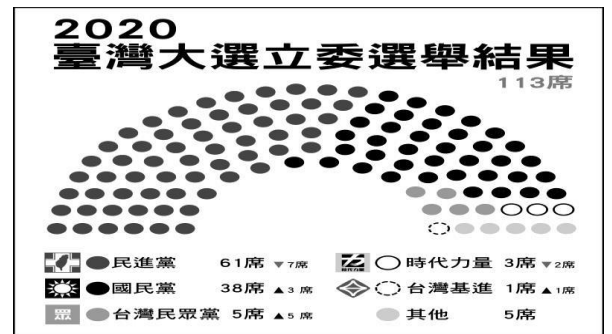
(A)民意政治 (B)法治政治 (C)政黨政治 (D)責任政治。

47、從右圖的立委分布在不同政黨的比例，也突顯出哪一項民主政治特徵？

(A)民意政治 (B)法治政治 (C)政黨政治 (D)責任政治。

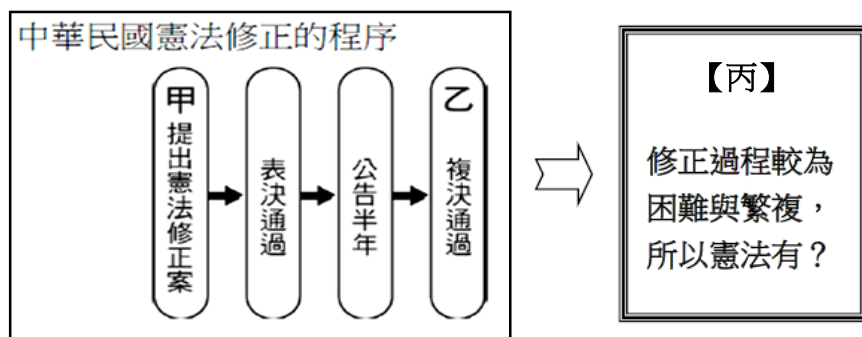
48、2020 年除了立委外，亦有舉辦總統大選，綜觀我國的政治發展，已出現三次政黨輪替，成為民主制度發展比較穩定的國家。由上述可知，哪一項國家組成的要素會隨著政黨輪替而轉變？

(A)人民 (B)領土 (C)政府 (D)主權。



題組四

◎下圖為我國憲法的修改程序圖表，請根據圖表回答 49-50 題：



49、請問，圖中的甲、乙兩處分別為以下何者？

(A)甲：行政院、乙：司法院大法官 (B)甲：立法院、乙：行政院
(C)甲：司法院大法官、乙：立法院 (D)甲：立法院、乙：公民投票。

50、上圖【丙】的描述，呈現憲法的何項特性？ (A)優越性 (B)最高性 (C)原則性 (D)固定性。

試題完成，記得再檢查一遍答案卡與試卷，並務必將自己的答案抄寫於題目卷上，以利試後檢討。