

臺北市新民國中111學年度 第一學期 9年級社會領域 第1次段考試卷

9年 ____班 座號：____ 姓名：_____

一、單選題 (1-50 題，每題 2 分。)

※【歷史科】第 1-17 題

- 1、西元前 2500 年，花輪生活在埃及尼羅河一帶的城市，他最有可能看到下列哪一種景象？
(A)崇拜一神信仰，以上帝耶和華為唯一真神
(B)國王頒布法典，強調「以牙還牙，以眼還眼」
(C)人們常受到官員的徵召去興建大型國王陵墓
(D)商人使用刻在泥板上的楔形文字，記錄交易的內容。
- 2、小愛聽到周杰倫一首歌，歌詞中提到：「古巴比倫王頒布了漢摩拉比法典，刻在黑色的玄武岩…」。根據你對這部法典的了解，以下哪一個敘述最符合史實？
(A)使用象形文字所書寫 (B)影響範圍橫跨歐亞非 (C)在法律之前人人平等 (D)以牙還牙，以眼還眼。
- 3、「百萬小學堂」節目某搶答題：「這位歷史人物是前 5 世紀的古希臘史學家，他把旅行中的所聞所見寫成一本書，其中也曾讚嘆埃及是尼羅河的贈禮。」請問：這位歷史人物被稱為「史學之父」是指何人？
(A)柏拉圖 (B)蘇格拉底 (C)希羅多德 (D)亞里斯多德。
- 4、電影《埃及王子》描寫摩西帶領希伯來人逃離埃及，途中他用木杖分開紅海以阻隔追兵，最後希伯來人回到迦南地區，成立王國。請問：關於希伯來人宗教文化的敘述，下列何者正確？
(A)創立的宗教為祆教
(B)聲稱自己為媽祖的選民
(C)宗教教義對基督教和伊斯蘭教造成深刻影響
(D)認為巴基斯坦是上帝賜與他們的土地。
- 5、祖堯進入美國名校哈佛大學後看到了校訓——「與柏拉圖為友，與亞里斯多德為友，更要與真理為友」。請問：下列關於柏拉圖與亞里斯多德的敘述何者為真？
(A)皆為生活在古希臘時的著名哲學家
(B)與亞歷山大合稱為「希臘三哲人」
(C)兩人是雅典民主政治制度的開創者
(D)著有史詩《伊里亞德》傳誦至今。
- 6、電影《300 壯士：斯巴達的逆襲》描述某場戰役中原先希臘聯軍被擊潰，後來斯巴達國王率領三百名武士力抗敵軍，重挫敵軍兩萬兵力，激發希臘各城邦民眾的愛國之心，團結一致終獲得最後勝利。關於斯巴達城邦，下列敘述何者正確？
(A)城邦內施行民主政治
(B)城邦內實行寬容政策
(C)斯巴達統一希臘，建立橫跨三洲大帝國
(D)斯巴達後來與雅典互爭霸權，最後兩敗俱傷。
- 7、歷史老師推薦四本課外讀物清單如下：
(甲) 美索不達米亞的古神話；(乙) 上帝的選民之希伯來人；
(丙) 崇拜光明與火焰的祆教；(丁) 金字塔與聖甲蟲的傳說。
如果小慧要完成「西亞古文明」的報告，請問小慧應該參閱哪些書籍？
(A)甲乙丙 (B)甲乙丁 (C)乙丙丁 (D)甲丙丁。
- 8、文旭穿越時空，到了一個足以容納萬人的圓形競技場，欣賞武士格鬥表演。結束之後，又被邀請到公共澡堂一邊洗澡一邊聊天。請問：文旭最有可能穿越到哪一時空？
(A)城邦時代—雅典 (B)羅馬帝國時代—羅馬城 (C)上古時代—巴比倫城 (D)希臘化時代—亞歷山卓城。
- 9、暑假期間，阿祥參觀博物館特展時，看到如右圖所示的文物，其簡介上寫著此文物涵義：「死者接受審判時，其心臟要經過秤量，以判斷善惡，惡人的心臟會被怪獸吞食，而善人會被帶到河神前獲得重生。」。請問：阿祥參觀的是下列哪項特展？
(A)猶太文明特展
(B)埃及文物特展
(C)波斯傳奇特展
(D)兩河流域文明特展。

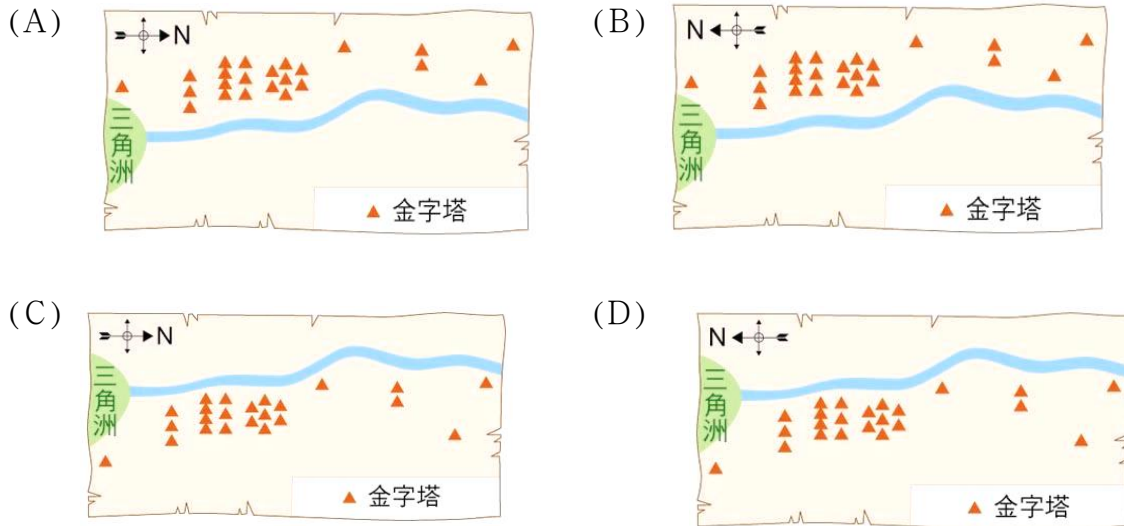


- 10、由於COVID-19 橫掃全球，新民旅行社推出偽出國活動，主題為「虛擬文明之旅」。請依照下圖代號回答問題。
西元前四世紀，亞歷山大創立跨歐、亞、非的帝國，並在其征服的疆域內興建城市。上圖中何處不可能出現亞歷山大興建的城市？
(A)甲 (B)丙 (C)丁 (D)己。



- 11、承上題，新民旅行社為推廣眾人對體育競賽的重視，行程包含參觀奧林匹克運動會起源地。請問關渡旅行需要在行程中，安排上圖中哪個地點的參觀？ (A)甲 (B)丁 (C)戊 (D)己。

- 12、小明在閱讀一本課外書時看到以下敘述：「相傳在古埃及的世界裡，以尼羅河為界線劃分成東、西 2 個部分，城市多位在尼羅河東岸，而亡者都埋葬在尼羅河西岸，一如日出與日落的方位，象徵生命的開始與結束。」請問下列哪張示意圖最符合上文對古埃及人土地利用的描述



- 13、西元前 4 世紀，亞歷山大創立跨歐、亞、非的帝國，並致力促進各地文化融合，締造「希臘化文化」。請問：希臘化文化是融合哪些文化而形成的？
(A)希臘、印度與中國 (B)印度、中國與埃及
(C)中國、韓國與日本 (D)希臘、西亞與埃及。
- 14、埃及是熱門的旅遊景點，不僅可以看到巨大的人面獅身像，也可同時遊歷古希臘風格的神殿遺跡，如埃及北方的亞歷山卓 (Alexandria)。請問：古希臘風格建築的城市會出現在埃及，與哪個事件有關？
(A)波希戰爭後，埃及派人到希臘學習 (B)亞歷山大東征時，修建的希臘風格城池 (C)埃及曾是地中海商業盟主，與希臘貿易同時引進其文化 (D)羅馬帝國管理期間，在帝國內修建希臘風格建築。

- * 昱翔在閱讀羅馬史時，整理幾位重要統治者事蹟，如下列資料所述。請根據下列資料回答問題。

資料一：他為整個羅馬世界所尊敬，在紀念碑上可以看到尊稱他為「奧古斯都」。他不但是大祭司，也是首席元老院議員，更擔任護民官一職。

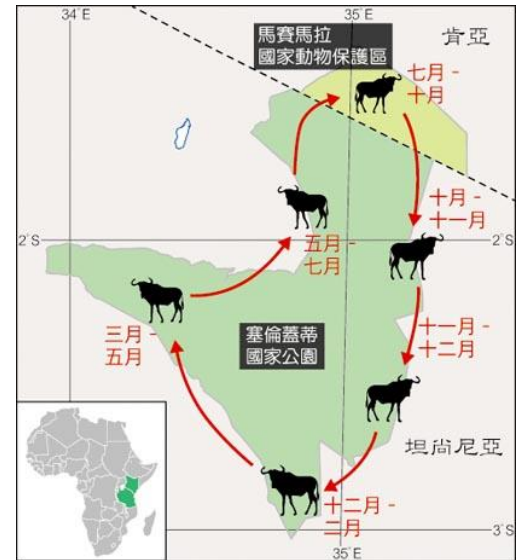
資料二：帝國疆域龐大，在管理上並不是相當容易，因此他決定將帝國區分為東、西兩部分，交由兩個兒子繼承，形成後來東、西羅馬帝國分立的局面。

資料三 共和晚期，他掌握羅馬大權，曾擔任財務長、執政官、監察官等職，但最後卻被刺殺身亡。

- 15、上述資料一的「他」指的是何人？
(A)凱撒 (B)屋大維 (C)漢摩拉比 (D)歐幾里德。
- 16、在羅馬政治體制發展過程中，使羅馬由共和進入到帝制，應是哪段資料所敘述的統治者？
(A)資料一 (B)資料二 (C)資料三 (D)皆錯。
- 17、歷史課時，同學們討論有關羅馬帝國之史實，下列何人敘述錯誤？
(A)小莫：羅馬帝國全境使用拉丁文 (B)老高：中國稱羅馬帝國為大食帝國 (C)阿迪：羅馬在帝國時期，版圖最北方曾到達不列顛地區 (D)阿神：「十二銅表法」成為日後歐洲各國立法的參考基礎。

※【地理科】第 18-33 題

- 18、非洲大部分國家，太過依賴一、兩種農、礦產的出口，以致經濟發展深受下列何項限制？
 (A)生態保護團體 (B)政府管控 (C)國際市場價格波動 (D)糧食作物生產剩餘過多。
- 19、從歷史的殖民文化發展來看，劃分非洲大陸的地理分界是撒哈拉沙漠。觀察上方地圖，下列哪種氣候類型僅在漠南非洲的東南部有出現，但北非全境卻沒有分布？
 (A)高地氣候 (B)熱帶雨林氣候 (C)溫帶地中海型氣候 (D)夏雨型暖溫帶氣候
- 20、下列何者是非洲早期南北交通往來的嚴苛障礙，也是將非洲切割為漠南與漠北非洲的界線？
 (A)那米比沙漠 (B)撒哈拉沙漠 (C)喀拉哈里沙漠 (D)塔克拉瑪干沙漠。
- 21、東非人生活在高原上，肺活量相對較好，10 公里長跑只要 30 分鐘，推測最主要的原因與當地何種環境特徵最為相關？
 (A)空氣較稀薄 (B)終年氣溫低 (C)降水日數少 (D)地勢較平坦
- 22、動物大遷徙主要是在東非肯亞的馬賽馬拉國家動物保護區與坦尚尼亞的塞倫蓋蒂國家公園，這兩個區域主要位於南半球的熱帶莽原區。大量牛羚和斑馬為了覓食，每年大致會如圖按順時鐘的路線，從南到北，又從北到南長途跋涉。上述現象應與下列何者有關？
 (A)地形阻隔 (B)遊客干擾 (C)晝夜長短 (D)雨季差異
- 23、非法種植的可可樹，或者嚴重剝削農民，雇用童工的農場所生產的可可豆，稱之為「汙穢的可可豆」，面對此一歪風，國際間已經開始推廣下列何種運動因應？
 (A)環境保護 (B)性別平權 (C)公平貿易 (D)反戰遊行
- 24、電影馭風男孩在描述一名居住在馬拉威的 13 歲男孩威廉克服環境的困苦，成功中建立一個風車，並且通過風車所產生的電力抽水解決了乾旱問題。這部電影正好是非洲具備有哪一些潛力的最好見證？
 (A)豐沛綠能 (B)豐富礦藏 (C)充沛勞力 (D)優越技術
- 25、下圖為非洲居民傳統的游耕生活方式，其進行的正確順序應為何？
 (A)甲乙丙丁 (B)乙甲丁丙 (C)乙丙丁甲 (D)丙丁甲乙。



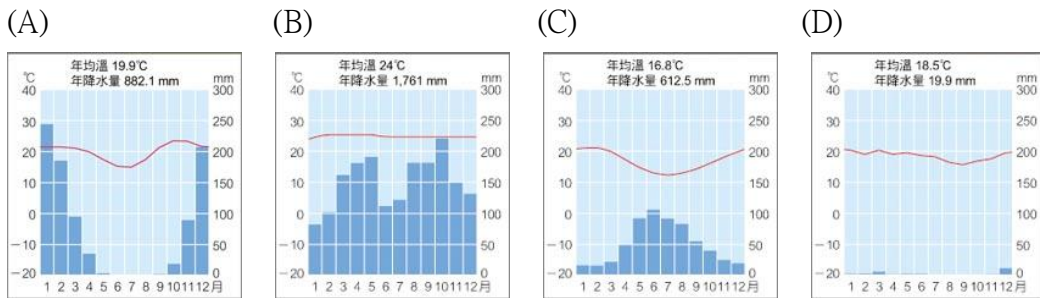
- 26、2000 年之後，漠南非洲開始獲得外國資金，改善基礎建設並提升交通與貿易，長期下來情形可能衍伸出什麼問題？
 (A)基礎建設缺乏 (B)產業經營權遭把持 (C)經濟發展遲緩 (D)國民所得低落。
- 27、非洲的氣候類型最適合用對稱一詞來形容，而對稱軸則為下列哪一條經緯線？
 (A)赤道 (B)本初子午線 (C)南迴歸線 (D)國際換日線
- 28、「這個國家曾實施『種族隔離政策』，限制黑人的居住與活動範圍，經過黑人的抗爭與國際的制裁，終於在一九九〇此一不合理政策，而後更有黑人首次當選該國總統。」上述的國家為何？
 (A)埃及 (B)肯亞 (C)奈及利亞 (D)南非共和國
- 29、受歐洲殖民國家的影響，非洲各國的經濟活動中，以哪種農業類型特別發達？
 (A)游耕 (B)灌溉農業 (C)熱帶栽培業 (D)地中海型農業。
- 30、香港、南非、澳洲等國，皆有以維多利亞為名的地區，請問原因為何下列何者？
 (A)地形種類類似 (B)氣候特徵雷同 (C)原住民族具有血緣 (D)殖民母國相同

◎請閱讀短文，並回答第 31~33 題：

2017年，英國廣播公司新聞部（BBC）記者丹·薩拉蒂諾（Dan Saladino）與坦尚尼亞的哈扎人共同生活了一段時間，親身體驗並對照當地原始社會的生活方式與現代社會的異同。記者發現當地哈扎人的人口數約在1,000人，其中200多人是技術專精的獵人，一位受訪的獵人對記者表示，此地氣候炎熱且乾溼分明，溼季時，樹林有野果，以及蜂蜜。乾季時最容易逮到斑馬，因為斑馬能飲水的地方變少了；或者花幾個小時去掏豪豬的洞窩，部落所有人就能吃飽。因此，哈扎人無法理解，為何有人會整天傻傻站在田地裏，等好幾個月才能收穫到糧食。

記者也觀察到來自外地的農戶開始侵占哈扎人的領域，並嚇走許多野生動物，而這些野生動物正是哈扎人在過去數萬年，每天攝取的食物部分來源之一。

31、哈扎人應該是生活在下列哪種氣候環境？



32、哈扎人為何能維持千百年來的傳統狩獵生活方式？

- (A)當地人口眾多 (B)當地政府立法保護
(C)食物來源豐富 (D)與外來文明未有接觸

33、哈扎人的維生模式屬於下列哪一種類型？

- (A)放火焚林的游耕 (B)原始的採集漁獵
(C)逐水草而居的游牧 (D)定居的放牧

※【公民科】第 34-50 題，每題 2 分。

- 34、人類經濟問題的產生起因於下列何者？
 (A)生態破壞，環境汙染 (B)金融風暴，物價上漲 (C)氣候變遷，能源危機 (D)資源有限，欲望無窮。
- 35、子庭想要複習功課，但又想要跟朋友去看電影。無論她選擇哪一個，都必須付出代價。請問：子庭的情形最符合經濟學的何種概念？ (A)誘因 (B)自由財 (C)機會成本 (D)欲望有限，資源無窮。
- 36、祖堯在放學後嚷嚷的跟好友說：「我愛吃摩斯的紅茶與薯條，更愛吃麥當勞的漢堡，不過我的最愛還是巷口的鹽酥雞！」若其他條件不變，最後祖堯選擇吃漢堡，那他的機會成本是什麼？
 (A)薯條 (B)鹽酥雞 (C)紅茶與薯條 (D)紅茶、鹽酥雞與薯條。
- 37、關於經濟學所討論的「稀少」，下列敘述何者正確？ (A)有錢人不會面臨「稀少」的問題 (B)不花代價就可取得的資源都具有「稀少性」 (C)在沙漠地區，水資源不具有「稀少」的特質 (D)對空污嚴重的地區，清新的空氣具有「稀少性」。
- 38、臺灣高鐵推出「早鳥優惠」65 折後，有些民眾會特別挑選優惠車次，覺得超值又划算；也有部分民眾認為，早鳥優惠的班次都屬於停靠站較多、總車程時間也較長，因此寧願選擇購買原價車票，可挑選自己想搭乘的班次。依據內容判斷，下列敘述何者正確？ 【習作】
 (A)文中高鐵各種車班次的機會成本完全相同 (B)民眾衡量機會成本時，票價是唯一的選擇
 (C)時間成本較高的民眾，仍須負擔金錢成本 (D)金錢成本較低的民眾，時間耗費相對較低。
- 39、(2022/09/2 聯合新聞網) 據報導：「桃園市八德區某砂石場去年 10 月遭爆占用國有地、砂石堆置 10 層樓高、掏空電塔周圍土石影響安全。市府環保局說，業者因 1 年內違反水汙法相同法條 2 次以上，情節重大，已勒令停工。」上述環保局的做法與下列何種行為的誘因性質最為類似？
 (A)市政府表示如果發現違章建築，一律依法拆除 (B)為了提高生育率，各縣市地方政府發放發放育兒補助金
 (C)騎士未戴安全帽騎機車，依法可處 600 元罰款 (D)為鼓勵學生學習均衡發展，民間團體提供獎助學金資助。
- 40、可謙大學畢業後有甲、乙、丙三份工作機會，她將其各自的機會成本繪製如右表。
 若可謙僅以薪資為考量，根據表中內容判斷，甲、乙、丙三份工作的薪資，由高到低依序為下列何者？ (A)乙、丙、甲 (B)丙、乙、甲 (C)乙、甲、丙 (D)甲、乙、丙。
- | 工作 | 機會成本 |
|----|------|
| 甲 | 丙的薪資 |
| 乙 | 丙的薪資 |
| 丙 | 乙的薪資 |
- 41、超商常常利用滿額可得到點數的方式，讓民眾在消費的同時蒐集到相當數量的點數以換取贈品。請問：超商此舉是想要達到何種經濟效果？ 【習作】
 (A)提供金錢的誘因，鼓勵消費者減少購買(B)透過降低價格的方式，增加消費者購買意願
 (C)提供非金錢誘因，刺激消費者增加購買(D)透過增加價格的方式，降低消費者購買意願。

- 42、右表是爾威星期六晚上 6 點到 9 點時可以選擇從事的事情。假如他的滿足感完全來自金錢，根據右表資料，爾威決定選擇乙事情時的機會成本是多少元？
 (A)250 元 (B)350 元 (C)550 元 (D)600 元。

甲	在家裡觀看美國職棒大谷出賽
乙	看中華職棒內野門票 250 元
丙	到手搖杯店打工賺 300 元
丁	到補習班打工賺 350 元

- 43、鈺婷和以諾為了拍美美的畢業照留下永恆的回憶，相約逛街選購衣服。鈺婷在西門町看到一家服飾店擠滿購買人潮，兩位看到店門口張貼著下圖的廣告，對以諾說：「真是太划算了，我們進去看看吧！」根據內容判斷，業者為吸引顧客上門購買的誘因是下列何者？
 (A)店家魅力 (B)商品價格 (C)個人偏好 (D)環保考量。

~任君挑擇，因為你值得~

★ 1 件 399。

★★★★ 3 件，每件 299。

★★★★★ 5 件以上，每件 199。

走過路過，不要錯過。

◎題組題：

題組一

- 44、《刑法》第 310 條規定「意圖散布於眾，而指摘或傳述足以毀損他人名譽之事者，為誹謗罪，處一年以下有期徒刑、拘役或一萬五千元以下罰金。」請問：上述罰則中的有期徒刑、罰金依序屬於下表中的何種類型？ (A)甲乙 (B)丙乙 (C)甲丙 (D)乙丁。

	非金錢誘因	金錢誘因
負向誘因	甲	乙
正向誘因	丙	丁

- 45、承上題，下列何者所應承擔的責任行為與上述罪刑相同？
 (A)爸爸未戴安全帽騎機車接小孩放學 (B)沒有按時申報所得稅，被國稅局罰得補繳納稅金
 (C)一時衝動下拿走店裡未結帳的商品 (D)自家陽臺上的花盆不慎掉落，砸壞停在樓下的汽車。
- 46、若想提高學習的動機與成績，請問：下列選項中，何者屬於「負向金錢誘因」？
 (A)成績退步就減少零用錢 (B)成績退步就禁止玩手機 (C)成績退步就禁足在家，不准出去玩 (D)成績進步就增加零用錢。

題組二

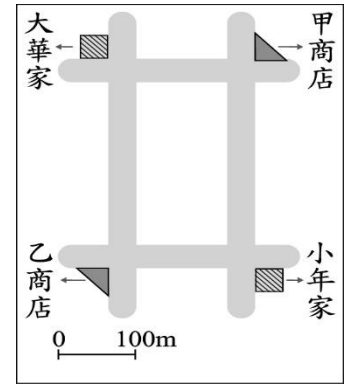
47、小芊獲得甲、乙、丙、丁四個薪資不同的工作機會，若她僅以薪資作為選擇工作的依據，在甲、乙兩工作中，她會選擇甲工作，且機會成本為 35,000 元；她另將乙、丙工作與乙、丁工作分別比較，結果整理如右表。根據表中資訊判斷，乙、丙、丁三項工作的薪資高低關係應為下列何者？
【109 會考補考】

選擇比較的工作	最佳選擇的機會成本
乙、丙	35,000元
乙、丁	32,000元

48、承上題，若以一句諺語來描述「機會成本」的概念，下列何項說法最正確？
(A)行行出狀元 (B)魚與熊掌無法兼得 (C)買一把菜還送一把蔥 (D)又要馬兒好，又要馬兒不吃草。

題組三

49、右圖為大華與小年住家附近的地圖，甲、乙二商店均販賣大華與小年想購買的某項商品，且該商品在甲商店的售價比乙商店高。若大華僅想就近買到商品，而小年卻只想以便宜的价格購買，則對此二人而言，到哪一間商店購物的機會成本較高？
【111 會考】



- (A)皆為甲商店
 - (B)皆為乙商店
 - (C)大華：甲商店，小年：乙商店
 - (D)大華：乙商店，小年：甲商店。
- 50、根據上文內容，下列敘述何者正確？
- (A)對大華來說，價格便宜是決定購買商品的誘因
 - (B)對小年而言，離家近是唯一考量因素
 - (C)小年受到價格便宜的這項金錢誘因而決定購買
 - (D)比起離家遠近大華對於金錢的誘因更能吸引他。