

# 臺北市立新民國中111學年度 第一學期 七年級社會領域 第三次段考試卷

七年 \_\_\_\_\_ 班 座號：\_\_\_\_\_ 姓名：\_\_\_\_\_

單選題(1-50 題，每題 2 分。)

## ※【歷史科】第 1-17 題

- 漢人移民逐漸增加，平埔族和漢人的接觸日漸頻繁，在許多方面受到漢人的影響。請問平埔族的生活方式發生了下列何種變化？  
(A)放棄農耕，成立行郊，經營商業 (B)學習漢人的水田稻作技術  
(C)皈依基督教，聯合洋人對抗漢人 (D)跨海移居至菲律賓及南洋各島
- 十九世紀中期，清帝國在英法聯軍之役戰敗，被迫開放臺灣港口通商。請問下列何組答案是正確的通商口岸？  
(A)打狗、鹿港、基隆、淡水 (B)八里坌、基隆、安平、打狗  
(C)臺中、鹿港、基隆、打狗 (D)打狗、安平、淡水、基隆
- 清朝將臺灣納入版圖後，漢人陸續移民來臺，當時移居臺灣的漢人大部分來自中國大陸的哪兩省？  
(A)福建、廣東 (B)廣東、廣西 (C)浙江、福建 (D)江蘇、浙江
- 關於清帝國時期臺灣移民的信仰，下列敘述何者正確？  
(A)王爺是專屬客家人的信仰 (B)媽祖在臺灣是沿海漁鄉才會祭拜的原鄉信仰  
(C)土地公是共同信仰 (D)有應公廟是漳州人的原鄉信仰
- 清帝國時期，臺灣有三大貿易港口：「一府、二鹿、三艋舺」，如附圖所示，這三大貿易港口往來的貿易活動繁盛，帶動起周遭經濟的繁榮。請問：這三大港口主要進行貿易的對象為何？  
(A)日本 (B)東南亞 (C)中國大陸 (D)歐美各國
- 一八六〇年代以後，臺灣政治經濟重心逐漸由南部轉移至北部，其主要原因為何？  
(A)南部米糖生產下降，經濟蕭條，造成人口往北移動 (B)南部多颱風與地層下陷，天災頻傳，迫使人口外移  
(C)北部移民來源複雜，經常發生變亂，必須駐兵鎮壓 (D)北部發展茶與樟腦，外銷貿易成長，經濟發展快速
- 西元 1859 年，泉州人攻入八芝蘭(今士林)街道，漳州人退避芝山岩，並於四周興建隘門，作為防守之用。雙方攻防多日後，漳州人終因隘門的保護而免於滅族。關於此次事件，下列敘述何者正確？  
(A)屬於官逼民反的民變 (B)發生於鄭氏政權在臺時期 (C)因姓氏區分彼此而產生摩擦 (D)因祖籍不同造成的械鬥
- 阿志是清代居住在臺灣的漢人。請問：阿志需要和政府申請什麼執照才可從事土地開墾？  
(A)居住證 (B)移民令 (C)墾照 (D)土地所有權狀
- 唐山祖與開臺祖，都是清帝國時期臺灣移民社會的宗族組織，使漢人彼此間有共同祭祀的對象，成為互助合作的一股凝聚力。有關唐山祖與開臺祖左下方的比較圖表，何者選項正確？

選項	唐山祖	開臺祖
(A)	盛行時間較晚	盛行時間較早
(B)	根源於血緣關係	根源於地緣關係
(C)	供奉原鄉神明	供奉共同信仰的神明
(D)	祭祀原鄉同姓祖先	祭祀來臺第一代祖先

<b>第 6 部 淡水的宣教總部</b>
第 29 章 淡水描繪
第 30 章 培訓本地傳教者
第 31 章 牛津學校
第 32 章 婦女傳教的成果
第 33 章 醫療工作及醫院
第 34 章 我們和長老教會
第 35 章 回顧與前瞻

- 靜香到圖書館翻閱一本人物傳記，書中的目次如上右圖所示。請問：這本書是下列何人的傳記？  
(A)馬雅各 (B)沈光文 (C)馬偕 (D)施琅

- 11、開港通商對臺灣社會造成很大的影響，也對原住民族產生巨大的衝擊，除了西方宗教的傳入、對原始山林的破壞等情況之外，清廷的「開山撫番」行動，導致原住民族嚴重的死傷。下列哪一事件即是清帝國時期的原漢衝突事件？  
 (A)牡丹社事件 (B)郭懷一事件 (C)大港口事件 (D)林爽文事件
- 12、下列何人不是清帝國時期發動民變的領袖人物？  
 (A)林爽文 (B)郭懷一 (C)朱一貴 (D)戴潮春
- 13、台南新樓醫院已成立一百多年，是由被尊稱為台灣醫療宣教之父所創立的。請問這位傳教士是誰？  
 (A)馬雅各 (B)馬卡龍 (C)馬偕 (D)馬歇爾
- 14、是在書上讀到：「清代臺灣商人間為避免惡性競爭，成立了一個組織，來維持彼此間的公平買賣。」請問書上說的是何種組織？  
 (A)洋行 (B)行郊 (C)互助會 (D)工會
- 15、關於八堡圳的敘述，下列何者正確？  
 (A)興建時間最晚 (B)由施世榜籌款興建 (C)是與原住民合力興建的水利工程 (D)灌溉茶園促成北部經濟興盛

題組◎請參考清代臺灣產業分布圖，並回答下列問題：



- 16、茶葉、蔗糖的產地分別位於圖中哪個區域？  
 (A)甲、丙 (B)丙、甲 (C)乙、甲 (D)甲、乙
- 17、開港通商後，關於臺灣主要外銷商品的敘述，何者正確？  
 (A)甲地所產商品是開港後最大宗輸出品 (B)乙地所生產的商品出口歷史最為悠久  
 (C)丙地商品的產地主要分布於丘陵地區 (D)這些輸出品主要經由郊商外銷到全球

※【地理科】第 18-34 題

18、造成臺灣河川水系東西分流的主要原因為何？

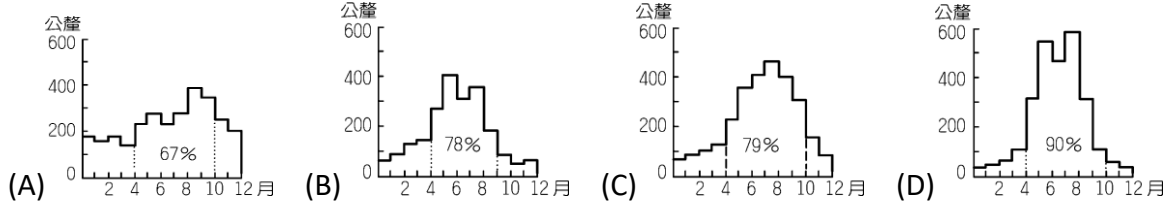
- (A)降水量多寡 (B)山脈縱貫 (C)降雨分布不均 (D)河流侵蝕堆積。

19、子軒暑假到台南沿海體驗曬鹽工作的辛苦，隔天再到阿里山健行看日出。在山上時，他冷到要裹著棉被才能去欣賞破曉。

請問：造成兩地氣溫差異的主要原因為何？

- (A)緯度 (B)高度 (C)氣壓 (D)風速

20、就降雨季節變化而言，下列四張降水量圖何者最可能是我們臺灣的北部地區？



21、臺灣年降水量充沛，但是平均每人可再生水資源卻不算豐富，主要是哪些因素造成的？

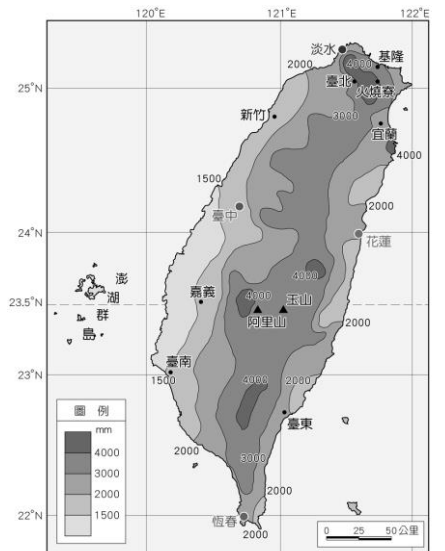
- (A)蒸發量大且人口密集  
(B)土地面積狹小且人口密集  
(C)土地面積狹小且山地地形廣布  
(D)河川流速快且降水季節分布不均

22、右圖是臺灣的降水分布圖，根據此圖，可以判斷出臺灣全年雨量分布的何種特色？

- (A)山區少雨 (B)平地多雨 (C)南部雨量最多 (D)中部雨量最少。

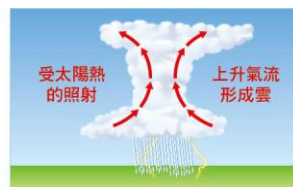
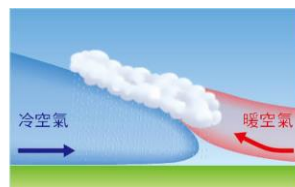

23、下列哪條河川因流域內降雨的季節分布特徵而流量最穩定？

- (A)淡水河 (B)大甲溪 (C)曾文溪 (D)高屏溪。



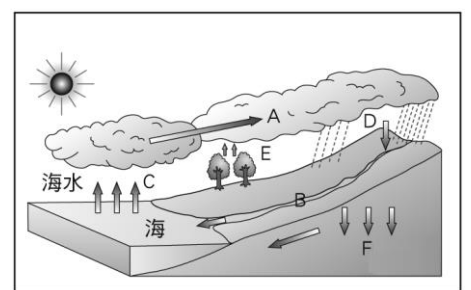
24、臺灣在每年五、六月時，常有長時間的降雨，而且大多出現陰雨綿綿的天氣。請問：此段時間的降水，應是屬於下列何種降水類型？

- (A) (B) (C)



25、右圖是水循環模式圖，請問圖中何項過程代號是在指所謂「逕流」的形成？

- (A)A (B)C (C)B (D)F。



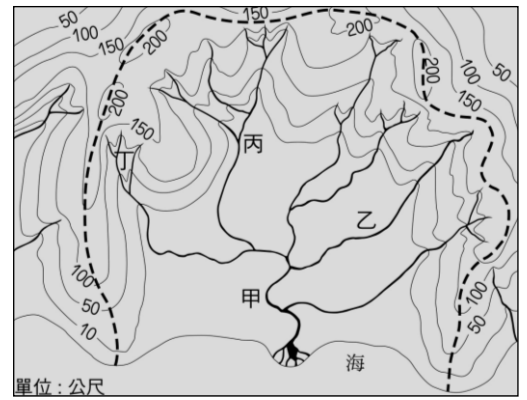
26、子祐去武嶺遊玩時，到山上後發現有頭昏、呼吸不順暢的現象，似乎是高山症的發作，請問造成此一病症的原因為何？

- (A)氣溫較低 (B)緯度較高 (C)氣壓較低 (D)空氣較冷

27、下列選項的敘述是屬於對「氣候」的描述？

- (A)台北正飄起下了細雨，正中霸氣地脫下外套替身旁的女孩擋雨  
(B)住在基隆的薇安，因基隆外號雨都而習慣天天帶傘出門  
(C)這兩天寒流來襲，紫葳貼心地用暖暖包溫暖心儀男孩的雙手  
(D)昨天颱風肆虐，微霓仍頂著強風豪雨硬是要到麥當勞買歡樂兒童餐

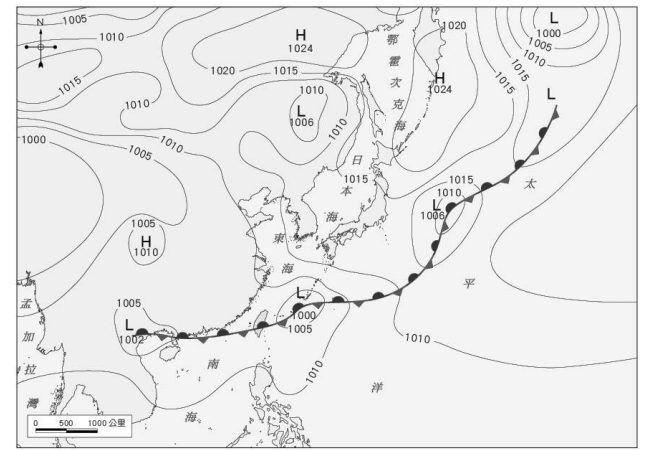
28、右圖是一區域內水文的示意圖，請問圖中的虛線本身是指下列何者？  
 (A)分水嶺 (B)主流 (C)流域 (D)支流。



29、臺灣哪個地區因過度抽取地下水發展養殖漁業，導致地層下陷、海水倒灌的災害？  
 (A)西南部沿海 (B)西北部沿海  
 (C)東南部沿海 (D)東北部沿海。

30、全臺近百座的水庫在幫我們儲存水資源，而目前供應臺北市地區用水的主要是哪個水庫？  
 (A)日月潭水庫 (B)石門水庫  
 (C)曾文水庫 (D)翡翠水庫。

31、從右圖資料判斷，下列何者為當時臺灣的天氣狀況？  
 (A)受颱風影響，此時臺灣風雨正盛  
 (B)受鋒面影響，各地降雨機率大增  
 (C)典型夏季氣候，各地晴朗而炎熱  
 (D)山區的午後容易有雷陣雨的發生



32、臺灣眾多河川的分水嶺主要是下列哪座山脈？  
 (A)雪山山脈 (B)海岸山脈 (C)中央山脈 (D)玉山山脈。

◎請解讀圖表，並回答下列問題：

濁水溪揚塵已超過 300 年，歷年濁水溪重大揚塵事件日不計其數，沿岸居民「吃飯攪沙」一度成為日常，面對濁水溪揚塵問題，在行政院與縣府合作及分工下，依季節、風向轉變，規畫出「因時」、「因地」制宜的執行方式，以「水利」、「造林」及「防災應變」進行整治，去年揚塵事件日減少為 6 日，改善率近 9 成。

縣府指出，最重要的是，在減少揚塵發生的同時，仍要兼顧環境永續的生態復育，各單位均使用天然、無害資材，例如雲林縣與濁水溪北岸彰化縣，分別使用在地農畜資材文蛤殼、稻草蓆及食品級三仙膠、葡萄藤枝、枯木進行覆蓋。在植生復育的同時，打造出海口潮間帶豐富的生態環境景觀，吸引大量候鳥出沒及賞鳥人士駐足，朝生態永續目標邁進。

改寫自 濁水溪「吃飯攪沙」一度成日常 3 方向大整治改善近 9 成 / 周刊王 CTWANT | 中國時報張朝欣

33、濁水溪南岸雲林縣 麥寮鄉、崙背鄉、二崙鄉與西螺鎮，這些鄉鎮幾乎長達半年的時間空氣品質惡化，當地民眾用「吃飯攪沙」來形容，連呼吸都會痛。造成上述現象，除了風向的因素，最主要的原因是當地河川的哪些特性所致？  
 (A)河川東西分流 (B)河川較為短小 (C)河川輸砂量高 (D)河流量豐沛

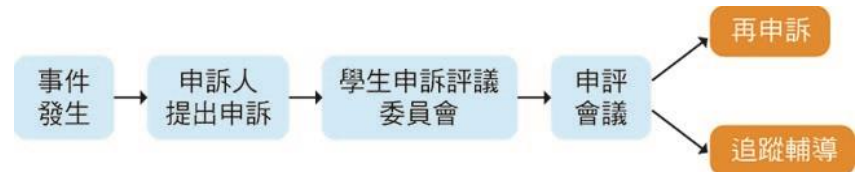
34、有學者指出，在濁水溪上游的某座水利設施因大量引水，到了枯水期，下游河床河水覆蓋面積減少，使揚塵問題更形嚴重。請問：學者所指出的水利設施，最可能為下列何者？  
 (A)石門水庫 (B)翡翠水庫 (C)曾文水庫 (D)集集攔河堰

※【公民科】第 35-50 題，每題 2 分。

- 35、上課時，每個人都應遵守課堂秩序，不可以隨意和鄰桌同學交談、故意亂回答老師問題或製造一些聲音等干擾課堂進行的行為，其理由是維護每一位學習者的何項權利？  
 (A)個人隱私權  
 (B)人格發展權  
 (C)身體自主權  
 (D)學習與受教育權。
- 36、「學生自治」是要讓學生培養有效及正確處理公共事務的能力及態度。下列各處室在學校官網公告的事項中，何者屬於「學生自治」的範圍？  
 (A)教務處：2 月 21 日是「國際母語日」，請全校師生在這一天多用母語交談  
 (B)學務處：請各班推薦一名出來參選「優良學生代表」，詳如計畫說明  
 (C)總務處：預購買校服同學，請上校網查詢校服價格再至總務處購買  
 (D)輔導室：各班同學這學期的「生涯檔案」資料，請於本周五前完成。
- 37、在臺灣，經由居民共同努力的經營，社區得以保存地方文化、凸顯社區特色。下列對於「社區」的敘述，依據所學，何者才是正確的？  
 (A)社區可凝聚居民的認同感與歸屬感 (B)社區是由政府提供補助成立的團體  
 (C)社區意識是透過相同信仰凝聚而成 (D)身為國中生社區的活動不應該參與。
- 38、下表是部落與社區的比較表，請問有哪一個選項的資料是正確的？

	部落	社區
(A)形成	漢人逼迫	居住關係
(B)成員性質	宗教、語言及價值觀不同	有共通的宗教、語言及價值觀
(C)族群認同	低	高
(D)重要組織	如：長老會議	如：社區管理委員會

- 39、如果學生認為學校的獎懲措施不當，導致權益受損，可依右表流程向校方提起申訴。請問：下列何者適用這套申訴流程？  
 (A)段考答案錯誤，希望獲得更正  
 (B)班會表決沒過半，希望重新表決  
 (C)違反學校校規，但校方處罰過重  
 (D)校園販毒被抓，不服警察的逮捕。



◎題組：

題組一

為了保障校園生活裡學生的身體自主權，教育部在 2020 年大幅修正《校園霸凌防制準則》，首度增加網路霸凌及電子霸凌的型態。日前(2022/12/31)國語日報公布的「二〇二二十大兒少新聞票選」票選結果，包括交通安全、網路霸凌、視力不良，都位列中小學生票選的前十名。

- 40、下列關於霸凌的相關敘述何者錯誤？  
 (A)同儕故意多次性排擠、欺負、戲弄特定受害者的行為就是霸凌  
 (B)利用網路散布謠言、流言攻擊或恐嚇他人是一種肢體霸凌  
 (C)取不雅綽號、嘲諷、恐嚇、威脅是屬於言語霸凌的狀況  
 (D)遭霸凌者在身心方面很有可能會受到永久性的傷害。
- 41、此次國語日語針對全國中學生票選新聞中，有關網路霸凌部分，很多學生反應當看到周遭有同學遇到時，不知如何幫忙解決。事實上，面對同學遭到霸凌可以有很多種辦法幫他一把，但下列何種處理方式不恰當？  
 (A)告訴家長或導師、任課老師  
 (B)撥打反霸凌專線 0800200885  
 (C)跟自己無關，明哲保身要緊  
 (D)去學生事務處找老師幫忙。



## 題組二

原住民保留地大量流失，既是土地正義問題，也造成公共安全隱憂，更影響原民文化傳承。解決之道除了政府提高法律位階、訂定專法規範，由部落凝聚共識提出與時俱進方案的作法，也正在各地倡議與推動。

新竹鎮西堡和斯馬庫斯（新光部落）已和內政部營建署合作「特定區域計畫」，共同規劃土地利用；南投瑞岩部落則試圖用「土地信託」制度，守護泰雅民族起源地土地；日月潭邵族則希望部落「公法人化」來遏止各種私下買賣。種種嘗試，期望能讓土地自主權留在部落，但也存在諸多挑戰有待克服。

鎮西堡部落自律的倫理規範，與當代自由市場機制背道而馳，卻是維繫原住民社會的重要核心。**當現行法令體制無法阻止原保地大量流失之際，找回這種共享與尊重的精神，成為部落突破困境的重要解答。**2014年起，新竹鎮西堡和斯馬庫斯（新光部落）參與內政部「原住民族特定區域計畫」，由部落決定土地如何規劃，就是原住民土地治理史上嶄新的一頁。

資料來源：2021/8/17 報導者 <https://www.twreporter.org/> 【守護原保地，族人站出來：從信託、法人化、部落共管找出路】

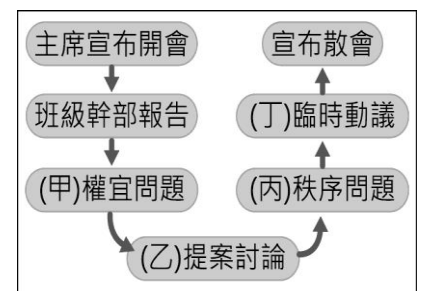
- 42、從上文第一段的描述中，顯示出原住民部落正面臨何項挑戰？  
(A)傳統文化的斷層 (B)部落經濟的停滯 (C)文化與法律的衝突 (D)傳統領域的保護。
- 43、承上題，解決的方法的核心重點為下列何者？  
(A)政府完全集權控管 (B)政府與部落協力凝聚共識 (C)部落族人社會運動對抗 (D)引進私人財團規劃。
- 44、我國政府為了保障原住民族基本權益與文化傳承，特別制定哪一部法律？  
(A)《教育基本法》 (B)《地方制度法》 (C)《原住民族基本法》 (D)《原住民族委員會組織法》。
- 45、上文最後一段有關新竹鎮西堡和斯馬庫斯（新光部落）的作法，若要做一個公民專題報告，報告主題最可能為下列何者？  
(A)部落自治及族人參與研究 (B)部落領袖產生方式的比較與探討  
(C)部落語言祭儀傳承的危機 (D)部落與社區的產異及共同點分析。
- 46、上文內容中的畫底線「\_\_\_\_\_」處顯示對原住民來說「部落」對他們的意義，下列敘述何者**錯誤**？  
(A)「部落」為原住民自治的基礎 (B)部落擁有共同的語言文化及價值觀  
(C)能協助原住民族融入漢人文化 (D)能延續原住民族互助分享的精神。

## 題組三

右表是開班會的流程圖，依據右圖，請回答第 47-50 題：

- 47、開班會時，有些同學在玩牌、有些同學在吃東西，阿偉認為吵雜聲使他聽不清楚其他人的發言內容，影響到他參與會議的權利。阿偉應是在右圖中哪一階段要求主席處理上述問題？

【111 會考】



- (A)甲 (B)乙 (C)丙 (D)丁。
- 48、下列對於班會各角色的敘述何者正確？  
(A)「導師」必須公正主持會議，必要時可推翻表決票數  
(B)「主席」需主持會議，賦予參加人員發言地位  
(C)「司儀」要將表決方式及票數、結果詳實記錄  
(D)「紀錄」要時時記得宣讀會議程序。
- 49、有關(乙)提案討論階段，可分為「提案」和「動議」兩種，下表是兩者的比較，**錯誤**的選項為何？

項目	(A)時間	(B)形式	(C)提出者	(D)成立條件
提案	會議中	書面	與會同學 (不含老師)	1人以上附署
動議	會議前	口頭	與會同學 (不含老師)	1人以上附議

- 50、此次開班會是在討論寒假班遊地點，透過多數決確定淡水老街後，宥萱舉手發言建議班上應該辦理慶生會活動，來增進同學情誼。請問：宥萱的建議應該在班會的哪一個程序提出？  
(A)甲 (B)乙 (C)丙 (D)丁。

試題完成，記得再檢查一遍答案卡與試卷，並務必將自己的答案抄寫於題目卷上，以利試後檢討。