

臺北市立新民國中111學年度 第二學期 七年級社會領域 第一次段考試卷

七年 _____ 班 座號：_____ 姓名：_____

單選題 (1-50 題，每題 2 分。)

※【歷史科】第 1-17 題

- 一九三零年代以來，總督府積極在臺灣推動工業化建設，且將經濟政策調整為「工業臺灣，農業南洋」，此次調整經濟政策的目的為何？
(A)為尋求更多天然資源建立「大東亞共榮圈」，視臺灣為日本進軍南洋的重要跳板
(B)因為徵召臺灣人協助作戰，人力短缺，農業發展遭遇困境，必須轉向工業發展
(C)實施內地延長政策，強調「日臺合一」，所以將工業建設實施於臺灣
(D)為全面達成皇民化運動，必須加速臺灣工業發展
- 日本人在稻米的生產與改良做了哪些努力？
(A)改善瑠公圳、八堡圳的灌溉渠道，培育在來米
(B)將曹公圳與貓霧揀圳擴大為嘉南大圳，培育蓬萊米
(C)八田與一建造嘉南大圳，培育蓬萊米
(D)運用日月潭發電廠的電力抽水灌溉屏東平原，培育在來米
- 瓦歷斯向他的曾孫說：「當時日本人過來調查我們居住的地方，說要將我們的家園徵收為國有地，所以我們被迫搬離家園。」穆娃則向研究原住民遷徙資料的學者說：「因為我們祖先不斷的和日本人抗爭，所以被日本人強迫遷村。」請問：瓦歷斯和穆娃說的這兩情形與下列何者敘述有關？
(A)前者係為促進原漢通婚的措施，後者則是執行強硬的理蕃政策
(B)前者為林野調查的結果而遭日本政府視為無人土地而收歸國有，後者則是為便於控制監視原住民
(C)前者是為了開發森林資源所以徵收，後者則是為改變原住民由狩獵到農耕的生活型態
(D)前者是為了擴大蔗糖與稻米的生產面積，後者是為方便進行戶口普查
- 某本傳記提到：「他利用宗教，散布消息，強調奉王爺之命，建立大明慈悲國，將日本人趕走，參與起事的人都可以獲得重賞。」這本傳記應該是下列何者？
(A)唐景崧傳
(B)丘逢甲傳
(C)莫那魯道傳
(D)余清芳傳
- 右表是某人在臺灣旅遊的部分行程，依內容判斷，此人最可能是下列何者？
(A)日本統治下訪臺的國會議員
(B)清代開港時來臺的外國商人
(C)跟隨鄭成功來臺的明朝文人
(D)荷蘭聯合東印度公司的駐臺牧師【104 年會考】
- 日本總督府為進一步掠奪山區資源，曾以軍警的力量深入山區，並以「隘勇線」來隔離原住民，下列有關原住民治理的敘述何者錯誤？
(A)仿效管理漢人的辦法，建立「保甲制度」與「高砂義勇隊」
(B)「隘勇線」的功能相當清領時期的「土牛溝」
(C)設置「隘勇線」是「理蕃政策」的實施手段之一
(D)設置學校教導原住民
- 臺灣有許多歷史建築，見證了臺灣一路走來的軌跡。下列哪一棟建築是日據時代留下來的歷史建築物？
(A)總統府 (B)赤崁樓 (C)億載金城 (D)紅毛城
- 「臺灣總督得於其轄區內，頒布具有法律效力之命令。」這是 1896 年日本發布的「六三法」第一條條文，由此條文內容來看，「六三法」對於當時臺灣代表的意義是什麼？
(A)臺灣也可以實施地方自治
(B)形成總督專制的統治體制
(C)臺灣總督須具備武官背景
(D)視臺灣為日本內地的延長
- 日治初期臺灣對日抗爭不斷，加上每年需對臺灣補助七百萬日圓，日本逐漸認為臺灣殖民地對日本而言是負擔，法國政府亦表明願以一億日圓買下臺灣。請問：總督府採取了哪些措施，直接造成財政收入提高，減少日本的經濟負擔？
甲、設立派出所 乙、樟腦專賣 丙、鴉片專賣 丁、實行保甲制度 戊、土地與林野調查
(A)甲乙丙 (B)甲丁戊 (C)乙丙丁 (D)乙丙戊。
- 「第一次世界大戰結束後，帝國主義國家多遭逢殖民統治的困境，包括如何面對殖民地蓬勃發展的民族運動，及如何繼續利用殖民地的資源以擴張經濟。」針對上述局勢，當時的統治者在臺灣採取下列何項措施？【107 年會考】
(A)頒布「六三法」 (B)征討臺灣民主國 (C)開始建造縱貫鐵路 (D)實行內地延長主義

時間	地點	參觀行程
2/22~2/23	臺南	孔廟、赤崁樓、嘉南大圳
2/23~2/24	高雄	西子灣海水浴場、臺糖製糖廠
2/24	屏東	鵝鑾鼻燈塔
2/27	臺北	紅毛城、英國領事領

11. 日本統治臺灣時期，臺灣被稱為『典型的警察統治』時代，請問下列敘述那個時代的警察何者正確？
(A)警察主管多由漢人擔任，日人從旁輔助
(B)集立法、司法、行政大權於一身
(C)警察權力很大，全面掌控民眾事務，有『大人』之稱號
(D)不須透過總督府的命令，可直接調動軍隊
12. 下列哪一句諺語最適合形容日據時期臺灣蔗農被壓榨的情況？
(A)七月半鴨，不知死活
(B)人若衰，種匏仔生菜瓜
(C)第一憨，種甘蔗予會社磅
(D)紅柿若出頭，羅漢腳日屎流
13. 日韓之間因歷史問題未能妥善解決，民間長期存在對立情緒。在南韓「輸誰都不能輸日本」的想法非常普遍。日本用十億日圓換取「永久解決慰安婦問題」，取代真誠道歉，並一再否認法律責任，強調十億日圓是「治癒金」並非「賠償金」。因此許多南韓人將日韓「慰安婦」協定稱為「恥辱條款」。而臺灣亦有類似的問題存在，臺籍慰安婦仍無法獲得受害者該有的賠償與道歉。請問這個問題的歷史背景與下列何者事件有關？
(A)第一次世界大戰
(B)霧社事件
(C)噍吧哖事件
(D)第二次世界大戰
14. 憶捷生活在日據時期的臺灣，她可能有下列哪一種生活場景？
(A)使用臺灣銀行發行的新台幣購物
(B)在臺北收購基隆的甘蔗運到日本製糖
(C)從基隆港坐船去日本畢業旅行
(D)從臺北到花蓮坐火車出差
15. 以下是一位外國記者對臺灣的記錄：「在插滿了新國旗的建築物內，擠入了許多情緒高昂的人們。新國旗以藍色為背景，中間有隻黃色老虎，尾巴翹得半天高；官員與群眾燃放鞭炮互相打氣。……直到日本軍艦在沿岸偵察的消息傳來，群眾像被潑了盆冷水般紛紛走避，官員則退入房內商量對策。這時大家才發現，想要爭取建立新的政權，除了升旗、放鞭炮以外，還有其他更重要的事情要做。」上述內容與下列何者最為相關？【110年會考】
(A)清法戰爭雙方和談
(B)《馬關條約》的簽署
(C)清兵增援南臺灣處理牡丹社事件
(D)劉銘傳開山撫番

◎請閱讀短文，並回答下列問題：

西元 1953 年，政府建起「碧血英風」紀念碑，碑聯寫到：「百戰忠魂，千秋恨事；一朝義憤，萬古馨香！」但霧社事件頭目莫那魯道之墓，其實一直到 1973 年才從台北被迎回霧社安葬。從 1930（昭和 5）年的霧社事件算起，隔了 43 年莫那魯道的屍骨才被安置，那問題來了，將近半世紀，莫那魯道的屍骨下葬前，到底在哪裡？根據研究，這副骨骸其實一直躺在台大人類學系。1973 年，臺大考古人類學系系主任李亦園在校內寫信給校長寫道：「……本系同仁以為此一烈士之骨骸不宜收藏於研究機構，實應歸葬於其故鄉，建立墓園，以供後人瞻仰。……」霧社結束事件後，一位賽德克人在打獵途中發現莫那魯道的骸骨。日本政府卻對莫那魯道的骨骸刻意改成供人參觀玩味的「展覽品」，他成為一具只有編號的「標本」，與其他遺骨標本默默地躺在臺大所屬機構某處。

16. 霧社事件是臺灣武裝抗日史上最著名的事件，其影響深遠。有關霧社事件的敘述，下列敘述何者錯誤？
(A)發起事件者為賽德克族
(B)在國際組織的介入下雙方簽訂和平解決辦法
(C)因日本掠奪森林、樟腦資源而引發
(D)事件後日本改變統治手段，影響所及讓部分原住民自願或徵調，組成高砂義勇隊遠赴南洋作戰
17. 桃園市忠烈祠暨神社文化園區去年因迎來日本「天照大神」等神祇供奉。諷刺的是，忠烈祠原來就祭拜著鄭成功、劉永福、余清芳及霧社事件裡的花岡一郎、花岡二郎等護台先烈，引起外界批評此舉悖離忠烈祠精神。請問：日據時期，日本人也曾於哪個階段要求臺灣人參拜天皇、神社？
(A)無方針主義時期
(B)內地延長主義時期
(C)日臺合一時期
(D)皇民化運動時期

※【地理科】第 18-34 題

18、根據聯合國的標準，一國的老年人口達到多少比例即為高齡化社會？
(A)5% (B)7% (C)14% (D)20%

19、右圖是大專院校人數的統計與預估，其所呈現的趨勢讓近年有 12 所的學校停招，而造成此一現象的背後主因為何？
(A)生育人數
(B)性別比例
(C)人口外移
(D)人口老化

20、光擎家有 7 個人，分別是妹妹瑜軒 6 歲，姐姐好晞 14 歲，媽媽語樂 48 歲，爸爸榮恩 53 歲，叔叔彥樟 50 歲，阿嬤嘉晏 86 歲，請問光擎家有多少人屬於壯年人口？
(A)1 (B)2 (C)3 (D)4。

21、由於位置上的鄰近性及語言文化相近，臺灣的外籍配偶以哪些國家的比例較高？
(A)日本、南韓
(B)中國、越南
(C)法國、英國
(D)新加坡、馬來西亞

22、下列事件何者隸屬於臺灣人口成長裡「自然增加」？
(A)准閔決定娶了女友並定居屏東
(B)育廷因女朋友太多被正宮趕出北投
(C)靖滕在國外娶了個美嬌娘回臺定居
(D)佳昀結婚並生下可愛的小寶寶

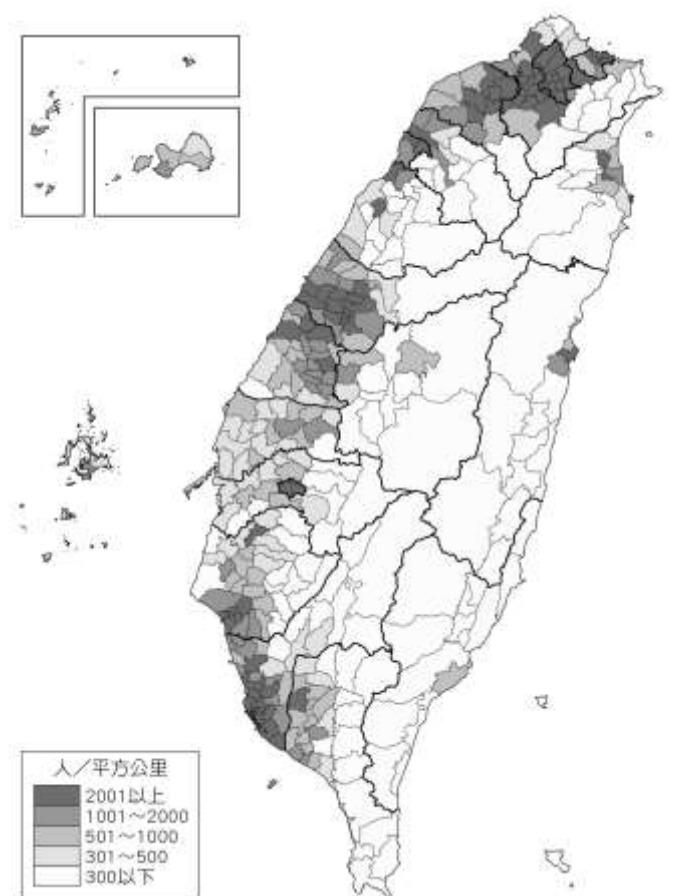
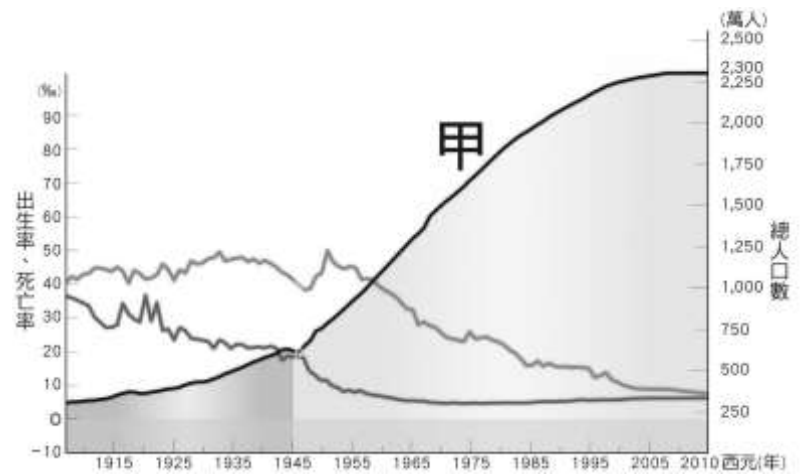
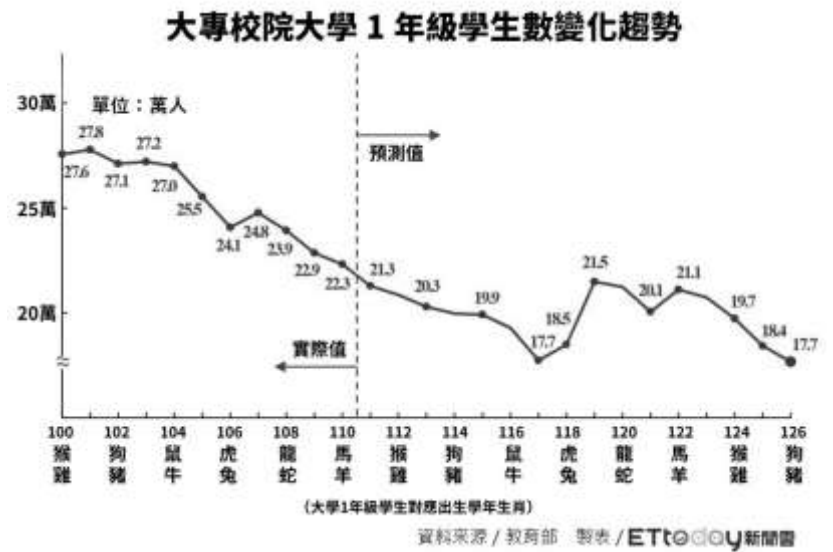
23、臺灣近百年來的人口變化圖中的三條曲線分別代表不同的人口意義，其中「甲」應是代表哪種指標？
(A)自然增加率
(B)社會增加率
(C)人口總數
(D)出生率。

24、民國 53 年的「五三口號」呼籲民眾婚後「3」年才生育、間隔「3」年再生育、最多不超過「3」個孩子、「33」歲以前全部生完。請問：「五三口號」的標語設立原因可能為何？
(A)出生率高
(B)死亡率高
(C)移入率高
(D)移出率高

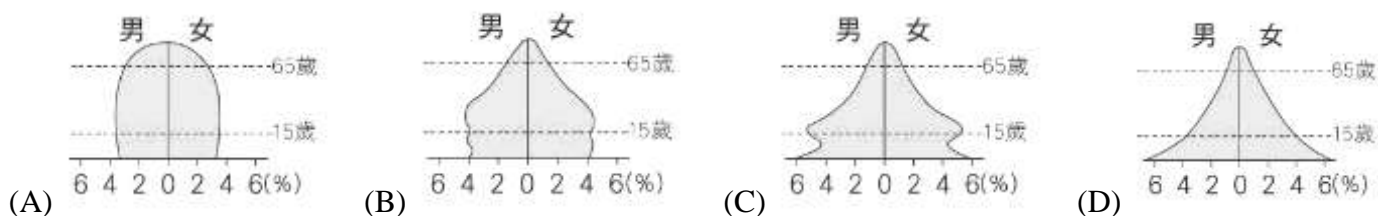
25、右圖為臺灣各縣市人口的密度圖，請從中分析下列臺灣的人口部份特色何者正確？
(A)山地多於平地
(B)都市多於鄉村
(C)南部多於北部
(D)離島多於本島

26、如果新民國中某班的女生人數為 10 人，男生人口為 11 人，則該班的性別比約為多少？
(A)73 (B)110
(C)91 (D)119。

27、下列人口金字塔圖的繪製步驟，哪一項是錯誤的？
(A)每 5 歲為一級距
(B)男生在左，女生在右
(C)將人口由老年至幼年向上逐級繪製
(D)將同一級距的人口數總計後換算成比例



28、請由下列四個國家的人口金字塔判斷，哪一張圖所代表的國家目前亟需解決的問題之一是倡導節育與優生？



29、新加坡國土面積僅約 1/3 個新北市大，人口卻比新北市多了 160 萬人，由此可知下列的推論何者正確？

- (A)新加坡的自然增加率大於新北市
- (B)新加坡每人擁有的生活空間較大
- (C)新加坡人口密度比新北市來得高
- (D)新加坡的社會增加率小於新北市

30、1920~1990 年代，臺灣人口成長的變化歷程，下列敘述何者正確？


- (A)出生率與死亡率差距拉大而快速成長
- (B)高出生與高死亡互相抵銷而成長緩慢
- (C)出生率下降至死亡率之下而人口負成長
- (D)低出生與低死亡讓人口成長趨近於零

31、一般而言，人口老化的程度與經濟發展程度有關。2020 年臺灣的老年人口比例已至 16.1%，此現象主要與下列何者有關？

- (甲)醫療衛生進步 (乙)族群組成多元 (丙)死亡率節節上升 (丁)平均壽命延長
- (A)甲乙 (B)甲丁 (C)乙丙 (D)乙丁

32、附圖為四個國家的人口組成資料。由圖研判，哪一國的扶養比最低？

- (A)丁 (B)丙 (C)乙 (D)甲。



◎請閱讀短文，並回答下列問題：

內政部指出，臺灣自本世紀以來，出生人口由一年 30 萬人一路溜滑梯下降，最低年出生人口一度只有不到 17 萬人。根據某金融機構的研究報告指出，臺灣將於 10 年內超越日本，成為全球「某項指標」成長速度最快的國家，對臺灣經濟成長造成結構性的威脅。根據報告，臺灣工作年齡的人口(15~64 歲)，預估到了西元 2025 年將減少 7.3%，萎縮比例比日本的 7.2% 還來得高。

33、上述報導中提及的「某項指標」，最可能為下列何者？

- (A)生育人數
- (B)性別比例
- (C)人口外移
- (D)人口老化

34、上述報導預估，臺灣在西元 2025 年時，壯年人口將減少 7.3%。請問：此份資料應是根據臺灣目前何項人口特質所做的預估？

- (A)出生率下降
- (B)扶養比下降
- (C)青壯人力外流
- (D)國際移工增加

※【公民科】第 35-50 題

- 35、志願結社是指具有共同情感、興趣、目標或利益的人，透過自由意願組成團體。下列何者 **不是** 志願結社？
 (A)宗親會 (B)校友會 (C)柔道隊 (D)家庭。
- 36、身為國中生的我們，目前可以透過以下哪些事情是在參與公共事務？ ①參與社區清掃巷道活動 ②幫班上優良學生代表選舉活動 ③請年級學生代表跟校方建議更新全校教室冷氣 ④決定今天晚餐吃什麼 ⑤和同學約速食店寫功課
 (A)①②③ (B)①②⑤ (C)②③④ (D)③④⑤。
- 37、下列何種組合 **不符合** 「團體」的定義？
 (A)新民國中師生 (B)飛盤隊隊員
 (C)籃球校隊與教練 (D)雞蛋搶購排隊人潮。
- 38、根據右截圖內容判斷，是在查詢下列何者對於我國青少年社會化的影響力？
 (A)家庭 (B)學校 (C)傳播媒體 (D)同儕團體。
- 39、承上題，網路訊息來自各方，面對網路上訊息時，應該發揮何種公民德性的表現？
 (A)參與公眾活動 (B)理性思考判斷
 (C)捍衛公平正義 (D)促進公共利益。



- 40、以參與團體的目的來說，有的人想藉此滿足情感的需求，有的人則想與理念相同者，共同實現團體的目標。下列哪一個團體的實際運作，同時滿足上述兩種需求？ **【習作】**
 (A)環保團體前往淨灘，實踐自然保育的工作
 (B)伊甸基金會提供身心障礙者居家照顧服務
 (C)校友會舉辦烤肉活動，凝聚成員的向心力
 (D)宗親會為助童基金募款，以幫助貧困學生。
- 41、勵馨基金會創立目的是為了提供弱勢婦幼關懷服務，在各縣市皆設有 15 個分所、60 個據點，以分工方式分層負責各區域家暴、兒少保護、庇護安置等工作。上述簡介中，最能看出該團體何種特性？
 (A)組織性
 (B)自主性
 (C)民間性
 (D)非營利性。
- 42、阿泉在餐廳外等候用餐時，看見店門口張貼一張「禁止寵物入內，導盲犬除外」的貼紙，他疑惑視障者應該看不見貼紙，於是好奇地向店家詢問張貼貼紙的用意，店員說明這是為了提醒其他客人，店內出現的狗是正在執行勤務的導盲犬，要請客人注意不要打擾牠。上述店家的作為主要展現下列何項素養？ **【111 會考補考】**
 (A)增進公共利益 (B)實踐公平正義 (C)重視環境倫理 (D)維護善良風俗。



◎題組題：

題組一

- 43、右圖為欣怡同學上課報告時所展示的海報，但海報中不小心被汙漬遮住部分內容。請問：汙漬處應填入下列何者？

每個人從一出生開始，透過不同管道，學到各種知識、技能與規範，使個人能表現出符合社會期待的行為，稱為 **社會化**。

- (A)公平正義
 (B)角色衝突
 (C)社會化
 (D)少子化。

- 44、請根據右圖的對話內容判斷，東東的行為 **缺乏** 下列何種公民德性，以及最可能是受到何種社會化途徑的影響？ **【習作】**

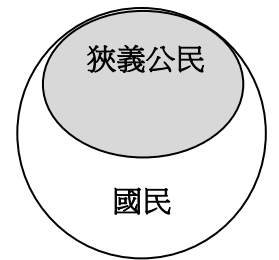


- (A)理性思考；學校
 (B)促進公益；同儕
 (C)捍衛正義；學校
 (D)發揮道德；同儕。

題組二

有關國民、公民與移民的敘述比較，請依據課堂所學及我國《國籍法》的相關規定，回答下列題目：

- 45、身為國中生的我們，符合哪幾種身分呢？(甲)國民 (乙)廣義公民 (丙)狹義公民 (丁)移民
(A)甲乙丙丁 (B)甲乙 (C)甲丙 (D)甲丁。
- 46、國民是一個國家重要的組成要素，下列哪些敘述，可以判斷此人為中華民國國民？
(甲)嫁來台灣 5 年已歸化並申請到台灣身分證的阮月嬌
(乙)在台北就讀大學，去年剛投下第一張選票的子芸
(丙)奕杰從韓國來台灣自助旅遊 3 個禮拜的，目前考慮去蘭嶼玩
(丁)上個月剛參加台灣反戰大遊行的瑜瑄，這個月要回去美國投票。
(A)甲乙 (B)乙丙 (C)丙丁 (D)甲丙。
- 47、右圖為「國民」與「狹義的公民」這兩個概念的包含關係。依圖所示，下列兩個概念的比較敘述何者正確？
(A)「國民」都具備有「狹義的公民」身份 (B)「狹義的公民」都具備有「國民」身份
(C)只有「狹義的公民」才能參與公共事務 (D)「國民」參與投票選舉沒有年齡身分限制



題組三

台灣芒草心慈善協會是由一群服務無家者的一線人員組成，2011 年成立，一開始以國際交流為主，從 2014 年開始擴展版圖，以「直接服務」及「社會溝通」雙主軸協助無家者及貧困者。期待透過這些行動，培力無家者足以自立生活，更能進一步為自己發聲。



①直接服務

成立自立支援中心、潭馨園、友善宿舍、香香澡堂及心手村培力中心，透過穩定居住進而協助無家者展開自立生活，連結創新方案開展多元機會

②社會溝通

發展多元的群眾參與活動：街遊導覽、流浪生活體驗營、真人圖書館、艋舺走撞街頭遊戲...等，透過更多形式的體驗交流，進一步讓外界了解貧困者的生活樣態。

//邁向成家的道路，需要你的捐款支持//

從實務工作到社會溝通、從福利連結到議題倡議，有你的支持，我們將能繼續協助無家者返家、重建無家者的社會支持網絡，也會更有能量開發創新方案，有你的加入，相信我們能一起走向一個具有包容及共融的社會：)

【資源來源：<https://www.homelesstaiwan.org/>芒草心官網】

- 48、根據上文，下列關於該協會的敘述，何者正確？
(A)協會屬於非營利性的志願團體 (B)國中生無法參與基金會的相關活動
(C)成立是因非志願性的工作任務 (D)加入團體屬《憲法》保障集會自由。
- 49、「街遊」為台灣芒草心慈善協會的專案，透過對街友的培訓，規畫出與其生命故事緊密連結的導覽路線。透過街友導覽員的敘說，遊客得以從無家者的角度認識城市的另一面；導覽員則因人際互動而更有自信，也得到改善生活的機會。根據上文有關街遊的內容，下列敘述何者最適切？
(A)是由政府強制規畫辦理 (B)該協會主要目的在監督政府施政
(C)可增進民眾的公共參與 (D)該協會應該是以賺錢營利為目的。
- 50、根據介紹內文中最後一段文的呼籲，呈現出志願團體的何種特徵？
(A)民間性 (B)組織性 (C)非營利性 (D)非志願性。



~~~~~  
試題完成，記得再檢查一遍答案卡與試卷，並務必將自己的答案抄寫於題目卷上，以利試後檢討。  
~~~~~

新民國中 111 學年度第二學期七年級社會領域第一次段考答案

共 50 題，總分 100 分

1~5	A	C	B	D	A
6~10	A	A	B	D	D
11~15	C	C	D	C	B
16~20	B	D	B	A	C
21~25	B	D	C	A	B
26~30	B	C	D	C	A
31~35	B	A	D	A	D
36~40	A	D	C	B	D
41~45	A	B	C	D	B
46~50	A	B	A	C	C