

# 臺北市立新民國中 111學年度 第二學期 八年級社會領域 第一次段考試卷

八年 班 座號： 姓名：

## 一、單選題(共有 50 題，請掌握好答題時間。)

### ※【歷史科】第 1-16 題，每題 2 分。

1、清末，朝野人士面對外力的衝擊，提出不少意見。一日，小周在路上看到一張標語寫著：「驅逐韃虜，恢復中華，創建民國，平均地權。」請問：張貼此標語的應為下列何派人士？

- (A)立憲派 (B)保皇派  
(C)革命派 (D)崇洋派。

2、老師用附圖講述中國現代史，就圖片內容判斷，老師講解的主題最可能是下列何者？

- (A)反共抗日 (B)軍閥割據  
(C)五四運動 (D)五九國恥。



3、民國初年，有位著名學者徵求結婚對象，他開出下列條件：「必須不纏足；必須識字；如相處不睦，可以離婚。」條件提出後，引起時人討論，有人認為傷風敗俗，也有人認為開風氣之先。請問：這些婚配條件，與下列哪一思想發展有關呢？

- (A)引入共產主義思想 (B)男女平等觀念風行  
(C)兒童文學的產生 (D)白話文開始流行。

4、歷史老師上課拿了一張圖片，如右圖，請同學們發表圖片當時的歷史背景。請問：誰說的說法正確？

- (A)索隆：那是民國初年介紹「德先生」、「賽先生」的雜誌  
(B)娜美：那是中國共產黨成立後發行的雜誌  
(C)魯夫：那是一份五四運動時期的宣傳文件  
(D)喬巴：那是民國初年新式學堂的教科書。



5、日本的行動影響著近代中國的發展，而日本的崛起，也與 19 世紀時期由日本政府帶頭主導的改革有關，關於日本崛起的背景，以下分析何者正確？

- (A)派遣使者至中國，學習中央集權  
(B)天皇主導下，推動全盤西化政策  
(C)杜絕西方勢力，並實施鎖國政策  
(D)推動佛教發展，創立平假片假名。

6、中國近代某一文章提到：「政府假借預備立憲的美名卻實行中央集權，假借推行新政卻搜刮民間錢財，對外則割讓土地，並出賣採礦權與鐵路經營權。人民反對政策，可能會被處死；如果人民自己出錢出力興修鐵路，又會被官方沒收。政府應該要保護人民，結果人民反而受到政府的傷害，如此不顧人民生命、財產的政府，誰還能忍受呢！」上文的主要訴求最可能是下列何者？

- (A)推動制度層面的改革，以解決自強運動改革不彰的問題  
(B)宣導中國人應採君主制度，全面排除西方民主共和制度  
(C)因對外戰爭受到挫敗，提倡學習西方的軍事及工業技術  
(D)對改革結果感到失望，體認到革命也是救國的途徑之一。

7、請參看右圖，可以看出民初婦女角色的何種變化？

- (A)提倡女性經濟自主的價值觀  
(B)受到傳統三從四德思維限制  
(C)參與政治的新女性逐漸出現  
(D)鼓吹男女共學等嶄新的想法

臨時約法正在擬訂中，婦女界聯合要求國會正視婦女權利，約法中應保障婦女具有：  
一、女子參政權  
二、參與國家政治民生的決定  
三、參與國家大事的權利  
四、擔任國會議員  
五、擔任政府各機構的行政工作

8、清末以來，中國為因應西方勢力的入侵，內部發生了一連串運動，從「自強運動」、「戊戌變法」、「武昌起事」的陸續推行來看，下列何者最能夠解釋這段轉變過程？

- (A)西方制度成為中國政府的理想 (B)排外思想成為民眾的關注課題  
(C)宗教信仰的影響力不斷的降低 (D)改革多次失敗知識分子很失望。

- 9、清末民初軍閥生成的背景，很可能與下列何項因素有關？  
 (A)洪憲帝制瓦解後，中央失去領導者 (B)政府實施海禁政策，人民因此轉職  
 (C)辛丑條約大量賠款使人民感到失望 (D)皇族內閣把持政權，引發民間不滿。

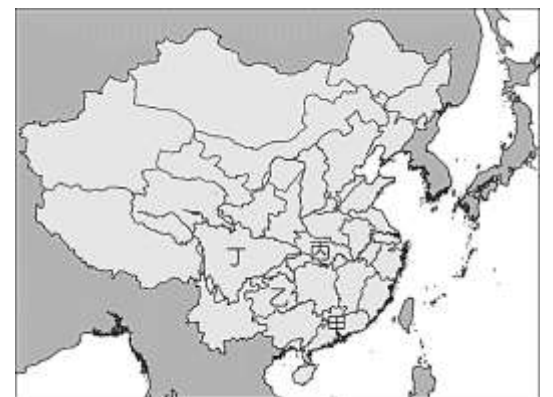


- 10、小丹假日參加旅行團來到中國某個省分旅遊，導遊介紹當地景點說：「這可是擊發革命第一聲槍聲的地點，第十一次革命獲得勝利，就在這個地方……。」請問：小丹旅遊的省分位於右圖中何處？  
 (A)1 (B)2 (C)3 (D)4。

- 11、請問下列法律條文制定的目的與結果為何？甲、擁戴孫中山；乙、制衡袁世凱；丙、民主憲政成功落實；丁、民主政治仍受阻礙 (A)甲丙 (B)甲丁 (C)乙丙 (D)乙丁。

中華民國之主權屬於國民全體。中華民國人民一律平等，無種族、階級、宗教之區別。中華民國以參議院、臨時大總統、國務院、法院行使其統治權。中華民國之立法權以參議院行之。臨時大總統、副總統由參議院選舉之。臨時大總統任免文武職員，但任命國務員及外交大使公使須得參議院之同意  
 (資料來源：中華民國臨時約法)

- 12、附圖是武昌起事前後的形勢圖。請問：圖中何地發生的保路風潮，形成武昌起事的有利條件？(A)甲 (B)乙 (C)丙 (D)丁。



- 13、民國 8 年 5 月 4 日，許多學生聚集在北京 天安門前示威，抗議巴黎和會將德國在山東的特權轉給日本，是為「五四運動」。當時德國為何會在山東享有特權？  
 (A)因公使被殺而在辛丑和約獲得補償  
 (B)袁世凱為了稱帝而對列強所做的讓步  
 (C)從甲午戰爭後列強瓜分風潮中奪取利益  
 (D)協助清廷推行自強運動而獲得的贈與。

- 14、附表為某一時期官方所頒行機關學校放假日期的部分內容，根據內容判斷，此一日程最可能由下列何者所頒行？  
 (A)1895 年的清廷 (B)1929 年的南京國民政府  
 (C)1945 年的臺灣總督府 (D)1979 年的中華人民共和國。

放假日期	放假事由及天數
1/1	中華民國開國紀念日，放假一天
1/2~1/3	新年，放假二天
3/12	孫中山逝世紀念，放假一天
3/29	黃花岡七十二烈士殉國紀念，放假一天
10/10	中華民國國慶紀念，放假一天
11/12	孫中山誕辰紀念，放假一天

◎請閱讀短文，並回答下列問題：

1900 年，在慈禧太后默許民眾攻擊教堂及傳教士，甚至包圍北京的外國使館後，美軍第十五步兵團首次被派遣至中國保護僑民。清朝滅亡後，步兵團為確保美國人在華利益，長期駐守天津。袁世凱死後至北伐完成期間，步兵團為避免中國內戰動亂影響美國的利益，也曾介入其中，間接保護了天津民眾的安全。

民國 6 年，孫中山因為南北軍閥的動亂，乃前往廣州，號召國會議員前來行使職權，南方的軍閥，如滇系唐繼堯、桂系陸榮廷等人，為了自身利益反對段祺瑞，也主張「護法」。但抵達廣州的國會議員只有一百三十多人，不足開會法定人數，因此他們所召開的會議稱為「非常會議」，選出孫中山為大元帥，與北京政府相對抗，中國陷入為時約 10 年的南北分裂局面。

- 15、根據上文，當時中國的主要政治情況為何？  
 (A)立憲派與革命派爭論不休，滿清帝制搖搖欲墜 (B)日本扶植汪精衛政權，對抗在重慶的國民政府  
 (C)國民黨與共產黨不斷衝突，共黨全面控制中國 (D)地方軍事強人憑藉武力以奪取地盤，割據一方。

- 16、根據上文，以下敘述何者正確？  
 (A)文中「護法」是指護中華民國憲法 (B)段祺瑞掌握北京期間拒絕恢復臨時約法  
 (C)美國步兵駐守目的是防止中國內戰 (D)第二段分裂局面是軍政府對抗臨時政府。

※【地理科】第 17-33 題

17、東協國家近年的經濟發展相當迅速。請問：東協國家發展工業的優勢為何？ 甲、便宜的勞動力；乙、豐富的資源；丙、完善的交通；丁、高科技技術 (A)乙丙 (B)甲乙 (C)丙丁 (D)甲丁

18、冠銘參加印尼五日遊，卻遇到老朋友，下列何者最不可能是出現在這趟旅遊行程中的友人？

- (A)遇到莘婷在橡膠園採收樹汁 (B)遇到駿龍在煉油廠煉油  
(C)佛寺祈福遇到京霖在念經 (D)海灘遇到建樺在做日光浴。

19、印度棉的品質遠近馳名，若根據印度半島的自然環境特色以及棉花適合乾溼分明的氣候來判斷，右圖中哪一個地區為其主要盛產地區？(A)甲 (B)丁 (C)乙 (D)丙。



20、「該國家位於印度洋上，為珊瑚礁島所組成的島國，南亞大海嘯連首都都淹沒，觀光資源重創。海域乾淨清澈，成為全球知名的渡假勝地。」上文所述最可能是下列哪一個國家？

- (A)斯里蘭卡 (B)馬爾地夫 (C)菲律賓 (D)孟加拉。

21、玩命關頭第 17 集打算在印度開拍，故事主要在描述低階級的印度少年宇展愛上了名為小璇的婆羅門級女孩，雖然他們的愛因為身處不同階級而被嚴格禁止，但就算被貶為賤民，仍無法阻止宇展那炙熱的愛戀，束手無策的他只好求助唐老大帶他們逃離一切，請問，這一切的不公平均起因於？

- (A)封建制度 (B)井田制度 (C)世襲制度 (D)種姓制度

22、琮棋帶著她的外國閨蜜鈺淇去用餐，為了讓鈺淇體驗道地臺灣美食，選擇了一家滷肉飯吃到飽餐廳，卻被鈺淇因宗教因素而拒絕，請問鈺淇的宗教信仰最可能是？

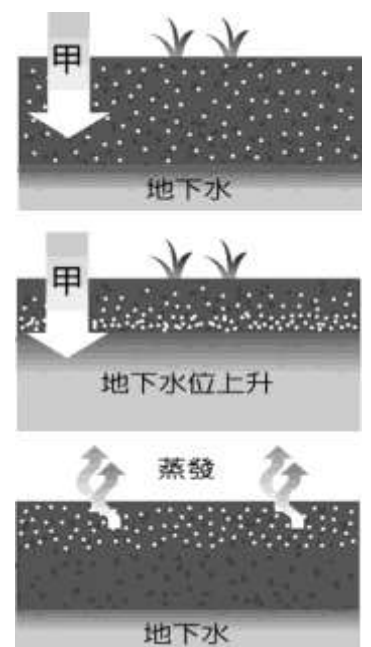
- (A)佛 (B)伊斯蘭 (C)印度 (D)基督。

23、「在印度有一頂級的旅館，位於全國最大的野生動物和老虎保育區的國家公園旁，全旅館僅由 14 頂帳篷組成。受限於自然條件的關係，只在限定的時間營業，進入不宜旅遊的季節，便將帳篷一一拆卸後收藏，直至較舒適的時節來臨，才又再度搭起營帳，迎接新一批旅客的到來。」根據上述，下列哪些月分最可能是該旅館的營業時間？

- (A)3 至 5 月 (B)6 至 8 月 (C)9 至 10 月 (D)11 至隔年 2 月。

24、地理老師在課堂上出示如右圖的土壤鹽鹼化過程圖，請問圖中甲處所代表的是什麼動作？

- (A)施肥 (B)灑藥 (C)灌溉 (D)播種



25、咖啡除了沖泡之外坊間最常見的運用方式為除臭，目前有廠商將回收的咖啡膠囊分離為鋁殼及咖啡粉，將咖啡粉由合作的有機農場作為有機肥料；今日的咖啡用途多樣，已經開拓出不少新商機，而請問此一現象能讓這類以經濟農作為主的國家減少過往的哪種窘境？

- (A)貧富差距問題 (B)勞動力老化問題  
(C)農業人口流失問題 (D)收入受物價波動影響深。

26、印度大平原主要是由印度河和下列哪一條河川所沖積而成的？

- (A)恆河 (B)尼羅河 (C)亞馬孫河 (D)淡水河

27、「淡水資源常被視為國家重要的資產。若位於河流上游的國家在其境內興建攔水設施或排放汙水，就可能影響下游地區鄰國的供水，因此，河流的控制權常成為國際紛爭的原因之一。」下列哪二個國家之間的關係最適合用來舉例說明上述的紛爭？

- (A)南韓、北韓 (B)巴基斯坦、孟加拉  
(C)烏克蘭、俄羅斯 (D)越南、中國。

28、1967年東南亞國家為了促進經濟、社會、文化合作，增進人民福祉而成立了下列哪一個組織？(A)ASEAN (B)APEC (C)WTO (D)WHO

29、右圖為天下雜誌所公布的資料統計，意味著印度如今已以何種類型的產業為發展重心？

- (A)技術密集型 (B)勞力密集型 (C)原料密集型 (D)動力密集型



◎請閱讀短文，並回答第 31~33 題：

法顯是魏晉南北朝時期的和尚，於 399 年從長安（今西安）出發，經由絲路前往天竺（今印度）求法，在天竺居住 10 年後，從恆河往南航行到獅子國（今斯里蘭卡）。413 年，法顯從獅子國返回建康（今南京）。回國後，他將西行取經的見聞寫成佛國記，是現存最早關於中國與南亞海陸交通的文獻。請觀察法顯取經路線示意圖，並回答下列問題

30、法顯從天竺回建康的路途中，橫跨了哪兩個大洋？

- (A)大西洋、印度洋 (B)太平洋、北極海  
(C)太平洋、大西洋 (D)印度洋、太平洋

31、離開獅子國後，法顯最可能又經過了哪個群島？

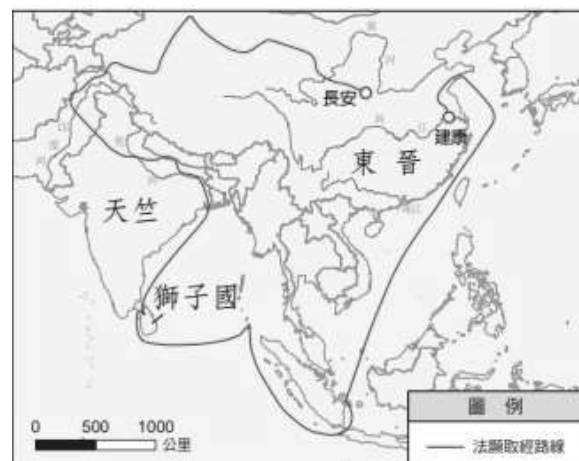
- (A)日本群島 (B)琉球群島 (C)南洋群島 (D)千島群島

32、法顯經過的群島最可能出現哪種自然景觀？

- (A)乾燥盆地 (B)熱帶雨林 (C)廣袤高原 (D)寒冷冰原

33、在離開群島後，法顯可在哪個季節從該地憑藉風力乘船返回建康？

- (A)夏季，此時盛行西南季風 (B)冬季，此時盛行東北季風  
(C)夏季，此時盛行東南季風 (D)冬季，此時盛行西北季風



▲法顯取經路線示意圖

※【公民科】第 34-50 題，每題 2 分。

34、下列何者「丕」屬於《民法》範圍？

- (A)行人過馬路闖紅燈 (B)買票到遊樂園玩 (C)跟朋友借錢尚未還清 (D)爸媽離婚後小孩的監護權。

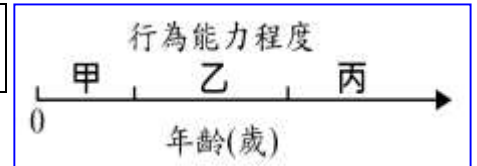
35、「侵權行為」責任是指行為人因為故意或過失，不法侵害他人之權利，而須負損害賠償的責任，其賠償以哪方面為第一優先？

- (A)金錢賠償 (B)回復原狀 (C)履行債務責任 (D)不履行債務責任。

◎題組題：

題組一

右圖為《民法》中年齡與行為能力程度的示意圖，甲、乙、丙分別代表不同程度的行為能力。



36、依據《民法》，「甲」和「乙」兩者行為能力的區別的年齡是幾歲？

- (A)7 歲 (B)12 歲 (C)14 歲 (D)18 歲。

37、國二生的你，依據年齡狀況應屬於右圖何種行為能力階段？

- (A)甲 (B)乙 (C)丙。

38、下列何者最可能與圖中的「甲」屬於相同程度的行為能力？【109 會考】

- (A)受到法院監護宣告的大明(B)遭到宣告褫奪公權的阿世  
(C)8 歲因故仍未就學的小龍 (D)9 歲意外失去雙親的琪琪。

39、下列何種行為具有與圖中「丙」一樣的法律效力？

- (A)滿 5 歲的浩运到玩具店買神奇寶貝卡 (B)剛滿 15 歲的李璐領取學校發放獎學金  
(C)17 歲的志賢到刺青店請師傅刺青在背上 (D)滿 19 歲的依琳不顧父母反對申請信用卡。

40、下列哪一個人的行為須負起《民法》的損害賠償責任，需由法定代理人負連帶賠償責任？

- (A)7 歲的宏珉弄丟了自己的 switch 遊戲機 (B)23 歲的博易騎車不小時撞倒店家招牌  
(C)15 歲的胖達玩棒球打破鄰居家的窗戶 (D)18 歲的丁丁故意破壞同學的機車報復。

題組二

民事糾紛處理的方法有很多，課本介紹了「訴訟外和解」(私人和解)、「訴訟上和解」、「調解」，「民事訴訟」(司法途徑)，另外仍有一種解決方法為「仲裁」。

「仲裁」是指當事人針對現在或將來依法規定得和解或調解的民事爭議事項，預先訂立書面協議，交由具備專業知識的仲裁人或仲裁庭以解決爭議的制度。例如：勞資雙方或商務糾紛的仲裁。仲裁的效力與法院的確定判決相同。對於需要節省時間或是高度專業、涉及商業機密的紛爭，可透過仲裁方式解決。

41、關於「調解」，下列敘述何者 錯誤？

- (A)調解提供免費服務，惟調解不成立可再提訴訟  
(B)由當地具有名望、熟諳法律的熱心人士擔任調解委員  
(C)依據《鄉鎮市調解條例》由雙方當事人向調解委員會聲請調解  
(D)所有民事的案件皆可提調解，提供免費服務，惟調解不成立不可再提訴訟。

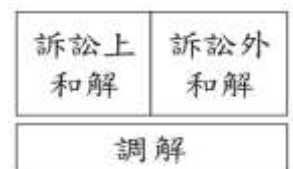
42、請問「調解」和「仲裁」的共通處為何？(甲)皆由第三人介入解決紛爭 (乙)皆可處理民事糾紛 (丙)兩者的效力等同法院判決 (丁)兩者皆為付費服務

- (A)甲乙丙 (B)甲乙丁 (C)乙丙丁 (D)甲丙丁。

43、《民法》是以保護私人利益為目的，與公權力的行使無關，國家不會任意干涉，因此民事訴訟必須由「？」提出，法院才受理。訴訟進行時，「？」也須提出有利自己的主張及證據，法官參酌雙方證據，審理後依法做出判決。請問，上述中的「？」是指下列何人？

- (A)法官 (B)檢察官 (C)當事人 (D)律師。

44、右圖顯示出我國權利救濟管道中的三種途徑，但三者的法律效力並不完全相同，若將圖中「與法院最終判決有相同效力的權利救濟方式」之區塊全部上色，則上色後的圖形應為下列何者？【109 會考補】



- (A) (B) (C) (D)

45、下表中關於「私下和解」與「訴訟上的和解」的比較，下列何者正確？

	私下和解	訴訟上的和解
(A)方式	當事人在提起訴訟後，在法官面前達成和解	當事人私下訂立的和解契約
(B)主管機關	法院	無
(C)效力	原則上無強制力	等同法院判決，具強制力
(D)特色	民事糾紛最後的手段	民事糾紛最為簡便的處理方式

**題組三**

46、右圖為同班的白白與阿鈞所作的約定，雙方並白紙黑字寫下立據，根據其約定內容之效力為何？

- (A)只要雙方當事人合意同意就有效
- (B)違反法律規定與公序良俗，無效
- (C)尚需雙方父母或法定代理人同意
- (D)需加註上各自身份證字號才有效。

**英雄契約**

此次段成績輸給對方的人，  
必須繞著文化走廊裸奔一圈，不得推託。

立約簽署人：白白  
阿鈞

見證人：八年 6 班全體同學

47、白白與阿鈞在訂定契約之前，有將《民法》有關契約生效的方式整理成如下筆記，請依你所學幫兩人詳看下表，下表何者才是正確而且符合法規？

項目	甲	乙	丙
契約生效方式	雙方合意即可	須書面方式簽約	必須完成登記
例子	便利商店買飲料	工作聘約	買賣房屋

- (A)甲的契約生效方式，有助以後訴訟官司的證據說明
- (B)乙是生活最常見也最普遍的契約生效方式
- (C)丙將結果公示於社會，可以保障交易以外的第三人
- (D)限制行為能力人獨立行使甲乙丙，皆無效。

48、《民法》是規範私人間權利、義務關係的法律，主要規範財產和身分關係。下列何者屬於《民法》中的財產關係？

- (A)小波繼承父母所遺留下的千萬豪宅
- (B)拉拉和丈夫離婚後，拿了 100 萬元的贍養費
- (C)談戀愛多年的迪西決定與女友登記結婚
- (D)冠群上大學後，因打工方便，決定在外租房子。

**題組四**

**販售盜版任天堂遊戲機 法官判她要賠 100 倍** 【2022/12/2 民事新聞網】

一名蘇姓女子從中國網站購入以每台 150 元的超低價購入約 1200 台遊戲主機，再以每台 199 元在台販售。網路警察發現後，每台主機內還含有超級瑪利歐等 26 款任天堂旗下遊戲，訊後將蘇女依違反《著作權法》送辦。

在高雄地院審理時，蘇女聲稱不知道這些遊戲機到底有什麼遊戲，更不知道自己這樣販售是違法行為。對此，法官依散布侵害著作財產權之重製物罪，判蘇女 3 個月有期徒刑，得易科罰金。不過，任天堂委託律師則另提民事訴訟，指出蘇女賣出 120 台遊戲機，每台包含 26 款遊戲軟體，若以每款遊戲單價 450 元計算，侵權總值高達 140 萬 4000 元，但任天堂只要求賠償 90 萬元。

高雄地方法院審理後蘇女被依違反《著作權法》被判刑 3 個月，得易科罰金，且須另賠償任天堂 100 倍的價格，共計 37 萬餘元。

49、根據上文顯示，蘇姓女子在民事上是因為什麼原因而需承擔責任？

- (A)侵權行為
- (B)債務不覆行
- (C)過失行為
- (D)消滅時效。

50、根據上文，下列有關相關法律概念描述何者正確？

- (A)此案為民事的私人間身分關係的糾紛
- (B)有關民事責任的賠償共計 37 萬餘元
- (C)雙方是透過訴訟外和解方式來解決
- (D)此判決確定後，若不滿意不能再上訴。

~~~~~  
 試題完成，記得再檢查一遍答案卡與試卷，並務必將自己的答案抄寫於題目卷上，以利試後檢討  
 ~~~~~