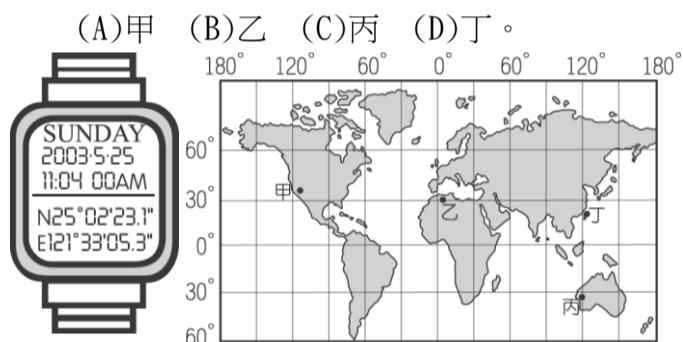


範圍：七年級 ch1~2

年 班 號 姓名：

一、選擇（共四十分）

- () 1. 請問下列何者並不屬於台灣目前行政區規劃的直轄市？ (A)嘉義市 (B)台南市 (C)台中市 (D)新北市
- () 2. 台灣平原地形的形成主要原因是？ (A)河流沖積 (B)板塊運動 (C)陸地上升 (D)海岸侵蝕
- () 3. 若由高雄港出發，到下列哪一個臺灣管轄的島嶼其距離最遠？ (A)太平島 (B)金門島 (C)釣魚台 (D)綠島
- () 4. 臺灣防災應變中心想要即時了解地震後所造成的災害，應該使用哪種地圖，才能獲得最新的資訊？ (A)等高線圖 (B)地形剖面圖 (C)行政區圖 (D)衛星影像圖
- () 5. 蔣渭水高速公路通車後，臺北到宜蘭的交通更加的便捷快速。由上段敘述，可推測蔣渭水高速公路切穿臺灣的哪座山脈？ (A)雪山山脈 (B)海岸山脈 (C)玉山山脈 (D)阿里山山脈
- () 6. 下圖為具有 GPS（全球衛星定位系統）的手錶款式。請根據手錶中的資料判斷，手錶的位置在圖中何處？



- () 7. 小立星期天跟家人去陽明山玩，去小油坑爬山，看到好多火山景觀，下山時還泡了溫泉。陽明山國家公園位於哪個火山群內？ (A)雪山火山群 (B)基隆火山群 (C)大屯火山群 (D)澎湖火山群
- () 8. 下列哪一個地形區的形成，其主要原因並不是火出作用？ (A)基隆山 (B)大屯山 (C)蘭嶼 (D)東沙群島
- () 9. 分層設色圖是以顏色做為區分，不同的顏色是代表哪種地理現象的數值範圍？ (A)土壤 (B)溫度 (C)雨量 (D)高度
- () 10. 下列何者是臺灣唯一四周環海的縣？ (A)嘉義縣 (B)屏東縣 (C)花蓮縣 (D)澎湖縣
- () 11. 下列哪一種比例尺地圖其所包涵的實際範圍最小，而內容詳細？ (A)五千分之一 (B)五萬分之一 (C)十萬分之一 (D)二十萬分之一
- () 12. 為了解地圖中各個符號的意義，所以我們看地圖時應該先看什麼？ (A)方位 (B)圖例 (C)圖名 (D)比例尺
- () 13. 依據聯合國海洋公約規定，領海的範圍是由領

海基線向外推移多少哩？ (A)12 哩 (B)100 哩 (C)200 哩 (D)1852 哩

- () 14. 紐約 (75°W) 洋基隊於 8 日晚上 7 時有賽程，位在臺灣 (120°E) 的我們想看電視的同步轉播，應鎖定何時？ (A) 10 月 8 日 8 時 (B) 10 月 8 日 20 時 (C) 10 月 9 日 7 時 (D) 10 月 9 日 8 時
- () 15. 有關經線與緯線的情況，下列何者正確？ (A) 經線為東西向 (B) 緯線分為南北緯，各有 180 度 (C) 所有緯線連接於南北極 (D) 每條經線長度都一樣長
- () 16. 「臺灣在太平洋的西側，中國的東南方。」以上描述屬於哪種位置表示方法？ (A) 相對位置 (B) 網格坐標 (C) 絕對位置 (D) 正確位置
- () 17. 地表上的侵蝕作用，會使得高山變為平地，堆積作用會使窪地逐漸被填平。請問下列地形哪一個是因河流不斷的搬運而堆積出來的地形？ (A) 河谷 (B) 三角洲 (C) 峽谷 (D) 高山
- () 18. 造山運動使高山隆起，隨著時間的流逝，高山卻可能變為平地，使高山成為平地的主要力量是什麼？ (A) 地震 (B) 火山爆發 (C) 侵蝕作用 (D) 人類開發
- () 19. 改變地形的力量，可分為外營力與內營力，下列何者屬內營力？ (A) 河流侵蝕 (B) 河流堆積 (C) 火山活動 (D) 海水溶蝕。
- () 20. 利用經緯度表示位置的方式，我們稱為什麼？ (A) 相對位置 (B) 網格位置 (C) 絕對位置 (D) 坐標位置

二、整合題（共六十分）

大明利用暑假期間，由爸爸開車帶他去環島旅行，他們由台中出發南下，不久就進入到山區，爸爸跟他說：「這一條路就是景色優美的南迴公路，這樣公路走到底，我們就到臺東縣了。」請問：

- () 21. 從大明爸爸的描述中，我們可以知道，南橫公路必須穿過下列哪座山脈，才能從臺灣西部到達臺灣東部？ (A) 中央山脈 (B) 雪山山脈 (C) 海岸山脈 (D) 天山山脈
- () 22. 經過台東、花蓮時，窗外是一大片綠色農田，但農田兩側是又長又高的山脈，請問此時最可能是經過下列哪一個地形區？ (A) 泰源盆地 (B) 林口台地 (C) 玉山山脈 (D) 花東縱谷平原
- () 23. 最後，他們從臺北沿著高速公路南下去到臺南縣，沿途會經過下列哪些地形區附近？ (甲) 宜蘭平原 (乙) 桃園臺地 (丙) 苗栗丘陵 (丁) 花東縱谷平原 (戊) 大肚臺地 (A) (甲)(乙)(丁) (B) (乙)(丙)(戊) (C) (乙)(丙)(

丁) (D)(甲)(丙)(戊)

(※背面尚有試題※)

附圖為臺灣行政區圖，請回答下列問題：

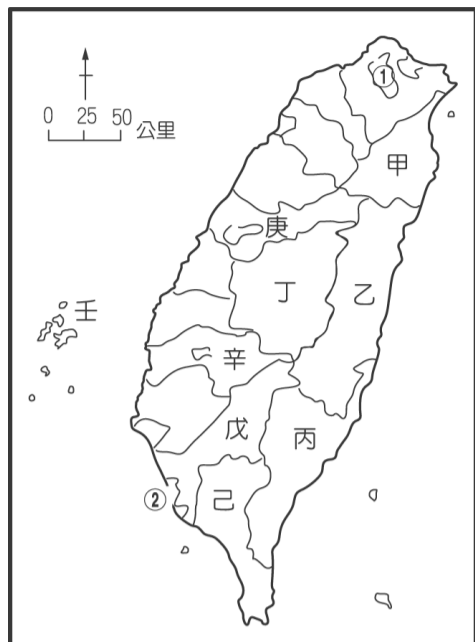
() 24 圖中「丁」縣應是？

- (A) 台北縣
- (B) 高雄縣
- (C) 台南縣
- (D) 南投縣

() 25 請問嘉義縣是圖中那一縣市？

- (A) 甲 (B) 辛 (C) 壬 (D) 己

() 26. 圖中①所代表的地形為何？(A)丘陵 (B)盆地 (C)臺地 (D)平原



附圖是臺灣位置圖。請問：

() 27. 由附圖可知，臺灣位於哪兩個半球？(A) 東半球、南半球 (B) 西半球、北半球 (C) 東半球、北半球 (D) 西半球、南半球

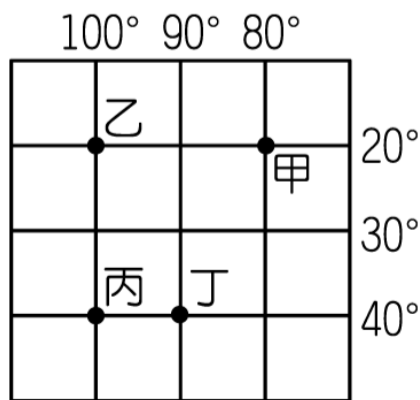
() 28. 達興號漁船透過無線電呼叫：「求救，求救，機件故障無法航行，現在位置東經123度、北緯22度，請求救援。」請問：聽到這段求救的屏東海巡署應該朝哪個方向尋找？(A)東方 (B)南方 (C)西方 (D)北方

請根據附圖，回答下列問題：

() 29 此圖是位於下列那一個半球？(A) 西北半球 (B) 西南半球 (C) 東南半球 (D) 東北半球

() 30. 下列關於相對位置的敘述，何者正確？(A) 甲在乙的東方 (B) 丙在乙的北方 (C) 丙在丁的東北方 (D) 甲在丙的西南方

() 31 下列關於絕對位置的敘述，何者正確？(A) 甲 (東經 80°，北緯 20°) (B) 乙 (西經 100°，南緯 20°) (C) 丙 (東經 100°，南緯 40°) (D) 丁 (西



經 90°，北緯 40°)

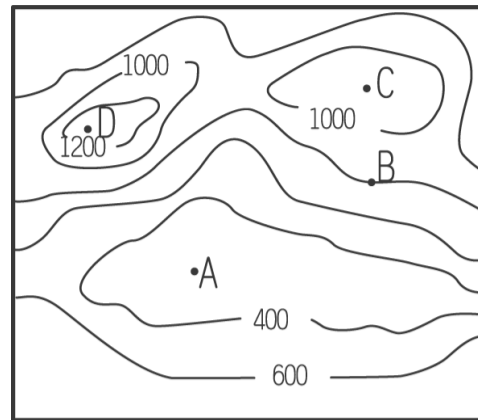
附圖是某地的等高線地形圖

() 32 請問：圖中 A 地屬於何種地形？(A) 山地 (B) 盆地 (C) 臺地 (D) 高原

() 33 附圖等高線地形圖中，「

C」地的高度最有可能是多少公尺？(A) 1,350 公尺 (B) 1,440 公尺 (C) 1,130 公尺 (D) 1,220 公尺

() 34 「B」點位於等高線上，請問 B 的高度應為？(A) 1200 公尺 (B) 1100 公尺 (C) 900 公尺 (D) 800 公尺



附圖為臺灣的五大山脈簡圖：

() 35 請問臺灣哪種地形其所佔的面積最廣？(A) 山地 (B) 平原 (C) 高原 (D) 盆地

() 36 全台灣的最高峰「玉山」位於圖中的哪一山脈？(A) A (B) B (C) C (D) D

() 37 全台灣的最主要分水嶺，也是最長的山脈是？(A) B (B) C (C) D (D) E

() 38 全台灣最年輕、也是高度最低的山脈是？(A) B (B) C (C) D (D) E

() 39 在台北盆地中只可能看到下列哪一個山脈？(A) B (B) C (C) D (D) E

() 40 若要去阿里山看日出，應到圖中的哪一個山脈？(A) A (B) B (C) C (D) D

