

【是非題】1-5 題，每題 2 分。《正確答案請劃“ A ”；錯誤答案請劃“ B ”》

1. 國家必須有政府的組織，為人民提供服務。
2. 我國的國體，也就是一國元首產生的方式，分為君主國與民主國兩種。
3. 國家的領土範圍僅包含領陸、領海以及領空三個部分。
4. 一個人即使具有某一國的國籍，不一定就能成為該國的國民。
5. 依據我國憲法與憲法增修條文規定，總統可以直接任命行政院長。

【選擇題】6-35 題，每題 3 分。

6. 憲豪在旅行時遊歷許多國家，決心要透過國家類型來分類各個國家，請問右表中的「乙」應為何內容？

(A)民主政體 (B)共和國 (C)君主國 (D)獨裁政體。

		政體	
		(丙)	(丁)
國體	(甲)	中華民國	北韓
	(乙)	英國	沙烏地阿拉伯

7. 哈蒂國發生外籍勞工的集體抗爭事件，以抗議生活管理的不當，為此主管機關首長宣布請辭下臺。上述首長的做法，最符合民主政治的哪一種內涵？

(A)民意政治 (B)法治政治 (C)政黨政治 (D)責任政治。 【100 I 基測】

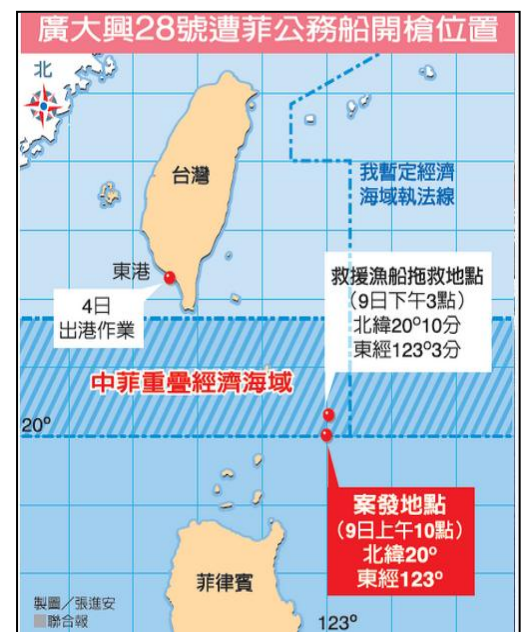
8. 近年來，韓流造成全世界一股瘋潮，好學的宇城想要了解南韓這個國家的概況，就到外交部網頁查詢到以下資訊：

語言：韓語
 首都：首爾
 面積：99,600 平方公里
 地理位置：位於東北亞，韓半島南半部
 人口：約 5 千萬人(2012 年 6 月)
 國名簡稱：大韓民國(南韓)Republic of Korea
 政治制度：立憲共和政體

請問以上資訊中沒有提到哪一項國家要素？(A)人民 (B)領土 (C)政府 (D)主權。

9. 下列關於「三權分立」與「五權分立」的敘述何者正確？
 (A)兩者皆為避免侵害人民的權利與自由 (B)兩者的「權」指的是政府權利 (C)目的是保障人民的權力，以規範政府的權利 (D)五權分立會引起濫用私人與議會專制。

10. 今年五月發生我國漁船廣達興號遭菲律賓海巡人員掃射，造成船員一人死亡事件，事發地點如右圖(資料來源：聯合報)。請問：圖中所謂中菲重疊「經濟海域」指的範圍是多少哩？(A)10 哩 (B)12 哩 (C)100 哩 (D)200 哩。



11. 依我國《憲法增修條文》規定，立法院提出不信任案時，其行使對象是下列何者？
 (A)正、副總統 (B)行政院院長 (C)立法院院長 (D)司法院院長。

12. 士鎡查閱一則網路新聞，內容如下：

(2013.09)監察院表示，大量金門民眾土地遭國軍占用數十年，民怨迭起，呼籲國防部儘速辦理還地於民的營地釋出作業。監察院日前通過監委劉玉山提案●●國防部，要求儘速辦理還地於民之營地釋出作業。

其中●●處，因為不小心沾到墨漬而遮蔽文字。請問：下列何者最可能是遮蔽處的內容？

(A)糾正 (B)彈劾 (C)糾舉 (D)審計。

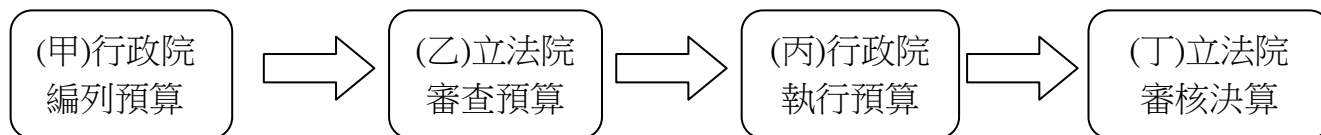
13. 司法院為我國最高司法機關，請問下列敘述何者正確？(A)總統彈劾案送到公務員懲戒委員會處分 (B)發生交通事故糾紛到憲法法庭提出告訴 (C)政黨是否違憲解散在憲法法庭審議 (D)公務員貪污案移送審計部偵辦。

背面尚有試題

14. 下列四人對話中，誰最有可能屬於中華民國的國民？
 (A)魯夫：「我國的女王是全國人民的精神象徵，常看到女王夫婦連袂出席公益活動，廣受人民的愛戴。」
 (B)娜美：「有很多人想盡方法想成為我國國民，其實只要在我國的領土出生就可以取得我國的國籍」。
 (C)香吉士：「半年前我國才舉行了選舉，剛好我已年滿 20 歲，很興奮的投下我手中神聖的一票。」
 (D)索隆：「在我國如果討論政治或隨意批判時局的話，很可能會被抓去關」。
15. 下列哪一組的首長產生方式是相同的？
 (A)總統、行政院長 (B)考試院長、審計長 (C)總統、立法院長 (D)檢察總長、立法院長。
16. 今年七月發生的洪仲丘命案引起全民憤怒，「公民 1985 行動聯盟」發動兩次遊行抗議，引起十萬人以上民眾參與。此次遊行抗議也促使政府修法，做出承平（非戰爭）時期軍法全面回歸司法。此為民主政治的何種表現？ (A)民意政治 (B)法治政治 (C)責任政治 (D)政黨政治。
17. 附表有關中央政府機關的職權敘述，共有幾項是正確的？

機關	職權
總統	統率陸海空三軍、公布法律與命令
行政院	審核中央政府預算及質詢官員
立法院	提出憲法修正案與領土變更案
司法院	設立各級法院、組織憲法法庭
考試院	規畫和執行國家政策與法令
監察院	彈劾違法或失職公務人員

- (A)六項 (B)五項 (C)四項 (D)三項。
18. 蕙姆在報告國家的組成時提到：「國家享有獨立自主的地位，無須服從更高權威，儘管各國國力有所差距，但是國際地位應一律平等。因此，任何國家皆無權干涉他國內政。」根據內容判斷，她解釋的是下列何種國家構成要素？ (A)人民 (B)主權 (C)政府 (D)領土。
19. 奕婕非常認真寫下老師在課堂上的筆記，但因為一時疏忽，在某個地方發生錯誤，請問何者有誤？



- (A)甲 (B)乙 (C)丙 (D)丁。
20. 右表是公職人員選舉的候選人資料。根據表中的主要政見，若以我國公職人員的職權判斷，最可能是下列哪種公職人員的選舉？

姓名	主要政見
洪小君	延長義務教育年限
林小諺	修改《所得稅法》
狄小達	督促政府解決失業
陳小羽	建立預算審查制度

- (A)市長 (B)行政院長 (C)里長 (D)立法委員。
21. 「三權分立」指的是政府哪三種權力要彼此制衡？
 (A)行政、立法、監察 (B)行政、立法、司法 (C)立法、司法、考試 (D)行政、司法、考試。
22. 呈上題，此「三權分立」由何人提出？(A)孫文 (B)蔣中正 (C)孟德斯鳩 (D)蘇格拉底。
23. 鎮東上完中央政府這課後，對於「大法官」非常有興趣。他確定以下何者不是我國「大法官」的職權？
 (A)審理刑事訴訟案 (B)審理政黨違憲解散案 (C)審理總統、副總統彈劾案 (D)統一解釋法律、命令。
24. 下列哪一個國家元首是世襲沒有實權的「虛位元首」？ (A)美國 (B)北韓 (C)中國 (D)日本。
25. 我國預計於民國 103 年正式實施 12 年國民教育政策，此政策主要是為了實現國家的何種功能？
 (A)秩序 (B)文化 (C)安全 (D)經濟。
26. 現代民主國家以公民投票來直接展現人民的意志，是落實主權在民的方式之一。依我國現行法律規定，下列何者必須經上述方式複決通過後，才能公布生效？
 (A)緊急命令 (B)總統彈劾案 (C)憲法修正案 (D)刑法修正案。

【101 基測】

◎題組

最小 19 歲最大 58 歲考上公務員 高普考錄取 6235 人創新高 2013.09.17

考選部公布公務人員高普考放榜，今年錄取 6235 人，創下 20 年新高，平均錄取率為 6.22%。年紀最小才 19 歲就考上普考電力工程類科，年紀最長的錄取者則為 58 歲，總計高普考平均錄取年齡為 29.3 歲，學士比例最高佔 62%。

27. 根據本文內容，文中公布的**政府單位**應屬於下列哪一個院的部門？

- (A) 行政院 (B) 司法院 (C) 考試院 (D) 立法院。

28. 下列何者亦屬於該院的職權？

- (A) 辦理專門職業及技術人員資格的檢定 (B) 修正公務人員考積法 (C) 懲戒違法失職的公務人員 (D) 彈劾失職的公務人員。

29. 怡靚為了找尋「我國中央政府組織」的相關資料，便上網搜尋資訊如右圖所示。請問：此網站可能為哪一個中央政府單位的網站？



- (A) 行政院 (B) 立法院 (C) 監察院 (D) 司法院。

30. 呈上題，請問該院院長如何產生？

- (A) 由人民選舉產生 (B) 由總統提名，立法院投票同意 (C) 由委員們互相選舉產生 (D) 總統直接任命。

…依據我國●●規定，行政院有向立法院提出施政報告之責。立法院第 8 屆第 4 會期於日期開議，近日新聞點聚焦於行政院長江宜樺能否上台報告。立法院持續不讓江宜樺院長上台，而朝野黨團將再繼續協商。…
新聞整理至 2013.10.9

31. 請問上文中●●之處，最有可能填入以下何種法律？

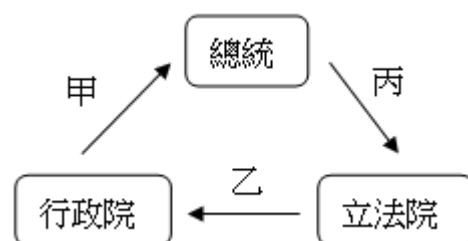
- (A) 憲法及增修條文 (B) 考試院法規委員會組織規程 (C) 監察院各委員會組織法 (D) 司法院組織法。

32. 有關行政院與立法院之間得互動關係，下列何者正確？

- (A) 行政院可向立法院提出質詢
(B) 行政院可提出憲法修正案後，交由立法院審查
(C) 行政院的各部會首長由行政院提名，立法院同意
(D) 行政院必須向立法院提出施政方針與施政報告。

33. 右圖為「不信任案與解散制度」圖示，以下敘述何者**錯誤**？

- (A) 甲為不信任案通過，行政院院長請辭後，得呈請總統解散立法院
(B) 乙為立法院向行政院院長提出不信任案
(C) 丙為總統主動解散立法院
(D) 為行政院與立法院間的權力制衡關係。



34. 馬英九總統於 2013 年 8 月展開訪問我國友邦的「賀誼之旅」，嘉慧偶然看到新聞報導馬總統抵達巴拉圭的情況：

……總統在巴拉圭展開訪問行程，除了與即將卸任的老朋友佛朗哥 (F. Franco) 總統見面外，也將拜會巴國剛由人民選舉產生出的新任總統卡提斯 (H. Cartes)，針對加強兩國關係交換意見。……

根據以上敘述，巴拉圭國體屬於下列何者？

- (A) 君主國 (B) 共和國 (C) 民主 (D) 獨裁。

35. 呈上題，馬英九總統此行訪問友邦的「賀誼之旅」是滿足了何項國家功能？

- (A) 安全 (B) 秩序 (C) 人權 (D) 經濟。

試題完成 恭喜同學