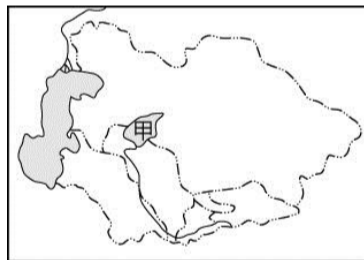


一、選擇（共四十分）

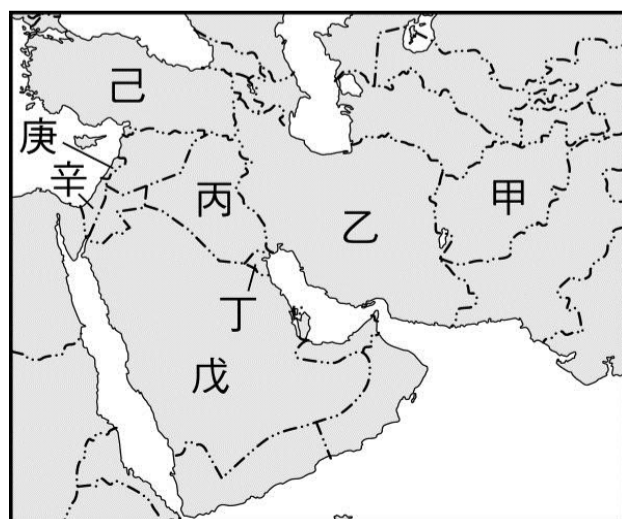
- () 1. 西亞與中亞的傳統生活方式，以何種產業為主？
(A)農業 (B)礦業 (C)牧業 (D)工業
- () 2. 歐洲在經濟發展上區域之間的差異最大，請問下列那一個區域經濟發展較差？ (A)東歐 (B)南歐 (C)西歐 (D)北歐
- () 3. 伊比利半島以高原、丘陵為主體，三面環海，其中以哪座山和西歐為界？ (A)庇里牛斯山 (B)亞平寧山 (C)基阿連山 (D)阿爾卑斯山
- () 4. 西亞的石油產區大多位於哪個水域附近？ (A)地中海沿岸 (B)紅海沿岸 (C)裏海沿岸 (D)波斯灣沿岸
- () 5. 為了維護產油國的利益、國際原油的價格和產量水準而成立的國際組織是？ (A)東南亞國協 (B)世界貿易組織 (C)石油輸出國家組織 (D)歐洲聯盟
- () 6. 西亞的耶路撒冷是宗教聖城，其位於下列那一個國家境內？ (A)黎巴嫩 (B)以色列 (C)伊拉克 (D)沙烏地阿拉伯
- () 7. 小強看到一個國家「充滿著陽光、藍天，還有華麗的鬥牛與佛朗明哥舞，更有無數的橄欖、咖啡館與酒吧」。小強看到了哪個國家？ (A)葡萄牙 (B)希臘 (C)義大利 (D)西班牙
- () 8. 圖上中亞國家引河水灌溉農田，使得「甲」湖泊面積日益縮小。請問：「甲」湖泊為下列何者？
(A)鹹海 (B)裏海 (C)死海 (D)貝加爾湖
- () 9. 中亞多屬溫帶乾燥及半乾燥氣候，日夜溫差及年溫差均大，此地氣候普遍乾燥的主要原因為？
(A)涼流經過 (B)全球暖化 (C)距海遙遠 (D)高壓籠罩
- () 10. 下列何者不是歐洲多數國家所面臨的人口問題？ (A)移出人數過多 (B)少子化 (C)高齡化 (D)自然增加率低
- () 11. 下列對於歐洲自然環境的敘述，何者錯誤？
(A)歐洲三面環海 (B)地形以平原為主 (C)海岸曲折多灣澳 (D)東部氣候乾燥有沙漠分布
- () 12. 目前歐盟在人員、商品、勞務、資本自由移動的單一市場目標已經達成整合，目前各會員國



- 間最大的障礙應是下列何者？ (A)區域發展不均衡 (B)政治立場不同 (C)氣候條件不穩定 (D)宗教紛爭不斷
- () 13. 北歐沿海地區的海灣冬季不結冰，這是拜哪一項自然條件所賜？ (A)地形 (B)季風 (C)洋流 (D)緯度
- () 14. 阿爾卑斯山只比臺灣的玉山高八百多公尺，冰河地形卻相當顯著，造成這種差異的主因是下列何者？ (A)涼流經過 (B)距海遠近 (C)緯度 (D)西風
- () 15. 下列哪個國家雖然是世界上面積最小的國家，卻是 11 億天主教徒的信仰中心？ (A)摩納哥 (B)梵蒂岡 (C)盧森堡 (D)聖馬利諾
- () 16. 義大利維蘇威火山爆發，吞沒了古羅馬龐貝城，而此地火山活動的原因為何？ (A)位於板塊上 (B)位於板塊交界擠壓處 (C)位於中洋脊上方 (D)位於高山高原區
- () 17. 威尼斯位在義大利北部三角洲平原外圍的潟湖上，範圍涵蓋了上百座沙洲島。這個三角洲平原主要是由哪條河流沖積而成？ (A)波河 (B)萊茵河 (C)多瑙河 (D)塞納河
- () 18. 西亞多數的房屋，牆很厚，門窗也很小，這種景觀和下列哪項地理因素最有關係？ (A)政策 (B)氣候 (C)地形 (D)產業
- () 19. 大明到古波斯帝國所在地，伊郎買了手工地毯，請問是下列哪一個城市？ (A)利雅德 (B)德黑蘭 (C)塔什干 (D)耶路撒冷
- () 20. 西亞戰略及交通地位相當重要，因為地處三大洲的接觸帶上。請問：這三大洲分別為下列何者？ (A)亞洲、非洲、北美洲 (B)亞洲、歐洲、北美洲 (C)歐洲、非洲、北美洲 (D)歐洲、亞洲、非洲

二、整合題（共六十分）

附圖為西亞各國位置圖。請問：

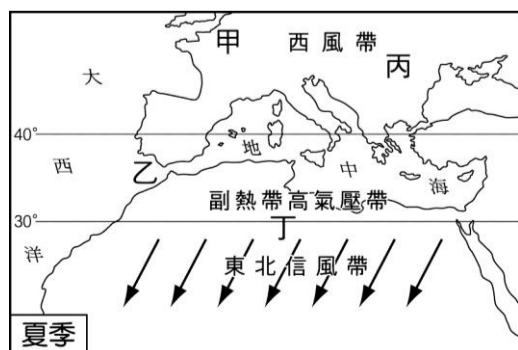
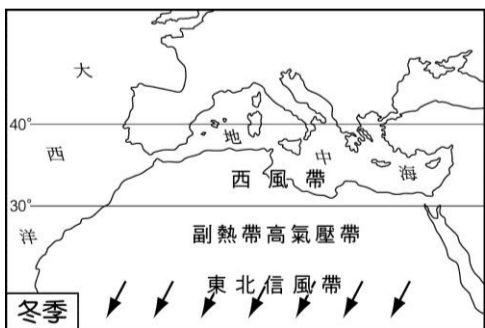


- () 21. 圖中為歐亞連接，自古為絲路必經之路的土耳其為何？ (A)甲 (B)乙 (C)辛 (D)己
- () 22. 下列關於「乙」地的敘述何者正確？ (A)橄欖、葡萄為當地特產 (B)位居歐洲、亞洲的要衝，而有歐亞陸橋之稱 (C)當地地形以平原為主 (D)為了有效利用水資源，發展出坎井
- () 23 據美國人調查，美國 911 攻擊事件的策劃人「賓拉登」躲藏在阿富汗與巴基斯坦山區，請問阿富汗位於圖中的？ (A)甲 (B)乙 (C)丙 (D)丁
- () 24. 圖中哪個國家境內大多為沙漠，但石油蘊藏量、出口量均為西亞第一？ (A) 丙 (B)乙 (C)丁 (D)戊
- () 25. 1990 年代，美國以伊拉克擁有核武為由，派兵攻打伊拉克，請問：伊拉克位於圖中的哪一個地方？ (A)甲 (B)乙 (C)丙 (D)己

歐洲具備優越的地理條件，文明發展程度高。請回答下列問題

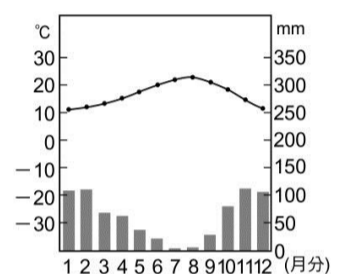
- () 26. 有關歐盟的敘述，下列何者正確？ (A)成員包括東歐部份國家 (B)成立目的為政治統一 (C)總部設於英國首都倫敦 (D)全名為歐洲聯盟，簡稱 EK
- () 27. 歐盟致力於經濟統合，欲建立單一市場，會員國之間規定，下列何者正確？ (A)彼此之間免除關稅 (B)所有歐盟會員國皆使用單一貨幣 (C)目前已擴大到亞洲與非洲國家 (D)資金分別使用，不相往來
- () 28. 臺灣遊客到歐洲各國旅行，應使用哪種錢幣最方便？ (A)英鎊(LB) (B)歐元(€) (C)美元(US\$) (D)新臺幣(NT\$)

下圖是歐洲冬、夏兩季的氣壓和風帶圖。請問：



- () 29 根據圖示的判斷，乙地的氣候類型可能為何？ (A)溫帶沙漠氣候 (B)溫帶地中海氣候 (C)溫帶大陸性氣候 (D)溫帶海洋性氣候
- () 30. 根據圖示的判斷，甲地的氣候類型可能為何？ (A)溫帶沙漠氣候 (B)溫帶地中海氣候 (C)溫帶大陸性氣候 (D)溫帶海洋性氣候
- () 31. 請問甲地在夏季時，其風向應以何為主？(A)北風 (B)西風 (C)南風 (D)東風
- () 32. 丙地的氣候類型主要應為？ (A)溫帶沙漠氣候 (B)溫帶地中海氣候 (C)溫帶大陸性氣候 (D)溫帶海洋性氣候
- () 33. 圖中西風帶會南北移動的最主要原因應為 (A)板塊運動 (B)火山地震頻繁 (C)乾燥氣候區廣大 (D)太陽直射角度的變化

附圖為某地的氣溫雨量圖，請根據圖表回答下列問題



- () 34. 根據雨量及氣溫的判斷，此地的氣候類型可能為何？ (A)溫帶沙漠氣候 (B)溫帶地中海型氣候 (C)溫帶大陸性氣候 (D)溫帶海洋性氣候
- () 35. 請問圖中的夏季應是在幾月？(A)1~3月 (B)4~6月 (C)7~9月 (D)10~12月
- () 36. 圖中最有可能是下列哪一個國家 (A)荷蘭 (B)捷克 (C)西班牙 (D)匈牙利。
- () 37. 在該區域最不可能看到的作物是？ (A)甘蔗 (B)葡萄 (C)橄欖 (D)小麥

請問下列景點或問題：

- () 38. 伊比利半島和非洲間隔著那一個海峽相望？ (A)麻六甲海峽 (B)直布羅陀海峽 (C)達達尼爾海峽 (D)博斯普魯斯海峽
- () 39. 土耳其控制其兩個海域之間的水道，若想進出這兩個海域的船隻都要事先經過土耳其的允許。請問：是指下列哪兩個海域？ (A)黑海、紅海 (B)紅海、地中海 (C)裏海、阿拉伯海 (D)黑海、地中海
- () 40. 地中海濱的白色屋子最可能出現在 (A)芬蘭 (B)瑞典 (C)瑞士 (D)希臘