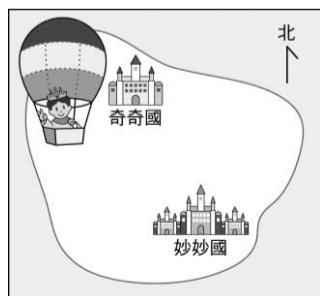


臺北市新民國民中學 102 學年度第一學期七年級地理科第二次段考

範圍：七年級 ch3~4 年 班 號 姓名：

一、選擇（共四十分）

- () 1. 臺灣下列哪個現象的形成，與「臺灣降雨雖然豐沛，但時間和空間分配極不平均」關係最為密切？(A)建造水利設施 (B)發展精緻農耕 (C)提倡觀光產業 (D)人口分布不均
- () 2. 台灣每年七、八、九月期間常有災害性的大雨發生，日降雨量高達數百公釐以上，其主要降雨原因是？(A)東北季風增強 (B)板塊運動 (C)梅雨季到來 (D)颱風侵襲
- () 3. 澎湖是台灣降雨最少的地方，造成此一氣候特徵最主要的因素是？(A)緯度較低 (B)火山地形 (C)地形平坦 (D)高壓籠罩
- () 4. 臺灣北部地區常常冬雨連綿，是受什麼季風的影響？(A)東南季風 (B)東北季風 (C)西南季風 (D)西北季風
- () 5. 下列有關敘述「天氣」的正確詞句是？(A)台灣的竹風蘭雨 (B)台灣的年溫差小 (C)今天午後下了場陣雨 (D)春天常細雨連綿
- () 6. 天氣因子中，「百帕」(hpa)是下列哪一天氣因子的單位？(A)氣壓 (B)氣溫 (C)雨量 (D)風向
- () 7. 麟山鼻位於臺灣島的北端，有巨大的安山岩塊，冬季受到強烈季風夾帶沙粒長期磨蝕，其迎風面較光滑，背風面則較粗糙。粗糙面可能是朝向哪個方向？(A)西南 (B)東北 (C)西北 (D)東南
- () 8. 對臺灣造成威脅的颱風通常會在什麼地方形成？(A)寒冷乾燥的陸地上 (B)溫暖潮溼的海面上 (C)週高中低的盆地裏 (D)風勢高大的高山上
- () 9. 暑假時，凱傑和家人計畫去玉山國家公園遊玩，一方面吸取新鮮空氣，另一方面也可以爬山強健體魄，請問玉山比都市涼爽的主要原因為何？(A)緯度較高 (B)地勢較高 (C)植物較少 (D)建築物較少
- () 10. 台灣核三廠所排放出的熱水，曾被懷疑是造成珊瑚死亡的原因。由此可推知，核三廠應位於台灣哪一個海岸？(A)北部 (B)東部 (C)南部 (D)西部
- () 11. 附圖是奇妙島的平面圖。島上奇奇國的王子想搭乘熱氣球前往妙妙國，下列哪種風向是順風，也是王子最希望遇到的？(A)東南風 (B)西南風 (C)東北風 (D)西北風
- () 12. 班上有四位同學針對「氣溫」的定義發表意見，

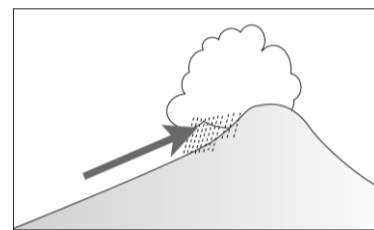


哪位同學的說法正確？(A)臺灣地區常以華氏(°F)為度量單位 (B)低緯地區因為陽光斜射地面，因此當地的氣溫比低緯度地區高 (C)氣溫是指空氣的冷暖程度 (D)我們所感覺的溫度主要是由太陽能而來，所以山地氣溫比平地高

- () 13. 附表是某四個城市的一月及七月平均氣溫(°C)資料，由此判斷，何地的年溫差最大？(A)甲 (B)乙 (C)丙 (D)丁。

城市	甲	乙	丙	丁
一月平均氣溫	5.5	3.3	19.8	12.4
七月平均氣溫	27.6	20.0	30.8	25.1

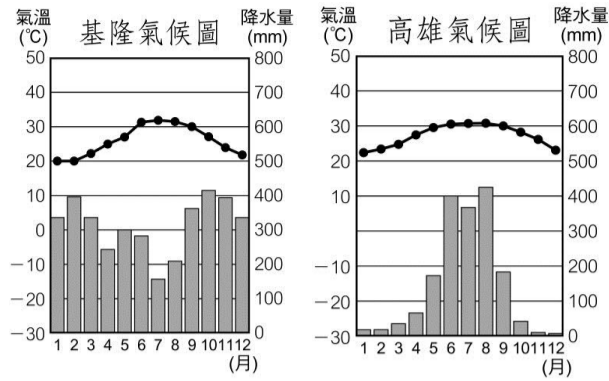
- () 14. 附圖為表示下列哪一種降水類型？(A)地形雨 (B)鋒面雨 (C)對流雨 (D)颱風雨。



- () 15. 臺灣的島嶼可分為三大類型，其中地質堅硬且地形崎嶇的金門列嶼、馬祖列嶼屬於哪種類型？(A)火山島 (B)大陸島 (C)沙洲島 (D)珊瑚礁島
- () 16. 臺灣周圍的離島有：(甲)澎湖(乙)綠島(丙)東沙島(丁)蘭嶼(戊)馬祖，上述島嶼成因相同的為何？(A)甲乙丙 (B)甲乙丁 (C)乙丁戊 (D)乙丙戊
- () 17. 在臺灣西南部外海常常可以看到有許多的小島嶼露出海面，因為狀似魚背而被前人稱為「鯤鯓」。「鯤鯓」這種小島的性質為何？(A)火山島 (B)大陸島 (C)沙洲島 (D)珊瑚礁島
- () 18. 海岸地區在風力的吹送之下，經常會形成由細沙所堆積的沙丘，早期臺灣人稱為『崙』，因此有許多與沙丘有關的地名，如：崙背、中崙等。請問：該地區最有可能位於臺灣的何處沿海地區？(A)西部 (B)東部 (C)南部 (D)北部
- () 19. 蘇花公路沿線大多是懸崖峭壁，高山與深海相臨，蘇花公路沿線的海岸地形應該是哪種？(A)堆積作用，沙岸 (B)斷層作用，岩岸 (C)堆積作用，岩岸 (D)侵蝕作用，沙岸
- () 20. 高雄港是利用「潟湖」地形改建成的人工港，因此可以推測它可能面臨哪種問題？(A)珊瑚礁白化 (B)泥沙淤積嚴重 (C)高山深海中使船隻受損 (D)全年有雨使貨物裝卸不便

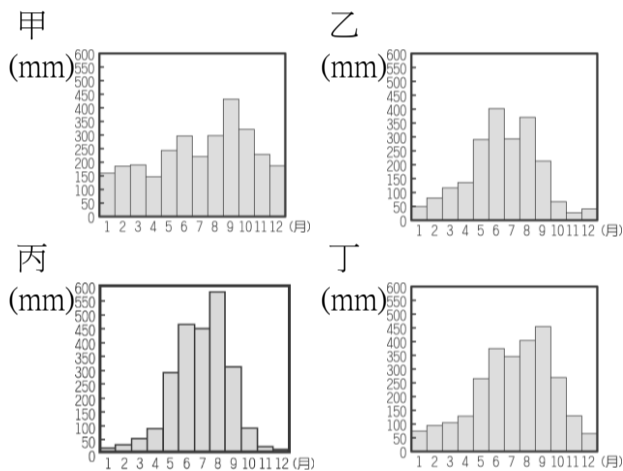
二、整合題（共六十分）

附圖分別為基隆和高雄的氣候圖，請依據這兩圖回答下列問題



- () 21. 請問由上列兩圖無法比較出下列哪一項資料?
 (A)兩地年溫差 (B)兩地年均溫差異 (C)兩地年降水量差異 (D)兩地降水強度差異
- () 22. 冬季時，造成兩地氣溫差異，主要是下列哪項因素?
 (A)地形 (B)季風 (C)緯度 (D)經度
- () 23. 冬季時，基隆降水量明顯多於高雄，與下列哪種降水成因的關係最密切?
 (A)地形 (B)緯度 (C)對流 (D)颱風

附圖是臺灣臺北、臺中、高雄、臺東四大區域的年雨量分布圖，請依圖作答：

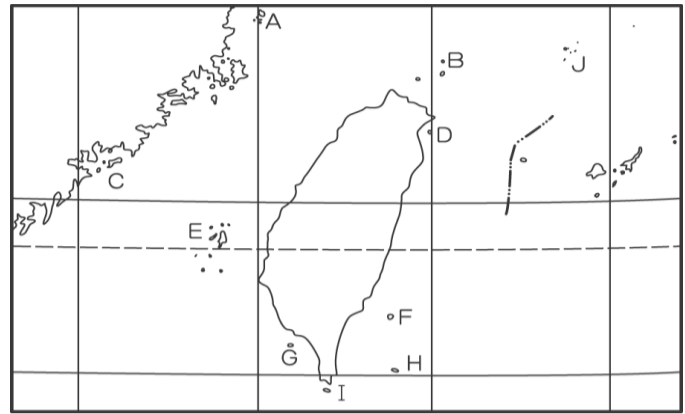


- () 24. 夏季5至8月雨量最多的地區，應是圖中哪一張圖?
 (A)甲 (B)乙 (C)丙 (D)丁
- () 25. 「此區自古以來為臺灣重要的農業生產區，但因冬乾少雨，水利建設是本地重要的農業設施。」下列何者最符合上述地理環境的是下列哪一張圖?
 (A)甲 (B)乙 (C)丙 (D)丁
- () 26. 「本區冬季時，在東北季風吹送下，雨量為全台灣最多的地區。」下列何地最能符合上述的氣候狀況?
 (A)甲 (B)乙 (C)丙 (D)丁
- () 27. 夏季為臺灣主要雨季，請問下列哪一種雨不是主要的夏季降水?
 (A)對流雨(雷陣雨) (B)東北季風(地形雨)
 (C)西南季風(地形雨) (D)颱風雨

請根據附圖，回答下列問題：

- () 28. 請問下列哪一個島嶼的形成，與珊瑚礁最為相關?
 (A)A (B)E (C)G (D)H
- () 29. 臺灣周圍的離島中，釣魚臺列嶼是我國固有的領土，請問其位於圖中哪一島嶼?
 (A)D (B)F (C)H (D)J。

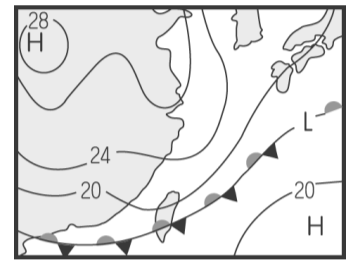
- () 30. 小強今年要去金門當兵，他拿出臺灣的島嶼分布圖，請告訴他金門島是附圖中哪一島嶼?
 (A) A (B) C (C) F (D) J



- () 31. 圖中哪一個島嶼的居民以達悟族為主?
 (A)A (B)C (C)F (D)H

附圖為某日地面天氣圖：

- () 32. 請問：圖上的「L」是表示什麼?
 (A)高氣壓 (B)低氣壓 (C)鋒面 (D)颱風。



- () 33. 附圖中經過台灣的鋒面應是?
 (A)冷鋒 (B)暖鋒 (C)颱風 (D)滯留鋒
- () 34. 請問此時台灣的天氣狀況最可能是?
 (A)颱風登台 (B)豪雨成災 (C)嚴重旱災 (D)寒流來襲
- () 35. 請問圖中的阿拉伯數字是代表下列哪一天氣因子?
 (A)溫度 (B)雨量 (C)氣壓 (D)風速

請根據附圖，回答下列問題：



- () 36. 請問台灣的水產養殖，如牡蠣、魚貝類，大多位在圖中的哪一段海岸?
 (A)甲 (B)乙 (C)丙 (D)丁
- () 37. 珊瑚礁海岸生態多樣，主要分布於何地?
 (A)甲 (B)乙 (C)丙 (D)丁
- () 38. 何地斷層海岸分布最廣?
 (A)甲 (B)乙 (C)丙 (D)丁
- () 39. 何地可見海岸線曲折、岬角與海灣相間的景觀?
 (A)甲 (B)乙 (C)丙 (D)丁
- () 40. 沙質海岸地形主要分布於何地?
 (A)甲 (B)乙 (C)丙 (D)丁