

臺北市新國民中學 102 學年度第一學期地理科第二次段考

範圍：九年級 ch3~4

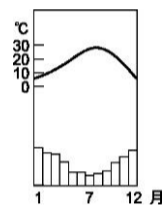
年 班 號 姓名：

一、選擇（共四十分）

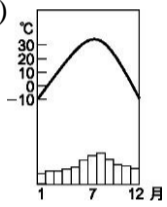
- () 1. 俄羅斯的發展受到氣候的限制，但也因氣溫較低，使得該國擁有全球面積最廣的何種植被？
(A)闊葉林 (B)針葉林 (C)灌木林 (D)紅樹林
- () 2. 東歐早期為軍火重工業和糧食生產國，為何近年來經濟體制轉變並且快速成長？ (A)加入 WTO (B)加入歐盟 (C)國營企業逐漸壯大 (D)人口大量移入
- () 3. 本區因地形平坦，降雨平均，人工運河發達，利用內陸河運和海洋航線的整合，構成便利廉價的水運系統。本區是在描述歐洲四大區的哪一區？ (A)東歐 (B)西歐 (C)南歐 (D)北歐
- () 4. 這裡被稱為北半球的寒極。氣候寒冷，人煙稀少，最低溫度達零下 70°C。在這塊「凍土」上，每平方公里人口密度不足 1 人，還真是個不毛之地。請問上文敘述最可能是指下列哪個地區的特色？ (A)歐俄平原 (B)北歐 (C)阿爾卑斯山 (D)西伯利亞
- () 5. 聖彼得堡有北方威尼斯之稱，也是俄羅斯最大商港。請問該城市濱臨下列哪一海洋？ (A)北海 (B)黑海 (C)地中海 (D)波羅的海
- () 6. 巴爾幹半島的西北方，可以看到和中國大陸雲貴高原相同的顯著地形景觀，請問該景觀為何？ (A)火山地形 (B)溶蝕地形 (C)風蝕地形 (D)冰河地形
- () 7. 東歐地區和亞洲地區的主要分界線為下列何者？ (A)地中海 (B)烏拉山區 (C)阿爾卑斯山 (D)萊茵河
- () 8. 東歐區內政權更替頻繁，哪個地區因各種紛爭與衝突經常出現，有「歐洲火藥庫」之稱？ (A)印度半島 (B)伊比利半島 (C)巴爾幹半島 (D)義大利半島
- () 9. 挪威港口冬季不結凍的主因為何？ (A)東風吹拂 (B)暖流流經 (C)氣候變遷 (D)副熱帶高氣壓籠罩
- () 10. 芬蘭境內湖泊數量多，因此芬蘭有「千湖國」之稱。這些湖泊形成的主要原因為何？ (A)斷層作用 (B)冰河作用 (C)火山作用 (D)溶蝕作用
- () 11. 冰島利用環境的特點來提供冰島 88% 家庭天然的暖氣來源，全國總電力的需求也有一半以上是由此環境特點所供給，請問此環境特點最可能是指下列何者？ (A)暖流 (B)石油 (C)地

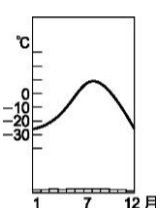
熱 (D)風力

- () 12. 近年來挪威和丹麥因為何處發現石油與天然氣，而帶來龐大的收入？ (A)北極海 (B)地中海 (C)北海 (D)裏海
- () 13. 德國地勢南高北低，河川多為南北流向，若要興建運河聯絡各大河川，運河應以哪種方向興建？ (A)南 — 北方向 (B)東 — 西方向 (C)東北 — 西南方向 (D)西北 — 東南方向
- () 14. 因位於萊茵河出海口，而成為歐洲主要港口的是下列哪個城市？ (A)巴黎 (B)鹿特丹 (C)布魯塞爾 (D)阿姆斯特丹
- () 15. 下列哪一張圖可用來說明「西伯利亞」的氣候？
- (A)

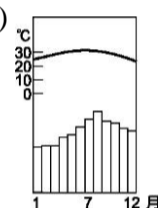


(B)


- (C)



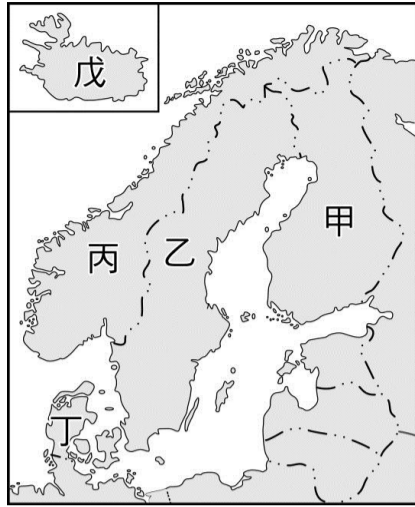
(D)


- () 16. 「該國的銀行一直被認為是全球最令人信賴的銀行，世界上許多各國政要、商界鉅子和演藝明星對存款放在該國感到安心，而鐘錶生產也是該國著名的產業，Swatch 及勞力士手錶，都出於此。」請問上述這個國家是指何者？ (A)英國 (B)瑞士 (C)法國 (D)德國
- () 17. 西歐河流流量穩定，水運發達，其中又以哪條河流的航運最盛？ (A)多瑙河 (B)塞納河 (C)萊茵河 (D)羅亞爾河
- () 18. 在這裏可以看到洋蔥式的屋頂，和五顏六色的東正教堂，這些都大多位於俄羅斯的首都，請問是那座城市？ (A)基輔 (B)莫斯科 (C)聖彼得堡 (D)維科揚斯克
- () 19. 可泡在溫泉裏享受欣賞高緯區冰雪樂趣的國家為(A)捷克 (B)冰島 (C)盧森保 (D)西班牙
- () 20. 西伯利亞大鐵路的主要路線是興建位於西伯利亞的那一地區？ (A)北部 (B)東部 (C)西部 (D)南部。

二、整合題（共六十分）

附圖為北歐五國的位置簡圖。請問：

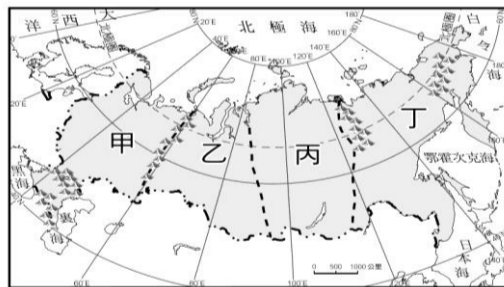
- () 21. 下列對於北歐五國共通的敘述何者正確？ (A) 總人口成長快速 (B) 全為溫帶大陸性氣候 (C) 國民社會福利制度健全 (D) 地形皆以平原為主



- () 22. 因緯度高可見冰河景觀，而境內火山、溫泉地形普遍的國家是？ (A) 丙 (B) 乙 (C) 丁 (D) 戊
- () 23. 位斯堪地那維亞山脈東側，富有鐵礦，發展鋼鐵等重工業的國家是？ (A) 甲 (B) 乙 (C) 丙 (D) 丁
- () 24. 發展酪農與飼牧業，有歐洲牧場之稱的國家是？ (A) 丙 (B) 乙 (C) 丁 (D) 戊
- () 25. 北歐國家寒冬漫長，深受冰河的刻蝕，而遺留下典型的冰河地形。下列那一個國家其海岸多峽灣？ (A) 甲 (B) 乙 (C) 丙 (D) 丁

俄羅斯是世界上面積最大的國家，請問：

- () 26. 請問哪一個區域瀕臨太平洋？ (A) 甲 (B) 乙 (C) 丙 (D) 丁

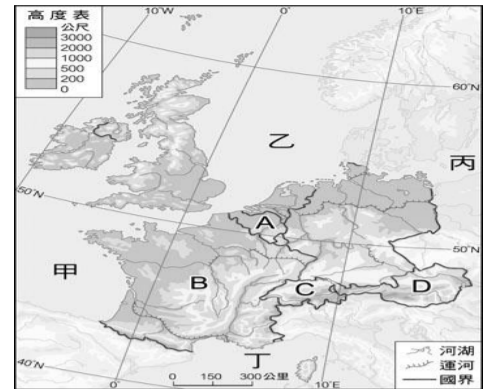


- () 27. 俄羅斯領土遼闊，人口分布卻十分不均。附圖中哪個區域是俄羅斯人口最密集的区域？ (A) 甲 (B) 乙 (C) 丙 (D) 丁
- () 28. 世界上最深的淡水湖是貝加爾湖，主要位於圖中的丙區，請問丙區的地形主體為 (A) 平原 (B) 盆地 (C) 高原 (D) 山地
- () 29. 下列那一城市位於歐俄平原上？ (A) 海參崴 (B) 布達佩斯 (C) 聖彼得堡 (D) 阿牡斯特丹
- () 30. 俄羅斯的天然資源豐富，請問下列何者不是俄國主要出口的工礦資源？ (A) 木材 (B) 煤 (C) 石油 (D) 橄欖

西歐是歐洲經濟的核心地帶，請問：

- () 31. 圖中該地的地形是以那種類型為主？ (A) 平原 (B) 山地 (C) 丘陵 (D) 半島
- () 32. 下列哪一個國家其境內阿爾卑斯山橫列其中？ (A) A (B) B (C) C (D) D

- () 33. 著名音樂家出生地，首都維也納有「音樂之都」美稱，是哪一個國家？ (A) A (B) B (C) C (D) D



- () 34. 鄰近荷蘭，地形平坦，首都布魯塞爾為歐盟總部所在，是哪一個國家？ (A) A (B) B (C) C (D) D
- () 35. 氣候宜人，盛產葡萄酒，時尚業引領世界風潮，是哪一個國家？ (A) A (B) B (C) C (D) D

小強到東歐旅遊，沿途隨手寫下筆記，但有一些遺忘，請幫助小強完成東歐隨手筆記

- () 36. 今天我們來到一個山麓國，因為盛產玫瑰，被譽為「玫瑰之國」，它最有名的就是香水、布滿玫瑰花田的玫瑰谷，適合栽種玫瑰，是熱門旅遊勝地，請問此國應是？ (A) 波蘭 (B) 捷克 (C) 匈牙利 (D) 保加利亞
- () 37. 經過昨晚充足的睡眠之後，今天我們前往另一個國家，它的首都布拉格，自中世紀開始就是歐洲最美的城市。走在街頭彷彿時光倒轉，中世紀等絢麗奪目的建築群隨處可見，請問今天小強是到了哪一個國家？ (A) 波蘭 (B) 捷克 (C) 匈牙利 (D) 保加利亞

- () 38. 第三天我們一早就來到此國首都布達佩斯泡溫泉。這座城市很特別，是由西岸的「布達」和東岸的「佩斯」兩個市聯合而成的喔，請問此國為？ (A) 波蘭 (B) 捷克 (C) 匈牙利 (D) 保加利亞

- () 39. 此河自北而向南貫穿布達佩斯市中心，走在河畔可以看到許多美麗的名勝，像是著名的布達城堡山、布達皇宮等，大夥兒不停拍照留念呢，請問此河為 (A) 多瑙河 (B) 萊茵河 (C) 聶伯河 (D) 鄂畢河。

- () 40. 請問上題中此河流為東歐主要河流，最後注入下列哪一個海域 (A) 黑海 (B) 地中海 (C) 波羅的海 (D) 亞得里亞海