

臺北市新民國民中學 102 學年度第一學期七年級地理科第三次段考

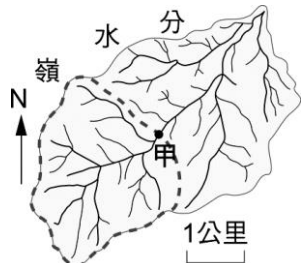
範圍：七年級 ch5~6

年 班 號 姓名：

一、選擇（共四十分）

- ( ) 1. 傳統布農族在播種之前，族人所唱的祭歌「八部合音」，被譽為天籟之音，如今他們的生活空間設立了國家公園。關於這個國家公園的敘述，下列何者錯誤？ (A)這裡有臺灣的最高峰 (B)是玉山國家公園 (C)可欣賞到植被的垂直變化 (D)這裡有豐富的熱帶海洋景觀
- ( ) 2. 「暑假期間，小強與家人一起到溪邊玩水。所在的下游地區天氣晴朗，但抬頭望見上游山區開始變得烏雲密布，身旁河川的水位也漸漸上升，馬上警覺到可能即將山洪暴發！」文中所描述的情形，除夏季的暴雨因素外，還與該地河川的何種特色最有關係？(A)含沙量大 (B)坡陡流急 (C)汙染嚴重 (D)侵蝕旺盛
- ( ) 3. 下列哪些是造成臺灣近年水資源日趨不足的因素？(甲)人口密度高(乙)人口自然增加率高(丙)水利設施不足(丁)地形(戊)氣候(己)植被(A)甲丙己 (B)乙丙戊 (C)甲丁戊 (D)乙戊己
- ( ) 4. 小說「鹽田兒女」中敘述臺灣早期曾風光一時的鹽業及沿海的養殖漁業的生活方式。請問：在養殖業盛行的潟湖地區最常見到下列何種植物分布？(A)榕樹 (B)草原 (C)紅樹林 (D)扁柏
- ( ) 5. 大強由嘉義搭乘阿里山森林鐵路的火車上山，沿途所見天然植物景觀的變化，依先後順序正確的是下列何者？(A)闊葉林→混合林→針葉林 (B)闊葉林→針葉林→混合林 (C)混合林→闊葉林→針葉林 (D)針葉林→混合林→闊葉林
- ( ) 6. 下列哪個措施，可保護特有的自然風景和野生動物，對環境保育的貢獻很大？ (A)設置垃圾焚化廠 (B)設立國家公園 (C)設置地方生活圈 (D)普及國民義務教育
- ( ) 7. 地球總水量中，海洋占了 97%外，陸地上的水只占 3%，其中陸地上比例最高的是何者？(A)河川和湖泊 (B)大氣中的水氣 (C)地下水 (D)極區及高山冰河
- ( ) 8. 臺灣山區近年來飽受土石流災害的威脅。下列哪項不是土石流發生的要素？ (A)充足的水分 (B)鬆動的土石 (C)適當的坡度 (D)寒冷的氣溫
- ( ) 9. 地理課同學們在討論人類的開墾方法對環境的影響，下列四位同學提出的開墾方法，何者最容易引發土石流？ (A)大強：「在山坡地開闢梯田。」 (B)小強：「作物沿等高線種植。」 (C)德華：「在山區開闢果園。」 (D)華德：「禁制砍伐森林。」
- ( ) 10. 一地區內生物群和他們所棲息的環境，會進行交互作用，形成一個環環相扣的體系。稱為什麼？ (A)生態系統 (B)生物族群 (C)生物群

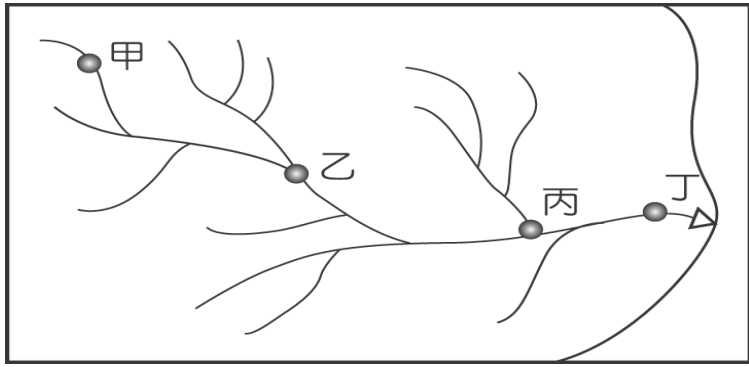
落 (D)自然環境

- ( ) 11. 冰河時期，海平面下降，臺灣與歐亞大陸相連，許多生物遷徙到臺灣，且更進一步演化成臺灣的特有種。冰河時期，下列哪個海域因海水面下降而成為生物遷徙的陸橋？ (A)東海 (B)印度洋 (C)太平洋 (D)臺灣海峽
- ( ) 12. 小強想登上玉山山頂，當他從山下一路往上爬時，發現山區的植物會隨著海拔高度呈垂直變化。當小強攀登到海拔高度 3,952 公尺的山頂時，當地主要植被為何？ (A)針葉林 (B)闊葉林 (C)草原 (D)混合林
- ( ) 13 附圖為某河流的流域示意圖，圖中河流的主流方向大致是呈現什麼方向？ (A)東北向 (B)西北向 (C)西南向 (D)東南向
- 
- ( ) 14. 苗栗地區多丘陵、山地，且多半開墾成「梯田」，這樣的土地利用方式主要是為了？(A)增加人口 (B)水土保持 (C)防地層下陷 (D)防颱風降雨。
- ( ) 15. 有關水循環的過程，下列何者正確？ (A)蒸發→降水→凝結→逕流(B)蒸發→凝結→逕流→降水 (C)蒸發→降水→逕流→凝結 (D)蒸發→凝結→降水→逕流
- ( ) 16. 臺灣南部沿海地區出現「地盤下陷，海水倒灌及地下水鹽化」等環境問題，而造成這些現象的原因為何？ (A)重工業擴廠比例高 (B)養殖業超抽地下水 (C)山坡地遍植檳榔樹 (D)外來人口數量多
- ( ) 17. 就臺灣降水分布的特徵研判，下列哪條河川的流量最不穩定，變化最為顯者？ (A)淡水河 (B)蘭陽溪 (C)高屏溪 (D)秀姑巒溪
- ( ) 18. 植物體內的水分由樹葉或枝幹返回大氣中的現象稱為什麼？ (A)降水 (B)逕流 (C)蒸散 (D)蒸發
- ( ) 19. 澎湖群島是臺灣降雨最少的地方，造成此一氣候特徵最主要的因素是？(A)緯度較低 (B)地形平坦 (C)受臺灣高山阻擋 (D)被高壓控制
- ( ) 20. 河川的主流和支流通連形成的天然集水系統，稱為？(A)流域 (B)水系 (C)集水區 (D)分水嶺

二、整合題（共六十分）

附圖某河川的水系圖，請問：

- ( ) 21. 地勢最高的，應是下列那一個位置？  
(A)甲 (B)乙 (C)丙 (D)丁



- ( ) 22. 若以臺灣河川一般而言，附圖中哪一地點河川的汙染最嚴重？(A)甲 (B)乙 (C)丙 (D)丁  
( ) 23. 下列那一個地點，其集水區域是最大的？  
(A)甲 (B)乙 (C)丙 (D)丁

附圖為臺灣河川分布圖，甲、乙、丙、丁代表河川。請問

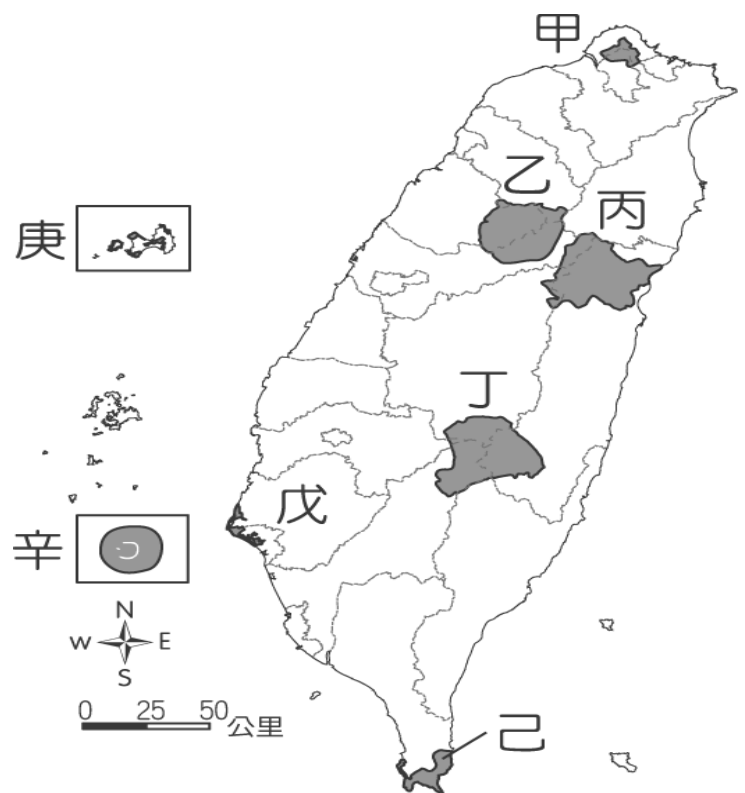
- ( ) 24. 請問圖中「丙」，應是下列哪一條河流？(A)淡水河 (B)濁水溪 (C)高屏溪 (D)秀姑巒溪  
( ) 25. 臺灣最長的河川是下列何者？(A)甲 (B)乙 (C)丙 (D)丁  
( ) 26. 臺灣河川大部分由東向西流受到下列哪一項地理特徵影響較大？(A)西部雨量較多 (B)西部平原較廣 (C)東部海水水位較高 (D)東部面臨太平洋  
( ) 27. 由圖觀察出，臺灣河川大部分由東向西流，注入哪個海洋？(A)東海 (B)臺灣海峽 (C)巴士海峽 (D)太平洋



- ( ) 28. 圖中哪一條河流其河流流量最穩定？ (A)甲 (B)乙 (C)丙 (D)丁  
( ) 29. 請問圖中「丁」，應是下列哪一條河流？(A)淡水河 (B)濁水溪 (C)高屏溪 (D)秀姑巒溪

臺灣的國家公園位置如附圖，請回答下列問題：

- ( ) 30. 臺灣於民國 98 年最新成立的國家公園——臺江國家公園，位於圖中的哪裡？  
(A)乙 (B)丙 (C)丁 (D)戊  
( ) 31. 「辛」被規畫為國家公園，其主要特色為何？  
(A)火山地形 (B)原始森林 (C)珊瑚環礁 (D)大理石峽谷  
( ) 32. 大強想在冬天享受泡溫泉，還想去看看硫磺噴氣口，請問：要到哪座國家公園？  
(A)甲 (B)乙 (C)丙 (D)丁。  
( ) 33. 大華想從事臺灣熱帶海岸林的研究，請問：應到哪座國家公園？(A)丙 (B)丁 (C)戊 (D)己  
( ) 34. 大中利用寒假前往某座國家公園參觀，帶回一份關於「櫻花鉤吻鮭」在高山復育情形的解說。請問：最可能到哪座國家公園？ (A)甲 (B)乙 (C)丙 (D)丁  
( ) 35. 八通古道與布農族文化是臺灣歷史的道路，請問：它位於圖中的哪座國家公園內？ (A)戊 (B)丙 (C)丁 (D)庚  
( ) 36. 全台灣第一座以人文史蹟為主的國家公園應是？  
(A)戊 (B)丙 (C)丁 (D)庚  
( ) 37. 黑面琵鷺每年十月由北方來臺渡冬，主要棲息於哪一個國家公園？(A)戊 (B)己 (C)辛 (D)庚  
( ) 38. 臺灣黑熊主要分布於臺灣最高峰附近區域，請問是哪一個國家公園？(A)甲 (B)乙 (C)丙 (D)丁



- ( ) 39. 下列哪一個縣市位在綠蠵龜上岸產卵必經之處，並設有保護區？(A)台北市 (B)新北市 (C)澎湖縣 (D)南投縣  
( ) 40. 以大理石峽谷、太魯閣族文化為主的國家公園是？(A)甲 (B)乙 (C)丙 (D)丁