

臺北市新國民中學一〇二學年度第二學期七年級地理科第三次段考

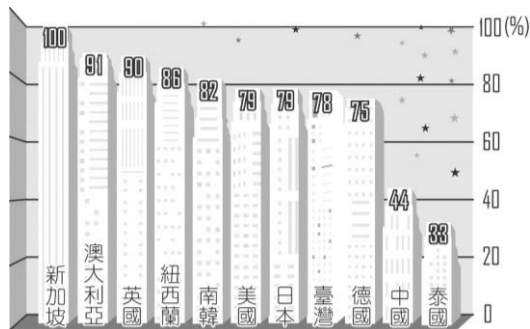
範圍：七年級 ch5~6

年 班 號 姓名：

一、選擇（共四十分）

- () 1. 澎湖因四周臨海為一島縣，其交通僅能靠海、空運輸，請問其屬於臺灣的哪一地區？ (A)北部區域 (B)中部區域 (C)南部區域 (D)東部區域
- () 2. 臺灣各項經濟建設中，哪一項最具有使北、中、南、東四區域均衡發展的功能？ (A)興建臺灣西部高速鐵路 (B)建立環島鐵路系統 (C)興建核能發電廠 (D)興建高雄大都會區大眾捷運系統
- () 3. 此港口為天然岬灣地形所興建而成，因此港口條件相當優越，然而該地區因為腹地狹小的限制，因此不利於後續建設，現在為臺灣第二大國際港，請問此港口為？ (A)高雄港 (B)基隆港 (C)臺中港 (D)花蓮港
- () 4. 臺灣哪一個縣由於完全不靠海，再加上高山地形相當廣大，因此境內主要以茶葉生產為主？ (A)南投縣 (B)臺東縣 (C)屏東縣 (D)桃園縣
- () 5. 近年來宜蘭地區的觀光業越趨興盛，不僅遊客增多，也吸引眾多國際集團到此投資飯店。請問這和下列哪一條交通系統的興建關係最大？ (A)蔣渭水高速公路 (B)福爾摩沙高速公路 (C)臺灣高速鐵路 (D)中山高速公路
- () 6. 政府實施「小三通」後，下列哪一個島嶼和大陸的廈門相對而望？ (A)金門 (B)馬祖 (C)綠島 (D)蘭嶼
- () 7. 臺灣國土計畫法中，預計將國土分為四個軸帶來發展，請問下列何者並不屬於四軸帶？ (A)中央山脈保育軸 (B)西部科技產業軸 (C)東部策略發展軸 (D)離島生態觀光軸
- () 8. 聚落是人群定居生活的地方，聚落的大小與聚集的人口多寡有關，下列哪個層級的聚落最大？ (A)村 (B)鎮 (C)都市 (D)都會
- () 9. 鄉村與都市的主要差異不包括下列哪項條件？ (A)產業活動 (B)人口密度 (C)聚落面積 (D)人口總數
- () 10. 在都市形成過程中，下列何者不是對人口之拉力？ (A)交通便利 (B)工商業發達 (C)腹地平坦廣大 (D)資源取得不易
- () 11. 臺灣哪一個縣市以水泥工業及大理石工業興盛，近年來觀光業所占的比重亦逐漸增加，因此環境保護與資源開發成了當地政府重要的課題？ (A)新北市 (B)高雄市 (C)宜蘭縣 (D)花蓮縣
- () 12. 關於都市的定義，下列何者敘述有誤？ (A)居民職業多屬第二、三級 (B)空間不足，人口數少 (C)土地利用密度高 (D)工程建設規模大
- () 13. 附圖是臺灣與其他各國都市化程度比較圖，由圖我們可以推論出哪種現象？ (A)臺灣都市化程

度偏低 (B)臺灣的工商業不發達 (C)臺灣第一級產業蓬勃發展，帶動都市興起 (D)臺灣第二、三級產業急速發展，使都市化程度達 70%以上

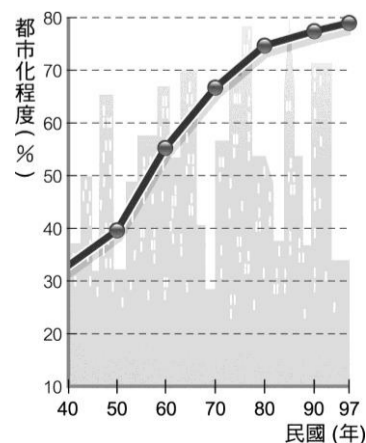


- () 14. 臺灣南部區域的養殖漁業特別發達，如虱目魚及蚵仔煎都成為著名的地方美食。請問：南部區域適合發展養殖漁業的有利條件為下列何者？ (A)海岸線長 (B)氣溫溼熱 (C)沿岸水深 (D)沙岸地形
- () 15. 臺北因經濟快速發展而與鄰近地區結合成大都會區，此與下列哪項因素較有關？ (A)大量人口的移入 (B)行政區擴大 (C)實施都市擴張計畫 (D)都市更新計畫
- () 16. 我們可以藉由下列哪項具體措施，使得衰老的聚落得到重生的機會？ (A)鼓勵當地民眾多生育 (B)將工業區移入老舊聚落 (C)社區營造 (D)向政府求救
- () 17. 金門和馬祖之所以成為軍事機能顯著的島嶼，其主要是何種因素所致？ (A)位置 (B)氣候 (C)地形 (D)產物
- () 18. 為解決都市與鄉村發展差異，並期望達到城鄉資源永續經營的目的，我們大多透過下列何項方式來達成？ (A)交通與建設 (B)減稅與補助 (C)都市計畫與社區營造 (D)生態保育與產業發展
- () 19. 下列哪一種族的臺灣原住民，以盪鞦韆的方式來召告族人男女間戀情？ (A)阿美族 (B)賽夏族 (C)達悟族 (D)魯凱族
- () 20. 下列哪一個島嶼的緯度最低？ (A)澎湖 (B)蘭嶼 (C)綠島 (D)小琉球

二、整合題（共六十分）

附圖是臺灣都市化程度曲線圖，請依據此圖回答問題：

- () 21. 臺灣都市化程度快速增加的原因為何？ (A)人口增加 (B)政治環境安定 (C)積極發展工商業 (D)高科技產業的設置
- () 22. 由此圖判斷，民國七十年的臺灣都市化程度約為多



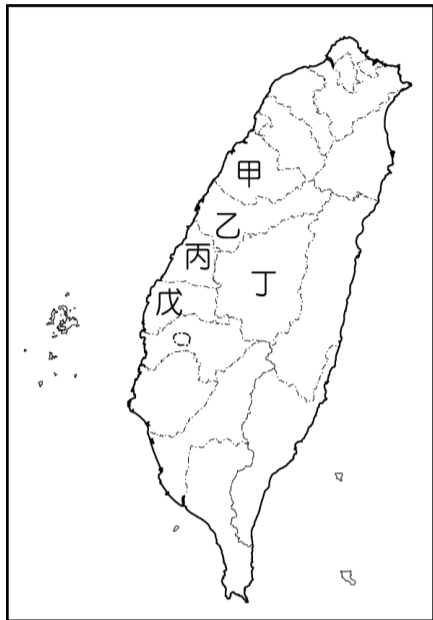
少？

(A)45% (B)53% (C) 68% (D) 77%

- () 23. 都市化的結果，使得臺北與鄰近的區域結合成一大都會地區。臺北地區內，有大量的交通需求，臺北近年來哪項建設可有助於解決此問題？(A)鐵路電氣化 (B)高鐵的建立 (C)興建捷運系統 (D)磁浮列車的建立

圖為臺灣中部各地區的相關位置。請問：

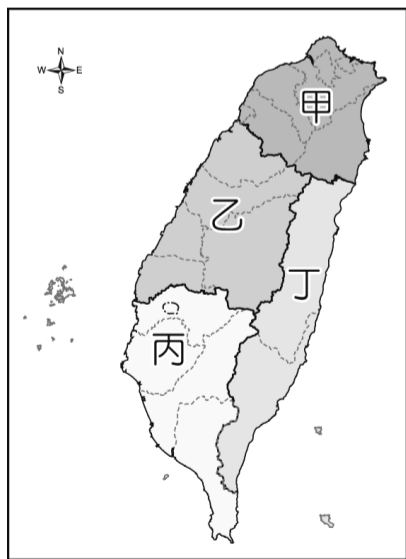
- () 24. 下列何者並不屬於中部地區？
(A)臺中市
(B)南投縣
(C)澎湖縣
(D)彰化縣



- () 25. 臺灣中部區域早期多以農業活動為主，其中哪一個縣市因為工商業、文教機能較為健全，成為中部區域的中心，提供鄰近縣市的相關服務？
(A)甲 (B)乙 (C)丁 (D)戊
- () 26. 中部區域哪一個縣市不靠海，近年來因土石流的問題，使得當地區域發展較為不利？
(A)甲 (B)乙 (C)丙 (D)丁
- () 27. 颱風過後蔬菜價格大漲，造成民生問題嚴重。若要了解中部區域農業產地的狀況，應該前往哪些縣市探訪？(A)甲、乙 (B)丙、戊 (C)甲、丁 (D)乙、戊

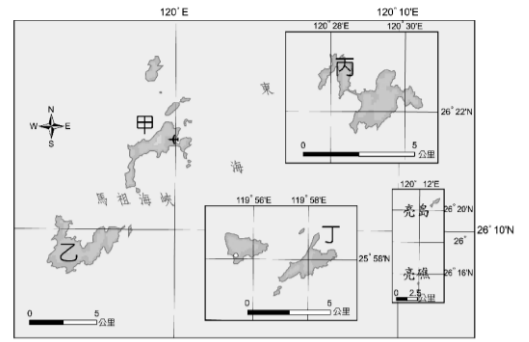
下圖為臺灣本島分區圖。請問：

- () 28. 嘉義縣屬於哪個區域？(A)甲 (B)乙 (C)丙 (D)丁



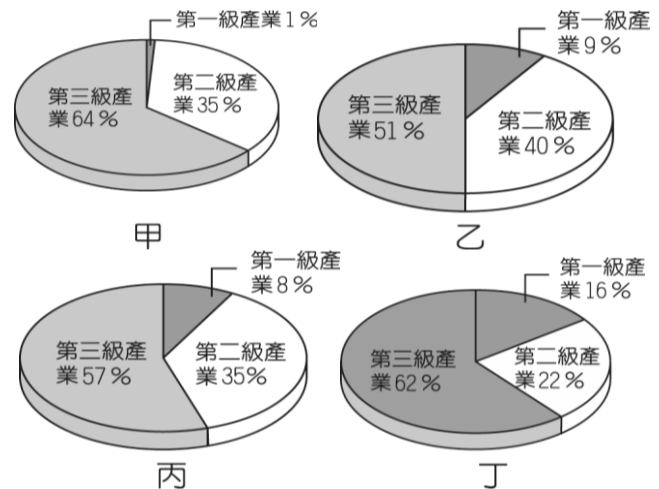
- () 29. 綠島屬於哪個區域？(A)甲 (B)乙 (C)丙 (D)丁
- () 30. 人口密度最高的是哪個區域？(A)甲 (B)乙 (C)丙 (D)丁
- () 31. 圖中第一級產業就業人口比例最高的是？(A)甲 (B)乙 (C)丙 (D)丁

附圖為馬祖地區的地理位置圖，請由圖中位置加以判斷。請問：



- () 32. 馬祖距離下列哪一個地區最近？(A)廈門 (B)福州 (C)臺南 (D)基隆
- () 33. 下列敘述中何者錯誤？(A)位於東半球 (B)位於北回歸線以南 (C)位於臺灣西北部 (D)位於中國東側
- () 34. 馬祖地區的南竿島有許多國防要塞，請問位於圖中何處？(A)甲 (B)乙 (C)丙 (D)丁

附圖為臺灣各區域產業就業人口比例圖。請問：



- () 35. 臺灣四個區域的產業皆以哪一級產業為主？
(A)第一級 (B)第二級 (C)第三級 (D)三級產業均衡發展
- () 36. 丁區的第二級產業比例最低，可見工業較不發達，它應是臺灣哪一區域的產業結構？
(A)北部區域 (B)中部區域 (C)南部區域 (D)東部區域
- () 37. 各區域間平均家庭年所得最高的是？(A)北部區域 (B)中部區域 (C)南部區域 (D)東部區域

臺灣各地、各區域都有特色，請問：

- () 38. 下列何者並不是東部地區的特色？(A)花蓮大理石產業 (B)蘭嶼飛魚季 (C)宜蘭國際童玩節 (D)花蓮秀姑巒溪泛舟
- () 39. 下列何者並不是金門縣的特色？(A)炮彈鋼刀 (B)高粱酒 (C)風獅爺 (D)八八坑道
- () 40. 下列何者並不是南部地區的特色？(A)東石鄉的養蚵 (B)屏東的洋蔥 (C)和平區的高冷蔬菜 (D)屬熱帶季風氣候