

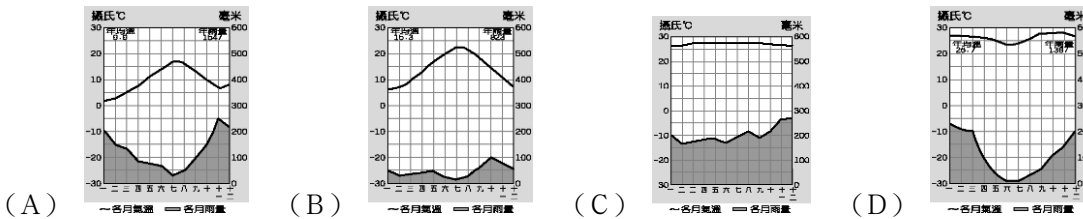
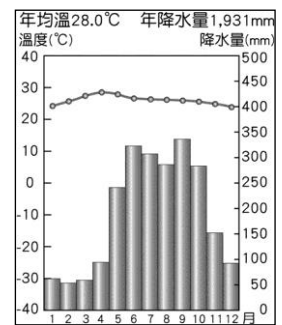
# 台北市立新民國中 102 學年度第二學期地理科第三次段考(八年級)

範圍：東北亞、東南亞、南亞

年 班 號 姓名

## 一、選擇題：每題 3 分，72%

- 近年來日本發生的強烈地震，如西元 1995 年的阪神地震、西元 2004 年的新潟地震，造成人員的傷亡和財產的損失不計其數。請問：日本多地震活動的主要原因為何？  
(A)山地、丘陵多 (B)河川沖刷力強 (C)位於火山地震帶上 (D)颱風侵襲次數多。
- 人口議題向來受到全球重視，就日前的人口統計報告中顯示，日本面臨的人口問題為何？(A)幼年人口日增，負擔加重 (B)壯年人口增加，負擔減輕 (C)老年人口增加，人口老化 (D)社會扶養減少，福利增加。
- 每年春天，日本櫻花盛開，那種「櫻吹雪」的美麗景色往往吸引各國觀光客前往共襄盛舉。若以緯度高低來判斷，觀光客最早可在哪一地看到櫻花？(A)北海道 (B)四國 (C)九州 (D)本州。
- 朝鮮半島的居民於每年秋收之後，大量醃製泡菜，今日泡菜仍是半島居民每日不可或缺的副食品。請問：朝鮮半島泡菜的由來與當地的哪一項自然環境有關？(A)耕地面積狹窄 (B)冬季氣候寒冷 (C)年雨量稀少 (D)土壤貧瘠。
- 1990 到 2008 年期間，北韓在「全球飢餓指數」惡化的排名中位居第二。造成北韓糧產不足，常有饑荒的問題，除了政治制度的影響外，與下列何項自然因素關係最密切？(A)颱風侵襲次數多 (B)生長季短、平原少 (C)火山活動與地震頻繁 (D)年雨量少於 500 毫米。
- 右附圖為越南胡志明市的氣候圖，下列對於此城市氣候的敘述，何者正確？  
(A)四時皆夏、年溫差大 (B)終年多雨 (C)乾溼季分明 (D)屬於熱帶雨林氣候。
- 中南半島上主要河川的源流大致平行。請問：中南半島最可能是中國哪一地理區的延伸？(A)嶺南丘陵 (B)橫斷山脈 (C)青藏高原 (D)珠江三角洲。
- 「該國家位於印度洋上，為珊瑚礁島所組成的島國，因附近海域乾淨清澈，而成為全球知名的度假勝地。」上文所述最可能是下列哪一個國家？  
(A)斯里蘭卡 (B)馬爾地夫 (C)尼泊爾 (D)孟加拉。
- (甲)豐富的礦產資源 (乙)便利的海洋航運 (丙)充沛的水力資源 (丁)工資低廉的勞工。以上哪些是促使日本工業發達，成為世界經濟強權的優越條件？  
(A)甲乙 (B)乙丙 (C)丙丁 (D)甲丁。
- 南洋群島因為地處赤道兩側地區，因此氣候類型主要為下列何者？



- 附圖是在某一個國家常見的照片，此國家的主要宗教非常尊崇牛。請問：這個國家最可能為下列何者？  
(A)印度 (B)巴基斯坦 (C)斯里蘭卡 (D)菲律賓。



- 東南亞國家組成「東南亞國協」的區域組織，其目的是為增進經濟的區域整合合作，請問下列哪一個國家「不是」東南亞國協的會員國？(A)泰國 (B)馬來西亞 (C)印度 (D)菲律賓。

13. 印尼的首都雅加達、菲律賓的首都馬尼拉、泰國首都曼谷以及東南亞華人人口比例最高的城市新加坡，以上城市均具備下列哪一項特性？ (A)農產豐富 (B)工礦業發達 (C)海運便利 (D)共同宗教信仰。
14. 近年來，許多臺商前往越南、泰國、柬埔寨等國家投資設立成衣、製鞋等工廠，主要是因為這些國家具有哪一方面的優越條件？ (A)豐富的原料 (B)廉價的勞工 (C)廣大的市場 (D)充足的資金。
15. 某地理學者到印度大平原進行「農業土地利用」的地理實察，他發現印度大平原從東到西依序種植水稻→小麥、小米→小麥、棉花。你知道這種農業景觀主要與下列哪一項因素有關？ (A)地形 (B)氣溫 (C)雨量 (D)土壤。
16. 日本與朝鮮半島同為溫帶季風氣候，但日本終年有雨，而朝鮮半島雨量集中夏季，主要的原因為何？(A)朝鮮半島地勢較高 (B)日本冬季季風經過海面富含水氣 (C)日本多山所以多雨 (D)朝鮮半島受到高壓籠罩。
17. 「……西元 1281 年夏季，忽必烈派出一支載有 15 萬士兵的艦隊進攻日本，要求歸順，日本人奮力抗擊長達七周。正值此時，一場『神風』毀掉半數以上的蒙古軍，解救了日本的民族。」根據當地的氣候特性判斷，文中的「神風」最可能是下列何者？ (A)季風 (B)颱風 (C)沙塵暴 (D)龍捲風。
18. 印度半島的地形分布，由北到南依序為何？ (A)高山→高原→平原 (B)高原→高山→平原 (C)高原→平原→高山 (D)高山→平原→高原。
19. 小麗一直很想到印度的泰姬瑪哈陵參觀，但他很怕熱又不喜歡下雨天，那麼他什麼時候出發前往印度觀光會最適合？ (A)3 月 (B)6 月 (C)9 月 (D)12 月。
20. 承上題，這段時間正好是印度的最佳季節，其原因是 (A)降雨多，氣候涼爽 (B)山脈阻擋冷氣團，較乾爽 (C)日照北移，氣溫上升 (D)多午後雷陣雨，可消暑氣。
21. 印度半島的恆河流域降水充沛，夏季連日的大雨時常發生水患。請問：下列哪一個國家最深受其害？ (A)印度 (B)孟加拉 (C)巴基斯坦 (D)斯里蘭卡。
22. 印度境內除了傳統工業活動外，近年來哪一種產業的發展相當順利，其產值僅次於美國，為世界第二位？ (A)軟體工業 (B)石化產業 (C)生技產業 (D)紡織業。A
23. 印度和巴基斯坦不友好，近來更有核武競試舉動，導致兩國交惡的原因有：(甲)宗教差異 (乙)礦產爭奪 (丙)領土糾紛 (丁)殖民背景不同。以上正確的是 (A)甲乙 (B)甲丙 (C)乙丁 (D)丙丁。
24. 馬爾地夫的領導人曾在國際環境保護會議中大聲呼籲，希望大家救救他的國家，因為照目前海水上升的速度，馬爾地夫很快就要從地球上消失了。下列哪一項因素是造成海平面上升的原因？ (A)溫室效應 (B)地震頻繁 (C)板塊擠壓 (D)火山作用。

## 二、整合題：每題 2 分，28%

※ 下圖為朝鮮半島地圖，下表則為南、北韓的比較。請回答下列問題。



項目	北韓	南韓
地形	山地較多	平原較多
年均溫	較低	較高
生長季	短	長
礦產資源	豐富	缺乏
工業	重、國防	輕、資訊、文化產業

25. 乙所代表的事哪個海域？ (A)東海 (B)黃海 (C)日本海 (D)對馬海峽。
26. 由表中可知北韓較南韓的生長季短，推測其主要影響因素為何？ (A)地形 (B)緯度 (C)距海遠近 (D)季風。

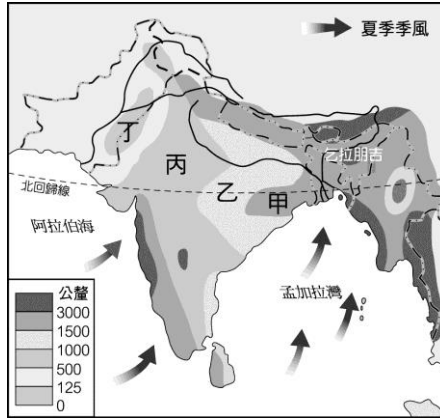
※ 左下附圖為日本主要工業區分布圖。請問：

27. 日本的沿海平原成為主要工業帶的分布區，主要原因為何？ (A)水力較充足 (B)氣候較優良 (C)技術較進步 (D)交通較便利。
28. 圖中甲、乙、丙三個工業區皆位於哪一島上？ (A)北海道 (B)四國 (C)九州 (D)本州。



※ 下圖為印度半島雨量分布圖，請問：

29. 印度半島的降雨水氣，主要是由什麼季風帶來？  
(A)東北季風 (B)西南季風 (C)東南季風 (D)西北季風。
30. 印度東北部丘陵區是雨量較多的地區，其雨量多的主要原因為何？  
(A)距海較近 (B)海岸線長 (C)盛行風迎風坡 (D)蒸發旺盛，氣流升騰致雨。
31. 圖中的甲、乙、丙、丁四區，何地最可能有熱帶沙漠的分布？ (A)甲 (B)乙 (C)丙 (D)丁。
32. 對於印度半島的降水量特色，下列說明何者正確？ (A)由東向西遞減 (B)由西向東遞減 (C)由北向南遞減 (D)由南向北遞減。
33. 印度東北部的乞拉朋吉是世界最多雨之地，年雨量高達 12,000 公釐。請問：影響該地多雨的因素為何？  
(A)地形、距海遠近 (B)緯度、季風 (C)距海遠近、洋流 (D)地形、季風。



※ 下圖為東南亞地區簡圖，A~K 為各國代號，請問：

34. 「這個國家因地處環太平洋火山地震帶上，故多火山、地震。至於在宗教信仰方面，該國北部呂宋島的居民多信奉天主教，南部民答那峨島的居民多信奉伊斯蘭教。」上文所描述的國家最可能是下列何者？  
(A) E (B) I (C) J (D) H。
35. 近年來臺灣引進許多外籍勞工，其中以來自東南亞居多，若就過去受中華文化影響程度來看，哪國勞工的文化及習俗與臺灣較接近？(A) B (B) C (C) D (D) E。
36. 想要一窺古文明的神祕，並享受石構建築和石刻浮雕所帶給人們的藝術衝擊，那麼「吳哥窟」絕對是不能錯過的旅遊景點。若想要一遊這個神祕之都應該到附圖中的哪一個地區？ (A) A (B) C (C) D (D) E。
37. 哪個國家島嶼最多，且分散於南、北半球之間，同時也是伊斯蘭教徒最多的國家？ (A) F (B) H (C) I (D) J。
38. 在東南亞各國中，哪個國家經濟發展程度最高，且魚尾獅為該國的地標？  
(A) C (B) F (C) G (D) H。

