

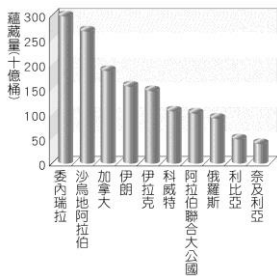
臺北市立新民國中 103 學年度第一學期地理科第一次段考(九年級)

範圍：西亞、中亞、歐洲概述

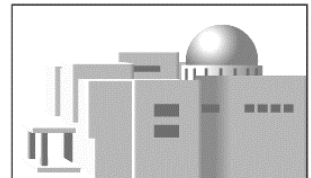
年 班 號 姓名

一、選擇題：每題 3 分，78%

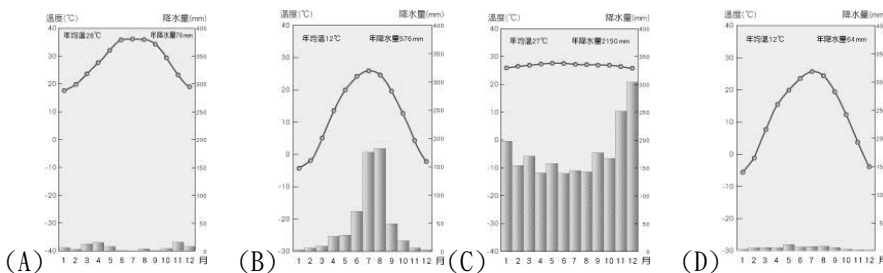
- 西亞原與非洲相連，後因板塊運動陷落而分離。請問：西亞與非洲之間是什麼海域？
(A)裏海 (B)紅海 (C)黑海 (D)阿拉伯海。
- 西亞地區受副熱帶高壓及地形阻隔，多數地區形成何種氣候？
(A)地中海型氣候 (B)熱帶沙漠氣候 (C)熱帶雨林氣候 (D)溫帶大陸性氣候。
- 溫帶地中海型氣候區農業特別重視灌溉的主要原因為何？
(A)日照強烈，蒸發旺盛 (B)高溫期太短 (C)無霜期太短 (D)生長季缺水。
- 左下附圖為西元 2012 年，世界石油蘊藏量前十大國家排名圖。請問：其中位於西亞的共有幾個國家？
(A)3 (B)4 (C)5 (D)6。



- 右上附圖為西亞傳統駱駝商隊的漫畫示意圖。請問：漫畫是要表達西亞哪項重要的地理特徵？
(A)氣候乾燥少雨 (B)信仰伊斯蘭教 (C)石油蘊藏量豐富 (D)歐洲與亞洲往來必經之地。
- 兩河流域是西亞地區的精華地帶，自古被稱為「肥沃月彎」，造成此現象的主要原因為何？
(A)氣候溫和宜人 (B)地底蘊藏豐富石油 (C)位居中央交通便利 (D)農業灌溉水源充足。
- 如右附圖，西亞地區的建築，窗戶小、外牆厚實的原因有：
(甲)防風沙 (乙)日間隔熱 (丙)平日防盜 (丁)戰時避難。
以上正確的是 (A)甲、乙 (B)乙、丙 (C)丙、丁 (D)甲、丁。
- 石油影響全球經濟，中國為加速石油的運輸，而與中亞地區的某國締結約 3,000 公里的油管。請問：某國指的是哪個國家？
(A)哈薩克 (B)土庫曼 (C)塔吉克 (D)烏茲別克。



- 中亞地區若要發展農業活動，需仰賴灌溉工程，請問：這是因為當地主要以下列哪種氣候類型為主？

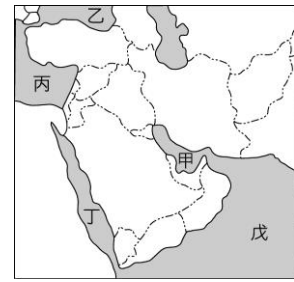
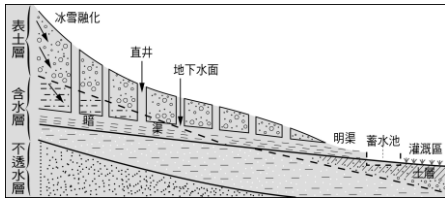


- 1825 年，洞庭湖的面積達 6,000 平方公里以上，為當時中國第一大淡水湖，但到了 1980 年代，其面積大幅縮減，只剩約 2,600 平方公里。鹹海在 1960 年代面積達 68,000 平方公里，是當時世界第二大鹹水湖，但到了 1998 年，其面積已下降至 28,687 平方公里，並持續萎縮中。上述二個湖泊面積的變化，都與下列何項因素關係最為密切？ (A)全球氣候變遷 (B)上游退牧還林 (C)發展農業耕作 (D)推廣養殖漁業。
- 西元 1990 年 8 月，伊拉克突然發動攻勢，佔了科威特，導致聯合國部隊和伊拉克之間發生戰爭。請問：伊拉克入侵科威特的主要原因為何？ (A)民族不同 (B)宗教歧異 (C)搶奪石油礦產 (D)爭奪水資源主權。
- 中亞地區氣候乾燥，除了四周高山圍繞外，降水少的主要原因為何？
(A)副熱帶高壓籠罩 (B)距海遙遠 (C)地勢較高 (D)地形平坦。

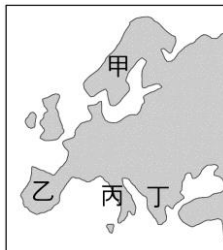
(背面尚有試題)

13. 左下附圖是伊朗高原常見的引水方式。請問：當地居民將水引入暗渠的主要目的為何？
 (A) 避免被動物喝光 (B) 減少水資源的蒸發 (C) 疏濬並導出積水 (D) 預防水源被汙染。
14. 承上題，在下列哪個地區也可見到類似的灌溉水利設施？

- (A) 中國新疆 (B) 日本北海道 (C) 印度恆河流域 (D) 菲律賓北部。



15. 西亞地區的石油主要分布在波斯灣沿岸，波斯灣成為世界航運十分繁忙的海域之一，一艘艘載運石油的貨輪駛向世界各地，為西亞帶來龐大的財富。請問：波斯灣位於右上附圖中何處？
 (A) 甲 (B) 乙 (C) 丙 (D) 丁。
16. 歐洲的地形以平原為主，面積廣大的歐洲大平原主要分布於下列哪兩個區域內？
 (A) 北歐、西歐 (B) 西歐、南歐 (C) 西歐、東歐 (D) 南歐、東歐。
17. 山脈通常是交通往來的障礙，但歐洲阿爾卑斯山多 U 型谷地，利於道路修築，成為內陸與地中海地區間的天然孔道。上述的「天然孔道」其地形成因為何？
 (A) 冰河作用 (B) 斷層作用 (C) 河蝕作用 (D) 溶蝕作用。
18. 左下附圖為歐洲四大半島分布圖。圖中「乙」的半島名稱為何？
 (A) 巴爾幹半島 (B) 義大利半島 (C) 伊比利半島 (D) 斯堪地那維亞半島。



19. 右上圖為南歐的大氣狀況示意圖，請由圖中資料判斷，當時應該為哪一個月分？
 (A) 1 月 (B) 4 月 (C) 7 月 (D) 12 月。
20. 南歐的氣候屬溫帶地中海型氣候，呈現夏乾冬雨的降雨特徵。這種現象的產生，以下列哪項因素來解釋最正確？ (A) 強大的暖流流經 (B) 終年信風吹拂 (C) 北有阿爾卑斯山 (D) 風帶季節性移動。
21. 歐洲高緯度的港口擁有終年不結冰的特色，使得歐洲的航運十分發達。請問：造成上述港口終年不結冰的主要原因為何？ (A) 北大西洋暖流由本區進入北極海 (B) 黑潮北上，帶來溫暖洋流，水溫提高 (C) 西風吹拂，帶來豐富的水氣，並調節氣溫 (D) 大西洋海水鹽度較高。
22. 張老師請同學們上臺發表對「歐洲聯盟」的認識，左下附圖為四位同學的報告內容。請問：哪位同學的敘述「錯誤」？ (A) 阿雄 (B) 小壯 (C) 大威 (D) 老武。

阿雄：簡稱「歐盟」(EU)
 小壯：由歐洲所有國家組成
 大威：以歐元作為流通貨幣
 老武：會員國享有免關稅優惠

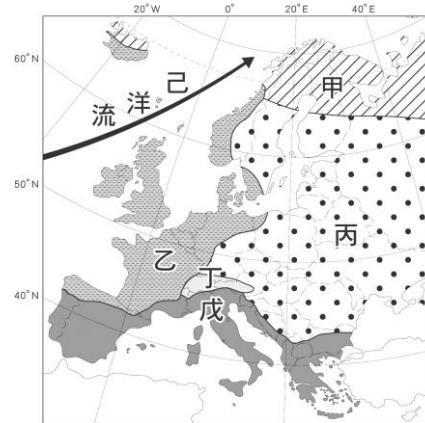


23. 右上附圖為歐洲地區四座主要的山脈。請問：哪座山脈是歐洲最高的山脈，素有「歐洲屋脊」之稱？
 (A) 甲 (B) 乙 (C) 丙 (D) 丁。
24. 人口問題呈現出一地區的社會經濟狀況。請問：目前歐洲所出現的人口問題最主要為下列何者？
 (A) 人口分布不均 (B) 人口素質不佳 (C) 人口成長停滯 (D) 人口出生率高。
25. 歐洲的國家中，以東歐各國在經濟上較為貧困落後，請問：這些國家經濟發展較差的因素，與下列哪項關係最密切？ (A) 礦產資源缺乏 (B) 共產制度影響 (C) 氣候較為嚴寒 (D) 土壤貧瘠，農業發展困難。
26. 歐洲為世界人口密集地區中分布較均勻的地區，除了地形平坦的原因以外，另一項因素是什麼？
 (A) 涼流經過 (B) 無沙漠分布 (C) 距海洋近 (D) 位置良好。

二、整合題：每題 2 分，22%

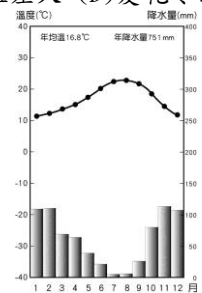
※ 右上附圖為西亞地區簡圖，請問：

27. 伊斯蘭教徒每日須面向聖地參加朝拜五次，而教徒一生中最大的願望，也是能親臨聖地朝拜。請問：伊斯蘭教的聖地參加位於附圖中的哪個國家內？ (A) 甲 (B) 乙 (C) 丁 (D) 戊。
28. 附圖中，哪個國家因為宗教信仰、族群與鄰近大部分國家不同，而常與鄰國發生糾紛？ (A) 甲 (B) 乙 (C) 丁 (D) 戊。
29. 為適應西亞地區的乾燥氣候，圖中哪個國家研發出滴灌農業技術？ (A) 甲 (B) 乙 (C) 丙 (D) 戊。
30. 近年發展觀光業不遺餘力的杜拜，投資觀光業、商業、貿易等產業後，漸漸成為西亞地區工商業貿易中心。請問：杜拜位於圖中何處？ (A) 甲 (B) 乙 (C) 丙 (D) 戊。



※ 右上附圖為歐洲氣候分區圖。請問：

31. 附圖中「丙」氣候類型，最可能是下列何者？ (A) 溫帶海洋性氣候 (B) 溫帶地中海型氣候 (C) 溫帶大陸性氣候 (D) 溫帶季風氣候。
32. 哪種氣候類型受西風與暖流的影響，全年有雨，年溫差較小？ (A) 甲 (B) 乙 (C) 丙 (D) 戊。
33. 丁地區的氣候特徵為 (A) 氣候呈垂直變化 (B) 全年有雨、年溫差小 (C) 夏雨冬乾、年溫差大 (D) 夏乾冬雨。
34. 右附圖是歐洲某地的氣候圖，屬於哪種氣候類型？ (A) 乙 (B) 丙 (C) 丁 (D) 戊。



※ 西亞地區氣候乾燥少雨，此一特徵對其產業發展也造成重大的影響。請問：

35. 土耳其為西亞地區濱臨地中海的國家，當地的氣候類型最適合種植何種作物？ (A) 椰棗 (B) 可可 (C) 橄欖 (D) 香蕉。
36. 在西亞地區，可能無法看到下列何種農業型態？ (A) 綠洲農業 (B) 灌溉農業 (C) 熱帶栽培業 (D) 地中海型農業。
37. 西亞沙漠地區的主要作物，營養價值高，被稱為『沙漠麵包』，是西亞國家的重要出口農產品。請問：此種作物為何？ (A) 椰棗 (B) 橄欖 (C) 石榴 (D) 橡膠。