

臺北市新民國民中學 103 學年度第一學期七年級地理科第二次段考

範圍：七年級 ch3~4

年 班 號 姓名：

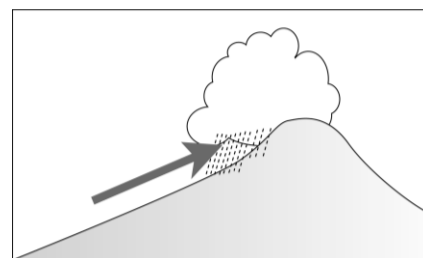
一、選擇（共四十分）

- ( ) 1. 大明在網路上看到一則新聞：「數名臺灣保釣人士與記者試圖登上釣魚臺列嶼的其中一島。」釣魚臺列嶼屬於哪種島嶼類型？  
(A)大陸島 (B)沙洲島 (C)火山島 (D)珊瑚礁島
- ( ) 2. 臺灣北海岸鼻頭角、三貂角、深澳、澳底等地，其地名皆與當地地形有關。上述這幾個地方都是位於哪種海岸地形？  
(A)岬灣海岸 (B)沙質海岸 (C)斷層海岸 (D)珊瑚礁海岸
- ( ) 3. 澎湖是台灣降雨最少的地方，造成此一氣候特徵最主要的因素是？ (A)緯度較低 (B)火山地形 (C)地形平坦 (D)高壓籠罩
- ( ) 4. 臺灣北部地區常常冬雨連綿，是受什麼季風的影響？(A)東南季風 (B)東北季風 (C)西南季風 (D)西北季風
- ( ) 5. 下列有關敘述「天氣」的正確詞句是？  
(A)台灣的竹風蘭雨 (B)台灣的年溫差小 (C)今天午後下了場陣雨 (D)春天常細雨連綿
- ( ) 6. 天氣因子中，「百帕」(hpa)是下列哪一因子的單位？  
(A)氣壓 (B)氣溫 (C)雨量 (D)風向。
- ( ) 7. 臺灣南端因地處熱帶而有哪種海岸地形的發育？  
(A)沙洲 (B)灣澳 (C)岬角 (D)珊瑚礁
- ( ) 8. 請問在台灣東部蘇花公路風景區，可在此看到下列何種海岸地形特色？  
(A)沿路岬角與海灣相間 (B)高山與深海相臨的斷層 (C)連綿的沙灘 (D)珊瑚礁地形
- ( ) 9. 關於沙岸的敘述，下列何者正確？  
(A)海水較深 (B)海岸線曲折 (C)地形起伏較小 (D)適合發展漁業及海運
- ( ) 10. 台灣核三廠所排放出的熱水，曾被懷疑是造成珊瑚死亡的原因。由此可推知，核三廠應位於台灣哪一個海岸？  
(A)北部 (B)東部 (C)南部 (D)西部
- ( ) 11. 下列哪項敘述是在描寫氣溫的變化？  
(A)清明時節雨紛紛 (B)夜裡星光明，明朝依舊晴 (C)天黑黑欲落雨 (D)朝穿皮襖午穿紗
- ( ) 12. 冬季時，臺北比高雄溫度還低，造成這種現象的主要因素為下列何者？  
(A)緯度較高 (B)降雨不足 (C)距海較遠 (D)盆地地形
- ( ) 13. 附表是某四個城市的一月及七月平均氣溫(°C)資料，由此判斷，何地的年溫差最大？

(A)甲 (B)乙 (C)丙 (D)丁。

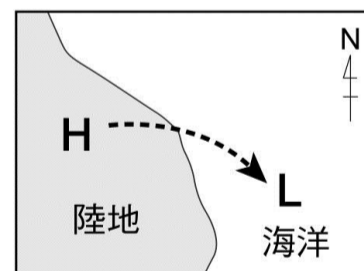
城市	甲	乙	丙	丁
一月平均氣溫	5.5	3.3	19.8	12.4
七月平均氣溫	27.6	20.0	30.8	25.1

- ( ) 14. 附圖為表示下列哪一種降水類型？(A)地形雨 (B)鋒面雨 (C)對流雨 (D)颱風雨。



- ( ) 15. 下列哪些是臺灣冬季常見的天氣災害？(甲)乾旱(乙)豪雨(丙)寒害(丁)颱風  
(A)甲、丙 (B)乙、丙 (C)甲、丁 (D)乙、丁
- ( ) 16. 臺灣周圍的離島有：(甲)澎湖(乙)綠島(丙)東沙島(丁)蘭嶼(戊)馬祖，上述島嶼成因相同的為何？(A)甲乙丙 (B)甲乙丁 (C)乙丁戊 (D)乙丙戊
- ( ) 17. 金門和馬祖位於中國大陸東南沿海，目前有國軍駐守，是防衛臺灣的前哨。請問：金門和馬祖形成的原因為下列何者？(A)海底火山噴出岩漿堆積而成 (B)由海底珊瑚礁露出海面而形成 (C)沿海丘陵受到海水上升，以致沒入海中而形成 (D)板塊變動，和大陸分離而形成

- ( ) 18. 由附圖中氣壓分布的情形可判斷此時應為臺灣哪個季節？

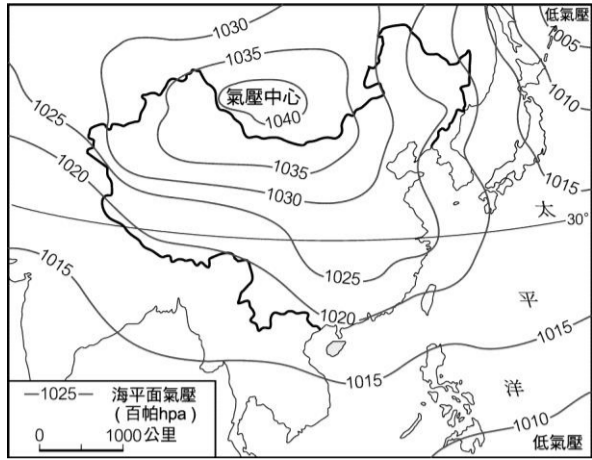


- (A)春季 (B)夏季 (C)秋季 (D)冬季
- ( ) 19. 「西北雨落不過田埂」是先民在缺乏精確的氣象儀器下所觀察到的經驗。若以目前的氣象知識，可知這種降雨類型為何？  
(A)地形雨 (B)對流雨 (C)鋒面雨 (D)氣旋雨
- ( ) 20. 關於臺灣的降雨特徵，下列何者正確？  
(A)降雨時空分布不均 (B)西岸雨量多於東岸 (C)南部雨量多於北部 (D)平地雨量多於山地

(※背面尚有試題※)

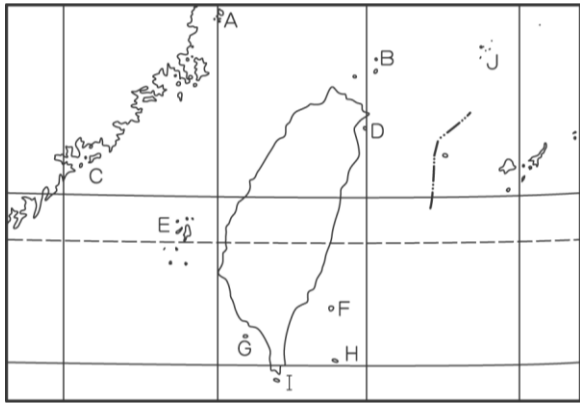
二、整合題（共六十分）

請根據附圖，回答下列問題：



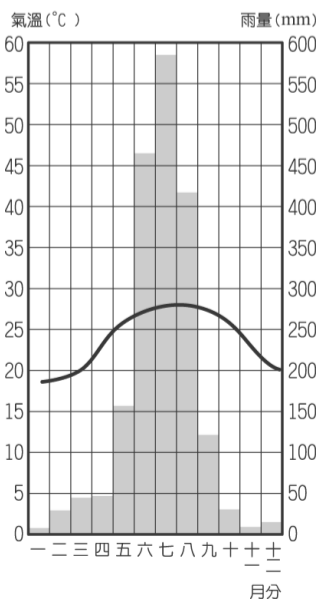
- ( ) 21. 請問圖中的圓滑曲線稱為? (A)等高線 (B)等溫線 (C)等壓線 (D)等雨量線
- ( ) 22. 根據圖中資料顯示，附圖最可能為幾月分的氣候圖? (A)五月 (B)七月 (C)九月 (D)十一月
- ( ) 23. 這個時期容易有什麼樣的氣象災害? (A)颱風 (B)梅雨 (C)寒害 (D)鋒面雨

請依圖作答：



- ( ) 24. 圖中「J」島為中華民國之國土，請問「J」島為? (A)金門 (B)馬祖 (C)烏丘嶼 (D)釣魚台
- ( ) 25. 請問下列哪一個島嶼的形成，與珊瑚礁最為相關? (A)B (B)E (C)G (D)H
- ( ) 26. 大明今年要去金門當兵，他拿出臺灣的島嶼分布圖，請告訴他金門島是附圖中哪一島嶼? (A) A (B) C (C) E (D) I

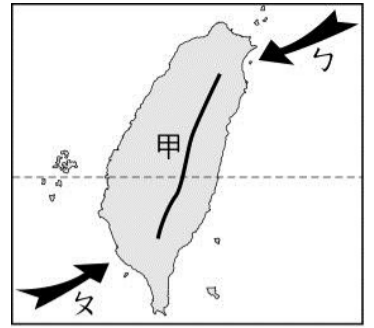
附圖為臺灣某地的氣候圖，請依圖回答下列問題：



- ( ) 27. 請問圖中的曲線代表下列那一氣候要素? (A)年均溫 (B)風力強弱 (C)氣壓高低 (D)年降水量
- ( ) 28. 此地的年溫差約為攝氏幾度? (A) 27 °C (B) 20 °C (C) 18 °C (D) 10 °C。
- ( ) 29. 此地最有可能是下列哪一個地區? (A)臺北 (B)高雄 (C)澎湖 (D)花蓮

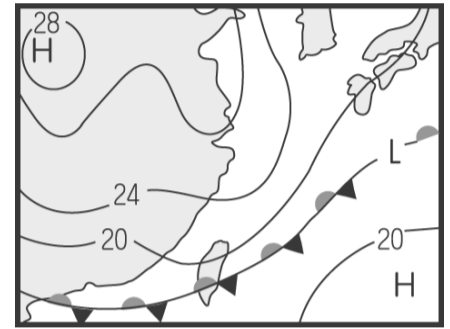
圖是為臺灣季風示意圖。請問：

- ( ) 30. 圖中虛線把臺灣分為兩種氣候，請問是哪條緯線? (A)赤道 (B)北回歸線 (C)南回歸線 (D)北極圈



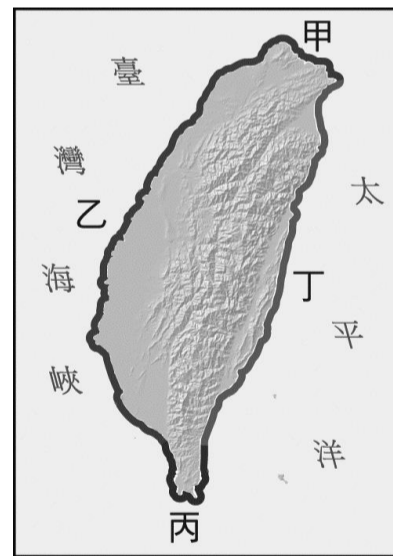
- ( ) 31. 圖中的ㄅ及ㄆ分別是兩個季節的盛行風向? (A)春、秋 (B)秋、春 (C)夏、冬 (D)冬、夏
- ( ) 32. 夏季時臺北氣溫常高於高雄，請問最主要為下列哪一個因素? (A)緯度較高 (B)降雨不足 (C)距海較遠 (D)盆地地形

附圖為某日地面天氣圖：



- ( ) 33. 請問：圖上的「L」是表示什麼? (A)高氣壓 (B)低氣壓 (C)鋒面 (D)颱風。
- ( ) 34. 請問此時台灣的天氣狀況最可能是? (A)豪雨成災 (B)颱風登台 (C)嚴重旱災 (D)寒流來襲
- ( ) 35. 附圖中經過台灣的鋒面應是? (A)滯留鋒 (B)暖鋒 (C)颱風 (D)冷鋒

請根據附圖，回答下列問題：



- ( ) 36. 何地可見海岸線曲折、岬角與海灣相間的景觀? (A)甲 (B)乙 (C)丙 (D)丁
- ( ) 37. 請問台灣的水產養殖，如牡蠣、魚貝類，大多位在圖中的哪一段海岸? (A)甲 (B)乙 (C)丙 (D)丁
- ( ) 38. 何地斷層海岸分布最廣? (A)甲 (B)乙 (C)丙 (D)丁
- ( ) 39. 沙質海岸地形主要分布於何地? (A)甲 (B)乙 (C)丙 (D)丁
- ( ) 40. 珊瑚礁海岸生態多樣，主要分布於何地? (A)甲 (B)乙 (C)丙 (D)丁