

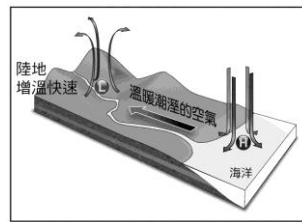
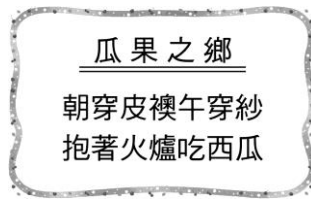
台北市立新民國中 103 學年度八年級第一學期地理科第二次段考

範圍：中國的氣候、水文、人口

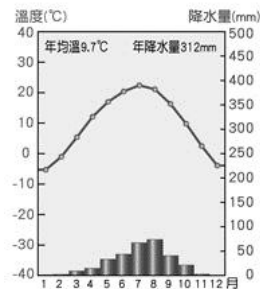
年 班 號 姓名

一、選擇題：每題 3 分，共 60 分


- 關於中國季風氣候形成的原因，下列何者正確？
(A)地形高低起伏複雜 (B)東部沿海平原廣闊 (C)大範圍海陸性質的差異 (D)河川下游湖泊眾多。
- 印度洋的水氣，受夏季季風吹送時，受到中國哪座山脈的阻擋最明顯？
(A)秦嶺 (B)長白山地 (C)大興安嶺 (D)喜馬拉雅山。
- 只要講到中國的氣候分界，就一定會讓人聯想到「秦嶺、淮河」，這條連線有哪些意義？
(甲)一月 0°C 等溫線 (乙)七月 0°C 等溫線 (丙)500mm 年等雨量線 (丁)750mm 年等雨量線。以上何者正確？
(A)甲丙 (B)甲丁 (C)乙丙 (D)乙丁。
- 旅遊雜誌以左下圖文宣當成主題封面，用特殊氣候特色說明當地的地理環境。該雜誌所介紹的地區是下列何者？
(A)海南島—熱帶季風氣候區 (B)塔里木盆地—溫帶沙漠氣候區 (C)青藏高原—高地氣候區 (D)東北平原—溫帶季風氣候區。



- 右上附圖為季風亞洲某一季節的季風成因示意圖。由圖中高低氣壓的分布位置，以及季風的吹拂風向研判，此季節最可能為何？(A)春季 (B)夏季 (C)秋季 (D)冬季。
- 左下附圖為中國疆域圖。圖中甲地冬、夏季風風向分別為何？
(A)冬：↑，夏：↓ (B)冬：↙，夏：↗ (C)冬：↓，夏：↑ (D)冬：↘，夏：↖。



- 右上附圖為甘肅省蘭州市的氣候圖。請問：蘭州屬於下列何種氣候類型？
(A)溫帶季風氣候 (B)溫帶草原氣候 (C)溫帶沙漠氣候 (D)高地氣候。
- 左下附圖所示為西藏的僧侶服飾，夏季午間人們常將外袍的袖子繫在腰間，袒出右臂或雙臂。請問：這種穿著方式，最能反映出當地夏季具有下列哪個氣候特色？(A)雨量稀少 (B)風力強勁 (C)日溫差大 (D)空氣稀薄。



月分	1月	2月	3月	4月	5月	6月	7月	8月	9月	10月	11月	12月
氣溫(°C)	-4	-2	6	14	20	24	26	25	20	13	4	-2
雨量(mm)	10	13	13	20	40	88	240	170	70	18	13	12

- 右上表為中國某地的氣溫及降水量表。請問：由表判斷，此地區屬於何種氣候類型？
(A)溫帶季風氣候 (B)副熱帶季風氣候 (C)熱帶季風氣候 (D)溫帶草原氣候。
- 內流河和外流河最大的差別是
(A)水量的多寡不同 (B)河流的長短不同 (C)注入的地區不同 (D)降雨的季節不同。
- 中國人口稀疏區的人口主要分布在山麓和河谷地帶，此一地理現象，與下列哪一項關係最為密切？
(A)地形較平坦 (B)水源較充足 (C)交通較便利 (D)土壤較肥沃。

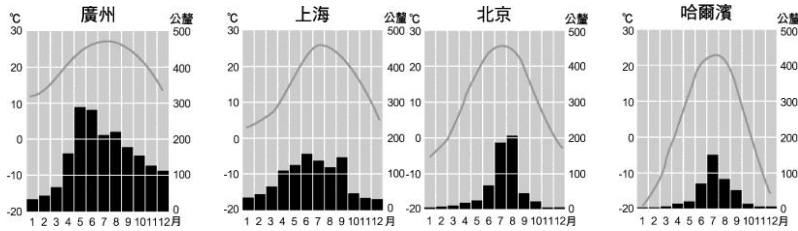
(※背面尚有試題※)

12. 秦嶺是中國氣候的重要分界線，請問：「秦嶺」位於左下圖中何處？(A)甲 (B)乙 (C)丙 (D)丁。



13. 中國少數民族眾多，右上附圖中哪個地區為中國少數民族分布最複雜，族數最多的地區？(A)甲 (B)乙 (C)丙 (D)丁。

14. 下附圖為中國四個都市氣候圖，影響這四個都市年溫差大小的主要因素是什麼？(A)距海遠近 (B)緯度高低 (C)地勢高低 (D)植被疏密



15. 下列對於環境負載力的敘述，何者正確？(A)環境負載力指一地能生產糧食和容納處理穢物的能力 (B)環境負載力高的地區較無污染 (C)環境負載力的高低與自然環境無關 (D)中國西半部地區環境負載力最高。
16. 目前中國的人口數達 13 億，約占世界人口數五分之一。請問：中國人口數眾多所帶來的好處為何？(A)人口素質提升 (B)糧食消耗增加 (C)教育機會均等 (D)勞動力充足。
17. 中國人口總數已達到十三億，但是人口素質卻不高，若要提高人口素質的根本方法為何？(A)提高教育水準 (B)改善環境品質 (C)徹底實行一胎化 (D)增加糧食的供應。
18. 中國大陸近年雖實施人口政策控制生育率，但每年人口成長增加的數量依然十分龐大，最主要的原因為何？(A)人口總數眾多 (B)出生率仍高 (C)人口移民增加 (D)死亡率降低。
19. 一胎化政策雖然減少了人口數快速的增加，但是卻造成很多問題。請問：下列哪個問題與一胎化關係密切？(A)性別比失衡 (B)人口外流 (C)汙染增加 (D)社會高齡化。
20. 中國境內目前出現嚴重的「盲流」問題，這和下列哪一個現象的關係最大？(A)一胎化政策 (B)人口素質偏低 (C)城鄉人口移動 (D)環境汙染嚴重。

二、整合題：每題 2 分，共 40 分

※ 右圖一是中國氣候類型分布圖，請問：

21. 圖中乙氣候區與丁氣候區的分類指標為下列何者？

- (A)年降水量 250 mm (B)年降水量 500 mm (C)一月均溫 0°C (D)七月均溫 18°C。

22. 何處的夏季月均溫可能最低？(A)甲 (B)乙 (C)丙 (D)丁。

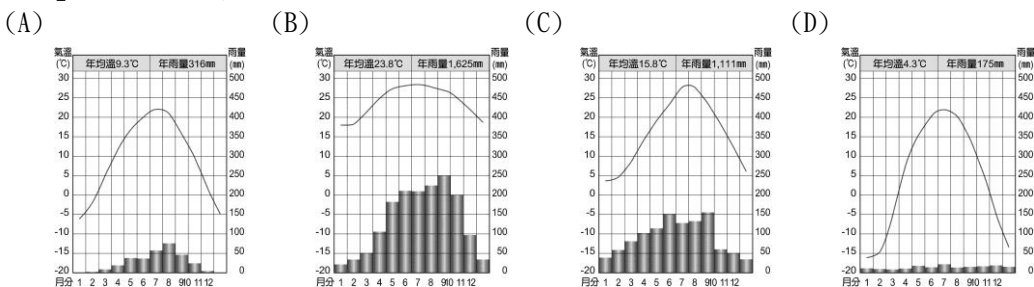
23. 「丙」地的氣候特徵為下列何者？

- (A)高溫多雨 (B)四季分明 (C)晝夜溫差大 (D)隨高度垂直變化。

24. 右下圖中動物一身的長毛，腳上具堅硬如冰爪的蹄，能在冰雪崖間行走，請問：該牲畜最可能是哪一地區特有的動物？(A)甲 (B)乙 (C)丙 (D)丁。

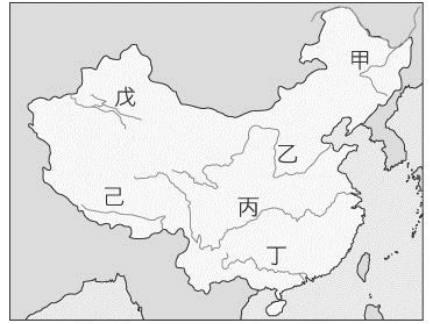


25. 「丁」地的氣候圖最可能是下列何者？




※ 右上圖中國主要河川分布圖。請問：

26. 下列哪一條河川最有可能為內流河？(A)甲 (B)乙 (C)丁 (D)戊。
 27. 洞庭湖和鄱陽湖是中國主要的淡水湖，兩者主要分布於下列哪一條河流沿岸？(A)乙 (B)丙 (C)丁 (D)己。
 28. 「己」河川最後流到印度洋，所以「己」河川最可能是下列哪一條河流？(A)額爾濟斯河 (B)雅魯藏布江 (C)塔里木河 (D)長江。




※ 人類的居室常受地理環境的影響，請問：


29. 雲南西雙版納的房屋多為下層架空的「干欄式」建築如附圖(一)，請問：此種建築物風格與該地何種環境特色有密切關係？(A)地形崎嶇 (B)氣候溼熱 (C)晝夜溫差大 (D)多地震。



(一)



(二)

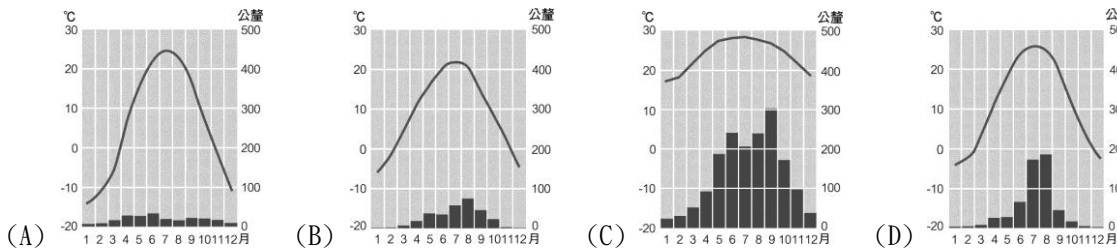


(三)



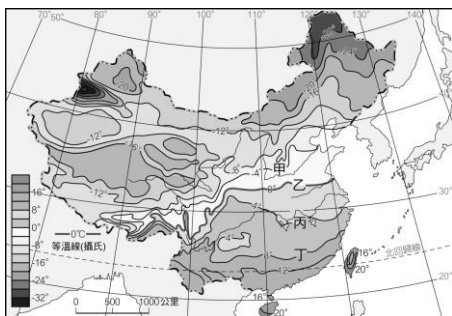
(四)

30. 我們在下列何地可以看到附圖(二)這種特殊的居住景觀？(A)橫斷山脈 (B)四川盆地 (C)黃土高原 (D)蒙古高原。
 31. 附圖(三)是中國南部區域的騎樓，為當地傳統建築的特殊設計，請問：這種建築設計最可能出現在下列哪一氣候區？

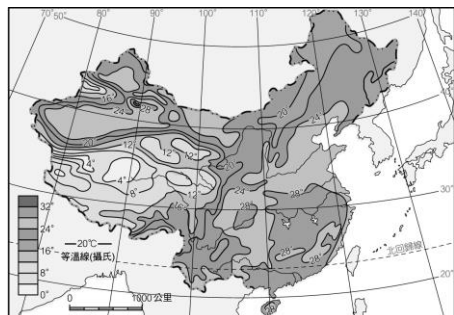


32. 「小哈一家人為了驅趕牲畜去尋找少量的水源與草料，乃以建、拆兩便的帳幕為住家(如附圖(四)所示)。」依此判斷，小哈的家鄉最可能在何地？(A)內蒙古高原 (B)黃土高原 (C)橫斷山脈 (D)四川盆地。

※ 附圖各為中國一月及七月等溫線圖，請根據此圖回答下列問題：



圖(五)

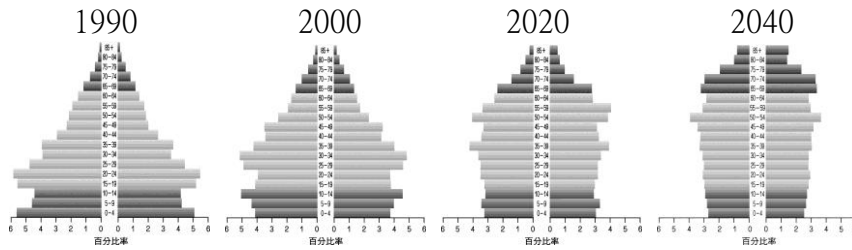


圖(六)

33. 圖(五)中等溫線的排列，主要受下列哪一因素影響？(A)緯度高低 (B)地形分布 (C)洋流流向 (D)距海遠近。
 34. 圖(五)中哪一條線大致與秦嶺、淮河一致？(A)甲 (B)乙 (C)丙 (D)丁。
 35. 圖(六)顯示，中國的夏季普遍高溫，唯獨西南一帶低於20°C以下，請問：這可能是什麼因素所造成？(A)距海較遠 (B)地勢較高 (C)大陸冷高壓中心 (D)高山阻擋季風帶來暖溼的氣流。

(※背面尚有試題※)

※ 附圖為中國人口金字塔及預測圖。請問：



36. 隨著人口結構的改變，中國執政當局，應該要採取哪種措施以解決所面臨的人口問題？ (A)實行人口移民政策 (B)鼓勵生育政策 (C)老人安養及福利政策 (D)人口遷移政策。
37. 由以上中國人口金字塔圖中，我們可以發現中國人口的特色，「不包括」下列哪項？
 (A)幼年人口比例下降 (B)男女性別比率不均 (C)邁入高齡化社會 (D)壯年人口負擔減輕。

※ 右圖為中國人口分布圖，請問

38. 該圖可以顯示出目前中國大陸正面臨著下列哪一項人口問題？
 (A)分布不均 (B)老年人口過多 (C)教育低落 (D)性別不均。
39. 圖中甲、乙連線，大致和中國哪一地區吻合？
 (A)秦嶺—淮河 (B)黑河—騰衝 (C)長白—青藏高原 (D)大興安嶺—雲貴高原。
40. 圖中可以顯示出，中國的人口分布具有何項特色？
 (A)人口集中於西北部 (B)人口集中於季風氣候區 (C)人口集中於山地及高原區 (D)人口分布非常平均。

