

【選擇題】1-5 題，每題 2 分；6-35 題，每題 3 分。

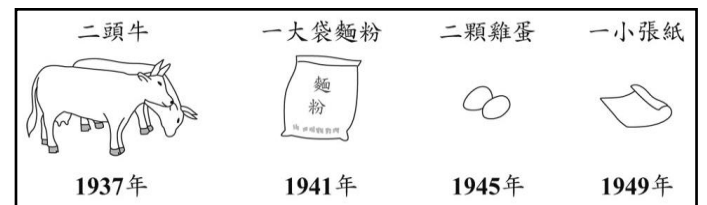
①下列是貨幣的各項功能，試回答第 1-4 題：

- (A)交易媒介 (B)價值衡量 (C)債務清償 (D)價值儲存

- 奕婕到超商繳交上個月 3,000 元的信用卡帳單。
- 富欽將剛領到的零用錢拿去買柔道衣。
- 榮欽到郵局存款 2,000 元。
- 芳紋的朋友贈送一張韓國偶像團體演唱會門票給她當成生日禮物，價值高達 1,800 元。
- 在臺灣可以很容易買到各國進口產品，主要是透過下列哪種行為達成？
(A)國際貿易 (B)走私 (C)親友饋贈 (D)外交。
- 下表中的【 】應填入下列何者？ (A) $>$ (B) $<$ (C) $=$ (D)無法判斷。

現象	發生原因	結果
供過於求	需求量【 】供給量	價格下跌

7. 右圖是中國歷史上某段時期民眾花費 100 元貨幣所能購買物品的變化，對於這種轉變，下列何者的解釋最適切？



- (A)農業科技改良 (B)物價下跌
(C)通貨膨脹 (D)通貨緊縮。

8. 據報導(2014/11/04)：「日圓持續□□，有人計畫到日本旅遊，而更多人期待在臺灣買日貨能享優惠。另也有台灣人因此把投資腦筋，動到了日本房地產身上，認為現在靠匯差買日本房子，就等於日本房屋打折一樣，因此越來越多人到日本置產。」文中的□□是指下列何者？

- (A)升值 (B)貶值 (C)平衡 (D)無法判斷。

9. 呈上題，依報導內容判斷，新臺幣兌換日幣的變動造成的影響為何？ (A)廠商進口日本貨物成本增加 (B)有助於我國貨物出口至日本 (C)此時購買日本進口商品較貴 (D)有利出國到日本遊玩。

10. 雅淳擅長高爾夫球；智勇是柔道黑帶高手；培凱準備挑戰 NBA，每個人各自選擇最拿手的工作，這符合何種經濟原理？ (A)需求法則 (B)供給法則 (C)比較利益法則 (D)投資。

11. 右圖是俠羽在網路上看到的徵才廣告。下列相關敘述何者正確？

- (A)今好呷麵店屬於生產要素市場 (B)2222 徵才網站屬於商品市場
(C)硬頸客家小炒店是有形市場 (D)8-12 便利商店屬於無形市場

2222 人力銀行徵才網站

*今好呷麵店 → 招募：廚師
*硬頸客家小炒店 → 招募：服務生
*8-12 便利商店 → 招募：工讀生

12. 呈上題，林美濃是硬頸客家小炒店的老闆，她上網徵才的行為屬於經濟活動循環簡圖中的哪一部分？

- (A)商品供給 (B)商品需求 (C)生產要素供給 (D)生產要素需求。

13. 下列有關市場的敘述，何者錯誤？ (A)市場為買賣行為發生的處所 (B)便利商店為有形的市場 (C)買者和賣者的買賣行為，稱為交易 (D)滿足人類需求的所有東西，統稱為商品。

14. 宇城開心領到獎學金，打開時發現其中一張有污漬。如右圖，污漬把下列何者機關遮住了？



- (A)總統府 (B)中央銀行 (C)財政部 (D)臺灣銀行。

15. 右下表是台灣和日本每月生產冷氣和腳踏車的數量。在國際貿易的考量上，兩國各應進、出口何種產品，才能獲得最大利益？

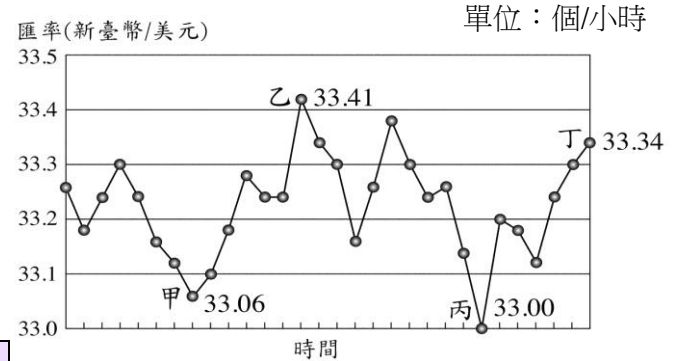
	台灣	日本
冷氣	400 台/月	800 台/月
腳踏車	600 台/月	700 台/月

- (A)台灣出口冷氣，進口腳踏車
(B)日本出口腳踏車，進口冷氣
(C)台灣進口冷氣，日本進口腳踏車
(D)台灣出口冷氣，日本出口腳踏車。

16. 政府在攸關人民利益或民生經濟有關的事項上，不會放任市場決定價格，下列何者是由這雙「看得見的手」所控制的經濟活動？ (A)百貨公司化妝品 (B)便利商店關東煮 (C)進口家電價格 (D)人民的基本工資。
17. 劭宇與國豪都是甜點師父，附表是他們製作蛋糕或麵包的數量。劭宇在製作蛋糕與麵包上具有絕對利益，但依比較利益法則，他則負責製作麵包。根據上述內容判斷，附表中的「甲」最可能為下列何者？ (A)1 (B)2 (C)3 (D)5。

	劭宇	國豪
蛋糕	甲	2
麵包	5	3

18. 良心食品公司定期以新臺幣兌換美元後，向美國進口價值兩萬美元的食品原料，右圖是該公司的兌換紀錄，圖中顯示在不同的時間點以1美元兌換新臺幣的比率。僅根據圖中內容判斷，若以新臺幣為衡量單位，甲、乙、丙、丁四個時間點，何者的進貨成本最低？ (A)甲 (B)乙 (C)丙 (D)丁。



◎下表為新民國2013年四季的進出口貿易統計，根據資料回答問題。

時間	項目	進口額	出口額
第一季		350	350
第二季		300	400
第三季		280	320
第四季		250	200

(單位：億美元)

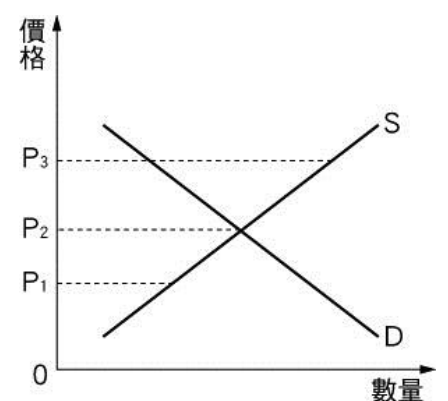
19. 下列哪個時期，新民國呈現貿易逆差？ (A)第一季 (B)第二季 (C)第三季 (D)第四季。
20. 下列哪個時期，新民國呈現貿易順差，而且出超額最大？ (A)第一季 (B)第二季 (C)第三季 (D)第四季。
21. 下列哪個時期，新民國貿易收入等於貿易支出，呈現收支平衡？ (A)第一季 (B)第二季 (C)第三季 (D)第四季。

◎新聞報導：「年關將近，民眾預期年前將有一股漲價風潮，紛紛提早辦年貨，剛好大賣場推出乾果零嘴大促銷活動，一大袋開心果只要100元特價，讓民眾隨手多帶幾罐。」請回答下列問題：

22. 上述情況顯示，經濟活動是由下列何者所主導？ (A)政府 (B)生產者 (C)消費者 (D)市場機能。
23. 根據上述內容判斷，這是何種經濟體制的表現？ (A)計畫經濟 (B)自由經濟 (C)統制經濟 (D)獨裁經濟。

◎右圖為供需均衡圖，試回答下列問題：

24. 在其他條件不變的情況下，生產者和消費者雙方都能接受的均衡價格為何？ (A) P_1 (B) P_2 (C) P_3 (D)不一定。



25. 下列哪些項目的敘述與圖中的「 P_3 」有關？ (A)柳丁盛產，果農降價促銷，吸引民眾購買。 (B)新鮮果汁當紅，造成市場上蘋果價格飆漲。 (C)黑心豬油事件，民眾改搶買豬皮回去油炸，造成豬皮狂漲。 (D)跨年連假即將到來，各大景點民宿旅館訂房難求。

26. 若右圖為蘋果市場的需曲線圖，假設 P_2 價格為40元，則當蘋果價格在30元時，下列敘述何者錯誤？ (A)蘋果供不應求 (B)此時供給量大於需求量 (C)生產者應增加生產量 (D)消費者應減少需求量。

◎右表為阿新與小民在一星期內可生產的衣服或褲子數量。回答下列問題：

27. 小民生產衣服和褲子方面具有下列何者？ (A)絕對利益 (B)比較利益 (C)機會成本 (D)外部效益。

	阿新	小民
衣服(件)	6	8
褲子(件)	4	6

28. 阿新生產一件衣服的機會成本為下列何者？ (A) $3/2$ 件褲子 (B) $2/3$ 件褲子 (C) $4/3$ 件褲子 (D) $4/3$ 件褲子。
29. 兩人應如何分工，以形成雙贏的效果？ (A)由阿新生產衣服和褲子 (B)由小民生產衣服和褲子 (C)阿新生產衣服、小民生產褲子 (D)阿新生產褲子、小民生產衣服。

◎右圖為經濟活動循環簡圖。根據內容判斷，回答以下第 30-35 題：

30. 洵安到書店選購文具和課外讀物，總共花了 800 元。請問：

洵安的購買文具的行為，屬於經濟活動循環中的何者？

(A)生產成本 (B)所得 (C)消費支出 (D)銷貨收入。

31. 紅達電手機為了提高生產量，要再增添機器設備。請問：增添機器設備的行為，是屬於經濟活動循環簡圖中的哪一項？

(A)甲 (B)乙 (C)丙 (D)丁。

32. 琬瑜有一雙會繪畫的巧手，而且深具創意，她設計許多潮 T 在網路上拍賣。請問在網路拍賣潮 T，屬於經濟活動循環當中的哪一項？ (A)甲 (B)乙 (C)丙 (D)丁。

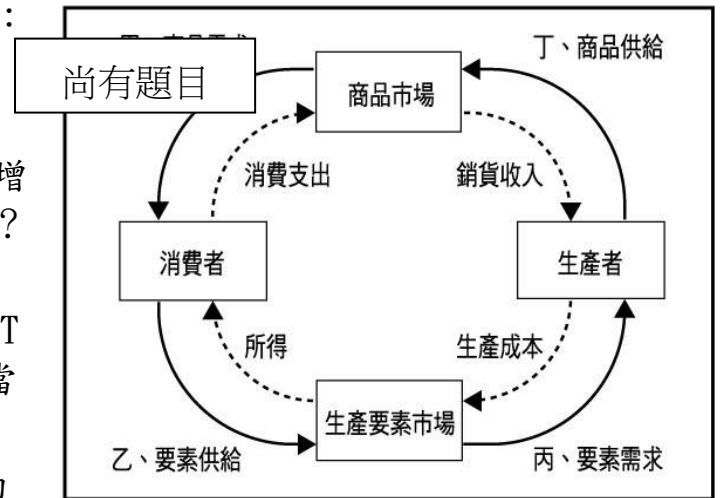
33. 琬瑜每月販賣潮 T 的營業額約為 40,000 元，屬於經濟活動的哪一環？

(A)消費支出 (B)銷貨收入 (C)生產成本 (D)所得。

34. 琬瑜透過網路的 HIYOO 拍賣平台販賣商品，請問下列何者同屬於此種「無形市場」？

(A)大來發量販店 (B)KO 便利商店 (C)新民果菜市場 (D)WOWO 電視購物。

35. 芷萱是名家庭主婦，都會到傳統市場購買蔬菜、水果。上述的「傳統市場」屬於經濟活動循環簡圖中的哪一環？ (A)商品市場 (B)生產要素市場 (C)生產者 (D)消費者。



試題完成 恭喜同學