

臺北市新民國民中學一〇三學年度第一學期七年級地理科第三次段考

範圍：七年級 ch5~6

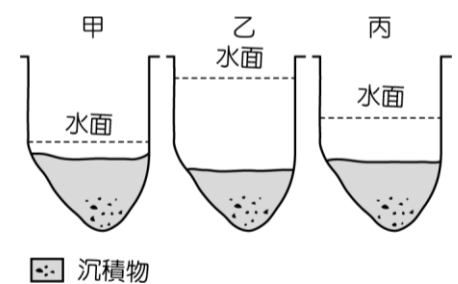
年 班 號 姓名：

一、選擇（共四十分）

- () 1. 臺灣四面環海，若想欣賞美麗的珊瑚，請問可到下列哪座國家公園？ (A)金門國家公園 (B) 陽明山國家公園 (C)墾丁國家公園 (D)雪霸國家公園
- () 2. 臺灣西南沿海地區地層下陷，使臺灣面臨何種威脅？(A)國土流失 (B)河川污染嚴重 (C)水土流失 (D)造成土石流
- () 3. 下列哪些是造成臺灣近年水資源日趨不足的因素？(甲)人口密度高(乙)人口自然增加率高(丙)空氣污染(丁) 降水季節不均 (A)甲丙 (B)甲乙 (C)甲丁 (D)乙丁
- () 4. 全球的水資源以何者所占的比例最多？
(A)海水 (B)河流 (C)地下水 (D)高山冰河
- () 5. 大明搭乘阿里山森林鐵路的火車下山，沿途所見天然植物景觀的變化，依先後順序正確的是下列何者？(A)闊葉林→混合林→針葉林 (B)闊葉林→針葉林→混合林 (C)混合林→闊葉林→針葉林 (D)針葉林→混合林→闊葉林
- () 6. 下列哪一項是臺灣防治山坡地的治本之道？
(A)加強儲水設施 (B)禁止土地利用 (C)整治溪流，加高堤防 (D)做好集水區的水土保持。
- () 7. 臺灣河川冬、夏流量變化大，被稱為哪種類型的河川？
(A)滿流型 (B)荒溪型 (C)中流型 (D)乾旱型
- () 8. 臺灣地區有許多特有種的生物分布，請問：這和冰河時期後，出現下列哪一個天然屏障的關係最大？(A)臺灣海峽 (B)中央山脈 (C)太平洋 (D)玉山山脈
- () 9. 臺灣島區的哪項地理特徵與「五大山脈分布全島」的關係最密切？
(A)河川坡陡流短 (B)降水分布不均 (C)四周島嶼眾多 (D)火山地震頻繁
- () 10. 水在地球上循環，其過程下列何者正確？(A)蒸發→凝結→逕流→降水 (B)凝結→蒸發→降水→逕流 (C)蒸發→凝結→降水→逕流 (D)蒸發→降水→凝結→逕流
- () 11. 小明放假時想帶著大明，去觀賞彈塗魚、招潮蟹、水鳥等景觀，並找尋失落的鳥類。小明應去哪種植物林帶，才能如願以償？
(A)高山草原 (B)紅樹林 (C)闊葉林 (D)針葉林
- () 12. 河川的主流和支流相通連，形成一個天然的集水系統，稱為？(A)流域 (B)河流 (C)水系 (D)分水嶺
- () 13. 臺灣河川大多由東向西注入下列哪一個海洋？
(A)太平洋 (B)印度洋 (C)巴士海峽 (D)臺

灣海峽

- () 14. 南投地區多丘陵、山地，多半開墾成「梯田」，這樣的土地利用方式主要是為了？(A)增加美觀 (B)水土保持 (C)防地層下陷 (D)防颱風降雨。
- () 15. 德基水庫為臺灣中部地區最大的水庫，有發電、供水的功能。請問該水庫築於下列哪一河川上游？ (A)淡水河 (B)大肚溪 (C)大甲溪 (D)濁水溪
- () 16. 臺灣的河川，特別是在南部容易出現「荒溪型」河川，請問是什麼原因？ (A)地面起伏較小 (B)河流長度較短 (C)氣候上乾季雨季分明 (D)降雨特徵為「夏乾冬雨」
- () 17. 臺灣由於具備下列哪種自然條件，因而孕育出多元物種及豐富生態環境？
(A)坡陡流急，河川侵蝕力強 (B)雨量豐富，地處溫帶 (C)位於環太平洋火山地震帶上 (D)氣候溫暖潮溼，地形起伏大
- () 18. 從 1980 年代至今，臺北地區大量開發山坡地，盆地周圍的山坡地已有相當大的面積被密集的住宅社區、工廠所盤據。由於開發而改變了原始的地表型態，影響土壤涵養水源的功能。上述開發最可能導致臺北盆地發生下列哪一種現象？
(A)地層下陷趨緩 (B)淹水的頻率增加 (C)地下水含量增加 (D)河川流量較穩定
- () 19. 附圖為曾文溪某地點在不同季節的主要水位示意圖。請問：圖中甲的現象最主要出現在下列哪一個季節？
(A)春季 (B)夏季 (C)秋季 (D)冬季



二、整合題（共六十分）

臺灣目前的環境問題與我們的生活關係密切，請問：

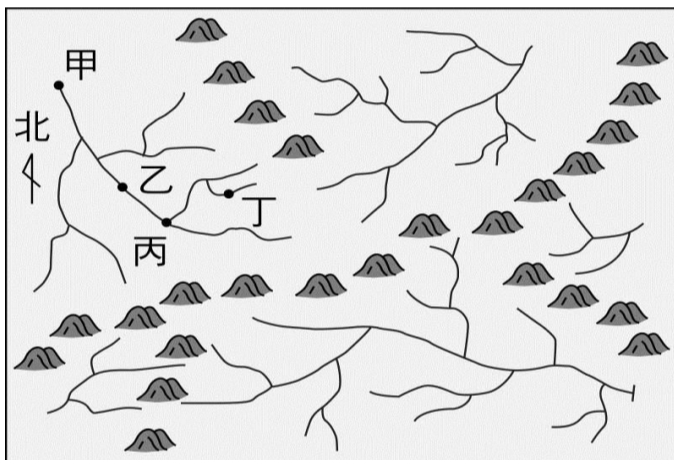
- () 21. 下列何者不是造成海岸侵蝕的原因：(A)海浪的沖擊 (B)海流的沖刷 (C)地層下陷使海水侵入陸地 (D)來自亞洲大陸的沙塵暴
- () 22. 請問下列何種對地形造成的傷害，在臺灣較不常見？(A)地震 (B)雪崩 (C)山崩 (D)土石流
- () 23. 請問目前臺灣河川污染最嚴重的地區，是下列哪一個地區？(A)南部地區 (B)河流上游 (C)離島地區 (D)山地地區

臺灣是個生物多樣性豐富的寶島。請問：

- () 24. 目前鱘魚的數量減少，下列何者是最主要的原因？(A)人類過度濫捕 (B)地球進入冰期 (C)太陽日照影響 (D)地球海水變少
- () 25. 請問國家公園設置的最主要目的為？(A)開發資源 (B)發展觀光 (C)生態保育 (D)提高所得
- () 26. 請問在臺灣本島地形高度最高的林相為何？(A)紅樹林 (B)闊葉林 (C)混合林 (D)針葉林
- () 27. 下列何者並不是臺灣的特有種生物？(A)臺灣黑熊 (B)臺灣獼猴 (C)臺灣海狗 (D)櫻花鉤吻鮭

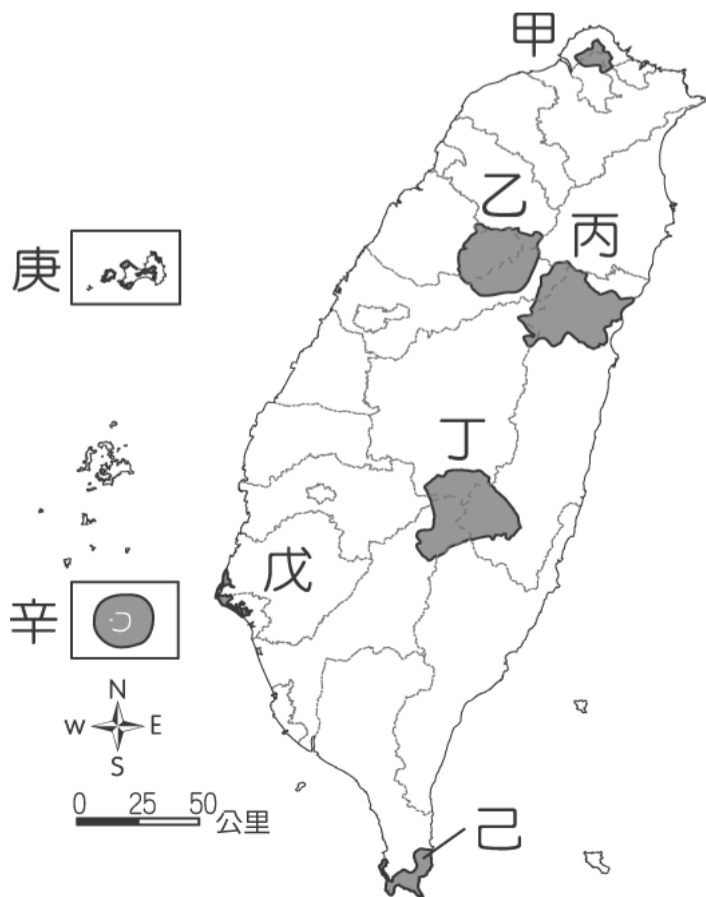
附圖某河川的水系圖，請問：

- () 28. 下列那一個地點，其集水區域是最大的？(A)甲 (B)乙 (C)丙 (D)丁
- () 29. 附圖中哪一河段，其流量最多？(A)甲 (B)乙 (C)丙 (D)丁



- () 30. 附圖中共有幾個流域？(A)三個 (B)四個 (C)五個 (D)六個

臺灣的國家公園位置如附圖，請回答下列問題：



- () 31. 八通關古道是先民開拓歷史的道路，請問：它位於圖中的哪座國家公園內？(A)戊 (B)丙 (C)丁 (D)庚
- () 32. 若想利用寒假遊賞立霧溪峽谷。請問：最可能到哪座國家公園？(A)丁 (B)丙 (C)乙 (D)甲
- () 33. 大強想在冬天享受泡溫泉，還想去看看硫磺噴氣口，請問：要到哪座國家公園？(A)甲 (B)乙 (C)丙 (D)丁。
- () 34. 若要從事臺灣熱帶海岸林的研究，請問：應到哪座國家公園？(A)丙 (B)丁 (C)戊 (D)己
- () 35. 「辛」被規畫為國家公園，其主要特色為何？(A)火山地形 (B)原始森林 (C)珊瑚環礁 (D)大理石峽谷
- () 36. 臺灣本島國家公園，主要分布在哪種地形上？(A)山地 (B)平原 (C)高原 (D)盆地
- () 37. 臺灣於民國 98 年成立的第八座國家公園——臺江國家公園，位於圖中的哪裡？(A)乙 (B)丙 (C)丁 (D)戊

附圖為臺灣河川分布圖，甲、乙、丙、丁代表河川。請問：

- () 38. 臺灣著名的日月潭水庫位於下列哪一條河流的上游？(A)甲 (B)乙 (C)丙 (D)丁
- () 39. 提供台北市主要民生用水的水庫，位於圖中哪條河川流域？(A)甲 (B)乙 (C)丙 (D)丁
- () 40. 請問圖中「丙」，應是下列哪一條河流？(A)淡水河 (B)濁水溪 (C)高屏溪 (D)秀姑巒溪

