

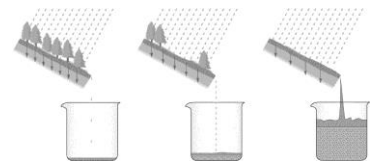
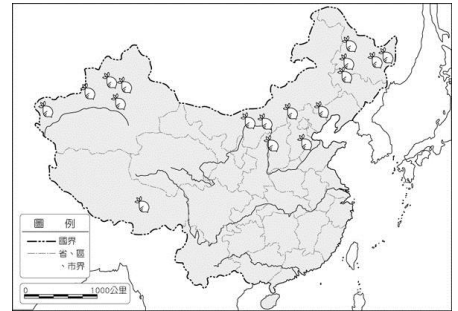
台北市新民國中學 103 學年度八年級第一學期地理科第三次段考(八年級)

範圍：產業、交通、資源與環境保育

年 班 號 姓名

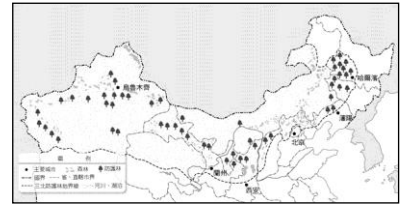
一、選擇題：每題 2 分，

- 中國某地理現象的分布特色如下圖所示，右圖中界線最可能為何者的分界？
(A)水田、旱田 (B)二穫區、三穫區 (C)農業、牧業 (D)游牧、放牧。
- 中國農業與牧業的分界線大致和下列哪條界線相同？ (A)最冷月均溫 0°C 等溫線 (B)750 毫米等降水量線 (C)人口稠密與稀少的界線 (D)內流區與外流區的分界線。
- 東北平原、華北平原、長江中下游平原和珠江三角洲是中國農業發達的平原，但僅珠江三角洲年可三穫，主要是因為該地處於何種有利的環境？
(A)緯度最低 (B)雨量最多 (C)面積最大 (D)海岸曲折。
- 棉花喜溫，好光，生長期長，收穫期忌雨，若依此生長條件來看，下列哪一地區最適合種植？
(A)嘉南平原 (B)華北平原 (C)珠江三角洲 (D)東南丘陵。
- 附圖為中國某經濟作物的分布圖，該種作物最有可能為下列何者？
(A)棉花 (B)甘蔗 (C)稻米 (D)茶樹。
- 內蒙古高原傳統的產業活動為畜牧，東部的牧民以放牧為主，西部的牧民則以游牧維生。請問：影響內蒙古高原東、西部牧民採取不同畜牧方式的主因為何？
(A)地勢高低 (B)緯度高低 (C)土壤性質 (D)雨量多寡。
- 中國目前有多項產品的產量居全球之冠，世界各國製造業仍持續往中國移動。請問：中國吸引外資投入的優勢條件，主要是下列哪一項？ (A)農產資源豐富 (B)鐵公路交通便利 (C)勞動力低廉 (D)水力資源充沛。
- 「紅色的高粱田，金黃色的小麥和玉米田，還有綠色的甜菜或大豆園，在同一時間內構成色彩繽紛的田園美景。」上述的景觀應出現在下列哪個地區？ (A)華南地區 (B)華中地區 (C)華北地區 (D)東北地區。
- 影響中國南部區域水稻產量逐年減少，而蔬果、茶葉產量漸增的主要因素為何？(A)氣候暖化 (B)市場價值 (C)培育技術 (D)暴雨次數增加。
- 大雄以漫畫的方式，表示他對某種環境問題的看法。根據右上圖中內容判斷，他所要表達的是何種環境問題？
(A)沙漠化 (B)土壤鹽鹼化 (C)水土流失 (D)沙塵暴。
- 中國「土地」資源利用的分界線與下列何者相同？ (A)稻米、小麥的分界線 (B)人口分布的分界線 (C)地勢三級階梯的分界線 (D)雨量 750 mm 的分界線。
- 「覆蓋著深厚的粉沙粒，邊坡陡峭，原面上溝壑縱橫，水土流失嚴重……」，以上敘述最可能指下列哪一地區？ (A)青藏高原 (B)蒙古高原 (C)黃土高原 (D)雲貴高原。
- 近年來由於西北地區土壤漠化嚴重，加上每年冬季季風吹拂，使的華北地區經常遭受到沙塵暴的侵襲而導致視線不良、意外頻傳。請問：此冬季季風的風向應該為何？ (A) ↘ (B) ↓ (C) ↙ (D) ↖。
- 中國內蒙古東側的大草原原本就是天然的放牧地，但隨著人口的增加、耕地面積的擴張與過度放牧的結果，超過了土地的負載力，各種礦場、交通幹道的開挖興建，最可能造成何種環境衝擊？
(A)沙漠化 (B)地層下陷 (C)水源不足 (D)水土流失。
- 內蒙古地區為制止沙漠化現象的擴張，近期正採用何種措施來防治？
(A)大量開鑿灌溉渠道 (B)採用植物制沙以固定沙丘 (C)嚴禁畜牧業的發展 (D)築籬圍堵沙丘移動。
- 近年來，中國實施「退耕退牧，還林還草」政策的主要目的為何？
(A)避免黃河改道 (B)增加耕地面積 (C)減緩水資源汙染 (D)防止沙漠化蔓延。
- 中國某四個地區的氣候資料如下表所示。請問：哪一個地區最容易因為過度灌溉耕作，而造成鹽鹼化的問題？



城市	一月月均溫 (°C)	七月月均溫 (°C)	年雨量 (mm)
(A)	-1.5	22.2	640.4
(B)	8.9	29.4	1,059
(C)	15.9	28.8	2,111
(D)	-16.7	23.8	93.7

18. 附圖為中國三北防護林圖。種植防護林主要是為了解決下列哪個環境問題？(A)水資源不足(B)山坡地濫墾(C)漁群縮減(D)沙漠化範圍擴大。
19. 利用水來灌溉是形成綠洲農業的最主要條件，但若灌溉水太多而未適量排除，且沙漠地區蒸發旺盛，這種情形持續下去將造成哪一環境問題？(A)多水旱災 (B)水土流失 (C)地層下陷 (D)土壤鹽鹼化。
20. 在中國，青藏地區平均每人所擁有的水資源量最多，其主要的原因為何？(A)河湖眾多 (B)年雨量最多 (C)人口稀少 (D)水庫數量最多。




二、整合題：每題 2 分

※ 左下表為中國地區的農耕行事曆示意圖。請問：

21. 何地區與臺灣的農耕行事曆最符合？(A)甲 (B)乙 (C)丙。
22. 甲區的一、二期作物最可能是 (A)稻米 (B)小麥 (C)大豆 (D)棉花。
23. 「丙」區最可能為下列何地？(A)東北平原 (B)珠江三角洲 (C)華北平原 (D)長江中下游平原。

月分	1	2	3	4	5	6	7	8	9	10	11	12
甲	一期作物			二期作物						短期作物		
乙	冬 麥		玉 米 小 米						冬 麥			
丙	狩 獵		春 麥 高 粱						狩 獵			

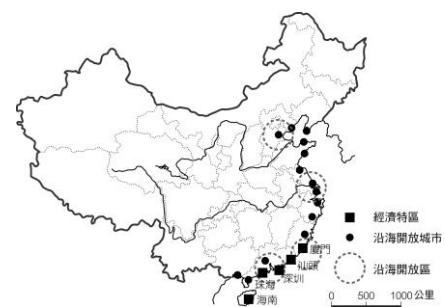
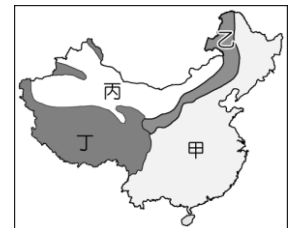


※ 西元1998年發生的長江水災，洞庭湖災情慘重，大水漫過大堤，僅靠子堤擋水，主要幹道鐵、公路中斷近一星期。據統計，當時總水量超過一億立方公尺，湖南人形容當時的情形是「頂著水盆過日子」。請問：

24. 由文中敘述可知，洞庭湖能吞長江之水(蓄洪)，對長江最大的作用為何？(A)棲息生物 (B)保護土壤 (C)調節水量 (D)使冬季不結冰。
25. 長江水災造成洞庭湖災情慘重，生態反撲，下列何者是造成此一現象的主要原因？(A)捕撈漁業 (B)圍湖造田 (C)挖沙排淤 (D)興建水庫。

※ 中國國土遼闊，各地自然環境的差異性大，因此農牧業活動方式迥異，下圖為中國農牧區分布圖，請根據左下圖中資訊回答下列問題：

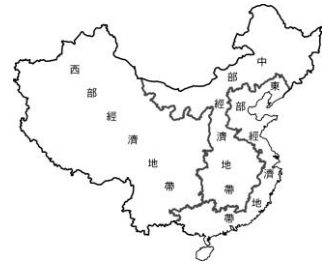
26. 「甲」區主要的畜牧方式是 (A)欄牧 (B)游牧 (C)放牧 (D)山牧季移。
27. 「乙」區的牧民多採定居放牧的方式，相較於其他牧區，乙區具有哪一項利於畜牧的優越自然條件？(A)地形較平坦 (B)氣候較溫暖 (C)雨量較豐沛 (D)年溫差較大。
28. 「這裡氣候相當乾燥，當地居民終年攜帶簡便的帳棚，趕著駱駝、羊群，過著逐水草而居的生活。」以上敘述的是哪一個地區的景觀？(A)甲 (B)乙 (C)丙 (D)丁。
29. 犛牛具有耐寒的特性，被稱為「高原之舟」，是哪一個牧區的牲畜？(A)甲 (B)乙 (C)丙 (D)丁。
30. 左下附圖為畜牧方式的一種，這種畜牧方式主要分布於哪個地區？(A)甲 (B)乙 (C)丙 (D)丁。



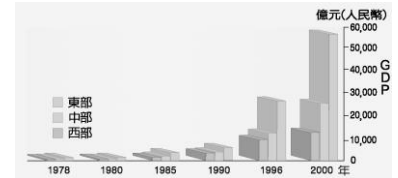
※ 右上附圖為中國經濟改革後對外開放形勢圖。請問：

31. 中國經濟特區的設立是在仿效臺灣哪種區域的成功經驗？(A)台塑六輕工業區 (B)新竹科學工業園區 (C)加工出口區 (D)臺南科學工業園區。
32. 設立經濟特區乃是希望藉由東南沿海地區交通方便、近海且勞力充沛。請問：經濟特區主要是為了哪些因素而設立？(A)吸引外資、技術 (B)吸引原料、動力 (C)吸引勞力、資金 (D)吸引移民、原料
33. 中國的現代化工業主要集中在何處？(A)長江中下游 (B)黃河中下游 (C)中部地區 (D)東部沿海一帶
34. 中國「經濟特區」的分布特色為何？(A)集中於環渤海地區 (B)聚集於長江三角洲 (C)環繞於東南沿海 (D)分散在全國各地。
35. 「小三通政策」，使得前往中國大陸投資的臺商可以直接經由金門回到臺灣本島。若依據位置的關係考量，臺商們從下列哪一個經濟特區搭船到金門最近？(A)深圳 (B)廈門 (C)汕頭 (D)珠海。

※ 中國經濟成長快速，為了因應快速的經濟發展，自沿海向內陸地區劃分成東部經濟地帶、中部經濟地帶和西部經濟地帶（如附圖）。請根據資料，回答下列問題。

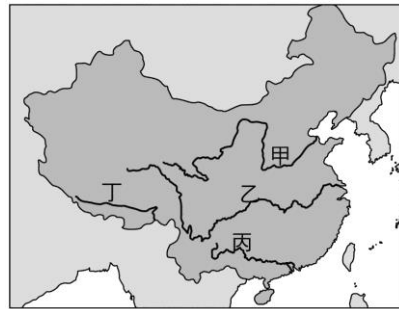


36. 下列何者是中國東部經濟帶在產業發展過程上，所遭遇的主要限制？ (A)缺乏原料、動力和水資源 (B)地形起伏大，影響交通運輸 (C)雨量不足，缺乏水力發電 (D)資金短缺，勞力不足。
37. 下列有關中部經濟帶發展的敘述，「正確」的是 (A)面積最大，人口最少 (B)為中國經濟發展的核心帶(C)是中國煤、石油等能源最大的生產地 (D)現代交通運輸設備進步。
38. 西部邊遠地帶經濟發展最具優勢的條件為 (A)資源 (B)人力 (C)交通 (D)技術。
39. 中國的中部經濟地帶是重要的能源礦分布帶。未來的發展應著重在下列哪項課題，以吸引外資與人口？ (A)原料開發 (B)市場開發 (C)勞力開發 (D)交通便利
40. 附圖為中國三大經濟地帶 GDP 的階梯差距圖，由右上圖可知，中國經濟雖快速成長，但面臨了哪一項待解決的問題？(A)資金嚴重不足 (B)能源來源短缺 (C)人口成長快速 (D)區域發展不均。



※ 中國土地資源利用與地勢高低，大致呈三級階梯，如左下圖所示。請問：

41. 中國第一級階梯因受限於自然環境，土地生產力較低，居民主要的經濟活動為何？ (A)農業 (B)林業 (C)漁業 (D)畜牧。
42. 下列關於中國第一級階梯土地資源利用的敘述，何者正確？ (A)地肥土沃，土地生產力高 (B)溫溼多雨，經濟活動以農業為主 (C)資源豐富，環境負載力高 (D)生態環境脆弱，不利大規模開發。
43. 近年來，中國第二級階梯因為龐大的人口壓力，使土地資源被超限利用，主要產生的環境問題有：(甲)凍土解凍 (乙)土地荒漠化 (丙)地層下陷 (丁)水土流失。以上正確的是 (A)甲乙 (B)乙丙 (C)乙丁 (D)丙丁。
44. 下列關於中國第三級階梯土地資源利用的敘述，何者正確？ (A)橫貫中國大地的許多大河水源多來自於此 (B)境內沙塵暴、沙漠化等環境問題嚴重 (C)生態環境脆弱，不利大規模開發 (D)作為農業利用的土地主要多集中於此。



※ 右上附圖為中國河川分布圖。請問：

45. 下列那一條河流常因無水入海而發生「斷流」的現象？ (A)甲 (B)乙 (C)丙 (D)丁。
46. 圖中哪一條河川的沿岸地區水資源缺乏問題最為嚴重？ (A)甲 (B)乙 (C)丙 (D)丁。
47. 圖中哪一條河川的中下游地區，因過度開墾，在雨季時常發生水患，目前中國政府正積極推動「退耕還湖」、「退耕還河」等政策？ (A)甲 (B)乙 (C)丙 (D)丁。

※ 右附圖為某種灌溉方式的示意圖，請問

48. 中國哪一地區的農業，主要利用此種方式灌溉？ (A)內蒙古高原 (B)華北平原 (C)黃土高原 (D)新疆綠洲。
49. 此種灌溉方式的水源，主要來自何處？ (A)雪水 (B)雨水 (C)河水 (D)湖水。
50. 這種利用地下渠道的灌溉方式，主要的目的為何？ (A)便於汲水灌溉 (B)防止水源蒸發(C)防止水源污染 (D)防止土石流。

