

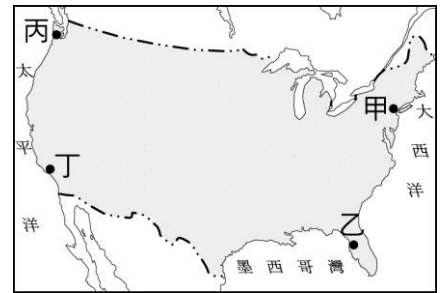
台北市立新民國中 103 學年度第一學期地理科第三次段考(九年級)

範圍：美洲

年 班 號 姓名

一、選擇題：每題 3 分，78%

- 北美洲的地形可分成(甲)山地；(乙)丘陵；(丙)平原等三部分，若搭飛機從洛杉磯到紐約，沿途看到的地形順序為何？(A)甲乙丙 (B)乙丙甲 (C)乙甲丙 (D)甲丙乙。
- 北美大平原易受到冷氣團侵襲，溫度驟降造成大雪紛飛的情景。請問：北美大平原最易受冷氣團侵襲的主因為何？(A)大河流經 (B)緯度太高 (C)地形平坦 (D)面臨墨西哥灣。
- 北美大平原的北部為五大湖，面積相當廣大，因此成為當地美、加的邊界。請問：該地區的五大湖為哪一種類型的湖泊？(A)火口湖 (B)冰蝕湖 (C)斷層湖 (D)堰塞湖。
- 黃石公園因從黃色巨石中湧出大溫泉而得名，是美國第一座國家公園，以溫泉、間歇噴泉聞名於世。這個現象與下列哪個事實關係密切？(A)位環太平洋地震帶 (B)四周山地高聳 (C)緯度過高 (D)西風終年吹拂。
- 聖羅倫斯河位於美國與加拿大境內，為北美洲航運價值最大的河川，下列何者是形成這種現象的主要原因？(A)流貫北美大平原 (B)流域面積和流量居美洲之冠 (C)海輪可沿此河直駛五大湖區 (D)與密士失必河之間有運河相連。
- 美、加兩國除原住民外，人口組成以外來移民為主，其中美國境內以哪個族裔的人口比例最高？(A)亞洲 (B)非洲 (C)歐洲 (D)中南美洲。
- 北美洲的農業經營方式有別於亞洲。請問：下列何者為北美洲平原地區農業經營的主要特色有：
(甲)呈現帶狀分布 (乙)投入大量勞力 (丙)大規模專業化經營 (丁)高度機械化 (戊)小規模自給自足為主。
以上正確為 (A)甲乙丙 (B)乙丙丁 (C)甲丙丁 (D)甲丁戊。
- 地理大發現後，歐洲人紛紛移居北美洲。當時英國人在附圖中何處建立殖民地，也是美國獨立之初最早的州別？(A)甲 (B)乙 (C)丙 (D)丁。
- 北美洲的原住民為下列何者？(A)維京人、猶太人 (B)印第安人、因紐特人 (C)毛利人、印第安人 (D)維京人、毛利人
- 好萊塢(Hollywood)是許多人夢想成為大明星的地方，追星族的天堂，也是席捲全世界電影工業的製造地。張小怡最大的目標就是跨進好萊塢的藝術殿堂，她應搭機前往哪個城市才有可能實現夢想？
(A)紐約 (B)芝加哥 (C)西雅圖 (D)洛杉磯
- 巴拿馬運河完成於西元 1914 年，全長約八十二公里，因為它縮短許多國家東西岸的海上運輸里程，可說是溝通兩大洋間的海上捷徑。請問：下列哪一個國家縮短的里程最多？(A)巴西 (B)美國 (C)智利 (D)俄羅斯。
- 北美自由貿易區成立後，墨西哥憑藉何種優勢吸引外資投資設廠，帶動該國的經濟成長？
(A)高素質的勞動力 (B)農礦原料豐富 (C)充足的資金與技術 (D)工資低廉、關稅減免。
- 「這裡原是一片茂密的森林，樹種繁多，樹木高低成層，為全球最豐富的生物基因寶庫區。近年來，因人口的激增，為追求經濟發展，森林大量被砍伐，可能導致人類的浩劫，而引發全球關切。」請問：上述的森林區，最可能位於哪個國家境內？ (A)巴西 (B)加拿大 (C)阿根廷 (D)墨西哥。
- 中美洲西印度群島散布在哪一區域？ (A)北海 (B)墨西哥灣 (C)哈得孫灣 (D)加勒比海。
- 墨西哥的首都墨西哥市海拔高度約 2,240 公尺，但人口聚集近千萬人之多。影響該地區人口集中於高地的主要因素為何？ (A)年降雨量較豐沛 (B)高地氣候較為涼爽 (C)礦產資源較豐富 (D)受宗教信仰的影響。
- 智利國土南北狹長，包括三種氣候：(甲)地中海型氣候 (乙)熱帶沙漠氣候 (丙)溫帶海洋性氣候。若由南向北排列，正確的順序是 (A)甲乙丙 (B)乙丙甲 (C)丙甲乙 (D)甲丙乙。
- 承上題，智利的熱帶沙漠氣候形成的主因有 (甲)深居內陸 (乙)位於山脈的背風側 (丙)涼流經過 (丁)副熱帶高氣壓籠罩。以上正確的是 (A)甲乙 (B)甲丁 (C)乙丙 (D)丙丁。
- 拉丁美洲位於赤道所經過的地區，當地的語言及文化主要受哪些國家所影響？(A)英國、法國 (B)西班牙、葡萄牙 (C)德國、瑞典 (D)義大利、土耳其。
- 巴西近年鋼鐵、電子、航空、汽車等工業逐漸興起，除了因其眾多且廉價人力外，還有哪項工業發展的優勢條件？
(A)礦產豐富 (B)市場廣大 (C)資金充足 (D)技術優良。
- 巴西的里約熱內盧、聖保羅與阿根廷的布宜諾斯艾利斯皆為人口超過 1,000 萬人的大都會。請問：這些都市的地理位置皆為下列何者？ (A)熱帶高地 (B)內陸盆地 (C)東南沿海 (D)赤道兩側。
- 中南美洲的都市化程度相當高，顯示人口高度集中在大都市。造成此種現象的主要原因為何？
(A)鄉村過於貧窮 (B)政府政策鼓勵 (C)都市生活較舒適 (D)氣候影響。
- 「巴西的森巴舞可說是南美洲多元文化的結晶，此種舞步除了在節慶中成為觀光的重點，也似乎被融入了當地的足球運動，其足球隊員踢球時，節奏明快、默契十足，猶如踏著熱情的森巴舞……。」文中南美洲的多元文化與下列哪個族群的文化「最沒有關係」？ (A)拉丁人 (B)阿拉伯人 (C)非洲黑人 (D)印第安人。
- 拉丁美洲各國，經濟型態多是以農礦業為生，甚至有的國家僅以一種或兩種出口物產來支持半數以上的貿易收入。請問這些國家的經濟結構最大的隱憂為下列何者？ (A)礦產出口，工業屬勞力密集型 (B)勞力外流，國內勞動力不足 (C)農產出口，國內糧需無法滿足 (D)經濟收入極易受國際市場價格之影響而起伏。



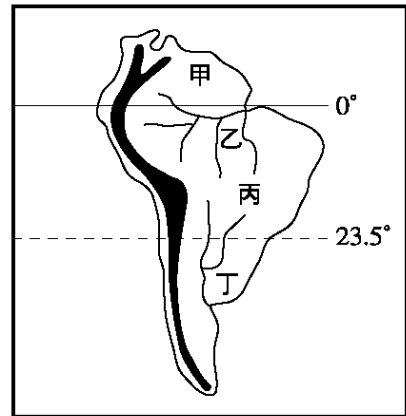
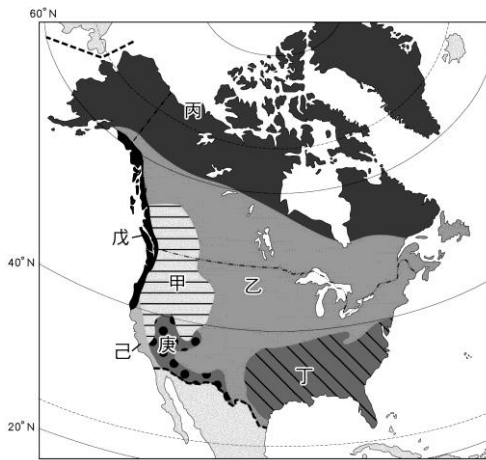
24. 「發展商品化農業，使用最新的技術和設備，生產商品化穀類作物或肉類，其彭巴草原每年生產大量的小麥、玉米和牛肉」。上述是中南美洲哪一個國家經濟型態的描述？(A)哥倫比亞 (B)墨西哥 (C)智利 (D)阿根廷。
25. 南美洲因緯度距離長，環境的特色不同。若依左下附圖的南美洲簡圖判斷，由 X 到 Y，沿線所呈現出來的自然景觀變化為何？
(A)地勢愈來愈低 (B)雨量愈來愈多 (C)氣溫愈來愈低 (D)植被愈來愈密。
26. 農、礦產的輸出是中、南美洲許多國家的重要收益。下列中、南美洲農、礦產和主要產國的配組，何者「錯誤」？(A)古巴：甘蔗 (B)墨西哥：鐵礦 (C)秘魯：鳥糞 (D)巴西：咖啡。



二、整合題：每題2分，22%

※ 左下圖為北美洲氣候分布圖，請問：

27. 橫貫北美洲的乙氣候帶，每年春、夏之際，中南部地區易受龍捲風侵襲。請問：分布最廣的乙氣候，屬何種氣候類型？(A)寒帶氣候 (B)溫帶大陸性氣候 (C)溫帶海洋性氣候 (D)副熱帶溼潤氣候。
28. 世界賭城「拉斯維加斯」坐落於沙漠之中，而有「沙漠之城」稱號。依上述推斷，拉斯維加斯最有可能位於下列哪個地區？(A)甲 (B)乙 (C)丁 (D)庚。
29. 下列何區受西風影響，呈現終年有雨之溫帶海洋性氣候？(A)丙 (B)丁 (C)戊 (D)己。
30. 西元 2005 年卡崔納颶風重創新奧爾良，整個城市像泡在水中般，損失慘重。請問：新奧爾良位於圖中何種氣候帶？(A)甲 (B)乙 (C)丁 (D)戊。



※ 右上圖為南美洲簡圖，請問：

31. 巴西高原位於圖中的 (A)甲 (B)乙 (C)丙 (D)丁。
32. 圖中西側高大的山脈是 (A)落磯山脈 (B)安地斯山脈 (C)海岸山脈 (D)阿帕拉契山脈。
33. 本圖中哪一種氣候涵蓋的範圍最廣？(A)高地 (B)寒帶 (C)溫帶 (D)熱帶。

※ 右附圖為美洲某地的氣候圖。依據圖中資料研判，請問：

34. 有「地球之肺」之稱，是世界上最大的動植物寶庫，但因人類為了解決人口增加所帶來的糧食短缺問題，大肆開發該地區，因而導致生態嚴重破壞，甚至影響全球氣候。請問：文中所指地區位於附圖中何處？
(A)甲 (B)乙 (C)丙 (D)丁。
35. 下列何區受西風影響，呈現終年有雨之溫帶海洋性氣候？
(A)丙 (B)丁 (C)戊 (D)己。
36. 北美洲、南美洲均地跨熱帶與溫帶，但南美洲卻不像北美洲具備溫帶大陸性氣候。請問：上述現象是南美洲的哪一特性所導致的？(A)陸地形狀呈倒三角型 (B)東臨大西洋，西濱太平洋 (C)安地斯山南北縱貫 (D)亞馬孫河東西橫流。
37. 如下圖，該圖所表示的氣候類型可能在附圖中何處？
(A)乙 (B)丁 (C)戊 (D)己。

