

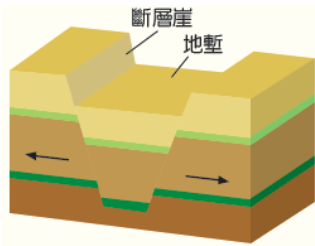
# 台北市立新民國中 103 學年度第二學期地理科第一次段考(九年級)

範圍：非洲、大洋洲

年 班 號 姓名

## 一、選擇題：每題 2 分，78 %

- 在非洲黑人的傳統生活中，有種耕作方式非常特殊：「首先，人們會尋找一塊地，選定之後就開始砍樹、放火焚燒林木；再整地播種，這時，工作就告一個段落了。在作物生長的這段期間，人們不灌溉、不施肥、不除草，只靜待收成。三、五年後，土地因雨水沖刷而地力枯竭，人們就會再另闢新地，重複上述的開墾活動。」請問：上述的耕作方式稱為什麼？ (A)游耕 (B)游牧 (C)採集 (D)漁撈。
- 左下圖的地形景觀最常在非洲哪一個地區看到？ (A)北部非洲 (B)西部非洲 (C)南部非洲 (D)東部非洲。



種類	橡膠	咖啡	甘蔗	香蕉	椰子
比例	40%	30%	10%	10%	10%


- 右上附表為非洲某農場的主要產品統計表。這個農場最可能位於下列何處？ (A)北非 (B)南非 (C)西非 (D)中非。
- 目前非洲面臨的問題很多，如饑荒、失業率高、生態破壞、醫療設施不足等，這些問題皆與下列何者最為相關？ (A)都市化快速 (B)人口快速成長 (C)經濟發展過快 (D)礦產開採殆盡。
- 下列哪一個國家曾實施「種族隔離政策」，並以法律嚴格限制黑人的活動與自由，後經黑人的抗爭及國際輿論的施壓，才在一九九〇年代廢除種族隔離政策？ (A)奈及利亞 (B)利比亞 (C)阿爾及利亞 (D)南非共和國。
- (甲)耕地面積縮小，糧食產量減少 (乙)氣候改變，水源供應不穩 (丙)肥料使用增加，加重農會民負擔 (丁)尼羅河三角洲日益退縮。上述哪些是亞斯文高壩所帶來的負面影響？(A)甲乙(B)乙丙(C)乙丁(D)丙丁。
- 希恩在課堂上做地理報告時，對非洲一條河川的一段解說是：「此河川流經熱帶雨林，蘊藏豐富的水力。」請問：希恩所介紹的是哪一條河？ (A)底格里斯河 (B)剛果河 (C)尼羅河 (D)亞馬孫河。
- 非洲氣候普遍炎熱且大致呈南北對稱分布，此與下列哪一個現象密切相關？ (A)赤道橫貫中部 (B)山脈南北縱走 (C)本初經線縱貫西部 (D)地勢南北高中央低。
- 北極地區重要性日漸增加的原因為何？ (A)破冰船技術進步，可以使北極地區終年可航行，交通較以往便利 (B)為地球最古老地塊，有科學研究的價值 (C)是北半球中高緯地區往來最短的距離 (D)建有密集海路交通網。
- 關於南半球兩大重要國家的註解，有地理學家這樣說到：「澳大利亞是褐色大陸，紐西蘭是綠色島嶼。」請問：造成紐西蘭是綠色島嶼的主要原因為下列哪一盛行風？ (A)東風 (B)西風 (C)東南風 (D)東北風。
- 小范在慶功演唱會過後取得假期，參加旅行社舉辦的「埃及尋奇探祕亞加山卓之旅」，體驗古文明的震撼，更享受尼羅河兩岸燦爛的夜景。請問：下列哪一張照片最可能出現在小范此趟愉快的旅行中？

(A)

(B)

(C)

(D)



- 大洋洲的海陸位置特點，使其成為各洲航運及空運往來的中途站，也是戰時重要的軍事基地所在。請問：大洋洲島群主要位於哪兩大洲的中繼位置？ (A)亞洲、非洲 (B)亞洲、歐洲 (C)歐洲、非洲 (D)北美洲、亞洲。
- 近年來全球氣候變遷，使得兩極及高山地區冰山融化，對地勢低平，四周海域遼闊的大洋洲直接產生的影響為何？ (A)地表隆起，河川侵蝕加劇 (B)地層下陷，地下水遭海水入侵 (C)海平面上升，淹沒大部分土地 (D)熱帶珊瑚白化嚴重。
- 澳洲在 20 世紀中開始發展工業，近年來發展的速度相當快速。請問：澳洲工業發展最大的優勢為何？ (A)原料豐富 (B)勞工充足且便宜 (C)國內市場廣大 (D)鄰近世界主要市場。

15. 左下附圖為澳洲氣候分區圖，圖中哪一區因位於山脈背風側，人口稀疏，利用井水供應牧場畜牧所需用水，是澳洲的主要的牧羊區？(A)甲 (B)乙 (C)丙 (D)丁。



16. 阿寶選擇到澳洲度假打工，體驗與臺灣不同的風土民情，並順道遊覽澳洲的自然奇觀。如果阿寶想到列為世界自然遺產的大堡礁浮潛，應到右上附圖中的何處？ (A)甲 (B)乙 (C)丙 (D)丁。
17. 南緯 40 度的緯線經過紐西蘭，紐西蘭的哪一個地理現象與其最相關？ (A)山脈南北走向，多火山地震 (B)南島河流多往東流 (C)有「活的地形教室」之稱 (D)盛行西風吹拂，終年溫和溼潤。
18. 澳洲面積達 750 萬平方公里，但卻地廣人稀，適合耕作的土地面積不多，其主要原因為何？ (A)山多平原少 (B)乾燥面積廣大 (C)沼澤遍布，積水不消 (D)石炭岩地形土壤貧瘠。
19. 澳洲因為地理位置和亞洲相鄰，因此近年來積極加入亞洲的經濟圈。和下列哪一個亞洲國家的距離最近？ (A)新加坡 (B)印尼 (C)泰國 (D)菲律賓。
20. 紐西蘭境內的北島人口較多，主要都市及首都皆位於此，因此成為該國精華區。該島有利人口分布的主要條件為何？ (A)地勢平坦 (B)礦產豐富 (C)降雨豐富 (D)氣候溫暖。
21. 紐西蘭和澳洲畜牧業的經營方式採取「放牧」型態。請問：這種畜牧方式具有哪項優點？ (A)不受地形限制 (B)可提高動物的免疫力 (C)可增加牛、羊的數量 (D)可以節省人力資源。
22. 北極海是指被哪些陸地所包圍的海域？ (A)歐、亞、北美 (B)歐、亞、非 (C)非、南美、澳 (D)歐、非、北美
23. 氣候嚴寒的北極圈，作物無法生長，極不利人居，但仍有少數民族居住在此，並以打獵、捕魚維生。請問：下列哪個民族居住在北極圈內？ (A)因紐特人 (B)貝都因人 (C)維京人 (D)毛利人。
24. 澳洲境內的無尾熊及袋鼠等動物，皆為當地的特有種，每年均吸引許多觀光客前來觀賞。請問：當地多特有種生物的主要原因為何？ (A)面積廣大 (B)氣候乾燥 (C)地塊古老 (D)位置偏遠孤立。
25. 紐西蘭地形景觀豐富，同時擁有冰河和火山地形。請問：下列哪個國家也同時擁有這兩種地形？ (A)印尼 (B)南非 (C)西班牙 (D)冰島。
26. 北極海地區的冰層不斷融化，使得北極熊覓食不易，甚至找不到浮冰立足而溺死。上述情形主要和下列哪一項原因關係最密切？ (A)酸雨嚴重 (B)全球暖化 (C)臭氧層破洞 (D)地震頻傳。

## 二、題組：每題 2 分，22 %

※ 歐洲列強殖民非洲後，利用當地氣候條件與大量廉價勞力，視非洲為重要的原料供應地，積極向各地開發，因此發展出特殊的經濟活動與人文背景。

27. 上文中所提及的農業活動為下列何者？ (A)需大範圍土地的游耕 (B)出口為主的熱帶栽培業 (C)出口為主的商業性穀物種植 (D)集約式的專業蔬果區。
28. 歐洲列強在非洲地區種植咖啡、可可等經濟作物，但價格易受國際市場的波動，其主要原因為何？ (A)勞工成本提高 (B)全球氣候異常 (C)單一化的栽培 (D)列強控制價格。

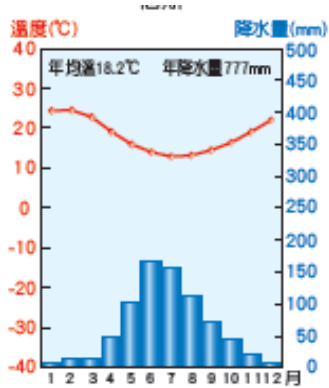
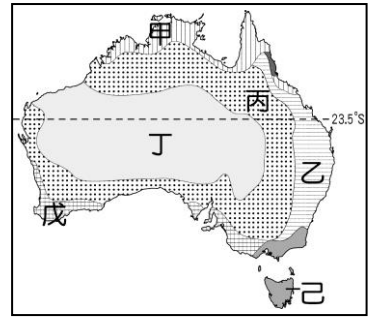
※ 右上圖是大洋洲島群的分布位置示意圖，甲、乙、丙分別代表大洋洲三大島群，A、B 代表其分界線。請問：

29. 圖中甲、乙、丙、丁所在的海域為 (A)大西洋 (B)北極海 (C)印度洋 (D)太平洋。
30. 「B」界線與下列哪一條線相符？ (A)赤道 (B)本初經線 (C)國際換日線 (D)北回歸線。
31. 「甲」區的島群名稱為何？ (A)密克羅尼西亞 (B)美拉尼西亞 (C)玻里尼西亞 (D)印度尼西亞。



※ 附圖為澳洲地區的簡圖。請問：

32. 何處是澳洲人口聚集的精華區？ (A)甲 (B)乙 (C)丁 (D)戊。  
 33. 澳洲四面環海，但乾燥氣候面積卻十分廣大，幾乎整個中西部皆為沙漠所覆蓋，造成澳洲雨量稀少的原因，除地形因素外，尚受哪一項因素的影響？ (A)緯度偏低 (B)海陸差異 (C)背西風側 (D)高壓籠罩。  
 34. 左下氣候圖所顯示的氣候類型最可能是右上圖中哪一地區的氣候？ (A)乙 (B)丁 (C)戊 (D)己。



※ 右附圖為非洲氣候分區示意圖。請問：

35. 圖中那一地區所在，為非洲氣候最宜人的氣候區？ (A)甲 (B)乙 (C)丁 (D)戊。  
 36. 甲為沙漠地帶，造成此地乾燥少雨的原因為何？ (A)距海遙遠 (B)位於西風背風坡 (C)位於副熱帶高氣壓下方 (D)有暖流經過。  
 37. 圖中乙地之氣候，可用下列哪一氣候圖來表示？ (A) A (B) B (C) C (D) D。

