

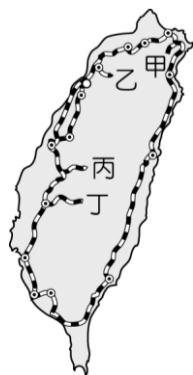
臺北市新民國民中學 103 學年度第二學期七年級地理科第二次段考

範圍：七年級 ch3~4

年 班 號 姓名：

一、選擇（共四十分）

- () 1. 工廠在設立之初，為了降低生產成本、提高利潤，選擇合適的地點設廠，稱為什麼？(A)工業區位 (B)工業類型 (C)工業規模 (D)工業特色
- () 2. 蔣渭水高速公路開通後，下列哪條鐵路線的乘客可能會減少？(A)宜蘭線 (B)縱貫鐵路 (C)南迴鐵路 (D)阿里山鐵路
- () 3. 臺灣許多工廠紛紛到中國、東南亞設廠，此類工業區位的選擇，主要是考量何種因素？(A)政策 (B)勞工 (C)資金 (D)動力
- () 4. 商業活動中，批發與零售最大差異是決定於買賣貨物的什麼？(A)品質優劣 (B)種類多寡 (C)有效期限 (D)數量多寡。
- () 5. 阿田是彰化縣的花農，他想將開發的新品種玫瑰運往臺灣各地的便利商店販售，若依據交通的「機動性」考量，下列哪一項運輸工具最為適當？(A)汽車 (B)輪船 (C)飛機 (D)火車。
- () 6. 鄉村聚落可分為集村和散村，請問是依據下列哪一個指標？(A)產業分級 (B)聚落型態 (C)國際貿易大小 (D)網際網路流量
- () 7. 下列哪一項交通方式，其運費最低，運量最大？(A)鐵路 (B)公路 (C)水運 (D)空運
- () 8. 近年來，在臺灣從事製造業與營造業的外籍勞工人數很多，有些工業區附近甚至可以看到專門服務外籍勞工的餐飲店或生活用品店。臺灣引進這些勞工的原因，主要是與下列何者有關？(A)所得貧富差距擴大 (B)青壯年失業問題嚴重 (C)本地勞工薪資成本提高 (D)產業發展技術水準降低。
- () 9. 臺灣高鐵通車後縮短了旅運時間，但下列哪個縣市的民眾較難受惠？(A)桃園縣 (B)臺中市 (C)臺南市 (D)花蓮縣
- () 10. 價值高且體積小，又追求時效的物品，最適合採用何種運輸方式？(A)鐵路 (B)公路 (C)水運 (D)空運
- () 11. 民國八十一年，下列哪段鐵路線通車後，臺灣環島鐵路網宣告完成？(A)縱貫線 (B)西部幹線 (C)南迴鐵路 (D)北迴鐵路
- () 12. 附圖為臺灣鐵路支線分布圖。哪一條是日治時期為了運送林業資源而建的阿里山支線？(A)甲 (B)乙 (C)丙 (D)丁
- () 13. 下列何者並不是臺灣鐵路系統的支線？(A)新北市的平溪線 (B)花蓮縣的花東線 (C)南投縣的集集線 (D)嘉義縣的阿里山線

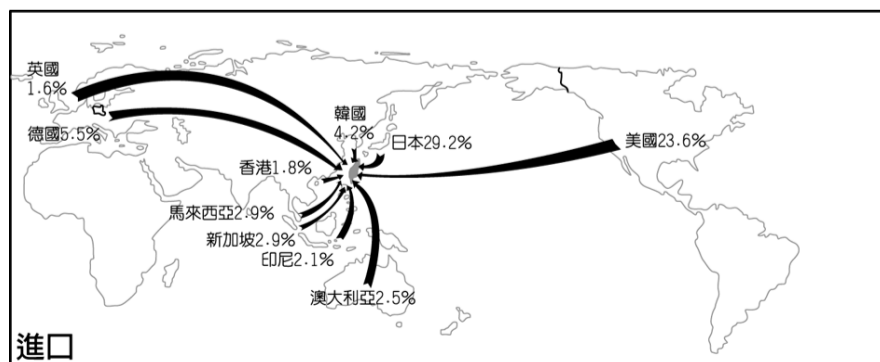
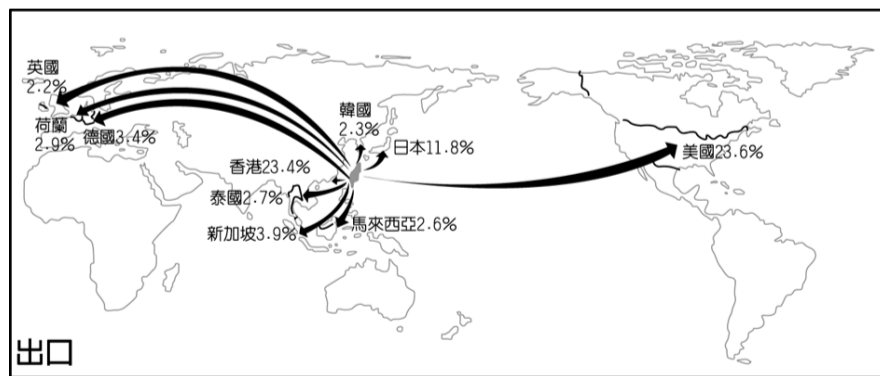


- () 14. 國際貿易為臺灣經濟發展的重要命脈，請問：下列四種產業活動中，何者不屬於國際貿易的範圍？(A)購買西亞石油 (B)開設英國餐廳 (C)電腦出口至歐洲 (D)引進美國牛銷售
- () 15. 近年來，在臺灣已形成五大都會區，請問下列哪一個並不是都會區？(A)臺北基隆 (B)臺中彰化 (C)臺南 (D)花蓮臺東
- () 16. 臺灣在民國 50 年代時，主要以輕工業為主。當時主要利用臺灣何項較為優越的區位條件來加以發展？(A)技術進步 (B)原料充足 (C)工資低廉 (D)市場廣大
- () 17. 一個港口或其他交通場站，集中與分散貨物所涵蓋的範圍稱作？(A)腹地 (B)貿易 (C)入超 (D)出超
- () 18. 臺灣最大的國際港口為？(A)基隆港 (B)高雄港 (C)臺中港 (D)花蓮港
- () 19. 臺灣隨著經濟發展，國民所得增加，而工業的發展，也不再以勞力密集為主，請問下列哪一個並不是臺灣工業現今的發展方向(A)增加產品設計 (B)以技術研發為重心 (C)朝自創品牌努力 (D)向石油化學工業發展
- () 20. 請問下列何者並不是目前臺灣主要的訊息傳播工具？(A)郵務 (B)網際網路 (C)飛鴿傳書 (D)行動電話

二、整合題（共六十分）

附圖為某年臺灣主要出口、進口國家分布圖

- () 21. 該年臺灣貿易額出口最大的國家或地區為何？(A)美國 (B)日本 (C)香港 (D)德國



- () 22. 假設該年臺灣進、出口額相同，則該年臺灣對日本的貿易呈現何種現象？ (A)出超 (B)入超 (C)出入超相等 (D)無法識別
- () 23. 假設該年臺灣進、出口額相同，則該年臺灣對下列哪一個國家是呈現入超且金額最大？ (A) 韓國 (B) 美國 (C) 馬來西亞 (D) 英國

請針對下列情形，選擇最適合的運輸方式：

- () 24. 從印尼進口木材到臺灣？ (A) 鐵路 (B) 公路 (C) 水運 (D) 空運
- () 25. 將拉拉山的水蜜桃宅配到家？ (A) 鐵路 (B) 公路 (C) 水運 (D) 空運
- () 26. 國外進口汽車來臺銷售？ (A) 鐵路 (B) 公路 (C) 水運 (D) 空運

附表是甲、乙、丙、丁四個聚落的三級產業就業人口比例表，請問：

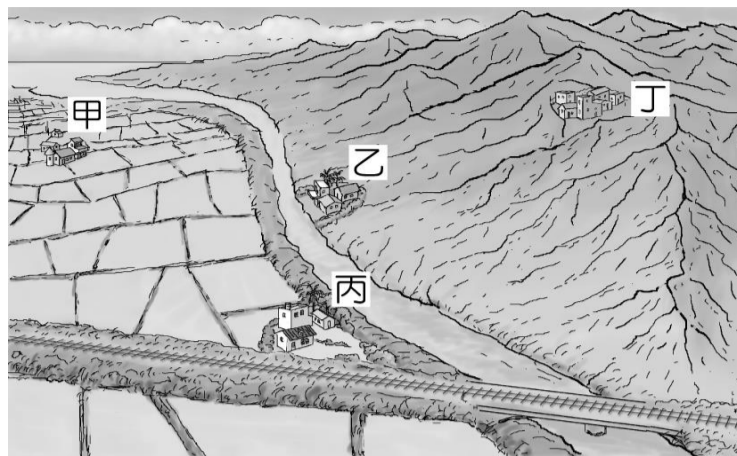
產業類型	就業人口 (%)			
	甲	乙	丙	丁
第一級產業	66	10	13	71
第二級產業	18	38	26	12
第三級產業	16	52	61	17

- () 27. 哪兩個聚落最有可能是「鄉村」？ (A)甲、乙 (B)丙、丁 (C)乙、丙 (D)甲、丁
- () 28. 哪兩個聚落的人口大部分以從事「服務業」為主？ (A)甲、乙 (B)丙、丁 (C)乙、丙 (D)甲、丁
- () 29. 依人口遷移的因素而言，哪兩個聚落具有強大的「拉力」？ (A)甲、乙 (B)丙、丁 (C)乙、丙 (D)甲、丁
- () 30. 哪兩個聚落的人口外流情形可能比較嚴重？ (A)甲、乙 (B)丙、丁 (C)乙、丙 (D)甲、丁

請選出下列工業最合適的工業區位條件：

- () 31. 高雄港附近的鋼鐵廠？ (A)原料 (B)市場 (C)交通 (D)勞力
- () 32. 好堅固水泥廠？ (A)原料 (B)市場 (C)交通 (D)勞力
- () 33. 香噴噴麵包烘焙坊？ (A)原料 (B)市場 (C)交通 (D)勞力
- () 34. 好美麗紡織廠？ (A)原料 (B)市場 (C)交通 (D)勞力

附圖有甲、乙、丙、丁四個聚落，請問：



- () 35. 哪兩個聚落最有可能發展為都市？ (A)甲、乙 (B)乙、丙 (C)丙、丁 (D)甲、丁
- () 36. 下列哪項是聚落形成都市的主要因素？ (A)氣候 (B)交通 (C)地形 (D)政策
- () 37. 請問鄉村人口移往都市的過程，我們稱之為？ (A)出超 (B)都會區 (C)都市化 (D)都市化程度

請閱讀以下新聞，回答下列問題：

蔣渭水高速公路（北宜高速公路）北起南港，南迄蘇澳，全長 54 公里。該路段最艱鉅的工程是全長 12.9 公里的公路隧道——雪山隧道，因受地質影響，施工期長達十多年，施工期間備極艱辛。民國 95 年 6 月通車後，大幅縮短臺北與宜蘭間行車時間，加速宜蘭產業及觀光遊憩的發展。

高速鐵路則是繼雪山隧道之後，臺灣人所完成的巨大工程，民國 96 年初全線通車後，南北往來的時間不再那麼漫長，從臺北到高雄，只要 90 分鐘。在時間就是金錢的時代，相信它會帶動臺灣的經濟發展。

- () 38. 下列對於蔣渭水高速公路通車後的影響，何者錯誤？ (A)帶動宜蘭的觀光業發展 (B)利於宜蘭農產品運送行銷 (C)促進西部平原產業專業化 (D)縮短臺北與宜蘭間的行車時間
- () 39. 高速鐵路的起迄點各為下列何地？ (A)基隆、屏東 (B)基隆、高雄 (C)臺北、高雄 (D)臺北、臺南
- () 40. 高速鐵路通車後，對於臺灣各項產業的影響何者正確？ (A)至花東地區更便利 (B)國內旅遊業更興盛 (C)航空運輸業更蓬勃發展 (D)國道運輸更繁忙