

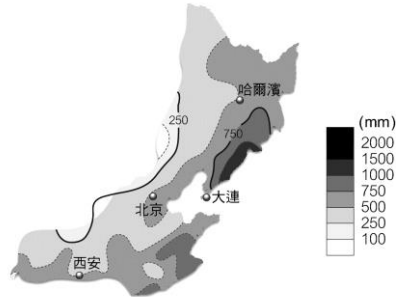
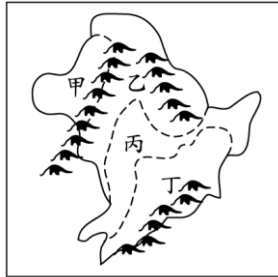
# 台北市立新民國中 103 學年度第二學期地理科第二次段考(八年級)

範圍：東北、蒙新、青藏地區

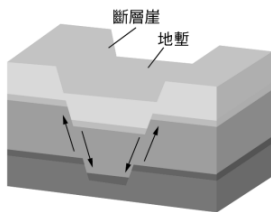
年 班 號 姓名

## 一、選擇題：每題 3 分，72%

- 黑龍江省成為中國氣溫最低省分的主要原因是 (A)距海較遠 (B)緯度較高 (C)地勢較高 (D)森林較多。
- 左下圖為中國東北地區地形簡圖，請問：長白山地是位於圖中哪一區？  
(A) 甲 (B) 乙 (C) 丙 (D) 丁。



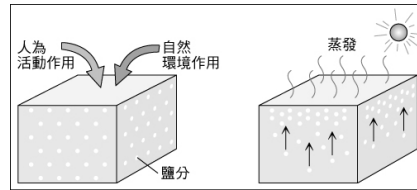
- 右上方圖中等降水量線的分布判斷，此區降水量空間分布與下列何者最為相關？  
(A)地勢起伏 (B)緯度高低 (C)距海遠近 (D)洋流有無。
- 「這裡的土地肥到家，插根筷子會發芽，栽上塊材木也開花。」這是一句形容中國某地黑土帶土質肥沃的情況，請問此一平原最可能指的是 (A)華北平原 (B)長江三角洲 (C)河套平原 (D)東北平原。
- 由黑龍江、松花江和烏蘇里江共同沖積而成的三江平原，在昔日是荒無人煙的「北大荒」，今日卻因哪一因素影響而成為農作盛產的「北大倉」？ (A)引用江水灌溉 (B)排水設施完善 (C)大批移民開墾 (D)實施機械化耕作。
- 阿倫在地理雜誌上看到中國某一地形區成因的介紹，並附上一幅圖(如左下附圖)。請問：該雜誌最可能是在介紹哪個地形區？ (A)內蒙古高原 (B)河西走廊 (C)河套平原 (D)柴達木盆地。



- 右上圖為某漫畫的情節。請根據圖中內容判斷，其發生的地點最可能位於下列哪一個地區？  
(A)黃土高原 (B)東北平原 (C)塔里木盆地 (D)藏南縱谷。
- 「黃河在此處先沿著賀蘭山向北，經陰山阻擋後向東，再沿著呂梁山向南，形成『几』字狀。西漢時，漢武帝派軍隊擊敗匈奴，占領此處，並築城以屯田、養馬，作為防禦和進攻匈奴的基地，當時，人們引黃河灌溉，農業迅速發展，經濟繁榮。」上文介紹的地方應是位在今日何地？  
(A)華北平原 (B)河套地區 (C)河西走廊 (D)塔里木盆地。
- 內蒙古東部地區的居民傳統上多以定居放牧為主；而西部地區的居民則以逐水草而居的游牧為重。造成兩地居民畜牧方式差異的主要原因為何？ (A)地勢高低 (B)氣溫高低 (C)雨量多寡 (D)族系不同。
- 近年來，蒙新地區為了增加收入，逐水草而居的游牧生活做了下列哪項改變？ (A)轉型為垂直式的游牧 (B)轉型為定居放牧的圍牧化畜牧 (C)轉型為定居欄牧的酪農業 (D)開始從事定耕的綠洲農業。
- 新疆地形輪廓的特點為「三山夾兩盆」，其中三山是指：(甲)阿爾泰山 (乙)天山 (丙)崑崙山 (丁)巴顏喀喇山 (戊)岡底斯山。以上正確的是 (A)甲乙丙 (B)甲乙丁 (C)乙丙丁 (D)乙丁戊。
- 古代的駱駝商隊能夠較容易地穿越範圍廣大的河西走廊荒漠，是因河西走廊具有哪一優越的地理條件？  
(A)盛產石油 (B)多種族雜處 (C)有連串的綠洲城市 (D)雨量較少而易通行。
- 話說成吉思汗當年打敗花剌子模後，為了慶祝勝利，於是舉辦了有賽馬、射箭、摔跤和歌舞表演的那達慕大會，請問那達慕大會是中國哪一民族每年夏季的重要盛會？ (A)維吾爾族 (B)蒙古族 (C)滿族 (D)藏族。
- 新疆地區位於歐亞大陸的中心位置，請問這種地理位置對於該地區下列何者的影響最為明顯？  
(A)面積廣大 (B)地形平坦 (C)降雨量少 (D)四季炎熱。

(※背面尚有試題※)

15. 「阿勇到中國大陸旅行，本想多欣賞當地雄偉的冰河景觀，卻發現自己有頭疼、噁心、呼吸困難的情形，只好帶上氧氣罩下山，才減輕這些不舒服的症狀。」請問：阿勇最可能是下列哪一個地區？  
 (A)河西走廊 (B)塔里木盆地 (C)藏北高原 (D)內蒙古高原。
16. 下附圖是中國某項環境問題形成過程的示意圖，此問題對於當地農業耕作十分不利。圖中鹽分的移動與下列哪一種人為活動作用最有關係？  
 (A)過度放牧 (B)不當灌溉 (C)大量施肥 (D)圍湖造田。



17. 西藏地區的僧侶服飾，夏季午間常將外袍的袖子繫在腰間，袒出右臂或雙臂，如右附圖所示。請問：從這種穿著方式，可以反映出當地夏季具有下列哪一種氣候特色？  
 (A)雨量稀少 (B)日溫差大 (C)風力強勁 (D)空氣稀薄。
18. 造成中國青藏高原「一年無四季，一日見四季」的氣候特徵，是下列哪一項主要因素所導致？ (A)緯度偏高 (B)距海遙遠 (C)地勢高峻 (D)季風吹拂。
19. 藏北高原的居民盛行一種垂直移動的畜牧方式，每年春末夏初驅趕牲畜移至高山草場，秋季時又移回山麓草場度冬，當地牧民為便利移動，以方便拆建的黑色方帳為住屋。請問：上述的畜牧方式最可能為下列何者？ (A)逐水草而居的游牧 (B)山牧季移 (C)放牧 (D)欄牧。
20. 近年來，中國實施「退耕退牧，還林還草」政策的主要目的為何？ (A)避免黃河改道 (B)增加耕地面積 (C)減緩水資源汙染 (D)防止沙漠化蔓延。
21. 藏南縱谷為青藏地區雨量最充沛的地區，其水氣主要來自下列哪一個海洋？  
 (A)印度洋 (B)太平洋 (C)北極海 (D)大西洋。
22. 「該山脈位於西藏自治區南部，為中國與印度、尼泊爾等國的天然國界，主峰珠穆朗瑪峰高8,850公尺，為世界最高峰。」上文是對下列哪一座山脈的描述？ (A)岡底斯山 (B)喜馬拉雅山 (C)崑崙山 (D)天山。
23. 中國各地美食大展中，藏族的糌粑頗獲好評，請問這種食物的主要原料為下列何者？  
 (A)小麥 (B)青稞 (C)稻米 (D)小米。
24. 新疆地區所產瓜果特別香甜的原因可能有：(甲)雪水豐富 (乙)日光充足 (丙)蒸發強烈 (丁)日溫差大。以上敘述正確的是 (A)甲乙 (B)甲丙 (C)乙丁 (D)丙丁。

二、整合題：每題2分，28%

※ (甲)哈爾濱 (乙)長春 (丙)瀋陽 (丁)大連為東北的四個重要都市。請問：

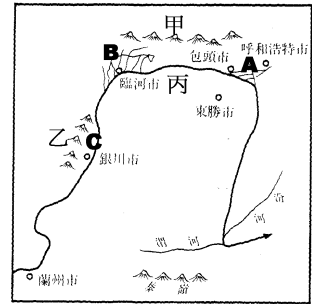
25. 以上四個都市被哪一條鐵路所串聯起來？ (A)濱州鐵路 (B)哈大鐵路 (C)京九鐵路 (D)濱綏鐵路。
26. 東北地區以鐵路運輸為主，呈網狀分布，T字型的鐵路網形成基本格局，下列哪一個城市位於T字型鐵路交會點？ (A)甲 (B)乙 (C)丙 (D)丁。
27. 哪一個城市港闊水深，冬不結冰，是東北地區最重要的海港，是東北地區的海上門戶，被譽為「北方香港」？ (A)甲 (B)乙 (C)丙 (D)丁。
28. 美莉到東北旅遊，發現一個城市跟北京一樣，保有完整的古代宮殿建築群。將之拍照留念如左下附圖所示。請問：她最可能是到了哪一個城市？  
 (A)甲 (B)乙 (C)丙 (D)丁。



29. 君麗到東北旅遊，發現一個城市街景富有異國情調，教堂的形式非常特別，將之拍照留念如右上附圖所示。請問：她最可能是到了哪一個城市？ (A)甲 (B)乙 (C)丙 (D)丁。

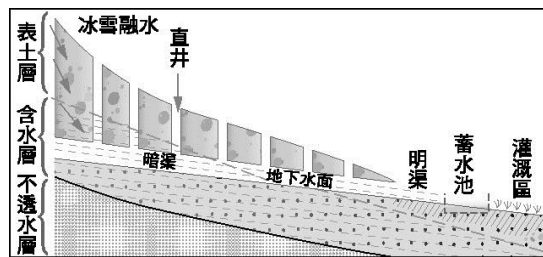
※ 下圖為河套平原分布圖，請問：

30. 「黃河百害，唯富一套」，顯示黃河對河套地區具有何種重要的意義？ (A)提供豐富的漁產 (B)蘊藏充沛的水力 (C)成為主要的交通路線 (D)供應農業的灌溉水源
31. 著名的寧夏平原(西套)，位於圖中的何地？ (A) A (B) B (C) C (D) 甲。
32. 寧夏平原隨著漢人的移入，興修水利，發展灌溉，逐漸轉變為農業區，可用下列何者形容其農業盛況？ (A)瓜果之鄉 (B)塞上糧倉 (C)塞上江南 (D)魚米之鄉。
33. 「C」地區的氣候類型為 (A)溫帶草原氣候 (B)溫帶沙漠氣候 (C)溫帶季風氣候 (D)高地氣候。



※ 下附圖為坎井示意圖，請回答下列問題：

34. 此圖的灌溉方式，最有可能出現在中國的哪一個地區？ (A)河套平原 (B)內蒙草原 (C)藏南縱谷 (D)新疆盆地。
35. 此種灌溉方式目的是 (A)汲水容易 (B)可以蓄水灌溉 (C)防止水分蒸發 (D)水源取之不盡。



※ 下附圖為西部地區的簡圖，請依圖回答下列問題：

36. 中國面積最大的沙漠——塔克拉瑪干沙漠位在圖中何處 (A)丁 (B)戊 (C)己 (D)庚。
37. 圖中哪一地區年雨量最多？ (A)丁 (B)戊 (C)己 (D)辛。
38. 河西走廊為古絲路必經要道，其分布位置位於附圖中何處？ (A)丙 (B)丁 (C)己 (D)壬。

